

56회~61회 (2019~2024)

# 변리사 시험 기출문제

2024 ver.

변리사스쿨





변리사스쿨, 1등의 비결!  
1차 압도적 대세로  
합격의 길을 열어드립니다!



변리사스쿨



실현되는 가능성  
변리사스쿨, 1차부터 2차까지!  
우리와 함께라면 합격은 문제없습니다!



변리사스쿨

# CONTENTS

## 01

2019

### 제56회 변리사 1차 국가자격시험

1. 산업재산권법
2. 민법개론
3. 자연과학개론
4. 정답

## 02

2020

### 제57회 변리사 1차 국가자격시험

1. 산업재산권법
2. 민법개론
3. 자연과학개론
4. 정답

## 03

2021

### 제58회 변리사 1차 국가자격시험

1. 산업재산권법
2. 민법개론
3. 자연과학개론
4. 정답

## 04

2022

### 제59회 변리사 1차 국가자격시험

1. 산업재산권법
2. 민법개론
3. 자연과학개론
4. 정답

## 05

2023

### 제60회 변리사 1차 국가자격시험

1. 산업재산권법
2. 민법개론
3. 자연과학개론
4. 정답

## 06

2024

### 제61회 변리사 1차 국가자격시험

1. 산업재산권법
2. 민법개론
3. 자연과학개론
4. 정답



01  
2019

제56회 변리사 1차 국가자격시험  
[1교시] 산업재산권법

**1. 특허권 침해소송에서 피고의 의무 및 부담에 관한 설명으로 옳지 않은 것은? (다툼이 있으면 판례에 따름)**

- ① 특허권자가 주장하는 침해행위의 구체적 행위태양을 부인하는 피고는 자기의 구체적 행위태양을 제시할 의무가 없다.
- ② 특허권자의 일실이익을 산정함에 있어서 특허권자가 침해행위 외의 사유로 판매할 수 없었던 사정이 있었던 경우 그 판매할 수 없었던 수량에 대하여는 피고가 증명하여야 한다.
- ③ 법원이 침해로 인한 손해액의 산정을 위하여 감정을 명한 때에는 피고는 감정인에게 감정에 필요한 사항을 설명하여야 한다.
- ④ 물건을 생산하는 방법의 발명에 관하여 특허가 된 경우에 피고의 제품이 그 물건과 동일한 경우, 특별한 경우를 제외하고는, 피고의 제품이 그 특허된 방법에 의하여 생산되지 않았다는 사실을 피고가 증명하여야 한다.
- ⑤ 손해액의 산정에 반드시 필요한 자료라는 이유로 법원이 피고에게 자료의 제출을 명령한 경우, 그 자료가 ‘영업비밀’에 해당하더라도 이는 피고가 그 자료의 제출을 거절할 정당한 이유로 인정되지 아니한다.

**2. 특허법상 권리범위 확인심판에 관한 설명으로 옳지 않은 것은? (다툼이 있으면 판례에 따름)**

- ① 권리범위 확인심판의 확인대상발명이 특허권의 권리범위에 속하거나 속하지 아니하는 점에 관하여 당사자 사이에 다툼이 없는 경우에는 확인의 이익이 인정되지 않는다.
- ② 특허발명의 보호범위를 판단하는 절차로 마련된 권리범위 확인심판에서 특허발명의 진보성 여부를 판단하는 것은 권리범위 확인심판의 판단범위를 벗어날 뿐만 아니라, 본래 특허무효심판의 기능에 속하는 것을 권리범위 확인심판에 부여하는 것이 되어 위 두 심판 사이의 기능 배분에 부합하지 않는다.
- ③ 권리범위 확인심판에서 특허발명과 대비되는 확인대상발명이 공지기술과 동일한 경우뿐만 아니라 그 기술분야에서 통상의 지식을 가진 사람이 공지기술로부터 쉽게 실시할 수 있는 경우에는 그 확인대상발명은 이른바 자유실시기술로서 특허발명과 대비할 필요 없이 특허권의 권리범위에 속하지 않는다고 보아야 한다.
- ④ 적극적 권리범위 확인심판에서 청구인이 특정한 확인대상발명과 피청구인이 실시하고 있는 발명 사이에 동일성이 인정되지 않는 경우에는 확인의 이익이 인정되지 않는다.
- ⑤ 특허권자 甲과 그로부터 특허권 침해의 고소를 당한 乙사이에 乙이 그 특허권을 인정하고 그 권리에 위반되는 행위를 하지 않는다는 내용의 약정을 하였다면, 그 약정으로 인하여 乙이 권리범위 확인심판을 청구할 이익이 상실되었다고 보아야 한다.

**3. 발명의 신규성 또는 진보성 판단에 사용되는 선행기술에 관한 설명으로 옳은 것은? (다툼이 있으면 판례에 따름)**

- ① 출원서에 첨부한 명세서에 ‘종래기술’을 기재하는 경우에는 출원발명의 출원 전에 그 기술분야에서 알려진 기술에 비하여 출원발명이 신규성과 진보성이 있음을 나타내기 위한 것이라고 할 것이어서, 그 ‘종래기술’은 특별한 사정이 없는 한 출원발명의 신규성 또는 진보성이 부정되는지 여부를 판단함에 있어서 특허법 제29조(특허요건) 제1항 각 호에 열거된 발명들 중 하나로 보아야 할 것이다.
- ② 발명의 진보성 판단에 사용되는 선행기술은 기술구성 전체가 명확하게 표현되어야 하므로, 표현이 불충분하거나 일부 내용에 흠결이 있는 선행기술은 그 자체로 대비대상이 될 수 없다.
- ③ 특허발명의 진보성 판단에 사용되는 선행기술이 어떤 구성요소를 가지고 있는지는 역사적 사실이므로 당사자의 자백의 대상이 되지 못한다.
- ④ 특허법 제29조 제1항 제2호 소정의 간행물에 기재된 발명이라 함은 그 기재된 내용에 따라 해당 기술분야에서 통상의 지식을 가진 사람이 쉽게 실시할 수 있을 정도로 기재되어 있는 발명을 말하므로, 발명이 간행물에 기재되어 있다고 하기 위해서는 적어도 발명이 어떤 구성을 가지고 있는지가 제시되어 있어야 할 것이고, 따라서 내부에 특징이 있는 발명에 대해 그 외형 사진만이 게재되어 있는 경우에는 그 발명은 기재된 것이 아니다.
- ⑤ 특허법 제29조 제1항 각 호의 선행기술인지 여부를 판단하는 기준점은 ‘출원일’이 아니라 ‘출원시’이나, 국내우선권 주장이 있는 경우에는 그 주장의 기초가 되는 특허출원(선출원)의 ‘출원일’을 기준으로 선행기술인지 여부를 판단하여야 한다.

**4. 실용신안제도에 관한 설명으로 옳지 않은 것은?**

- ① 등록실용신안에 관한 물품의 생산에만 사용하는 물건을 업으로서 사용하는 행위는 실용신안권 또는 전용실시권을 침해한 것으로 본다.
- ② 출원일부터 4년 또는 출원심사의 청구일부터 3년 중 늦은 날보다 지연되어 실용신안권의 설정등록이 이루어지는 경우 그 지연된 기간 중 출원인으로 인하여 지연된 기간을 제외한 나머지 기간만큼 해당 실용신안권의 존속기간을 연장할 수 있다.
- ③ 실용신안권자는 실용신안권이 그 등록실용신안의 출원일 전에 출원된 타인의 디자인권과 저촉되는 경우 그 디자인권자의 허락을 받지 아니하고는 자기의 등록실용신안을 업으로서 실시할 수 없다.
- ④ 출원인이 출원 시 그 취지를 출원서에 기재한 경우 명세서 및 도면(도면 중 설명부분에 한정)을 영어로 적을 수 있다.
- ⑤ 실용신안권을 침해한 자는 7년 이하의 징역 또는 1억원 이하의 벌금에 처한다.



7. 특허법상 ‘정정심판’ 또는 ‘정정의 무효심판’에 관한 설명으로 옳지 않은 것은? (다툼이 있으면 판례에 따름)

- ① 정정의 무효심판은 정정심결 확정 후 특허권의 존속기간 중에만 청구할 수 있다.
- ② 특허무효심판이 특허심판원에 계속 중인 기간에는 정정심판을 청구할 수 없다.
- ③ 정정의 무효심판이 특허심판원에 계속 중인 기간에는 정정심판을 청구할 수 없다.
- ④ 조약에 의한 우선권 주장의 기초가 된 최초의 출원서에 첨부된 명세서 또는 도면에 기재된 사항이 정정심결이 확정되어 정정되었다 하더라도, 그 정정내용이 조약에 의한 우선권 주장의 기초가 된 발명의 내용에 영향을 미치지 않는다.
- ⑤ 출원공개된 출원서에 첨부된 명세서 또는 도면에 기재된 사항이 정정심결이 확정되어 정정되었다 하더라도, 그 정정내용이 신규성·진보성 판단에 제공되는 선행기술로서의 발명의 내용에 영향을 미치지 않는다.

8. 특허법상 ‘허가 등에 따른 특허권의 존속기간 연장제도’에 관한 설명으로 옳지 않은 것은? (다툼이 있으면 판례에 따름)

- ① 허가 등에 따른 특허권의 존속기간 연장은 한 차례만 가능하다.
- ② 특허권이 공유인 경우에는 공유자 모두가 공동으로 특허권의 존속기간의 연장등록출원을 하여야 한다.
- ③ 허가 신청 당시 통상실시권자의 지위에 있었지만 통상실시권의 등록을 마치지 않았던 자가 허가를 받았더라도, 특허청 심사관의 연장등록결정의 등본이 송달되기 전에 통상실시권 등록 및 그에 대한 증명자료 제출이 모두 이루어진 경우 그 연장등록결정은 적법하다.
- ④ 존속기간이 연장된 특허권의 효력은 그 연장등록된 특허권의 청구범위에 적혀 있는 사항에 의하여 정하여진다.
- ⑤ 특허권의 존속기간의 만료 전 6개월 이후에는 그 특허권의 존속기간의 연장등록 출원을 할 수 없다.

9. [오류로 인정된 문제]

특허제도는 발명의 공개를 통한 이용을 근간으로 하므로, 특허법은 발명의 공개를 위한 여러 규정을 두고 있다. 아래의 발명의 공개와 관련된 제도 중 우리나라 특허제도에 가장 늦게 도입된 두 제도로 묶인 것으로 옳은 것은?

- ㄱ. 제64조 제1항에 따른 출원공개
- ㄴ. 제87조 제3항에 따른 등록공고
- ㄷ. 제42조 제2항에 따른 발명의 설명
- ㄹ. 제42조 제2항에 따른 청구범위
- ㅁ. 제42조 제2항에 따른 요약서

- ① ㄱ, ㄴ                      ② ㄱ, ㅁ                      ③ ㄴ, ㄷ                      ④ ㄷ, ㄹ                      ⑤ ㄹ, ㅁ

10. 甲은 아래【청구항 1】기재와 같은 연필 발명의 특허권자이다. 甲의 특허권이 설정등록된 후 乙, 丙 및 丁이 권원 없이 아래와 같은 연필을 판매하고 있다는 사실을 알게 된 甲은, 乙에 대해서는 乙의 판매로 인한 손해의 배상을 청구하는 소를 제기하였고, 丙과 丁에 대해서는 丙 판매제품과 丁 판매제품을 확인대상발명으로 하는 권리범위 확인심판을 각각 청구하였다. 다음 설명 중 옳은 것은? (다툼이 있으면 판례에 따르며, 아래 지문과 관련하여 위 소송·심판에서 당사자의 관련 주장이 있는 것으로 본다)

【청구항 1】 중심에 흑연으로 제조된 연필심이 위치하고 상기 연필심을 둘러싸도록 목재로 구성된 외각부로 이루어진 연필에 있어서, 상기 외각부의 단면 형상이 육각형인 것을 특징으로 하는 연필.

- ㄱ. 乙 판매제품: 중심에 흑연으로 제조된 연필심이 위치하고 상기 연필심을 둘러싸도록 목재로 구성된 외각부로 이루어진 연필에 있어서, 상기 외각부의 단면 형상이 육각형인 것을 특징으로 하는 연필.
- ㄴ. 丙 판매제품: 중심에 흑연으로 제조된 연필심이 위치하고 상기 연필심을 둘러싸도록 목재로 구성된 외각부로 이루어진 연필에 있어서, 상기 외각부의 단면 형상이 오각형인 것을 특징으로 하는 연필.
- ㄷ. 丁 판매제품: 중심에 흑연으로 제조된 연필심이 위치하고 상기 연필심을 둘러싸도록 목재로 구성된 외각부로 이루어진 연필에 있어서, 상기 외각부의 단면 형상이 육각형이며, 한 쪽 끝에 지우개를 부착한 것을 특징으로 하는 연필.

- ① 乙을 피고로 하는 위 소송에서 자유실시기술의 법리는 적용될 수 없다.
- ② 만일 甲 특허발명의 출원과정에서 [청구항 1] 기재 중 외각부 단면 형상이 다각형에서 육각형으로 보정되었다면, 외각부 단면 형상과 관련하여 다각형 중 육각형을 제외한 나머지 모든 구성이 청구범위에서 의식적으로 제외된 것이므로 丙 판매제품은 甲 특허발명의 권리범위에 속하지 않는다.
- ③ 丁을 피청구인으로 하는 위 심판에서 자유실시기술 여부 판단의 대상이 되는 것은 丁 판매제품 중 甲 특허발명의 청구범위에 기재된 구성과 대응되는 구성에 한정된다.
- ④ 위 소송에서 甲 특허발명의 신규성이 부정되는 경우 甲 특허발명의 권리범위가 부정되며, 위 심판에서도 그러하다.
- ⑤ 위 심판에서 甲 특허발명의 진보성이 부정되는 경우 甲 특허발명의 권리범위가 부정된다.



11. 甲은 2016년 1월 1일 설정등록된 특허발명 X의 특허권자이고, 乙은 甲의 허락 없이 2016년 1월 1일부터 甲의 특허제품과 동일한 제품(이하 ‘침해제품’이라 함)을 생산하여 판매하고 있는 자이다. 甲은 자신의 특허제품을 2016년에 0개, 2017년에 1,000개, 2018년에 1,500개를 판매하였고, 乙은 침해제품을 2016년에 2,000개, 2017년에 2,500개, 2018년에 3,000개를 판매하였다(특허제품 및 침해제품의 단위수량당 이익액은 모두 1,000원임). 甲은 2016년 12월말까지 공장을 건설하였기 때문에 그 기간까지는 특허제품을 생산할 수 없었고, 공장 완공 후 2017년 1월 1일부터 연간 2,000개까지 생산할 수 있었다. 특허발명 X의 실시에 대하여 통상적으로 받을 수 있는 금액은 개당 200원에 판매수량을 곱한 것이다. 다음 설명 중 옳은 것은?

- ① 甲은 2016년에 특허발명 X를 생산할 수 없었기 때문에 발생한 손해가 없었으므로, 그 기간 중 乙의 특허권 침해에 대한 손해배상을 청구할 수 없다.
- ② 특허법 제128조(손해배상청구권 등) 제2항 및 제3항에 따른 경우 甲이 2018년에 乙의 침해행위 외의 사유로 특허제품 500개를 판매하지 못하였다면 乙의 특허권 침해로 인한 甲의 2018년 중 입은 손해액은 1,000,000원이다.
- ③ 특허법 제128조 제2항 및 제3항에 따른 경우 乙이 2017년에 판매한 침해제품의 양도수량(2,500개) 중 甲이 2017년에 생산하여 판매한 특허제품의 양도수량(1,000개)을 뺀 수량(1,500개)에 乙의 침해 행위가 없었다면 판매할 수 있었던 특허권자 甲의 물건의 단위수량당 이익액(1,000원)을 곱하여 얻어진 금액(1,500,000원)을 甲이 2017년 중 입은 손해액으로 할 수 있다.
- ④ 특허법 제128조 제4항에 따른 경우 2,500,000원을 甲이 2017년 중 입은 손해액으로 추정한다.
- ⑤ 甲이 2017년 중 乙의 침해행위로 인해 입은 손해액으로 500,000원을 초과하여 청구한 경우, 법원은 500,000원으로 감액해야 한다.

12. 특허법상 특허법원의 심결취소소송절차에 관한 설명으로 옳지 않은 것은? (다툼이 있으면 판례에 따름)

- ① 특허법원에서 주장하지 아니하였다가 상고심에 이르러 비로소 주장하는 새로운 사실은 적법한 상고이유가 될 수 없다.
- ② 당사자 또는 참가인에 한하여 심결에 대한 소를 제기할 수 있고, 해당 심판이나 재심에 참가신청을 하였으나 그 신청이 거부된 자는 이를 제기할 수 없다.
- ③ 심결취소소송에 있어서 심리판단의 대상이 되는 것은 심결의 위법성 일반으로서 실체상의 판단의 위법과 심판절차상의 위법이 그 대상에 포함된다.
- ④ 행정소송인 심결취소소송에서도 원칙적으로 변론주의가 적용되므로 자백 또는 자백간주도 인정된다.
- ⑤ 특허법원의 판결에 있어서 취소의 기본이 된 이유는 그 사건에 대하여 특허심판원을 기속한다.

**13. 특허법상 명세서 기재 및 해석에 관한 설명으로 옳지 않은 것은? (다툼이 있으면 판례에 따름)**

- ① 출원인이 청구범위를 기재하지 않고 명세서를 제출한 경우에는 타인이 심사청구를 하는 경우를 제외하고는 출원일(우선권주장의 경우 최우선일)부터 1년 2개월이 되는 날까지 명세서에 청구범위를 적는 보정을 하여야 한다.
- ② 발명의 설명은 그 발명이 속하는 기술분야에서 통상의 지식을 가진 사람이 그 발명을 쉽게 실시할 수 있도록 명확하고 상세하게 기재하여야 한다.
- ③ 청구범위는 발명의 설명에 의하여 뒷받침되어야 한다.
- ④ 명세서의 배경기술 기재의무의 불이행은 특허등록을 무효로 하는 사유에 해당한다.
- ⑤ 명세서에 기재된 용어는 명세서에 그 용어를 특정한 의미로 정의하여 사용하고 있지 않은 이상, 해당 기술분야에서 통상의 지식을 가진 사람에게 일반적으로 인식되는 용어의 의미에 따라서 명세서 전체를 통하여 통일되게 해석되어야 한다.

**14. 특허법상 부적법한 출원서류 등의 반려에 관한 설명으로 옳지 않은 것은?**

- ① 서류의 반려처분 시에는 특별한 경우를 제외하고는 반려취지, 반려이유 및 소명기간을 적은 서면을 출원인 등에게 송부하여야 한다.
- ② 반려하겠다는 취지의 서면을 송부받은 출원인 등이 소명하고자 하는 경우 소명기간 내에 소명서를, 소명 없이 출원서류 등을 소명기간 내에 반려받고자 하는 경우에는 반려요청서를 특허청장 또는 특허심판원장에게 제출하여야 한다.
- ③ 특허청장이나 특허심판원장이 한 반려처분에 대해서는 행정심판·행정소송을 통해 불복할 수 없다.
- ④ 소명기간 중 출원인 등은 반려이유 통지에 대한 소명이나 의견을 제출할 수 있으나, 반려이유를 극복하기 위한 보정서의 제출은 허용되지 않는다.
- ⑤ 출원서류 등이 반려된 경우, 그 출원은 선원의 지위를 가질 수 없고, 조약우선권 주장의 기초가 될 수 없다.

15. 甲은 발명의 설명에 발명 A, 발명 B 및 발명 C를 기재하고, 청구범위에 발명 A만을 기재한 명세서를 첨부한 특허출원서를 2013년 2월 4일 특허청에 제출하여 특허 출원(X출원)을 하였다. 甲은 X출원에 대해서 2014년 6월 3일 심사청구를 하였다. 심사관은 발명 A가 X출원 전에 공지된 인용발명 1로부터 쉽게 발명할 수 있으므로 X출원에 특허법 제29조(특허요건) 제2항 위반의 거절유기가 있다는 내용의 의견 제출통지서(제출기한 2015년 8월 3일)를 2015년 6월 3일에 발송하였다. 甲은 2015년 8월 3일 의견서 및 보정서를 제출하여 청구범위에서 A를 삭제하고, B를 추가하는 보정을 하였다. 이후 심사관은 2017년 6월 13일 특허결정의 등본을 송달하였고, 甲은 그 등본을 2017년 6월 15일 송달받았다. 다음 설명 중 옳은 것은?

- ① 甲은 설정등록일 이후라도 2017년 9월 13일 이전에는 분할출원을 할 수 있다.
- ② 甲의 특허권이 2017년 8월 2일 설정등록되고, 2017년 8월 10일 등록공고된 경우, 甲은 2017년 11월 10일까지 등록지연에 따른 특허권의 존속기간의 연장등록출원을 할 수 있다.
- ③ 甲이 특허결정의 등본을 송달받더라도 특허료를 납부하기 전이라면 X출원의 청구범위에 발명 C를 추가하는 보정을 할 수 있다.
- ④ 甲은 2017년 9월 13일까지 최초 3년분의 특허료를 납부해야 한다.
- ⑤ 甲은 특허결정의 등본을 송달받은 이후에도 발명 C를 별도로 권리화할 기회를 가진다.

16. 특허에 관한 절차를 밟기 위해서 사용되는 고유번호(특허고객번호)에 관한 설명으로 옳지 않은 것은?

- ① 특허출원에 대한 정보제공인은 고유번호(특허고객번호)의 부여를 신청하여야 한다.
- ② 고유번호(특허고객번호)는 특허청장 또는 특허심판원장에게 신청하여야 한다.
- ③ 특허청장 또는 특허심판원장은 특허에 관한 절차를 밟는 자가 고유번호(특허고객번호)를 신청하지 아니하면 그에게 기간을 정하여 보정을 명하여야 한다.
- ④ 특허에 관한 절차를 밟는 자의 대리인도 고유번호(특허고객번호)를 신청하여야 한다.
- ⑤ 고유번호(특허고객번호)를 기재한 경우에는 특허에 관한 절차를 밟는 자의 주소(법인의 경우에는 영업소의 소재지)를 적지 아니할 수 있다.

**17. 특허를 받을 수 있는 권리에 관한 설명으로 옳지 않은 것은? (다툼이 있으면 판례에 따름)**

- ① 甲과 乙이 공동으로 발명을 완성한 경우, 乙은 甲의 동의를 받지 않으면 특허를 받을 수 있는 권리의 지분을 丙에게 양도할 수 없다.
- ② 발명자 甲이 발명 A에 대한 특허를 받을 수 있는 권리를 乙에게 양도하고, 발명 A와 동일한 고안에 대한 실용신안등록을 받을 수 있는 권리를 丙에게 양도한 뒤, 乙의 특허출원과 丙의 실용신안등록출원이 같은 날에 이루어진 경우, 乙과 丙 간에 협의하여 정한 자에게만 승계의 효력이 발생한다.
- ③ 특허출원인 甲으로부터 특허를 받을 수 있는 권리를 양수한 특정승계인 乙이 특허출원인변경신고를 하지 않은 상태에서 특허심판원의 거절결정 불복심판 심결에 대하여 취소의 소를 제기하고, 소 제기 기간이 경과한 후에 특허출원인변경신고를 했다면 해당 취소의 소는 적법하다.
- ④ 발명자 甲이 乙, 丙에게 발명 A에 대한 특허를 받을 수 있는 권리를 각각 양도한 후 乙과 丙이 같은 날에 각각 특허출원을 하였으나 乙과 丙 간에 협의가 불성립하면 乙과 丙은 특허를 받을 수 없게 된다.
- ⑤ 특허출원 후 출원인 甲으로부터 특허를 받을 수 있는 권리를 특정승계인 乙이 양수한 경우 그 특허출원에 대하여 특허출원인변경신고를 하여야만 승계의 효력이 발생한다.

**18. 특허법상 일사부재리에 관한 설명으로 옳은 것은? (다툼이 있으면 판례에 따름)**

- ① 각하심결이 확정된 경우 일사부재리의 효력이 발생한다.
- ② 동일 사실에 의한 동일한 심판청구에 대한 판단에서 전에 확정된 심결의 증거를 그 심결에서 판단하지 않았던 사항에 관한 증거로 들어 판단함으로써 확정된 심결과 그 결론이 결과적으로 달라졌다면 일사부재리 원칙에 반한다.
- ③ 동일 사실에 의한 동일한 심판청구에 대한 판단에서 전에 확정된 심결의 증거의 선행기술을 확정된 심결의 결론을 번복할 만한 유력한 증거의 선행기술에 추가적·보충적으로 결합하여 판단함으로써 확정된 심결과 그 결론이 결과적으로 달라졌다면 일사부재리 원칙에 반한다.
- ④ 동일 증거 여부는 확정된 심결의 결론을 번복할 만한 유력한 증거가 새로 제출되었는지 여부가 아니라 증거 내용이 동일한지 여부로 판단한다.
- ⑤ 전에 확정된 심결에서의 무효사유 외에 다른 무효사유가 추가된 심판청구의 경우 일사부재리 원칙에 위배되지 아니하지만, 전에 확정된 심결에서 판단이 이루어진 청구 원인과 공통되는 부분에 대해서는 일사부재리 원칙 위배 여부의 관점에서 전에 확정된 심결의 결론을 번복할 만한 유력한 증거가 새로이 제출되었는지를 따져 전에 확정된 심결에서와 다른 결론을 내릴 것인지를 판단하여야 한다.

19. 특허법상 심사청구제도에 관한 설명으로 옳은 것은?

- ① 특허출원인이 아닌 자가 출원심사의 청구를 한 후 출원인이 그 특허출원서에 첨부된 명세서를 보정하여 청구범위에 기재된 청구항의 수가 증가한 경우에는 그 증가한 청구항에 관하여 납부해야 할 심사청구료는 심사청구인이 납부해야 한다.
- ② 특허청장은 특허출원인이 아닌 자로부터 출원심사의 청구가 있으면 그 취지를 특허출원인에게 알려야 한다.
- ③ 무권리자 甲이 발명 A를 2014년 3월 3일에 특허출원을 하고, 정당한 권리자인 乙은 특허법 제34조(무권리자의 특허출원과 정당한 권리자의 보호)에 따라 발명 A를 2017년 2월 3일에 특허출원을 한 경우, 乙은 2017년 3월 3일까지 자신의 특허출원에 대하여 심사청구를 해야 한다.
- ④ 특허출원인은 심사가 착수되기 전이고, 특별한 사유를 증명한다면 심사청구를 취하할 수 있다.
- ⑤ 심사청구가 없어도 공익상 필요한 경우에는 심사관은 직권으로 특허출원에 대한 심사를 할 수 있다.

20. 甲은 2016년 3월 3일 발명 A가 기재된 논문을 공개학회에서 서면으로 발표하고, 2017년 3월 2일 발명 A에 대해서 특허출원을 하였다. 다음 설명 중 옳지 않은 것은?

- ① 甲이 2017년 3월 2일 특허출원서에 특허법 제30조(공지 등이 되지 아니한 발명으로 보는 경우) 제1항 제1호의 적용을 받으려는 취지를 기재하고 이를 증명하는 서류를 제출한다면, 그 논문은 甲의 발명 A에 대하여 특허법 제29조(특허요건) 제1항 제2호에 해당하지 아니한 것으로 본다.
- ② 甲이 2017년 3월 2일 특허출원서에 특허법 제30조 제1항 제1호의 적용을 받으려는 취지를 기재할 경우, 2017년 4월 1일(토요일)까지 이를 증명할 수 있는 서류를 특허청장에게 제출하여야 한다.
- ③ 甲이 2017년 9월 4일 의견제출통지서[제출기한은 2017년 11월 4일(토요일)]를 송달받은 경우, 보완수수료를 납부한다면 2017년 11월 6일까지 특허법 제30조 제1항 제1호의 적용을 받으려는 취지를 적은 서류 또는 이를 증명할 수 있는 서류를 제출할 수 있다.
- ④ 만일, 甲이 아니라 乙이 甲의 의사에 반하여 2016년 3월 3일에 발명 A를 간행물에 게재하였다면, 甲은 2017년 3월 3일까지 발명 A에 대해서 특허출원을 해야만 특허법 제30조를 적용받을 수 있다.
- ⑤ 甲은 2017년 3월 2일 특허출원서에 특허법 제30조 제1항 제1호의 적용을 받으려는 취지를 기재하지 않았다 하더라도, 이후 특허법 제30조를 적용받을 수 있는 기회를 가진다.

21. 상표법상 상표권의 소멸에 관한 설명으로 옳은 것을 모두 고른 것은? (다툼이 있으면 판례에 따름)

- ㄱ. 상표권자는 전용사용권자·통상사용권자 또는 질권자의 동의를 받지 아니하면 상표권을 포기할 수 없다. 다만, 국제등록기초상표권에 대해서는 이러한 내용이 적용되지 않는다.
- ㄴ. 상표권의 포기를 하였을 경우에는 상표권은 그때부터 소멸되므로 상표권의 포기에 대한 등록이 없어도 그 효력이 발생한다
- ㄷ. 상표권자가 사망한 날부터 1년 이내에 상속인이 그 상표권의 이전등록을 하지 아니한 경우에는 상표권자가 사망한 날부터 1년이 되는 날의 다음 날에 상표권이 소멸된다.
- ㄹ. 선출원상표가 등록 후 무효심결이 확정된 경우에는 선출원의 지위를 소급적으로 상실한다.

- ② ① ㄱ, ㄴ                    ② ㄱ, ㄷ                    ③ ㄱ, ㄹ                    ④ ㄴ, ㄷ                    ⑤ ㄴ, ㄹ

22. 상표법상 상표의 식별력에 관한 설명으로 옳은 것은? (다툼이 있으면 판례에 따름)

- ① 상표등록여부결정을 한 때에 식별력이 없어 등록을 받을 수 없었음에도 불구하고 잘못하여 상표 등록이 이루어진 경우에는 비록 그 등록 후의 사용에 의하여 식별력을 취득하였더라도 등록무효의 하자가 치유되지 아니한다.
- ② 현저한 지리적 명칭으로만 된 상표는 상표등록출원 전부터 그 상표를 사용한 결과 수요자 간에 특정인의 상품에 관한 출처를 표시하는 것으로 식별할 수 있게 되었더라도 그 상표를 사용한 상품에 대하여 상표등록을 받을 수 없다.
- ③ 사용에 의한 식별력을 특정 지역에서만 취득하여 등록이 된 경우에는 상표권의 효력은 식별력을 취득한 그 지역에만 미친다.
- ④ 간단하고 흔히 있는 표장만으로 된 상표가 식별력 있는 표장과 결합하여 새로운 식별력이 있다고 인정되더라도 그 결합상표는 상표등록이 불가능하다.
- ⑤ 흔히 있는 성(姓)을 보통으로 사용하는 방법으로 표시한 표장만으로 된 상표는 어떠한 경우에도 식별력을 취득할 수 없다.



**23. 상표법상 상표의 사용에 관한 설명으로 옳지 않은 것은? (다툼이 있으면 판례에 따름)**

- ① 제과점업에 대하여 상표등록을 받은 자가 해당 등록상표가 표시된 나무상자에 즉석으로 구운 빵을 담아 판매한 행위는 제과점업에 대한 상표의 사용행위에 해당한다.
- ② 상표법 제2조 제1항 제11호 다목에서 말하는 상품에 관한 광고에는 시각으로 인식할 수 있는 것이 포함되어야 하므로 그 광고에는 상품명이나 제조원이 표시되어야 상표의 사용으로 인정된다.
- ③ 명함의 뒷면에 상표를 표시하고, 이를 거래상대방에게 교부한 행위는 상표법상 상표의 사용행위에 해당한다.
- ④ 인터넷 포털사이트 운영자에게서 특정 단어나 문구의 이용권을 구입하여 일반 인터넷 사용자가 그 단어나 문구를 검색창에 입력하면 검색결과 화면에 그 키워드 구입자의 홈페이지로 이동할 수 있는 스폰서의 홈페이지 주소가 나타나는 경우에 그 검색결과 화면에 나타난 표장이 자타상품의 출처표시를 위하여 사용된 것으로 볼 수 있다면 상표로서의 사용에 해당한다.
- ⑤ 도메인이름의 사용태양 및 그 도메인이름으로 연결되는 웹사이트 화면의 표시 내용 등을 전체적으로 고려하여 거래통념상 상품의 출처를 표시하고 자기의 업무에 관계된 상품과 타인의 업무에 관계된 상품을 구별하는 식별표지로 기능하고 있을 때에는 도메인이름의 사용행위를 상표의 사용으로 볼 수 있다.

**24. 상표법 제119조(상표등록의 취소심판)에 관한 설명으로 옳은 것은? (다툼이 있으면 판례에 따름)**

- ① 상표등록의 취소심판은 이해관계인만이 청구할 수 있다.
- ② 불사용취소심판에 관한 상표법 제119조 제1항 제3호에서 미등록 통상사용권자의 사용은 정당한 사용이라고 할 수 없기 때문에 미등록 통상사용권자의 사용은 그 사실이 입증되어도 상표등록의 취소를 면할 수 없다.
- ③ 상표권자가 상당한 주의를 하였다고 인정되더라도 전용사용권자가 지정상품에 등록상표를 사용함으로써 수요자에게 상품의 품질을 오인하게 한 경우에는 상표등록이 취소된다.
- ④ 공유인 상표권의 상표권자에 대하여 상표등록의 취소심판을 청구할 경우에는 공유자 모두를 피청구인으로 청구하여야 한다.
- ⑤ 상표권자·전용사용권자 또는 통상사용권자 중 어느 누구도 정당한 이유 없이 등록상표를 그 지정상품에 대하여 취소심판청구일 전 계속하여 2년 이상 국내에서 사용하고 있지 아니한 경우에는 상표권자는 취소심판청구와 관계되는 지정상품에 관한 상표등록의 취소를 면할 수 없다.

**25. 상표법상 지리적 표시 단체표장에 관한 설명으로 옳은 것은?**

- ① 지리적 표시 단체표장에서 지리적 표시는 상품의 특정 품질·명성 또는 그 밖의 특성 이 전적으로 특정지역에서 비롯된 경우에만 그 지역에서 생산·제조 또는 가공된 상품임을 나타내는 표시를 말한다.
- ② 지리적 표시를 사용할 수 있는 상품을 판매하는 자만으로 구성된 법인이 직접 사용하기 위한 표장에 대해 지리적 표시 단체표장등록을 받을 수 있다.
- ③ 서비스에 대해 지리적 표시 단체표장등록을 받을 수 있다.
- ④ 지리적 표시 단체표장등록출원은 상표등록출원으로 출원의 변경을 할 수 없다.
- ⑤ 지리적 표시를 사용할 수 있는 상품을 제조하는 자가 직접 사용하기 위한 표장에 대해 개인을 출원인으로 하여 지리적 표시 단체표장등록을 받을 수 있다.

**26. 상표등록출원인의 출원상표가 상표등록을 받을 수 없는 사유에 해당하는지 여부를 특허청 심사관이 판단하는 기준시점에 관한 설명으로 옳지 않은 것은?**

- ① 저명한 고인(故人)을 비방하는 상표에 해당하는지 여부는 상표등록여부결정을 할 때를 기준으로 판단한다.
- ② 상표 그 자체 또는 상표가 상품에 사용되는 경우 수요자에게 주는 의미와 내용 등이 일반인의 통상적인 도덕관념인 선량한 풍속에 어긋나는 등 공공의 질서를 해칠 우려가 있는 상표에 해당하는지 여부는 상표등록여부결정을 할 때를 기준으로 판단한다.
- ③ 저명한 타인의 성명을 포함하는 상표에 해당하는지 여부는 상표등록여부결정을 할 때를 기준으로 판단한다.
- ④ 수요자들에게 현저하게 인식되어 있는 타인의 상품이나 영업과 혼동을 일으키게 하는 상표에 해당하는지 여부는 상표등록출원을 한 때를 기준으로 판단한다. 다만, 이와 관련하여 타인에 해당하는지 여부는 상표등록여부결정을 할 때를 기준으로 판단한다.
- ⑤ 동업관계를 통하여 타인이 사용하는 상표임을 알면서 그 상표와 유사한 상표를 유사한 상품에 등록출원한 상표에 해당하는지 여부는 상표등록여부결정을 할 때를 기준으로 판단한다.

**27. 상표법상 벌칙에 관한 설명으로 옳은 것은?**

- ① 상표법에 따라 선서한 증인이 특허심판원에 대하여 거짓의 진술을 하였을 경우에는 5년 이하의 징역 또는 5천만원 이하의 벌금에 처한다. 다만, 이 위증죄를 범한 증인이 그 사건의 상표등록여부결정 또는 심결의 확정 전에 자수하였을 경우에는 그 형을 감경하거나 면제할 수 있다.
- ② 상표등록을 하지 아니한 상표를 등록상표인 것같이 영업용 광고에 표시한 자는 5년 이하의 징역 또는 5천만원 이하의 벌금에 처한다.
- ③ 거짓이나 그 밖의 부정한 행위를 하여 상표등록을 받은 자는 5년 이하의 징역 또는 5천만원 이하의 벌금에 처한다.
- ④ 상표권의 침해행위를 한 자는 5년 이하의 징역 또는 5천만원 이하의 벌금에 처한다.
- ⑤ 상표권의 침해물 제작에 사용하기 위하여 제공된 제작 용구에 대해서는 몰수가 가능하나, 상표권의 침해물 제작에 사용하기 위하여 제공된 재료에 대해서는 몰수가 불가능하다.

**28. 상표등록의 무효심판에 관한 설명으로 옳지 않은 것은?**

- ① 등록상표의 지정상품이 둘 이상인 경우에는 지정상품마다 해당 등록상표에 대한 상표등록의 무효 심판을 청구할 수 있다.
- ② 선출원에 의한 타인의 등록상표와 유사한 상표로서 그 지정상품과 유사한 상품에 사용하는 상표에 해당하는 것을 이유로 한 상표등록의 무효심판은 상표등록일부 5년의 제척기간 내에 청구하여야 한다.
- ③ 일반인의 통상적인 도덕관념인 선량한 풍속에 어긋나는 등 공공의 질서를 해칠 우려가 있는 상표에 해당하는 것을 이유로 한 상표등록의 무효심판은 상표등록일부 5년의 제척기간 내에 청구하여야 한다.
- ④ 타인의 상품을 표시하는 것이라고 수요자들에게 널리 인식되어 있는 상표와 유사한 상표로서 그 타인의 상품과 유사한 상품에 사용하는 상표에 해당하는 것을 이유로 한 상표등록의 무효심판은 상표등록일부 5년의 제척기간 내에 청구하여야 한다.
- ⑤ 심판장은 상표등록의 무효심판이 청구된 경우에는 그 취지를 해당 상표권의 전용사용권자와 그 밖에 상표에 관한 권리를 등록한 자에게 통지하여야 한다.

**29. 업무표장에 관한 설명으로 옳은 것은? (다툼이 있으면 판례에 따름)**

- ① 업무표장 등록을 받은 자는 해당 업무표장과 유사한 표장을 증명표장으로 등록받을 수 있다.
- ② 업무표장등록출원은 해당 업무와 함께 양도하지 않더라도 양도할 수 있다.
- ③ 업무표장권에 대해 질권을 설정할 수 있다.
- ④ 업무표장등록출원은 상표등록출원으로 변경할 수 있다.
- ⑤ 업무표장권에 대해 전용사용권을 설정할 수 없다.

**30. 상표법상 다음 설명 중 옳지 않은 것은? (다툼이 있으면 판례에 따름)**

- ① 사과주스에 사용하는 원재료를 표시한 ‘사과’라는 상표라도 상표등록출원 전부터 그 상표를 사과주스에 사용한 결과 수요자 간에 특정인의 상품에 관한 출처를 표시하는 것으로 식별할 수 있게 된 경우에는 그 상표를 사용한 사과주스를 지정상품으로 한정하여 상표등록을 받을 수 있다.
- ② 상품에 상표를 표시한 것을 인도할 목적으로 수출하는 행위는 상표의 사용에 해당하지 아니한다.
- ③ 타인의 등록상표와 동일 또는 유사한 표장을 순전히 디자인적으로만 사용하여 상표의 사용으로 인식될 수 없는 경우에는 상표권 침해로 볼 수 없다.
- ④ 증명표장을 출원하거나 등록을 받은 자는 그 증명표장과 동일·유사한 표장을 상표로 등록을 받을 수 없다.
- ⑤ 자기의 영업에 관한 상품에 사용하려는 경우에는 증명표장의 등록을 받을 수 없다.

31. 甲은 2018년 1월 5일에 간이형 스프링클러 디자인의 도면을 전시회에서 공개하였고, 2018년 3월 8일에 간이형 스프링클러를 유원지 시설에 설치하였다. 甲은 2018년 8월 10일에 간이형 스프링클러 디자인을 출원하면서 전시회에서 공개에 관해서만 신규성 상실의 예외를 주장하였다. 甲이 출원한 간이형 스프링클러 디자인은 2018년 12월 7일에 등록되었다. 乙은 2018년 6월 18일에 간이형 스프링클러의 판매를 하기 시작하였다. 乙은 2019년 1월 25일 특허심판원에 甲을 상대로 甲의 등록디자인에 대하여 신규성이 인정되지 않는다는 것을 이유로 디자인등록의 무효심판을 청구하였다. 다음 설명 중 옳지 않은 것은? (다툼이 있으면 판례에 따름)

- ① 甲의 신규성 상실의 예외 주장은 적법한 기간 내에 이루어졌다.
- ② 甲이 전시회에서 공개에 관해서만 신규성 상실의 예외 주장을 하였더라도 유원지 시설에 설치한 제품의 디자인이 전시회에서 공개한 도면의 디자인과 동일성이 인정되는 범위 내에 있다면 유원지 시설에 설치한 제품의 디자인에까지 신규성 상실의 예외의 효과가 미친다.
- ③ 상기 ②에서의 '동일성이 인정되는 범위 내'에는 전체적 심미감이 유사한 정도에 불과한 경우도 포함된다.
- ④ 乙은 등록디자인의 물품과 같은 제품을 판매하는 동종업자로서 甲의 디자인등록에 대한 무효심판을 청구할 수 있는 이해관계인에 해당한다.
- ⑤ 甲의 등록디자인은 乙의 간이형 스프링클러 판매에 의해 신규성이 상실되었다고 볼 수 있으며, 이로 인해 甲의 디자인등록이 무효가 될 수 있다.

32. 디자인보호법 제62조(디자인등록거절결정)에서의 거절이유에 관한 설명으로 옳지 않은 것은?

- ① 물품의 기능을 확보하는 데에 불가결한 형상만으로 된 디자인의 경우는 디자인심사등록출원과 디자인일부심사등록출원의 거절이유에 모두 해당한다.
- ② 1디자인마다 1디자인등록출원이 이루어지지 않은 디자인의 경우는 디자인심사등록출원과 디자인일부심사등록출원의 거절이유에 모두 해당한다.
- ③ 디자인일부심사등록출원으로 출원할 수 없는 물품임에도 불구하고 이를 대상으로 하여 디자인일부심사등록출원을 한 디자인의 경우는 디자인일부심사등록출원의 거절이유에 해당한다.
- ④ 디자인등록출원 전에 그 디자인이 속하는 분야에서 통상의 지식을 가진 사람이 국내 또는 국외에서 널리 알려진 형상·모양·색채 또는 이들의 결합에 따라 쉽게 창작할 수 있는 디자인의 경우는 디자인일부심사등록출원의 거절이유에 해당하지 않는다.
- ⑤ 조약에 위반된 디자인의 경우는 디자인심사등록출원과 디자인일부심사등록출원의 거절이유에 모두 해당한다.

33. 국제디자인등록출원의 특례에 관한 설명으로 옳은 것은?

- ① 국제디자인등록출원서에 첨부되는 도면에는 창작내용의 요점을 적어야 한다.
- ② 국제디자인일부심사등록출원을 국제디자인심사등록출원으로 또는 국제디자인심사등록 출원을 국제디자인일부심사등록출원으로 변경하는 보정을 할 수 있다.
- ③ 심사관은 디자인등록결정을 할 때에 국제디자인등록출원서 또는 도면에 적힌 사항이 명백히 잘못된 경우에는 직권으로 보정을 할 수 있다.
- ④ 국제디자인등록출원에 대하여는 등록을 받을 수 있는 권리의 상속이나 그 밖의 일반 승계가 있는 경우 승계인은 지체 없이 그 취지를 특허청장에게 신고하여야 한다.
- ⑤ 조약에 따른 우선권을 주장한 자는 최초로 출원한 국가의 정부가 인증한 서류로서 디자인등록출원의 연월일을 적은 서면 및 도면의 등본을 산업디자인의 국제등록에 관한 헤이그협정 제10조(3)에 따른 국제등록공개가 있는 날부터 3개월 이내에 특허청장에게 제출하여야 한다.

34. 2018년 12월 10일에 甲은 자전거의 디자인을 디자인등록출원하였다. 乙은 2019년 1월 7일에 甲이 출원한 디자인에서의 자전거 핸들 부분과 유사한 자전거 핸들에 관한 디자인을 독자적으로 창작하여 디자인등록출원하였고, 출원 이후부터 바로 그 자전거 핸들을 생산·판매하였다. 다음 설명 중 옳은 것은? (다툼이 있으면 판례에 따름)

- ① 乙의 디자인등록출원은 甲의 디자인등록출원에 근거한 신규성 상실을 이유로 디자인등록을 받을 수 없게 된다.
- ② 乙의 디자인등록출원은 선출원주의의 적용으로 디자인등록을 받을 수 없게 된다.
- ③ 甲의 디자인등록출원이 출원공개된 후에 취하된 경우에는 乙의 디자인등록출원은 디자인등록 될 수 있다.
- ④ 甲의 디자인등록출원이 乙의 출원 후에 출원공개 또는 등록공고가 된 경우에는 乙의 디자인등록 출원은 확대된 선출원의 적용으로 디자인등록을 받을 수 없게 된다.
- ⑤ 甲의 디자인등록출원이 등록된 후에 乙이 자전거 핸들을 계속해서 생산하여 판매하는 경우 甲의 디자인권 침해가 된다.

**35. 디자인일부심사등록 이의신청과 디자인등록의 무효심판에 관한 설명으로 옳은 것은?**

- ① 복수디자인등록출원된 디자인등록에 대하여는 디자인등록의 무효심판을 각 디자인마다 청구하여야 하지만, 디자인일부심사등록 이의신청은 각 디자인마다 하지 않아도 된다.
- ② 디자인등록된 후 디자인일부심사등록의 디자인권자가 디자인보호법 제27조(외국인의 권리능력)에 따라 디자인권을 누릴 수 없는 자로 된 경우에 디자인일부심사등록 이의 신청을 할 수는 없지만, 디자인등록의 무효심판은 청구가 가능하다.
- ③ 디자인일부심사등록 이의신청에 대한 각하결정에 대하여는 불복할 수 없지만, 이의신청기각결정에 대하여는 불복할 수 있다.
- ④ 디자인일부심사등록 이의신청에 관한 심사를 할 때에는 디자인권자나 이의신청인이 주장하지 아니한 이유에 대하여도 심사할 수 있으나, 디자인등록의 무효심판의 경우에는 당사자 또는 참가인이 신청하지 아니한 이유에 대하여는 심리할 수 없다.
- ⑤ 디자인일부심사등록 이의신청은 디자인일부심사등록출원의 출원공고일 후 3개월이 되는 날까지 할 수 있으나, 디자인등록의 무효심판은 이러한 기한이 없다.

**36. 글자체 디자인의 유사여부 판단에 관한 설명으로 옳지 않은 것은? (다툼이 있으면 판례에 따름)**

- ① 글자체 디자인의 유사여부 판단의 주체는 인쇄업자 또는 글자체 개발자로 한정하여야 한다.
- ② 디자인의 유사여부는 이를 구성하는 각 요소를 분리하여 개별적으로 대비할 것이 아니라 외관을 전체적으로 대비·관찰하여 보는 사람으로 하여금 다른 심미감을 느끼게 하는지에 따라 판단하여야 하는데, 이러한 법리는 글자체에 대한 디자인의 경우에도 마찬가지로 적용된다.
- ③ 글자체 디자인은 일반 물품 디자인의 유사여부에 관한 판단기준에 따르되 글자체 디자인의 고유한 특성을 참작하여 유사여부를 판단하여야 할 것이다.
- ④ 디자인등록출원된 글자체 디자인이 기존 글자체의 복사나 기계적 복제에 해당되는 경우에는 기존 글자체 디자인과 동일·유사한 것으로 본다.
- ⑤ 양 글자체 간의 차이점들이 존재하나, 이러한 차이점들이 해당 글자체를 자세히 볼 때에만 비로소 인식할 수 있는 세부적인 구성의 미세한 차이에 불과하여 전체적인 심미감에 큰 영향을 미칠 정도라고 하기 어려운 경우에는 양 글자체 디자인이 유사하다고 볼 수 있다.



**37. 디자인보호법 제115조(손해액의 추정 등)에 관한 설명으로 옳지 않은 것은? (다툼이 있으면 판례에 따름)**

- ① 디자인권자는 고의나 과실로 인하여 자기의 디자인권을 침해한 자에 대하여 그 침해에 의하여 자기가 입은 손해의 배상을 청구하는 경우 그 권리를 침해한 자가 그 침해행위를 하게 한 물건을 양도하였을 때에는 그 물건의 양도수량에 디자인권자가 그 침해행위가 없었다면 판매할 수 있었던 물건의 단위수량당 이익액을 곱한 금액을 디자인권자가 입은 손해액으로 할 수 있다.
- ② 상기 ①에 따라 손해액을 산정하는 경우 손해액은 디자인권자가 생산할 수 있었던 물건의 수량에서 실제 판매한 물건의 수량을 뺀 수량에 단위수량당 이익액을 곱한 금액을 한도로 한다. 다만, 디자인권자가 침해행위 외의 사유로 판매할 수 없었던 사정이 있을 때에는 그 침해행위 외의 사유로 판매할 수 없었던 수량에 따른 금액을 빼야 한다.
- ③ 상기 ①과 ②에서의 “단위수량당 이익액”은 침해가 없었다면 디자인권자가 판매할 수 있었을 것으로 보이는 디자인권자 제품의 단위당 판매가액에서 그 증가되는 제품의 판매를 위하여 추가로 지출하였을 것으로 보이는 제품 단위당 비용을 공제한 금액을 말한다.
- ④ 상기 ②에서의 “침해행위 외의 사유”는 침해자의 시장개발 노력·판매망, 침해자의 상표, 광고·선전, 침해제품의 품질의 우수성 등으로 인하여 디자인권의 침해와 무관한 판매수량이 있는 경우를 포함하지 않는다.
- ⑤ 법원은 디자인권의 침해에 관한 소송에서 손해가 발생한 것은 인정되나 그 손해액을 증명하기 위하여 필요한 사실을 밝히는 것이 사실의 성질상 극히 곤란한 경우에는 변론전체의 취지와 증거조사의 결과에 기초하여 상당한 손해액을 인정할 수 있다.

**38. 디자인보호법 제33조(디자인등록의 요건) 제1항에 따른 ‘공업상 이용할 수 있는 디자인’에 관한 설명으로 옳지 않은 것은? (다툼이 있으면 판례에 따름)**

- ① 공업상 이용가능성이란 공업적 방법에 의하여 양산될 수 있는 것을 의미하고, 공업적 방법이란 원자재에 물리적, 화학적 변화를 가하지 않으면서 유용한 물품을 제조하는 것을 의미한다.
- ② 공업상 이용할 수 있는 디자인은 물리적으로 완전히 같은 물품을 양산할 수 있는 디자인이어야 하는 것은 아니다.
- ③ 디자인등록출원서의 기재 정도와 관련하여, 첨부된 도면에 서로 불일치하는 부분이 있더라도 해당 디자인 분야에서 통상의 지식을 가진 자가 경험칙에 의하여 디자인의 요지를 충분히 특정할 수 있는 경우에는 공업상 이용할 수 있는 디자인에 해당한다고 볼 수 있다.
- ④ 공업상 이용할 수 없는 디자인이 일부심사등록된 경우에는 디자인일부심사등록 이의신청의 대상이 될 수 있다.
- ⑤ 부분디자인에 있어서도 디자인의 대상이 되는 물품이 공업적 방법에 의하여 반복적으로 양산될 수 있어야 한다.

39. 디자인보호법 제122조(권리범위 확인심판)에 관한 설명으로 옳지 않은 것은? (다툼이 있으면 판례에 따름)

- ① 확인대상디자인의 특정 여부에 관하여 의심이 있을 때에는 당사자의 명확한 주장이 없더라도 특허심판원은 이를 직권으로 조사하여야 한다.
- ② 특허심판원은 확인대상디자인의 일부 구성요소가 불명확하여 다른 것과 구별될 수 있을 정도로 구체적으로 특정되어 있지 아니하더라도 확인대상디자인이 등록디자인의 구성요소들의 일부만을 갖추고 있고 나머지 구성요소가 결여되어 있어 등록디자인의 권리범위에 속하지 않음이 명백한 경우라면 등록디자인의 권리범위에 속하지 않는다는 판단을 하여야 한다.
- ③ 일반적으로 확인대상디자인의 특정을 위해서는 대상물의 구체적인 구성을 전부 기재할 필요는 없고 등록디자인의 구성요소에 대응하는 부분의 구체적인 구성을 기재하여 등록디자인의 구성요소와 대비하여 그 차이점을 판단함에 필요한 정도여야 할 것이다.
- ④ 복수디자인등록출원된 디자인등록에 대해서는 각 디자인마다 권리범위 확인심판을 청구하여야 한다.
- ⑤ 권리범위 확인심판을 청구할 때에는 등록디자인과 대비할 수 있는 도면을 첨부하여야 한다.

40. 디자인보호법 제38조(디자인등록출원일의 인정 등)에 관한 설명으로 옳지 않은 것은?

- ① 디자인등록출원서에 디자인등록을 받으려는 취지가 명확하게 표시되지 아니한 경우에는 그 디자인등록출원의 출원일은 디자인등록출원서가 특허청장에게 도달한 날로 인정되지 않는다.
- ② 디자인등록출원서에 디자인등록출원인의 성명이나 명칭이 명확하게 적혀있지 아니하여 디자인등록출원인을 특정할 수 없는 경우에는 그 디자인등록출원의 출원일은 디자인등록출원서가 특허청장에게 도달한 날로 인정되지 않는다.
- ③ 디자인등록출원이 한글로 적혀 있지 아니한 경우에 디자인등록을 받으려는 자에게 상당한 기간을 정하여 보완할 것을 명하는 것은 특허청장의 재량사항이다.
- ④ 복수디자인등록출원된 디자인 중 일부 디자인에만 보완이 필요한 경우에는 그 일부 디자인에 대한 절차보완서가 특허청장에게 도달한 날을 복수디자인 전체의 출원일로 본다.
- ⑤ 특허청장은 도면을 제출하도록 보완명령을 받은 자가 지정기간 내에 복수디자인등록출원된 디자인 중 일부 디자인만 보완하지 아니한 경우에도 그 디자인등록출원을 부적법한 출원으로 보아 반려할 수 있다.

02  
2019

제56회 변리사 1차 국가자격시험  
[2교시] 민법개론

1. 신의성실의 원칙에 관한 설명으로 옳은 것을 모두 고른 것은? (다툼이 있으면 판례에 따름)

- ㄱ. 사정변경을 이유로 계약의 해제가 인정되는 경우는 계약준수 원칙의 예외에 해당한다.
- ㄴ. 사용자는 근로계약에 수반되는 신의칙상의 부수의무로서 피용자가 노무를제공하는 과정에서 건강을 해치는 일이 없도록 필요한 조치를 강구하여야 할 의무를 부담한다.
- ㄷ. 채권자가 채권을 확보하기 위하여 제3자의 부동산을 채무자에게 명의신탁하도록 한 다음 그 부동산에 대하여 강제집행을 하는 행위는 신의칙상 허용되지 않는다.
- ㄹ. 아파트 분양자는 아파트 단지 인근에 쓰레기 매립장이 건설예정인 사실을 분양계약자에게 고지할 신의칙상 의무를 부담한다.

- ① ㄱ                    ② ㄴ, ㄷ                    ③ ㄷ, ㄹ                    ④ ㄱ, ㄴ, ㄹ                    ⑤ ㄱ, ㄴ, ㄷ, ㄹ

2. 17세인 甲은 乙 소유의 자전거를 법정대리인의 동의를 얻지 않고 100만원에 구입하기로 乙과 매매계약을 체결하고, 다음 달 대금지급과 동시에 자전거를 건네받기로 하였다. 이에 관한 설명으로 옳지 않은 것은? (다툼이 있으면 판례에 따름)

- ① 甲의 법정대리인은 특별한 사정이 없는 한 매매계약을 취소할 수 있다.
- ② 甲은 법정대리인의 동의가 없었다는 이유로 자신이 체결한 매매계약을 원칙적으로 취소할 수 없다.
- ③ 乙은 매매계약을 체결할 당시 甲이 17세라는 것을 알았던 경우에도 甲의 법정대리인에게 매매계약을 추인할 것인지 여부의 확답을 촉구할 수 있다.
- ④ 甲이 매매계약에 대하여 법정대리인의 동의서를 위조하였고, 乙이 이를 믿고 계약을 체결한 경우, 甲의 법정대리인도 매매계약을 취소할 수 없다.
- ⑤ 매매계약을 체결할 당시 甲이 17세라는 것을 乙이 알았던 경우, 乙은 매매계약과 관련한 자신의 의사표시를 철회할 수 없다.

3. 민법상 법인에 관한 설명으로 옳지 않은 것은? (다툼이 있으면 판례에 따름)

- ① 민법상 재단법인은 비영리법인이다.
- ② 사원자격의 득실에 관한 규정은 재단법인 정관의 필요적 기재사항에 해당한다.
- ③ 해산한 법인은 청산의 목적범위 내에서만 권리가 있고 의무를 부담한다.
- ④ 이사의 대표권에 대한 제한은 이를登記하지 않으면, 제3자가 악의이더라도 대항하지 못한다.
- ⑤ 청산종결의登記가 마쳐졌더라도 청산사무가 종료되지 않은 경우에는 그 범위 내에서 청산법인으로서 존속한다.

**4. 원물과 과실에 관한 설명으로 옳지 않은 것은?**

- ① 소유권이전의 대가, 노동의 대가는 법정과실이다.
- ② 물건의 용법에 의하여 수취하는 산출물은 천연과실이다.
- ③ 천연과실은 그 원물로부터 분리하는 때에 이를 수취할 권리자에게 속한다.
- ④ 미분리의 과실은 독립한 물건이 아니지만, 명인방법을 갖춘 경우에는 타인 소유권의 객체가 될 수 있다.
- ⑤ 법정과실은 수취할 권리의 존속기간일수의 비율로 취득할 수 있는 것이지만, 당사자가 그와 다르게 약정할 수도 있다.

**5. 법률행위의 무효와 취소에 관한 설명으로 옳은 것은? (다툼이 있으면 판례에 따름)**

- ① 착오가 의사표시자의 중대한 과실로 인한 경우에는 상대방이 그 착오를 알고 이를 이용하였다라고 의사표시자는 착오를 이유로 의사표시를 취소할 수 없다.
- ② 통정허위표시의 무효는 선의의 제3자에게 대항하지 못하며, 이때 제3자는 선의이면 족하고 무과실을 요하지 않는다.
- ③ 무효인 가등기를 유효한 등기로 전용할 것을 약정하였다면, 무효행위의 전환이론에 따라 무효인 가등기는 그 등기시로 소급하여 유효로 전환된다.
- ④ 취소권을 행사할 수 있는 기간의 경과 여부는 당사자가 주장하여야 하므로, 법원이 이를 당연히 조사하고 고려해야 할 사항은 아니다.
- ⑤ 유동적 무효인 토지거래계약이 확정적으로 무효가 된 경우, 이에 대해 귀책사유가 있는 자는 계약의 무효를 주장할 수 없다.

**6. 의사표시에 관한 설명으로 옳지 않은 것은? (다툼이 있으면 판례에 따름)**

- ① 공무원 甲이 사직의 의사표시를 하는 것과 같은 사인의 공법행위에도 진의 아닌 의사 표시에 관한 민법 규정이 적용된다.
- ② 甲이 상대방 乙에게 진의 아닌 의사표시의 무효를 주장하는 경우, 乙의 악의나 과실 유무는 甲이 증명해야 한다.
- ③ 채무자 甲의 법률행위가 통정허위표시로서 무효인 경우에도 그 법률행위가 채권자 취소권의 요건을 갖추었다면, 甲의 채권자 乙은 채권자취소권을 행사할 수 있다.
- ④ 통정허위표시의 제3자가 악의라도 그 전득자가 통정허위표시에 대하여 선의인 때에는 전득자에게 허위표시의 무효를 주장할 수 없다.
- ⑤ 의사표시의 상대방이 의사표시를 받은 때에 제한능력자인 경우에는 의사표시자는 원칙적으로 그 의사표시으로써 대항할 수 없다.

**7. 착오나 사기에 의한 의사표시에 관한 설명으로 옳은 것은? (다툼이 있으면 판례에 따름)**

- ① 동기의 착오가 상대방에 의하여 제공되거나 유발된 경우에는 착오를 이유로 취소할 수 없다.
- ② 법률행위 내용의 중요부분에 대한 착오를 판단할 때, 의사표시자의 경제적인 불이익 여부는 문제 되지 않는다.
- ③ 착오를 이유로 한 취소권은 추인할 수 있는 날로부터 3년 내에, 법률행위를 한 날로부터 10년 내에 행사하여야 한다.
- ④ 법률행위가 사기에 의한 것으로서 취소되는 경우, 그 법률행위가 동시에 불법행위를 구성하는 때에는 취소의 효과로 생기는 부당이득반환청구권과 불법행위로 인한 손해 배상청구권을 중첩적으로 행사할 수 있다.
- ⑤ 제3자의 사기로 인하여 계약을 체결한 경우, 그 제3자에 대하여 불법행위로 인한 손해배상을 청구하기 위해서는 먼저 그 계약을 취소해야 한다.

**8. 제척기간에 관한 설명으로 옳은 것은? (다툼이 있으면 판례에 따름)**

- ① 제척기간이 경과하면 그 기산일에 소급하여 권리소멸의 효과가 발생한다.
- ② 제척기간은 권리자의 청구나 압류 등이 있으면 중단되고 그때까지 경과된 기간은 산입되지 않는다.
- ③ 점유보호청구권의 행사기간은 제척기간이기 때문에 점유보호청구권은 재판상·재판외에서 행사할 수 있다.
- ④ 제척기간이 지난 후에는 당사자가 책임질 수 없는 사유로 그 기간을 준수하지 못하였더라도 추후에 보완될 수 없다.
- ⑤ 채권양도의 통지는 그 양도인이 채권이 양도되었다는 사실을 채무자에게 알리는 행위이므로, 채권양도의 통지만으로 제척기간의 준수에 필요한 권리의 재판외 행사가 이루어졌다고 볼 수 있다.

**9. 무권대리인 乙은 자신을 甲의 대리인이라고 하면서 丙과 매매계약을 체결하였다. 이에 관한 설명으로 옳지 않은 것은? (다툼이 있으면 판례에 따름)**

- ① 乙이 무권대리인임을 알았던 丙은 甲에게 乙의 대리행위에 대한 추인 여부의 확답을 최고할 수 없다.
- ② 丙이 매매계약을 적법하게 철회하였다면 乙의 무권대리행위는 확정적으로 무효가 되어 그 후에는 甲이 매매계약을 추인할 수 없다.
- ③ 甲이 乙에 대하여 매매계약에 관한 추인의 의사표시를 한 경우, 이러한 추인의 의사표시를 丙이 알지 못하였다면 丙은 철회할 수 있다.
- ④ 丙이 매매계약을 철회하는 경우, 철회의 효과를 다투는 甲은 丙이 乙에게 대리권이 없다는 사실에 관하여 악의임을 증명할 책임이 있다.
- ⑤ 乙이 甲을 단독상속한 경우, 乙은 甲의 지위에서 무권대리임을 이유로 매매계약의 무효를 주장하는 것은 허용되지 않는다.



10. 甲은 2017. 10. 1. 친구 乙에게 3,000만원을 대여하면서 이자는 월 1%, 변제기는 2018. 10. 1. 로 정하였는데, 2019. 2. 16. 현재까지 乙은 원금과 이자를 전혀 변제하지 않고 있다. 이에 관한 설명으로 옳지 않은 것은? (다툼이 있으면 판례에 따름)

- ① 甲의 원금반환채권은 10년간 행사하지 아니하면 소멸시효가 완성한다.
- ② 甲이 乙을 사기죄로 고소하여 형사소송이 제기되었는데, 이 과정에서 배상명령을 신청하지 않은 경우에는 甲의 대여금채권의 소멸시효는 중단되지 않는다.
- ③ 甲이 乙을 상대로 대여금반환청구의 소를 제기하였다가 이후 그 소를 취하한 경우에도 甲의 대여금반환청구의 소제기로 인한 시효중단의 효력은 유지된다.
- ④ 乙의 재산에 대하여 甲의 가압류가 있는 경우에도 시효중단의 효력이 인정되지만, 당연무효의 가압류는 소멸시효의 중단사유에 해당하지 않는다.
- ⑤ 甲이 乙에게 대여금반환채무의 이행을 최고한 경우, 최고 후 6개월 내에 재판상의 청구를 하였다면 최고시에 시효중단의 효력이 발생한다.

11. 乙은 甲의 대리인으로서 甲을 위하여 丙과 계약을 체결하였다. 이에 관한 설명으로 옳지 않은 것은? (다툼이 있으면 판례에 따름)

- ① 乙이 임의대리인이라면 乙은 행위능력자임을 요하지 않는다.
- ② 乙의 대리행위가 무권대리라는 이유로 甲이 무효를 주장하는 경우, 乙의 대리행위가 권한을 넘은 표현대리행위라는 주장 및 증명책임은 丙에게 있다.
- ③ 매매계약의 체결에 관한 권한을 수여받은 乙이 甲을 대리하여 매매계약을 체결한 경우, 乙은 특별한 사정이 없는 한 甲을 대리하여 매매계약의 해제 등 일체의 처분권을 행사할 수 있다.
- ④ 甲으로부터 아파트에 관한 일체의 관리권한을 위임받아 甲으로 가장하여 아파트를 丙에게 임대한 乙이 다시 甲으로 가장하여 임차인 丙에게 아파트를 매도하였다면, 권한을 넘은 표현대리의 법리를 유추적용할 수 있다.
- ⑤ 대리권 수여행위는 묵시적인 의사표시로도 할 수 있으므로, 乙이 甲의 대리인의 외양을 가지고 행위하는 것을 甲이 알면서도 이의를 하지 않고 방임하는 등 사실상의 용태에 의하여 대리권의 수여가 추단되는 경우도 있다.

12. 조건과 기한에 관한 설명으로 옳지 않은 것은?

- ① 종기 있는 법률행위는 기한이 도래한 때로부터 그 효력을 잃는다.
- ② 기한의 이익은 이를 포기할 수 있지만, 상대방의 이익을 해하지 못한다.
- ③ 조건이 법률행위 당시 이미 성취한 것인 경우에는 그 조건이 해제조건이면 그 법률행위는 조건 없는 법률행위로 한다.
- ④ 조건 있는 법률행위의 당사자는 조건의 성부가 미정인 동안에 조건의 성취로 인하여 생길 상대방의 이익을 해하지 못한다.
- ⑤ 조건의 성취로 인하여 불이익을 받을 당사자가 신의성실에 반하여 조건의 성취를 방해한 때에는 상대방은 그 조건이 성취한 것으로 주장할 수 있다.

13. 乙은 2005. 1. 10. 甲 소유의 X토지를 매수하고 대금을 지급한 후 X토지를 인도 받았으나 소유권이전등기는 마치지 않았다. 乙은 2015. 12. 31. X토지를 다시 丙에게 매도하였고, 2019. 2. 16. 현재까지 丙 역시 미등기 상태로 X토지를 점유하고 있다. 이에 관한 설명으로 옳지 않은 것은? (다툼이 있으면 판례에 따름)

- ① 甲은 丙에게 소유권에 기하여 X토지의 반환을 청구할 수 없다.
- ② 乙의 甲에 대한 소유권이전등기청구권의 소멸시효는 진행되지 않는다.
- ③ 丙은 乙의 甲에 대한 소유권이전등기청구권을 대위하여 행사할 수 있다.
- ④ 甲은 丙에 대해 불법점유를 이유로 임료 상당의 부당이득반환을 청구할 수 없다.
- ⑤ X토지를 제3자가 불법점유하고 있다면, 丙은 제3자에 대하여 소유권에 기한 물권적 청구권을 행사할 수 있다.

14. 물권의 소멸에 관한 설명으로 옳지 않은 것은? (다툼이 있으면 판례에 따름)

- ① 점유권은 혼동이나 소멸시효에 의해 소멸하지 않는다.
- ② 소유권은 소멸시효에 의해 소멸하지 않지만, 타인이 시효취득하면 상대적으로 소멸할 수 있다.
- ③ 전세권에 저당권이 설정된 경우, 전세목적물에 대한 소유권과 전세권이 동일인에게 귀속되더라도 전세권은 혼동에 의해 소멸하지 않는다.
- ④ 후순위 저당권이 있는 부동산의 소유권을 선순위 저당권자가 아무런 조건 없이 증여 받아 취득한 경우, 혼동에 의해 저당권은 소멸한다.
- ⑤ 부동산공유자의 공유지분포기의 의사표시가 다른 공유자에게 도달하더라도 그 공유지 분이 바로 소멸하는 것은 아니고, 다른 공유자는 자신에게 귀속될 공유지분에 관하여 소유권이전등기를 청구할 수 있을 뿐이다.

15. 취득시효 중단에 관한 설명으로 옳지 않은 것은? (다툼이 있으면 판례에 따름)

- ① 취득시효기간 만료 전에 등기부상 소유명의가 변경된 사실은 취득시효의 중단사유가 될 수 없다.
- ② 취득시효의 중단사유인 재판상 청구에는 소유권 침해의 경우, 그 소유권을 기초로 하는 방해배제 및 손해배상 또는 부당이득반환청구소송도 포함된다.
- ③ 취득시효를 주장하는 자가 소를 제기한 데 대하여 권리자가 피고로서 응소하고 그 소송에서 적극적으로 권리를 주장하여 그것이 받아들여진 경우에는 시효중단사유인 재판상 청구에 해당한다.
- ④ 시효중단의 효력은 당사자 및 그 승계인에 미치므로, 그 중단효과가 발생한 후의 특정승계인 또는 포괄승계인은 중단 당시의 당사자의 점유기간을 승계하여 시효 취득을 주장할 수 없다.
- ⑤ 소유권이전등기의 말소를 구하는 소를 제기하였다가 그 소를 취하한 후, 그로부터 6개월 내에 다시 취하된 소와 동일한 내용의 소를 제기한 경우, 후소가 제기된 때로부터 취득시효의 진행이 중단된다.

16. 지상권에 관한 설명으로 옳은 것은? (다툼이 있으면 판례에 따름)

- ① 지상권은 1필 토지의 전부가 아닌 일부에 대해서는 성립할 수 없다.
- ② 지상권자는 존속기간이 만료한 때에 지상물이 현존하는 경우, 지상권설정자에 대해 선택적으로 지상권의 갱신청구 또는 지상물의 매수청구를 할 수 있다.
- ③ 지상권은 지상물의 소유를 목적으로 토지를 사용하는 권리이므로, 지상권자는 지상권을 유보한 채 지상물 소유권만을 양도할 수 없다.
- ④ 지상권의 지료지급 연체가 토지소유권의 양도 전후에 걸쳐 이루어진 경우, 토지양수인 에 대한 연체기간이 2년 이상이면 토지양수인은 지상권의 소멸을 청구할 수 있다.
- ⑤ 금융기관이 토지에 저당권과 함께 지료 없는 지상권을 설정받으면서 채무자의 사용 수익권을 배제하지 않은 경우, 금융기관은 그 토지의 무단점유자에 대해 지상권침해 를 근거로 임료 상당의 손해배상을 청구할 수 있다.

17. 甲 소유의 산악자전거를 乙이 훔쳐 보관하던 중, 선의이지만 과실이 있는 丙에게 팔고 인도하였다. 며칠 후 甲은 丙이 자신의 자전거를 가지고 있는 것을 발견하여 이를 자력으로써 탈환하였다. 이에 관한 설명으로 옳은 것을 모두 고른 것은? (다툼이 있으면 판례에 따름)

- ㄱ. 丙은 甲에 대해 자전거의 반환을 청구할 수 있다.
- ㄴ. 丙은 자전거에 대한 선의취득을 근거로 소유권을 주장할 수 있다.
- ㄷ. 丙의 甲에 대한 점유의 소에서 甲은 자전거에 대한 소유권을 근거로 항변할 수 있다.
- ㄹ. 甲은 탈환행위 전에 丙에 대해 점유물반환청구권을 행사할 수 있다.

- ① ㄱ                      ② ㄱ, ㄴ                      ③ ㄴ, ㄷ                      ④ ㄱ, ㄴ, ㄹ                      ⑤ ㄴ, ㄷ, ㄹ

**18. 동산질권에 관한 설명으로 옳지 않은 것은? (다툼이 있으면 판례에 따름)**

- ① 질물의 과실에 대해서도 질권의 효력이 미친다.
- ② 질권설정을 위한 인도는 현실의 인도에 한하지 않고 점유개정에 의하더라도 무방하다.
- ③ 질권자가 질물을 점유하고 있더라도 피담보채권의 소멸시효 진행에 영향을 미치지 않는다.
- ④ 건물의 임대인이 임대차에 관한 채권에 의하여 그 건물에 부속한 임차인 소유의 동산을 압류한 때에는 질권과 동일한 효력이 있다.
- ⑤ 질권설정자에게 처분권한이 없더라도 채권자가 평온·공연하게 선의이며 과실 없이 질권설정을 받은 경우, 채권자는 동산질권을 선의취득한다.

**19. 민사유치권에 관한 설명으로 옳은 것은? (다툼이 있으면 판례에 따름)**

- ① 채권자가 채무자의 직접점유를 통하여 간접점유하는 경우에는 유치권은 성립하지 않는다.
- ② 유치권자는 채권의 변제를 받기 위하여 유치물을 경매할 수 있고, 매각대금에서 후순위 권리자보다 우선변제를 받을 수 있다
- ③ 수급인이 자신의 노력과 재료를 들여 신축한 건물에 대한 소유권을 원시취득한 경우, 수급인은 공사대금을 지급받을 때까지 유치권을 행사할 수 있다
- ④ 유치권의 피담보채권의 소멸시효기간이 확정판결 등에 의하여 10년으로 연장된 경우, 유치권이 성립된 부동산의 매수인은 종전의 단기소멸시효를 원용할 수 있다
- ⑤ 공사대금채권에 기하여 유치권을 행사하는 자가 스스로 보존에 필요한 범위 내에서 유치물인 주택에 거주하며 사용하는 경우에도 소유자는 유치권의 소멸을 청구할 수 있다.

**20. 甲은 乙 소유의 X주택 일부(A부분)에 전세금 1억원, 존속기간 2년으로 하는 전세 계약을 체결하고 전세권설정등기를 마쳤다. 이에 관한 설명으로 옳은 것은? (다툼이 있으면 판례에 따름)**

- ① 甲은 전세권 존속 중에는 장래에 그 전세권이 소멸하는 경우에 전세금반환채권이 발생하는 것을 조건으로 그 장래의 조건부 채권을 양도할 수 없다.
- ② 乙이 甲에게 전세금의 반환을 지체한 경우, 甲은 X주택의 A부분이 아니라 전부에 대하여 경매를 청구할 수 있다.
- ③ 경매절차에서 X주택이 매각된 경우, 甲은 X주택의 전부에 대하여 후순위권리자보다 전세금을 우선 변제받을 수 없다.
- ④ 甲의 채권자 丙이 甲의 전세권에 저당권을 취득한 경우, 전세권의 존속기간이 만료되더라도 丙은 전세권 자체에 대하여 저당권을 실행할 수 있다.
- ⑤ 甲의 전세권이 존속하는 동안에 乙이 X주택을 丁에게 매도하고 丁명의로 소유권이전등기를 마쳐 준 경우, 乙은 전세금반환의무를 면하게 된다.

21. 甲은 乙에 대한 1억원의 채권을 담보하기 위해 乙 소유의 X주택에 저당권설정등기를 마쳤다. 그 후 丙은 2017. 10. 1. X주택을 보증금 2억원에 임차하여 인도받고, 전입신고를 마친 후 2019. 2. 16. 현재까지 살고 있다. 2018. 1. 10. 丁이 乙에 대한 8,000만원의 채권으로 X주택을 가압류하였고, 2018. 4. 10. 戊는 乙에 대한 1억원의 채권을 담보하기 위해 X주택에 저당권설정등기를 마쳤다. 2019. 2. 16. X주택은 戊의 저당권실행을 위한 경매로 A에게 매각되었으며, 배당할 금액은 2억 5,000만원이다. 이에 관한 설명으로 옳은 것은? (다툼이 있으면 판례에 따름)

- ① A는 임대인 乙의 지위를 승계한 것으로 본다.
- ② 저당권자는 가압류채권자에 우선하므로, 戊는 丁에 우선하여 변제받을 수 있다.
- ③ 경매로 인해 丙의 임차권은 소멸하기 때문에 丙은 A에게 주택을 인도하여야 한다.
- ④ 丙이 임대차계약서상에 확정일자를 받았다면, 丙은 甲에 우선하여 보증금 전액에 대해 우선변제를 받을 수 있다.
- ⑤ 丙이 적법하게 배당요구를 하였다면 배당받을 수 있었던 금액이 丙의 적법한 배당요구가 없어서 丁과 戊에게 배당된 경우, 丙은 丁과 戊에게 부당이득반환을 청구할 수 있다.

22. 甲은 乙에 대한 1억원의 대여금채권을 담보하기 위해 乙 소유의 부동산(가액 3억 원)에 가등기를 마쳤고, 그 후 丙이 그 부동산에 저당권설정등기를 마쳤다. 이에 관한 설명으로 옳은 것은? (다툼이 있으면 판례에 따름)

- ① 甲이 담보권실행을 통지할 때에 청산금이 없더라도 2개월의 청산기간이 지나기 전에는 가등기에 기한 본등기를 청구할 수 없다.
- ② 甲이 담보권실행을 통하여 우선변제 받게 되는 이자나 지연배상금 등 피담보채권의 범위는 청산금 지급 당시를 기준으로 확정된다.
- ③ 甲이 담보권실행을 통지하고 2개월의 청산기간이 지난 경우, 청산금의 지급이 없더라도 乙은 대여금을 변제하고 가등기말소를 청구할 수는 없다.
- ④ 甲이 주관적으로 평가한 청산금의 액수가 정당하게 평가된 청산금의 액수에 미치지 못하면 담보권실행 통지는 효력이 없다.
- ⑤ 甲이 담보권실행을 위해 통지하여야 할 청산금의 평가액은 통지 당시의 목적부동산 가액에서 그 당시의 목적부동산에 존재하는 모든 피담보채권액을 공제한 차액이다.

23. 채권자 甲이 채무자 乙에 대한 1억원의 채권을 담보하기 위해 물상보증인 丙 소유의 X부동산(가액 1억 2,000만원), 丁 소유의 Y부동산(가액 8,000만원)에 각각 1번 저당권을 취득하고, A가 8,000만원의 채권으로 X부동산에, B가 6,000만원 의 채권으로 Y부동산에 각각 2번 저당권을 취득하였다. 甲이 X부동산에 대하여 먼저 담보권실행을 위한 경매를 하여 매각대금 1억 2,000만원이 배당순위에 따라 甲과 A에게 배당되었다. 이 경우 A가 Y부동산의 매각대금(8,000만원)에서 배당받을 수 있는 금액은? (단, 실행비용·이자 등은 고려하지 않고, 다툼이 있으면 판례에 따름)

- ① 0원            ② 2,000만원            ③ 4,000만원            ④ 6,000만원            ⑤ 8,000만원

24. 채권질권에 관한 설명으로 옳지 않은 것은? (다툼이 있으면 판례에 따름)

- ① 질권의 목적인 채권의 양도행위에는 질권자의 동의가 필요하다.
- ② 채권의 목적물이 금전인 때에는 질권자는 자기 채권의 한도에서 직접 청구할 수 있다.
- ③ 채권질권의 효력은 질권의 목적이 된 채권의 지연손해금 등과 같은 부채채권에도 미친다.
- ④ 저당권으로 담보한 채권을 질권의 목적으로 한 때에는 그 저당권등기에 질권의 부기 등기를 하여야 그 효력이 저당권에 미친다.
- ⑤ 제3채무자가 질권설정 사실을 승낙한 후 질권설정계약이 합의해지된 경우, 질권설정자가 해지를 이유로 제3채무자에게 원래의 채권으로 대항하려면 질권자가 제3채무자에게 해지 사실을 통지하여야 한다.

25. 甲은 乙에 대한 대여금채무 6억원을 담보하기 위하여 자기 소유 X토지에 乙명의의 저당권을 설정 해주었다. 甲의 부탁으로 위 채무를 담보하기 위하여 丙은 乙과 보증 계약을 체결하였고, 丁과 戊는 각각 자기 소유 Y토지와 Z토지에 乙명의의 저당권을 설정해주었다. 이에 관한 설명으로 옳지 않은 것은? (단, 이자 및 지연배상금은 고려하지 않고, 다툼이 있으면 판례에 따름)

- ① 丁이 甲의 대여금채무를 모두 변제한 경우, 丁은 甲에 대하여 구상권을 행사할 수 있다.
- ② 丁이 甲의 대여금채무를 모두 변제한 경우, 丁은 乙을 대위하여 丙을 상대로 2억원의 지급을 청구할 수 있다.
- ③ 戊는 甲의 대여금채무를 변제할 정당한 이익이 있는 자이므로, 戊가 그 채무를 모두 변제하였다면 乙의 승낙이 없어도 당연히 乙을 대위한다.
- ④ 丙이 甲의 대여금채무를 모두 변제한 경우, 미리 저당권등기에 대위의 부기등기를 하지 않더라도 丁에 대하여 乙을 대위할 수 있다.
- ⑤ A가 甲과의 매매계약을 원인으로 X토지의 소유권이전등기를 마친 후 甲의 대여금 채무를 모두 변제한 경우, A는 丙에 대하여 乙을 대위할 수 있다.

## 26. 보증계약에 관한 설명으로 옳지 않은 것은?

- ① 보증인은 보증채무에 대하여 위약금 또는 손해배상액을 예정할 수 있다.
- ② 채무자가 보증인을 세울 의무가 있는 경우, 채권자가 보증인을 지명하였다면 보증인은 행위능력 및 변제자력이 없어도 된다.
- ③ 주채무자의 의사에 반하여 보증인이 된 자가 과실 없이 변제 기타 자기의 출재로 주채무를 소멸시킨 경우, 주채무자는 현존 이익의 한도에서 배상하여야 한다.
- ④ 채권자가 연대보증인에게 채무이행을 청구한 경우, 연대보증인은 채무자의 변제자력이 있는 사실 및 그 집행이 용이할 것을 증명하여 먼저 채무자에게 청구할 것과 그 재산에 대하여 집행할 것을 항변할 수 있다.
- ⑤ 주채무자의 부탁으로 보증인이 된 자가 과실 없이 변제 기타의 출재로 주채무를 소멸시킨 경우, 보증인은 주채무자를 상대로 면책된 날 이후의 법정이자에 관하여 구상청구를 할 수 있다.

## 27. 채무불이행으로 인한 손해배상책임에 관한 설명으로 옳지 않은 것은? (다툼이 있으면 판례에 따름)

- ① 손해배상 방법으로서 금전배상의 경우, 금전은 우리나라 통화를 의미하지만, 당사자의 약정이 있으면 외국통화로 배상할 수 있다.
- ② 채무불이행으로 인한 손해배상책임과 달리 매매계약의 해제로 인한 원상회복의무의 이행으로서 이미 지급한 매매대금 기타 급부의 반환을 구하는 경우에는 과실상계의 법리가 적용되지 않는다.
- ③ 지체상금이 손해배상의 예정으로 인정되어 감액할 때, 채무자가 계약을 위반한 경위 등 제반사정이 참작되므로, 손해배상액의 감경에 앞서 채권자의 과실 등을 들어 따로 감경할 필요는 없다.
- ④ 특별손해의 배상에서 채무자가 그 사정을 알았거나 알 수 있었는지의 여부는 채무의 이행기가 아니라 계약체결 당시를 기준으로 판단하여야 한다.
- ⑤ 매도인이 매수인으로부터 부동산 매매대금을 약정기일에 지급받지 못한 결과 제3자로부터 이와 유사한 부동산을 매수하고 그 잔대금을 지급하지 못하여 계약금이 몰수되는 손해를 입었다면, 이는 특별한 사정으로 인한 손해에 해당한다.

28. 甲이 乙에 대한 대여금채권을 丙에게 양도하였고 乙이 이를 승낙하여 그 의사표시가 丙에게 도달되었다. 이에 관한 설명으로 옳지 않은 것은? (다툼이 있으면 판례에 따름)

- ① 乙의 승낙에는 조건을 붙일 수 있다.
- ② 乙이 이의 없이 승낙을 하더라도 특별한 사정이 없는 한 乙에게는 甲의 대여금채권의 성립이나 소멸에 영향을 미치는 사정을 丙에게 알려야 할 주의의무가 없다.
- ③ 丙이 甲의 대여금채권에 양도금지특약이 있다는 사실을 알았더라도 그 후 乙이 승낙하였다면, 채권양도는 다른 약정이 없는 한 그 성립 당시로 소급하여 유효하게 된다.
- ④ 乙이 이의 없이 승낙을 하였더라도 그 때까지 발생한 乙의 甲에 대한 항변사유를 丙이 중대한 과실로 알지 못하였다면, 乙은 甲에 대한 그 항변사유로 丙에게 대항할 수 있다.
- ⑤ 甲의 대여금채권에 관하여 보증인 丁이 있는 경우, 다른 약정이 없는 한 丁에 대한 보증채권의 양도에 관하여 별도의 대항요건을 갖추지 않더라도 甲의 대여금채권과 함께 丁에 대한 보증채권 역시 丙에게 이전된다.

29. 甲이 乙에 대한 A채권을 보전하기 위하여 丙을 상대로 채권자대위소송을 제기하는 경우, A채권에 관한 설명으로 옳지 않은 것은? (다툼이 있으면 판례에 따름)

- ① A채권의 존재뿐만 아니라 그 발생원인도 甲이 증명할 책임이 있다.
- ② A채권은 丙에게 대항할 수 있는 권리가 아니어도 된다.
- ③ 토지거래허가신청절차의 협력의무이행청구권도 A채권이 될 수 있다.
- ④ 丙은 특별한 사정이 없는 한 甲에 대하여 A채권의 소멸시효가 완성되었음을 항변할 수 없다.
- ⑤ 丙은 甲에 대하여 A채권의 발생원인이 된 법률행위가 무효라는 사실을 주장하여 A 채권의 인정 여부를 다툴 수 있다.



30. 乙이 유일하게 소유하고 있는 X토지를 丙에게 매도한 후 소유권이전등기를 마쳐주었고, 甲은 乙에 대한 대여금채권을 보전하기 위하여 丙을 상대로 채권자취소소송을 제기하여 승소하였다. 이에 관한 설명으로 옳은 것을 모두 고른 것은? (다툼이 있으면 판례에 따름)

- ㄱ. 채권자취소소송의 확정판결에 따라 丙 명의의 소유권이전등기가 말소되면 乙은 소유권이전등기명의를 회복으로 X토지의 소유권을 취득한다.
- ㄴ. 甲의 대여금채권이 乙과 丙 사이의 매매계약 전에 성립되었다면 그 액수나 범위가 구체적으로 확정되지 않아도 피보전채권이 된다.
- ㄷ. 甲이 사해행위의 취소만을 먼저 구한 다음 원상회복을 나중에 청구하는 경우, 사해행위취소청구가 채권자취소권의 행사기간 내에 제기되었다면 원상회복청구는 그 기간이 지난 뒤에도 할 수 있다.
- ㄹ. 채권자취소소송의 확정판결에 따라 丙 명의의 소유권이전등기가 말소된 후, 乙이 회복된 소유권이전등기명의를 기화로 丁에게 X토지를 매도 하고 소유권이전등기를 마쳐준 경우, 사해행위취소와 원상회복의 효력을 받는 乙의 다른 일반채권자 戊는 丁을 상대로 소유권이전등기말소를 청구할 수 없다.

- ① ㄱ, ㄷ                    ② ㄴ, ㄷ                    ③ ㄷ, ㄹ                    ④ ㄱ, ㄴ, ㄹ                    ⑤ ㄴ, ㄷ, ㄹ

31. 이행불능에 관한 설명으로 옳지 않은 것은? (다툼이 있으면 판례에 따름)

- ① 증여계약의 대상인 권리가 타인에게 귀속되어 있다는 이유만으로 증여자의 계약에 따른 이행이 불능이라고 할 수는 없다.
- ② 매매목적물인 부동산이 가압류되었다는 사유만으로 매도인의 이행불능을 이유로 매매계약을 해제할 수는 없다.
- ③ 부동산의 소유권이 전등기의무자가 그 부동산에 제3자 명의로 가등기를 마쳐주면, 부동산의 처분 권한 상실로 소유권이전등기 의무가 이행불능이 된다.
- ④ 매수인의 잔대금지급의무가 소유권이전등기의무와 동시이행관계에 있더라도, 소유권이전등기 의무의 이행불능을 이유로 매수인이 매매계약을 해제하기 위해서는 매수인이 대금지급의무의 이행제공을 할 필요가 없다.
- ⑤ 임대인에게 임대목적물에 대한 소유권이 없는 경우, 임차인이 진실한 소유자로부터 목적물의 반환청구를 받는 등의 이유로 임차인이 이를 사용·수익할 수가 없게 되면 임대인의 채무는 이행불능이 된다.

**32. 채무인수에 관한 설명으로 옳지 않은 것은? (다툼이 있으면 판례에 따름)**

- ① 중첩적 채무인수는 채권자와 인수인 사이의 합의가 있으면 채무자의 의사에 반해서도 할 수 있다.
- ② 면책적 채무인수가 있는 경우, 인수채무의 소멸시효기간은 채무인수에 따라 중단되고 채무인수일로부터 새로이 진행한다.
- ③ 채권자의 승낙에 의하여 채무인수의 효력이 생기는 경우, 채권자가 승낙을 거절하면 그 이후에는 채권자가 다시 승낙하여도 채무인수로서의 효력이 생기지 않는다.
- ④ 면책적 채무인수에 대한 채권자의 승낙은 묵시적으로도 가능하며, 채권자가 승낙을 하지 않는 대신 직접 인수인을 상대로 인수채무의 이행을 청구하는 것도 묵시적 승낙에 해당한다.
- ⑤ 매수인이 매매목적물에 관한 임대차보증금반환채무를 인수하면서 그 채무액을 매매 대금에서 공제하기로 약정한 경우, 임차인의 승낙이 없으면 병존적 채무인수로 본다.

**33. 해약금 규정(민법 제565조)에 의하여 계약을 해제하는 경우에 관한 설명으로 옳지 않은 것은? (다툼이 있으면 판례에 따름)**

- ① 계약금의 일부만 지급된 경우, 수령자는 실제 지급된 계약금이 아니라 약정계약금의 배액을 상환하고 계약을 해제할 수 있다.
- ② 계약당사자 일방이 채무의 이행기 전에 이미 채무의 이행에 착수하였다면 특별한 사정이 없는 한 계약당사자는 해제권을 행사할 수 없다.
- ③ 계약당사자가 계약금에 기한 해제권을 배제하기로 하는 약정을 하였다면, 각 당사자는 해제권을 행사할 수 없다.
- ④ 계약금을 수령한 매도인이 매수인에 대하여 해제권을 행사하기 위해서는 수령한 계약금의 배액의 이행제공을 하여야 하며 매수인이 수령을 거부하는 경우, 이를 공탁하여야 한다.
- ⑤ 토지거래허가구역 내의 토지에 관한 매매계약의 당사자가 토지거래허가신청절차의 협력의무를 이행하여 관할관청으로부터 거래 허가를 받았더라도, 그러한 사정만으로는 아직 이행의 착수가 있다고 볼 수 없다.

34. 甲은 2018. 9. 10. 乙에게 자신이 사용하던 X컴퓨터를 50만원에 매각하겠다는 의사표시와 2018. 9. 25.까지 구매여부를 알려 달라는 내용의 편지를 발송하였고, 그 편지는 2018. 9. 13. 乙에게 도달하였다. 이에 乙이 2018. 9. 17. X컴퓨터를 50만원에 매수하겠다는 승낙의 편지를 甲에게 발송하였다. 이에 관한 설명으로 옳은 것은?

- ① 甲은 乙이 발송한 편지를 2018. 9. 19. 받았는데, 甲이 2018. 9. 24. 개봉하여 읽었다면 매매계약은 2018. 9. 24. 성립한다.
- ② 乙이 승낙의 의사표시를 하였으므로, 乙이 발송한 편지를 甲이 2018. 9. 25. 까지 받지 못하였더라도 매매계약은 성립한다.
- ③ 甲은 乙이 발송한 편지를 2018. 9. 20. 받았다면, 매매계약은 그 때부터 성립하고 효력이 발생한다.
- ④ 乙이 발송한 편지가 2018. 9. 26. 甲에게 도달하였고 甲이 2018. 9. 27. 연락의 통지를 한 경우, 매매계약은 성립하지 않는다.
- ⑤ 乙이 2018. 9. 17. 매수하겠다는 편지를 발송하기 전까지 특별한 사정이 없는 한 甲은 乙에 대하여 매각의 의사표시를 철회할 수 있다.

35. 동시이행의 항변권에 관한 설명으로 옳은 것은? (다툼이 있으면 판례에 따름)

- ① 근저당권 실행을 위한 경매가 무효로 된 경우, 매수인의 채무자에 대한 소유권이전등기말소의 무와 근저당권자의 매수인에 대한 배당금반환의무는 동시이행관계에 있다.
- ② 동시이행관계에 있는 쌍방의 채무 중 어느 한 채무가 이행불능이 됨으로 인하여 발생한 손해배상 채무는 다른 채무와 동시이행관계에 있지 않다.
- ③ 가압류등기가 있는 부동산 매매계약의 경우, 특별한 사정이 없는 한 매도인의 가압류 등기의 말소 의무는 매수인의 대금지급의무와 동시이행관계에 있지 않다.
- ④ 쌍방의 채무가 동시이행관계에 있는 경우, 상대방 채무의 이행제공이 없더라도 채무자가 이행기에 채무를 이행하지 않으면 이행지체의 책임을 진다.
- ⑤ 부동산 매매계약에서 매수인이 부가가치세를 부담하기로 약정한 경우, 특별한 사정이 없는 한 부가가치세를 포함한 매매대금 전부와 부동산 소유권이전등기의무가 동시이행 관계에 있다.

36. 계약의 합의해제 등에 관한 설명으로 옳지 않은 것은? (다툼이 있으면 판례에 따름)

- ① 계약이 합의해제된 경우, 특별한 사정이 없는 한 채무불이행으로 인한 손해배상청구는 할 수 없다.
- ② 매도인이 매수인에게 매매계약의 합의해제를 청약하였더라도 매수인이 그 청약에 대하여 조건을 붙여 승낙한 경우, 매도인의 청약은 실효된다.
- ③ 계약이 일부이행된 경우, 그 원상회복에 관하여 의사가 일치되지 않아도 계약의 목시적 합의해제가 인정될 수 있다.
- ④ 매매계약을 합의해제한 후 그 합의해제를 무효화시키고, 해제된 매매계약을 부활시키는 약정은 적어도 당사자 사이에서는 가능하다.
- ⑤ 당사자 사이에 약정이 없는 이상 합의해제로 인하여 반환할 금전에 그 받은 날로부터 이자를 붙여서 반환할 의무는 없다.

37. 乙은 건물의 소유를 목적으로 甲 소유의 X토지를 임차한 후, 甲의 동의 없이 이를 丙에게 전대하였다. 이에 관한 설명으로 옳은 것은? (다툼이 있으면 판례에 따름)

- ① 甲은 丙에게 X토지의 반환을 청구할 수 없다.
- ② 甲은 乙에 대한 임대차계약상의 차임청구권을 상실한다.
- ③ 甲과 乙 사이의 임대차계약은 무단전대를 이유로 甲의 해지의 의사표시가 없더라도 해지의 효력이 발생한다.
- ④ 임대차 및 전대차기간 만료시에 丙이 신축한 건물이 X토지에 현존하고 甲이 임대차계약의 갱신을 거절한 경우, 丙은 甲에게 건물매수를 청구할 수 없다.
- ⑤ 甲과 乙 사이의 임대차계약이 존속하더라도 甲은 X토지의 불법점유를 이유로 丙에게 차임상당의 부당이득반환을 청구할 수 있다.

38. 사무관리에 관한 설명으로 옳은 것을 모두 고른 것은? (다툼이 있으면 판례에 따름)

- ㄱ. 관리자가 사무관리를 함에 있어서 과실 없이 손해를 받은 경우, 본인에게 그 손해 전부의 보상을 청구할 수 있다.
- ㄴ. 관리자는 본인의 청구가 있는 때에 사무처리의 상황을 보고하여야 하며, 사무처리가 종료된 때에는 지체 없이 그 전말을 보고하여야 한다.
- ㄷ. 타인을 위하여 사무를 처리하는 의사는 관리자 자신의 이익을 위한 의사와 병존할 수 있고, 반드시 외부적으로 표시될 필요가 없으며, 사무를 관리할 당시에 확정되어 있을 필요도 없다.
- ㄹ. 제3자와의 약정에 따라 타인의 사무를 처리한 경우에도 그 타인과의 관계에서는 의무 없이 타인의 사무를 처리한 것이므로, 그 타인과의 관계에서 원칙적으로 사무관리가 성립한다.

- ① ㄱ, ㄴ                    ② ㄴ, ㄷ                    ③ ㄷ, ㄹ                    ④ ㄱ, ㄴ, ㄹ                    ⑤ ㄱ, ㄷ, ㄹ

39. 민법상 조합에 관한 설명으로 옳은 것은?

- ① 조합원은 정당한 사유가 있는 경우에 한하여 조합의 업무 및 재산상태를 검사할 수 있다.
- ② 조합의 존속기간을 정한 때에도 조합원은 부득이한 사유가 있으면 탈퇴할 수 있다.
- ③ 조합원의 제명은 정당한 사유가 있는 때에 한하여 다른 조합원 3분의 2 이상의 찬성으로 결정된다.
- ④ 조합의 채무자는 그 채무와 조합원에 대하여 개인적으로 가지는 채권과 상계할 수 있다.
- ⑤ 조합원의 제명 결정은 제명된 조합원에게 통지하지 않아도 그 조합원에게 대항할 수 있다.

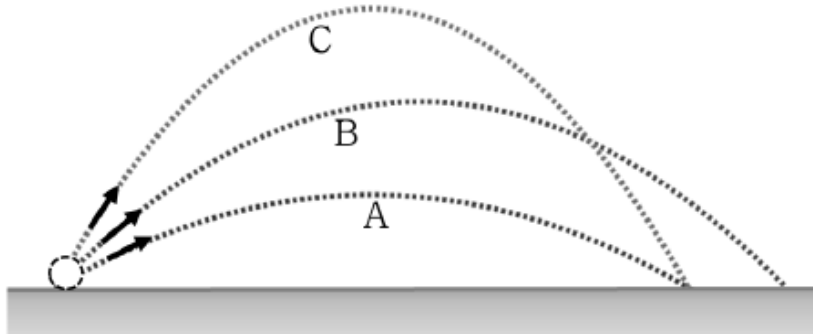
40. 공동불법행위에 관한 설명으로 옳지 않은 것은? (다툼이 있으면 판례에 따름)

- ① 수인이 공동의 불법행위로 타인에게 손해를 가한 때에는 연대하여 그 손해를 배상할 책임이 있다.
- ② 공동불법행위가 성립하기 위해서는 행위자 사이에 의사의 공통이나 행위공동의 인식은 필요하지 않다.
- ③ 공동불법행위자 중 1인의 변제는 변제된 금액의 한도 내에서 다른 공동불법행위자를 위하여 공동 면책의 효력이 있다.
- ④ 가해자불명의 공동불법행위의 경우, 개별 행위자가 자기의 행위와 손해발생 사이에 인과관계가 없음을 증명하면 불법행위책임을 면한다.
- ⑤ 공동불법행위자 중 1인인 甲의 손해배상채무가 시효로 소멸한 후에, 다른 공동불법행위자 乙이 피해자에게 자기의 부담부분을 넘는 손해를 배상하였더라도 乙은 甲에게 구상권을 행사할 수 없다.

03  
2019

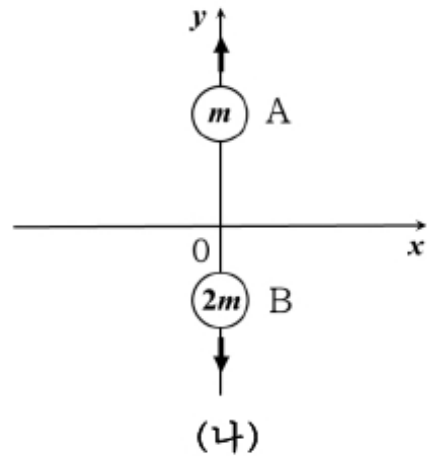
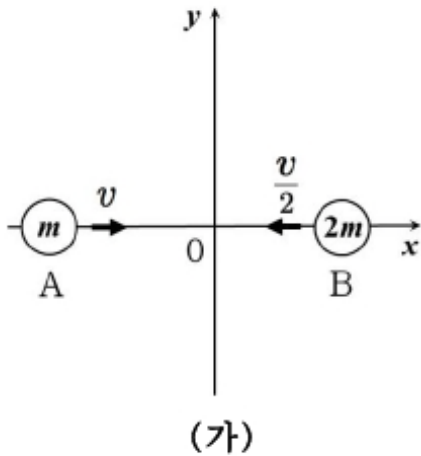
제56회 변리사 1차 국가자격시험  
[3교시] 자연과학개론

1. 그림과 같이 질량이 같은 물체 A, B, C를 수평면과 이루는 각이 각각 30°, 45°, 60°가 되도록 동시에 던졌더니 3개의 물체는 각각 포물선 운동을 하였다. A, B, C의 초기 속력은 모두 같다. 동시에 던져진 A, B, C가 최고점에 도달할 때까지 걸린 시간을  $T_A$ ,  $T_B$ ,  $T_C$  라 할 때, 이 크기를 비교한 것으로 옳은 것은?



- ①  $T_A < T_B < T_C$                       ②  $T_A < T_C < T_B$                       ③  $T_B < T_C < T_A$
- ④  $T_C < T_A < T_B$                       ⑤  $T_C < T_B < T_A$

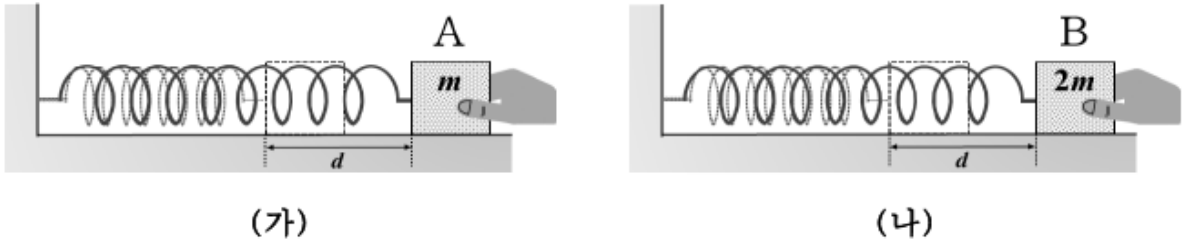
2. 그림 (가)는 마찰이 없는  $xy$  평면에서 질량이 각각  $m$ ,  $2m$  인 물체 A, B가  $x$  축을 따라서 서로 반대 방향으로 등속 운동하는 것을 나타낸 것이다. A, B의 속력은 각각  $v$ ,  $\frac{v}{2}$  이다.  $t = 0$  일 때 A와 B는 원점에서 탄성 충돌한 후, 그림 (나)와 같이  $y$  축을 따라 등속 직선 운동한다.



$t = t_1$  일 때, A와 B 사이의 거리는? (단, 물체의 크기는 무시한다.)

- ①  $vt_1$                       ②  $\sqrt{2}vt_1$                       ③  $\frac{3}{2}vt_1$                       ④  $\frac{\sqrt{10}}{2}vt_1$                       ⑤  $3vt_1$

3. 그림 (가)와 (나)는 수평면에서 한쪽 끝이 고정된 두 개의 용수철에 각각 질량이  $m$ ,  $2m$  인 물체 A, B를 평행 위치에서 같은 길이  $d$  만큼 늘어난 곳에서 잡고 있는 모습을 나타낸 것이다. 두 용수철의 용수철 상수는 같고, 물체를 가만히 놓았을 때 A와 B는 단진동을 한다.



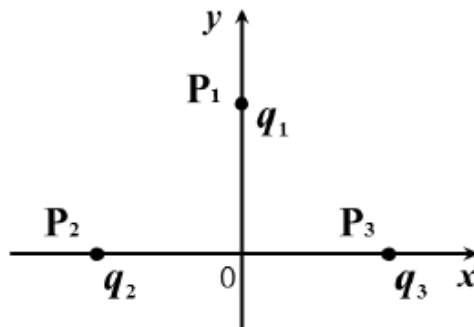
〈 보 기 〉

ㄱ. 주기 ㄴ. 진폭 ㄷ. 운동 에너지 최댓값
---------------------------------

(가)와 (나)의 단진동에서 값이 같은 물리량만을 <보기>에서 있는 대로 고른 것은?

- ① ㄱ                      ② ㄴ                      ③ ㄱ, ㄷ                      ④ ㄴ, ㄷ                      ⑤ ㄱ, ㄴ, ㄷ

4. 그림과 같이 전하량이  $q_1, q_2, q_3$  인 점전하가  $xy$  평면상의 세 점  $P_1, P_2, P_3$ 에 고정되어 있다. 원점에서 세 점전하에 의한 전기장의 방향은  $+y$  방향이다.  $P_1, P_2, P_3$ 의 좌표는  $(0, d), (-d, 0), (d, 0)$  이고  $q_3$ 은 양(+전하)이다.



이에 관한 설명으로 옳은 것만을 <보기>에서 있는 대로 고른 것은?

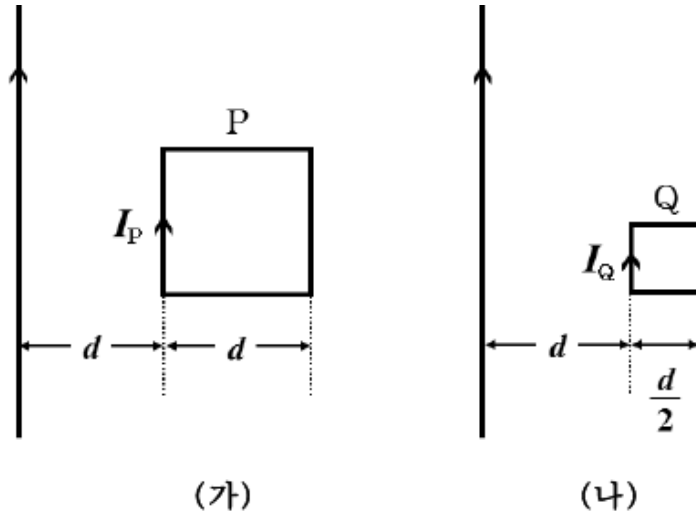
〈 보 기 〉

ㄱ. $q_1$ 은 양(+전하)이다. ㄴ. $q_2$ 는 양(+전하)이다. ㄷ. 전하량은 $q_2$ 와 $q_3$ 이 같다.
---

- ① ㄱ                      ② ㄴ                      ③ ㄱ, ㄴ                      ④ ㄱ, ㄷ                      ⑤ ㄴ, ㄷ



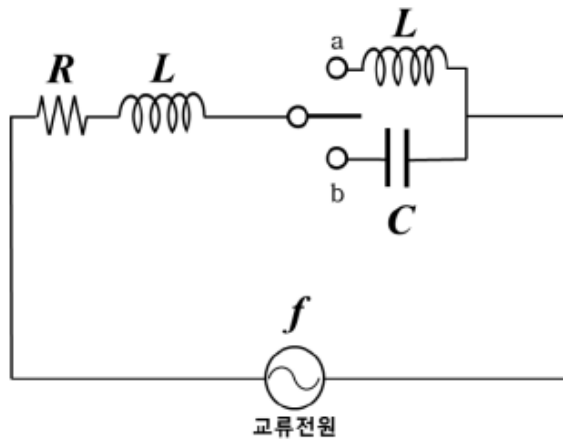
5. 그림 (가), (나)와 같이 정사각형 도선 P, Q가 각각 무한 직선도선과 동일 평면에 고정되어 있고, P와 Q의 한 변은 각각 무한 직선도선과 평행하다. (가)와 (나)에서 무한 직선도선에 흐르는 전류는 일정한 세기로 같고, P, Q에 흐르는 전류의 세기는 각각  $I_P$ ,  $I_Q$  이다.



P와 Q에 작용하는 직선도선에 의한 자기력의 크기가 같을 때,  $\frac{I_P}{I_Q}$  는? (단, 도선의 굵기는 무시한다.)

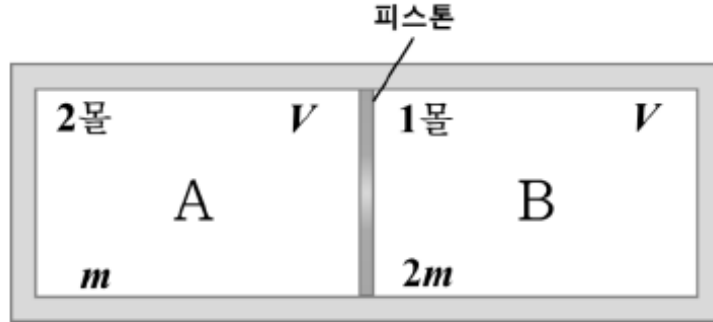
- ①  $\frac{1}{3}$
- ②  $\frac{2}{3}$
- ③ 1
- ④  $\frac{3}{2}$
- ⑤ 3

6. 그림과 같이 진동수가  $f$  이고 전압의 최댓값이 일정한 교류 전원, 저항값이  $R$  인 저항, 자체유도 계수가  $L$  인 코일, 전기 용량이  $C$  인 축전기, 스위치로 회로를 구성하였다. 스위치를 a에 연결하였을 때와 b에 연결하였을 때 저항에서 소모되는 평균 전력은 같다.  $f$  는?



- ①  $\frac{1}{2\pi} \frac{1}{\sqrt{3LC}}$
- ②  $\frac{1}{2\pi} \frac{1}{\sqrt{2LC}}$
- ③  $\frac{1}{2\pi} \frac{1}{\sqrt{LC}}$
- ④  $\frac{1}{2\pi} \frac{2}{\sqrt{3LC}}$
- ⑤  $\frac{1}{2\pi} \frac{2}{\sqrt{LC}}$

7. 그림과 같이 단열된 피스톤으로 나누어진 단열된 실린더의 두 부분 A, B에 각각 2몰, 1몰의 단원자 분자 이상 기체가 들어있다. 마찰이 없는 피스톤은 평형 상태로 정지해 있다. A와 B의 부피는  $V$  로 같고, A와 B에 들어있는 이상 기체 분자 한 개의 질량은 각각  $m$ ,  $2m$  이다.

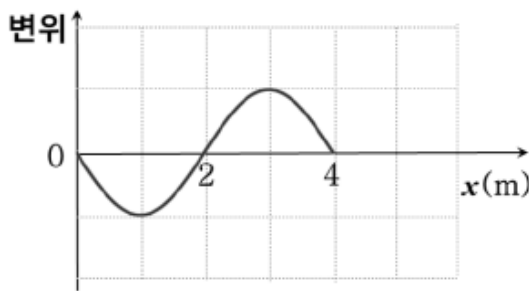


A와 B에서 값이 같은 물리량만을 <보기>에서 있는 대로 고른 것은?

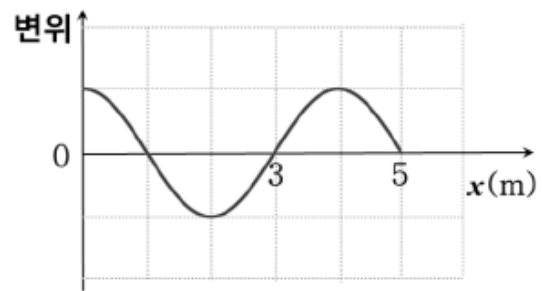
- < 보 기 > —
- ㄱ. 기체의 압력
  - ㄴ. 기체의 온도
  - ㄷ. 기체 분자 한 개의 제곱평균제곱근 속도 (root-mean-square speed)

- ① ㄱ                      ② ㄴ                      ③ ㄱ, ㄴ                      ④ ㄱ, ㄷ                      ⑤ ㄴ, ㄷ

8. 그림 (가)는  $+x$  방향으로 일정한 속력으로 진행하는 파인과 A의  $t = 0$  일 때의 모습을 나타낸 것이고, (나)는  $t = \frac{1}{8}$  초일 때 (가)에서 A가  $+x$  방향으로 진행한 모습을 나타낸 것이다.



(가)

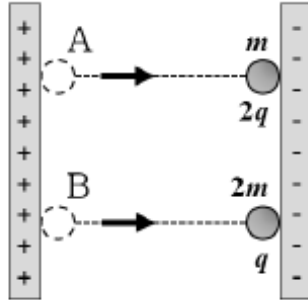


(나)

파동 A의 진동수(Hz)는?

- ① 1                      ② 2                      ③ 3                      ④ 4                      ⑤ 5

9. 그림과 같이 물체 A, B가 각각 다른 시간에 양극판에서 수직으로 출발해 음극판을 향해 등가속도 직선 운동을 하여 동시에 음극판에 도달하였다. 두 극판은 평행하고 두 극판 사이의 전기장은 일정하다. A, B의 질량은 각각  $m$ ,  $2m$  이고 전하량은 각각  $2q$ ,  $q$  이다.

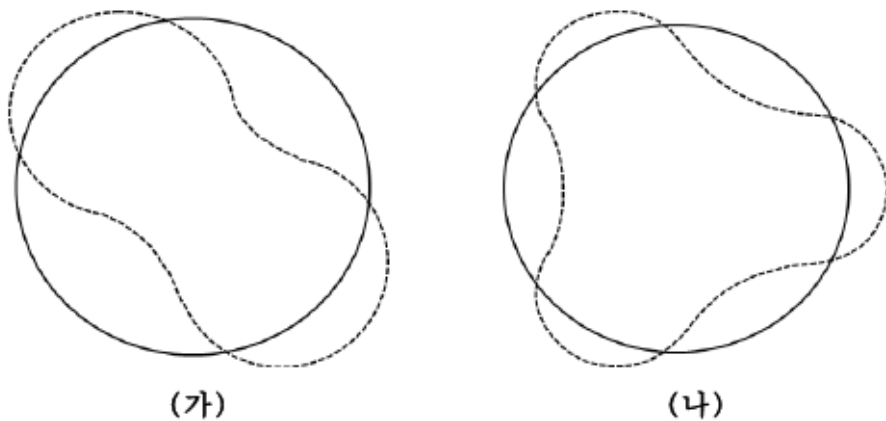


A와 B가 음극판에 도달한 순간, 이에 관한 설명으로 옳은 것만을 <보기>에서 있는 대로 고른 것은? (단, 물체의 크기와 상대론적 효과는 무시한다.)

- < 보 기 > —
- ㄱ. 양극판에서 음극판까지 이동하는데 걸린 시간은 B가 A보다 길다.
  - ㄴ. A의 운동에너지는 B의 운동에너지보다 크다.
  - ㄷ. 드브로이 파의 파장은 A와 B가 같다.

- ① ㄱ      ② ㄷ      ③ ㄱ, ㄴ      ④ ㄴ, ㄷ      ⑤ ㄱ, ㄴ, ㄷ

10. 그림 (가)와 (나)는 보어(Bohr)의 수소 원자 모형에서 전자의 원운동 궤도와 물질파 파형을 각각 실선과 점선을 이용하여 모식적으로 나타낸 것이다. 전자의 주양자수  $n (= 1, 2, 3, \dots)$  에 따른 에너지 준위는  $E_n = -\frac{|E_1|}{n^2}$  이다.



전자가 (나)의 상태에서 (가)의 상태로 전이할 때 방출되는 광자의 에너지는?

- ①  $\frac{5}{36}|E_1|$       ②  $\frac{3}{16}|E_1|$       ③  $\frac{3}{4}|E_1|$       ④  $\frac{8}{9}|E_1|$       ⑤  $\frac{15}{16}|E_1|$

11. 포타슘의 동위원소  $^{39}_{19}\text{K}$  에 관한 설명으로 옳지 않은 것은?

- ① 원자 번호는 19이다.
- ② 질량수는 39이다.
- ③ 원자 당 양성자의 개수는 19이다.
- ④ 원자 당 중성자의 개수는 20이다.
- ⑤ 중성 원자에서 원자 당 전자의 개수는 20이다.

12. 분자식이  $\text{C}_5\text{H}_{12}\text{O}$  인 에테르(ether)의 구조 이성질체 개수는?

- ① 3                      ② 4                      ③ 5                      ④ 6                      ⑤ 7

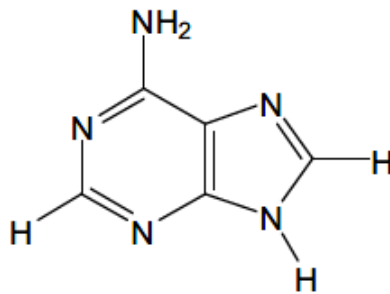
13. 다음은 25°C에서 산소에 대한 자료이다.

○  $\text{O}_2(\text{g})$ 의 결합 엔탈피 : 498kJ/mol  
 ○  $\text{O}_2(\text{g}) + \text{O}(\text{g}) \rightarrow \text{O}_3(\text{g}) \quad H^\circ = -106 \text{ kJ}$

이 자료로부터 구한 25°C에서의  $\text{O}_3(\text{g})$ 의 표준 생성 엔탈피( $\Delta H_f^\circ$ , kJ/mol)는?

- ① 90                      ② 102                      ③ 143                      ④ 286                      ⑤ 392

14. 그림은 아데닌( $\text{C}_5\text{H}_5\text{N}_5$ )의 구조식이다.



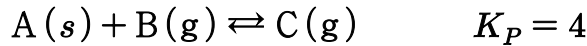
아데닌 한 분자에 관한 설명으로 옳은 것만을 <보기>에서 있는 대로 고른 것은?

————— < 보 기 > —————

ㄱ. 고립(비공유) 전자쌍은 5개이다.  
 ㄴ. 시그마( $\sigma$ ) 결합은 12개이다.  
 ㄷ.  $sp^2$  혼성 궤도함수를 결합에 사용하는 탄소 원자는 5개이다.

- ① ㄱ                      ② ㄴ                      ③ ㄱ, ㄷ                      ④ ㄴ, ㄷ                      ⑤ ㄱ, ㄴ, ㄷ

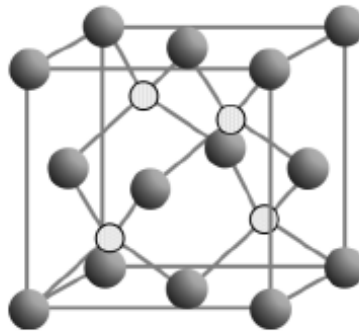
15. 다음은 A와 B가 반응하여 C를 생성하는 반응의 화학 반응식과 온도  $T$  에서 압력으로 정의되는 평형 상수( $K_P$ )이다.



진공 용기에  $A(s)$  1몰과  $B(g)$  1몰을 넣어 반응시켜 도달한 평형 상태에서 용기 속 기체의 온도는  $T$  이고 압력은 5기압이다. 평형 상태에서 용기 속  $A(s)$  의 몰수는? (단, 기체는 이상 기체로 거동하고,  $A(s)$  의 증기 압력은 무시한다.)

- ① 0.2                      ② 0.3                      ③ 0.4                      ④ 0.5                      ⑤ 0.6

16. 그림은 M과 X의 이온으로 이루어진 이온 화합물의 결정 구조이다. 그림에서 ○는 M의 양이온을, ●는 X의 음이온을 나타낸다.



이에 관한 설명으로 옳은 것만을 <보기>에서 있는 대로 고른 것은? (단, M, X는 임의의 원소 기호이다.)

< 보 기 >

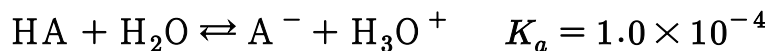
ㄱ. 화학식은  $M_2X_7$  이다.

ㄴ. 양이온의 배위수는 4이다.

ㄷ. 음이온은 면심 입방체의 격자점을 차지하고 있다.

- ① ㄱ                      ② ㄴ                      ③ ㄱ, ㄷ                      ④ ㄴ, ㄷ                      ⑤ ㄱ, ㄴ, ㄷ

17. 다음은 약산 HA 의 해리 반응식과 25°C에서의 산 해리 상수이다.



25°C에서 0.1M HA 와 0.05M NaA 를 포함하는 수용액의 pH 는? (단,  $\log 2 = 0.3$  이다.)

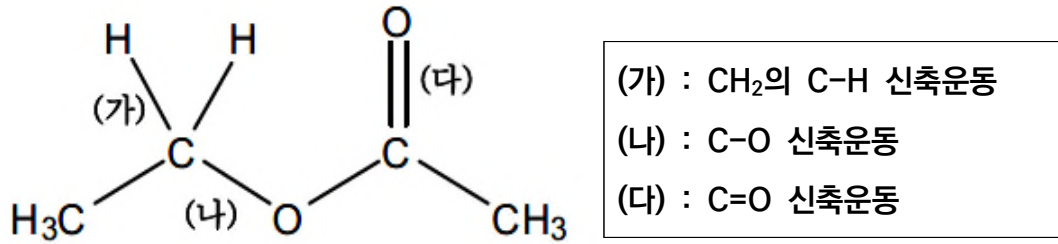
- ① 2.3                      ② 3.7                      ③ 4.0                      ④ 4.3                      ⑤ 5.0

18. 다음은 25°C에서 구리와 관련된 반응의 표준 환원 전위 ( $E^\circ$ )이다.  $x$  는?

<input type="radio"/>	$\text{Cu}^{2+}(\text{aq}) + e^- \rightarrow \text{Cu}^+(\text{aq})$	$E^\circ = 0.16 \text{ V}$
<input type="radio"/>	$\text{Cu}^+(\text{aq}) + e^- \rightarrow \text{Cu}(\text{s})$	$E^\circ = 0.52 \text{ V}$
<input type="radio"/>	$\text{Cu}^{2+}(\text{aq}) + 2e^- \rightarrow \text{Cu}(\text{s})$	$E^\circ = x \text{ V}$

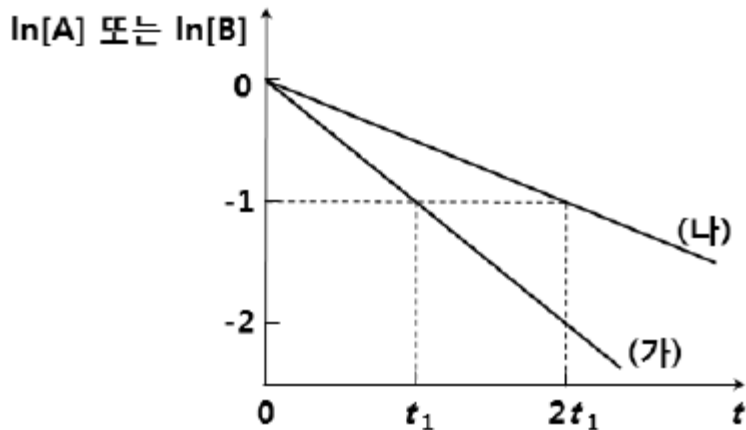
- ① 0.34                      ② 0.42                      ③ 0.60                      ④ 0.68                      ⑤ 1.34

19. 다음 화합물의 적외선 흡수 스펙트럼에서 (가), (나), (다)에 해당하는 봉우리의 파수 (wavenumber)를 비교한 것으로 옳은 것은?



- ① (가) > (나) > (다)                      ② (가) > (다) > (나)                      ③ (나) > (다) > (가)
- ④ (다) > (가) > (나)                      ⑤ (다) > (나) > (가)

20. 그림은 반응 (가)  $\text{A} \rightarrow \text{X}$ 와 반응 (나)  $\text{B} \rightarrow 2\text{Y}$ 의 반응시간  $t$  에 따른  $\ln[\text{A}]$  또는  $\ln[\text{B}]$  를 나타낸 것이다.



이에 관한 설명으로 옳은 것만을 <보기>에서 있는 대로 고른 것은? (단, 온도는 일정하다.)

< 보 기 >	
ㄱ. (가)는 1차 반응이다.	
ㄴ. (가)의 반응 속도 상수는 (나)의 2배이다.	
ㄷ. $t_1$ 일 때 X의 생성 속도는 $2t_1$ 일 때 Y의 생성 속도의 2배이다.	

- ① ㄱ                      ② ㄷ                      ③ ㄱ, ㄴ                      ④ ㄴ, ㄷ                      ⑤ ㄱ, ㄴ, ㄷ

21. 표는 발생이 정상적으로 이루어지는 어느 생물 집단의 1세대와 10세대에서 유전자형에 따른 개체수를 나타낸 것이다.

유전자형	1세대의 개체수	10세대의 개체수
<i>RR</i>	100	400
<i>Rr</i>	600	100
<i>rr</i>	300	500

이에 관한 설명으로 옳은 것만을 <보기>에서 있는 대로 고른 것은?

— < 보 기 > —

ㄱ. 1세대에서 대립유전자 *R*의 빈도는 0.35이다.  
 ㄴ. 10세대에서 대립유전자 *r*의 빈도는 0.55이다.  
 ㄷ. 이 집단은 하디-바인베르크 평형이 유지되었다.

- ① ㄱ                      ② ㄴ                      ③ ㄱ, ㄷ                      ④ ㄴ, ㄷ                      ⑤ ㄱ, ㄴ, ㄷ

22. 표는 세포 A~C의 특징을 나타낸 것이다. A~C는 각각 진정세균, 고세균, 식물세포 중 하나이다.

세포	클로람페니콜(chloramphenicol) 감수성	미토콘드리아
A	없음	있음
B	있음	없음
C	없음	없음

이에 관한 설명으로 옳은 것만을 <보기>에서 있는 대로 고른 것은?

— < 보 기 > —

ㄱ. A의 염색체 DNA에는 히스톤이 결합되어 있다.  
 ㄴ. B의 세포질에는 70S 리보솜이 존재한다.  
 ㄷ. C의 단백질 합성에서 개시 아미노산은 포밀메티오닌(formylmethionine)이다.

- ① ㄱ                      ② ㄷ                      ③ ㄱ, ㄴ                      ④ ㄴ, ㄷ                      ⑤ ㄱ, ㄴ, ㄷ

23. 친부모의 혈액형이 둘 다 A형, 첫째 아이는 O형, 둘째 아이는 A형인 가정이 있다. 이 부모가 셋째 아이를 낳을 경우 그 아이가 O형 여자일 확률은 (단, 유전적 상호 작용이 없는 것으로 가정한다.)

- ①  $\frac{1}{8}$                       ②  $\frac{1}{4}$                       ③  $\frac{3}{8}$                       ④  $\frac{1}{2}$                       ⑤  $\frac{3}{4}$

24. 세포호흡과 광합성에 관한 설명으로 옳은 것만을 <보기>에서 있는 대로 고른 것은?

— < 보 기 > —

ㄱ. 광합성은 ATP를 생성하지 않는다.  
 ㄴ. 광합성의 명반응은 포도당을 합성하지 않는다.  
 ㄷ. 세포호흡에서 산소는 전자전달계의 최종 전자수용체(electron acceptor)로 작용한다.  
 ㄹ. 광합성의 부산물인 산소(O<sub>2</sub>)는 탄소고정 과정에서 이산화탄소(CO<sub>2</sub>)로부터 방출된 것이다.

- ① ㄱ, ㄴ      ② ㄱ, ㄷ      ③ ㄴ, ㄷ      ④ ㄴ, ㄹ      ⑤ ㄷ, ㄹ

25. 신경세포에서 활동전위(action potential)에 관한 설명으로 옳은 것만을 <보기>에서 있는 대로 고른 것은?

— < 보 기 > —

ㄱ. K<sup>+</sup> 이온의 투과도는 휴지상태에 비해 활동전위의 하강기에 더 작다.  
 ㄴ. 활동전위의 상승기에는 Na<sup>+</sup> 이온의 투과도가 K<sup>+</sup> 이온의 투과도보다 크다.  
 ㄷ. 전압개폐성 이온통로(voltage-gated ion channel)의 작용을 막을 경우 활동전위는 생성되지 않는다.

- ① ㄱ      ② ㄴ      ③ ㄱ, ㄷ      ④ ㄴ, ㄷ      ⑤ ㄱ, ㄴ, ㄷ

26. 포유동물의 순환계 및 호흡계와 관련된 설명으로 옳은 것만을 <보기>에서 있는 대로 고른 것은?

— < 보 기 > —

ㄱ. 헤모글로빈은 효율적 산소운반을 돕는다.  
 ㄴ. 폐순환고리(pulmonary circuit)의 경우 동맥보다 정맥의 혈액이 산소포화도가 더 높다.  
 ㄷ. 동맥, 정맥, 모세혈관 중 모세혈관에서 혈압이 가장 낮다.

- ① ㄱ      ② ㄴ      ③ ㄷ      ④ ㄱ, ㄴ      ⑤ ㄱ, ㄴ, ㄷ

27. 어떤 유전자의 엑손(exon)부위에서 한 개의 염기쌍이 다른 염기쌍으로 바뀌는 돌연변이가 일어났다. 이런 종류의 돌연변이 유전자가 번역될 경우 예상할 수 있는 결과가 아닌 것은?

- ① 정상보다 길이가 짧은 폴리펩티드 생성
- ② 단일 아미노산이 치환된 비정상 폴리펩티드 생성
- ③ 아미노산 서열이 정상과 동일한 폴리펩티드 생성
- ④ 정상에 비해 아미노산 서열은 다르지만 기능 차이는 없는 폴리펩티드 생성
- ⑤ 해독틀이동(frameshift)이 일어나서 여러 아미노산 서열이 바뀐 폴리펩티드 생성



28. 생물군계(biome)의 우점 식물에 관한 설명으로 옳은 것만을 <보기>에서 있는 대로 고른 것은?

— < 보 기 > —

ㄱ. 사바나에서는 지의류, 이끼류가 지표종이면서 우점한다.  
 ㄴ. 열대우림에서는 활엽상록수가 우점한다.  
 ㄷ. 온대활엽수림에서는 겨울 전에 잎을 떨어뜨리는 낙엽성 목본들이 우점한다.

- ① ㄱ                      ② ㄴ                      ③ ㄷ                      ④ ㄱ, ㄴ                      ⑤ ㄴ, ㄷ

29. 병원체가 바이러스인 질병이 아닌 것은?

- ① 황열병              ② 광견병              ③ 홍역              ④ 광우병              ⑤ 구제역

30. 생태계의 질소 순환에 관한 설명으로 옳은 것만을 <보기>에서 있는 대로 고른 것은?

— < 보 기 > —

ㄱ. 질소고정(nitrogen fixation) 박테리아는 대기 중의 질소( $N_2$ )를 암모니아 ( $NH_3$ ) 형태로 고정한다.  
 ㄴ. 탈질산화(denitrification) 박테리아는 암모니아( $NH_3$ )를 질산이온( $NO_3^-$ )으로 산화시킨다.  
 ㄷ. 질산화(nitrification) 박테리아는 질산이온( $NO_3^-$ )을 질소( $N_2$ )로 환원시킨다.

- ① ㄱ                      ② ㄷ                      ③ ㄱ, ㄴ                      ④ ㄴ, ㄷ                      ⑤ ㄱ, ㄴ, ㄷ

31. 다음은 화석 A, B, C의 특징을 조사한 것이다.

화석	지리적 분포	화석의 수	화석종의 생존시간
A	넓은 지역	많다	짧다
B	넓은 지역	적다	길다
C	좁은 지역	많다	길다

이들 화석에 대한 추론으로 옳은 것만을 <보기>에서 있는 대로 고른 것은?

— < 보 기 > —

ㄱ. 표준화석으로 가장 적합한 화석은 A이다.  
 ㄴ. 시상화석으로 가장 적합한 화석은 C이다.  
 ㄷ. A는 B보다 더 긴 지질 시대의 지층에 걸쳐 산출된다.

- ① ㄱ                      ② ㄷ                      ③ ㄱ, ㄴ                      ④ ㄴ, ㄷ                      ⑤ ㄱ, ㄴ, ㄷ

32. 민수가 A 지역(34.2°N, 135°E)에서 B 지역(34.2°N, 120°W)으로 여행을 떠나고자 한다. 민수가 A 지역에 위치한 공항에서 비행기를 1월 26일, 00:20 AM 에 탑승하여, 손목시계에 B 지역의 날짜와 시간을 입력하였다. 민수가 손목시계에 입력한 B 지역의 날짜와 시간으로 옳은 것은?
- ① 1월 25일, 00:20 AM            ② 1월 25일, 07:20 AM            ③ 1월 25일, 07:20 PM
  - ④ 1월 26일, 07:20 AM            ⑤ 1월 26일, 07:20 PM

33. 판의 경계부에서 일어나는 지질활동에 관한 설명으로 옳지 않은 것은?
- ① 해양판과 대륙판이 수렴하는 경계에서는 화산호가 발달한다.
  - ② 해양의 발산경계에서는 해양지각이 생성된다.
  - ③ 해양판과 해양판이 수렴하는 경계에서는 호상열도가 발달한다.
  - ④ 대륙판과 대륙판이 수렴하는 경계에서는 화산활동이 활발하다.
  - ⑤ 보존경계에서는 천발 지진이 빈번히 일어난다.

34. 한반도의 중생대와 관련된 설명으로 옳은 것만을 <보기>에서 있는 대로 고른 것은?

— < 보 기 > —

ㄱ. 화강암류의 관입이 일어나지 않았다.

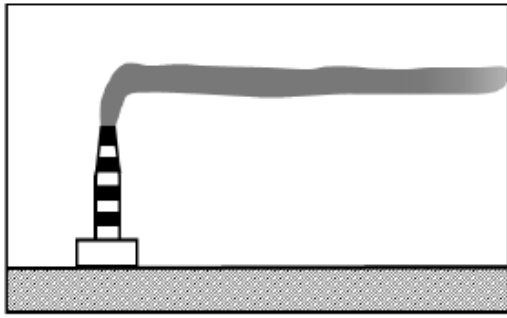
ㄴ. 경상누층군에서는 공룡화석들이 발견된다.

ㄷ. 화산활동은 전 기간에 걸쳐서 거의 일정하게 일어났다.

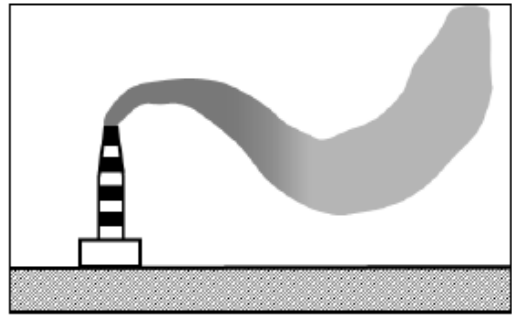
- ① ㄱ                    ② ㄴ                    ③ ㄱ, ㄷ                    ④ ㄴ, ㄷ                    ⑤ ㄱ, ㄴ, ㄷ

35. 어느 퇴적층에서 발견된 식물화석의 <sup>14</sup>C의 양을 조사한 결과, 처음 양의 25%가 남아 있었다. 이 지층의 퇴적 시기는 지금으로부터 약 몇 년 전인가? (단, <sup>14</sup>C → <sup>14</sup>N 반감기는 5,730년이다.)
- ① 2,865년            ② 5,730년            ③ 11,460년            ④ 17,190년            ⑤ 22,920년

36. 그림 (가)와 (나)는 굴뚝에서 연기가 퍼져나가는 모습을 나타낸 것이다.



(가)



(나)

이에 관한 설명으로 옳은 것만을 <보기>에서 있는 대로 고른 것은?

- < 보 기 > —
- ㄱ. 기층이 불안정한 날의 모습은 (가)이다.
  - ㄴ. (나)는 기온감률이 건조단열감률 보다 크다.
  - ㄷ. (나)에서 공기 연직 운동의 열 수송으로 지표면의 기온은 높아진다.

- ① ㄱ                      ② ㄴ                      ③ ㄷ                      ④ ㄱ, ㄴ                      ⑤ ㄴ, ㄷ

37. 다음 내용에 모두 부합하는 태양계의 행성은?

- 가장 밝게 보인다.
- 자전 주기는 243일이다.
- 대기는 주로 이산화탄소로 구성되어 있다.

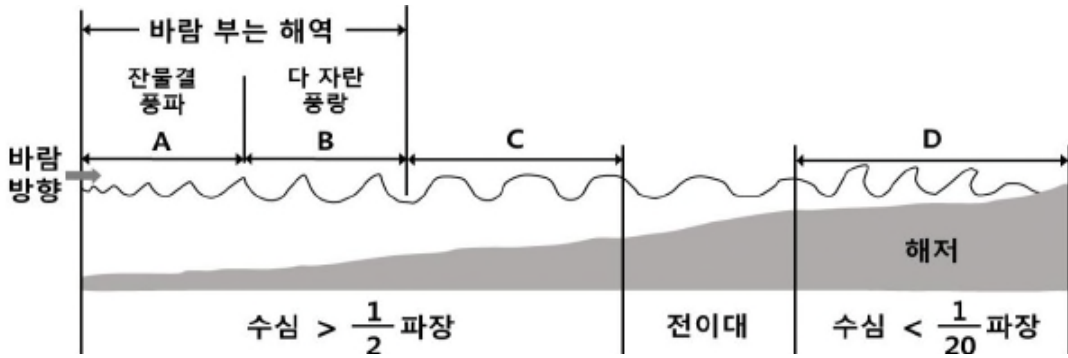
- ① 수성                      ② 금성                      ③ 화성                      ④ 목성                      ⑤ 토성

38. 지구 대기권에 관한 설명으로 옳은 것만을 <보기>에서 있는 대로 고른 것은?

- < 보 기 > —
- ㄱ. 대류권계면은 적도에서 높고, 극에서 낮다.
  - ㄴ. 기상현상은 대류권에서 주로 일어난다.
  - ㄷ. 성층권에서 오존층은 자외선을 흡수하여 가열된다.

- ① ㄱ                      ② ㄴ                      ③ ㄱ, ㄷ                      ④ ㄴ, ㄷ                      ⑤ ㄱ, ㄴ, ㄷ

39. 그림은 바람이 부는 해역에서 풍파가 발생하여 해안으로 진행되는 과정을 나타낸 모식도이다.

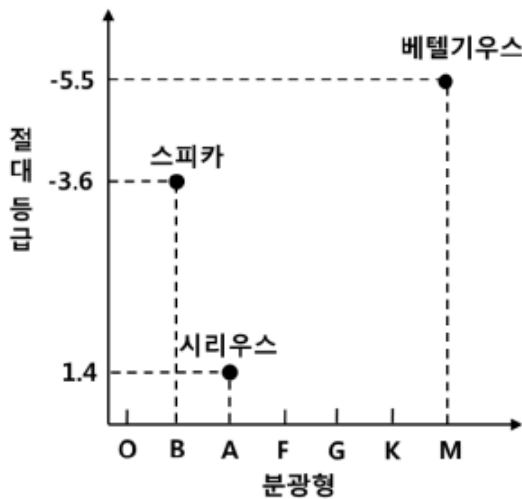


이에 관한 설명으로 옳은 것만을 <보기>에서 있는 대로 고른 것은?

- < 보 기 > —
- ㄱ. A, B의 해파는 심해파에 속한다.
  - ㄴ. B, C에서 해파의 속도는 파장이 길수록 빠르다.
  - ㄷ. D에서 물 입자는 원형의 궤도를 이룬다.

- ① ㄱ      ② ㄷ      ③ ㄱ, ㄴ      ④ ㄱ, ㄷ      ⑤ ㄴ, ㄷ

40. 그림 (가)는 별들의 절대 등급과 분광형을 나타낸 것이고, (나)는 겉보기 등급을 나타낸 것이다.



별	겉보기 등급
스피카	0.4
베텔기우스	0.9
시리우스	-1.4

(가)

(나)

이에 관한 설명으로 옳은 것만을 <보기>에서 있는 대로 고른 것은?

- < 보 기 > —
- ㄱ. 지구로부터 거리가 가장 가까운 별은 시리우스이다.
  - ㄴ. 표면 온도가 가장 낮은 별은 베텔기우스이다.
  - ㄷ. 반지름이 가장 큰 별은 스피카이다.

- ① ㄱ      ② ㄷ      ③ ㄱ, ㄴ      ④ ㄴ, ㄷ      ⑤ ㄱ, ㄴ, ㄷ

# 1

압도적인 합격률!  
변리사 스쿨의 종합반으로  
성공의 첫걸음을 내딛으세요!



변리사스쿨

# 2019년도 제56회 변리사 1차 국가자격시험 최종정답

## 1교시 | 산업재산권법

1	2	3	4	5	6	7	8	9	10
①	⑤	④	①	③	②	①	④	정답없음	④
11	12	13	14	15	16	17	18	19	20
④	②	④	③	⑤	③	③	⑤	②	②
21	22	23	24	25	26	27	28	29	30
③	①	②	④	④	⑤	①	③	⑤	②
31	32	33	34	35	36	37	38	39	40
③	④	⑤	④	②	①	④	①	②	③

## 2교시 | 민법개론

1	2	3	4	5	6	7	8	9	10
⑤	②	②	①	②	①	③	④	①	③
11	12	13	14	15	16	17	18	19	20
③	③	⑤	④	⑤	④	①	②	①	⑤
21	22	23	24	25	26	27	28	29	30
③	①	③	①	⑤	④	④	③	①	②
31	32	33	34	35	36	37	38	39	40
③	⑤	④	④	⑤	③	④	②	②	⑤

## 3교시 | 자연과학개론

1	2	3	4	5	6	7	8	9	10
①	③	④	⑤	①	①	④	②	⑤	①
11	12	13	14	15	16	17	18	19	20
⑤	④	③	③	①	④	②	①	②	③
21	22	23	24	25	26	27	28	29	30
②	③	①	③	④	④	⑤	⑤	④	①
31	32	33	34	35	36	37	38	39	40
③	②	④	②	③	②	②	⑤	③	③

01  
2020

제57회 변리사 1차 국가자격시험  
[1교시] 산업재산권법

**1. 발명의 성립성에 관한 설명으로 옳은 것은? (다툼이 있으면 판례에 따름)**

- ① 출원발명이 자연법칙을 이용한 것인지 여부는 청구항 전체로서 판단하여야 하므로, 청구항에 기재된 발명의 일부에 자연법칙을 이용하고 있는 부분이 있더라도 청구항 전체로서 자연법칙을 이용하고 있지 않다고 판단될 때에는 특허법상의 발명에 해당하지 않는다.
- ② 발명의 각 단계가 컴퓨터의 온라인상에서 처리되는 것이 아니라 오프라인상에서 처리되고, 소프트웨어와 하드웨어가 연계되는 시스템이 구체적으로 실현되고 있지 않더라도 발명의 성립성이 인정될 수 있다.
- ③ 무성생식 식물은 특허등록이 될 수 있으나, 유성생식 식물은 신규성·진보성 등의 특허요건을 충족하더라도 특허등록이 될 수 없다.
- ④ 미생물 관련 발명의 특허출원 시에 제출된 명세서에 당해 미생물의 수탁번호·기탁기관의 명칭 및 기탁연월일을 기재하고 기탁사실 증명 서류를 제출하였다면, 분할출원서에는 이미 제출된 증명서류의 내용과 동일하여 이를 원용하고자 하는 경우에도 그 취지를 명기할 필요가 없다.
- ⑤ 인간의 치료방법에 관한 발명은 특허법상 불특허 규정이 없으므로 신규성·진보성 등의 특허요건이 충족된다면 특허를 받을 수 있다.

**2. 특허권에 관한 설명으로 옳은 것은? (다툼이 있으면 판례에 따름)**

- ① 특허권은 특허권설정등록이 있는 날에 발생하고 출원일로부터 20년이 되는 날까지 존속하며, 특허권 존속기간의 말일이 공휴일(근로자의 날 및 토요일을 포함한다)이면 그 다음 날로 만료한다.
- ② 특허권자는 자신의 특허발명에 관하여 업으로서 실시할 권리를 독점하므로, 다른 특허발명의 권리범위에 속하더라도 실시허락을 얻을 필요 없이 자신의 특허발명을 실시할 수 있다.
- ③ 무권리자의 특허출원 후 정당한 권리자의 특허출원이 있고 무권리자가 특허출원한 때에 정당한 권리자가 특허출원한 것으로 보는 경우, 특허권의 존속기간은 무권리자의 특허출원일부터 기산한다.
- ④ 특허권이 무효심판에 의하여 무효로 되면 그 특허권은 처음부터 없던 것으로 보게 되므로 특허권자가 이미 받은 특허실시료는 특허발명 실시계약이 유효하게 존재하는 기간에 상응하는 부분을 실시권자에게 부당이득으로 반환하여야 한다.
- ⑤ 방법발명에 대한 특허권자 등이 우리나라에서 그 특허방법의 사용에 쓰이는 물건을 적법하게 양도한 경우로서 그 물건이 방법발명을 실질적으로 구현한 것이라면, 양수인 등이 그 물건을 이용하여 방법발명을 실시하는 행위에 대하여 특허권의 효력이 미치지 않는다.



**3. 특허소송에 관한 설명으로 옳은 것은? (다툼이 있으면 판례에 따름)**

- ① 특허등록의 무효를 주장하고자 하는 자는, 특허심판원에 특허무효심판을 청구할 수 있을 뿐만 아니라 특허법원에 특허등록을 무효로 하는 판결을 구할 수도 있다.
- ② 권리범위 확인심판에 따른 심결취소소송은 특허심판원의 심결의 취소를 구하는 것이므로 특허심판원에서 주장하지 아니한 심결취소사유를 특허법원에서 주장하는 것은 허용되지 아니한다.
- ③ 적극적 권리 범위 확인심판에서, 심판청구인이 특정한 확인대상발명과 피심판청구인이 실시하고 있는 발명 사이에 동일성이 인정되지 아니하면, 피심판청구인이 실시하지 않고 있는 발명을 대상으로 한 그와 같은 심판청구는 확인의 이익이 없어 부적법하여 각하되어야 한다.
- ④ 특허무효심판에서 청구기각 심결이 이루어지고 그 심결취소소송에서 원고의 청구가 기각되어 상고심에 계속 중,같은 발명에 대한 다른 사건에서 등록무효심결이 확정되어 그 특허가 처음부터 없던 것으로 보게 되더라도 심결의 취소를 구할 법률상의 이익이 없어졌다고 볼 수 없다.
- ⑤ 특허심판원에 특허취소신청이 있는 경우 이에 대하여는 3명 또는 5명의 심판관으로 구성되는 합의체가 심리·결정하며 그 결정에 대한 소에서는 특허심판원장을 피고로 하여야 한다.

**4. 특허출원에 관한 설명으로 옳은 것은? (다툼이 있으면 판례에 따름)**

- ① 분할출원은 특허출원이 특허청에 계속 중인 경우에 한하여 할 수 있으므로, 거절결정이 있는 때에는 거절결정등본을 송달받은 날부터 30일 이내에 분할출원을 할 수 있으나, 특허결정이 있는 때에는 분할출원을 할 수 없다.
- ② 특허출원하여 거절결정이 되면 거절결정등본을 송달받은 날부터 30일 이내에 실용신안등록출원으로 변경출원을 할 수 있으나, 실용신안등록출원하여 거절결정이 되면 거절결정등본을 송달받은 날부터 30일 이내라도 특허출원으로 변경출원을 할 수 없다.
- ③ 출원인이 국제특허출원을 하면서 파리협약의 당사국에서 행하여진 선출원에 의한 우선권을 주장하였다면 특허법 제201조(국제특허출원의 국어번역문) 제1항 본문의 우선 일은 국제특허출원의 제출일이 아니라 우선권을 주장한 선출원의 제출일이 된다.
- ④ 최후거절이유통지에 따른 보정에 의하여 새로운 거절이유가 발생하면 보정된 명세서로 심사하여 거절결정을 하여야 한다.
- ⑤ 국제특허출원을 외국어로 출원한 출원인은 국제출원서와 발명의 설명, 청구범위 및 도면(도면 중 설명부분에 한정한다)의 국어번역문을 우선일로부터 31개월이 될 때까지 제출하여야 하고, 이를 제출하지 않으면 출원을 취하한 것으로 본다.

**5. 의약용도발명에 관한 설명으로 옳은 것은? (다툼이 있으면 판례에 따름)**

- ① 특정 물질의 의약용도가 약리기전만으로 기재되어 있다면 발명의 상세한 설명 등 명세서의 다른 기재나 기술상식에 의하여 의약으로서의 구체적인 용도를 명확하게 파악할 수 있더라도 특허법 제42조 (특허출원) 제4항 제2호가 정한 청구항의 명확성 요건을 충족하는 것으로 볼 수 없다.
- ② 약사법에 따라 품목허가를 받은 의약품과 특허침해 의약품이 약학적으로 허용 가능한 염 등에서 차이가 있다면, '통상의 기술자'가 이를 쉽게 선택할 수 있는 정도에 불과하고 그 치료효과나 용도가 실질적으로 동일하더라도 존속기간이 연장된 특허권의 효력은 침해제품에 미치지 아니한다.
- ③ 의약이라는 물건의 발명에서 대상 질병 또는 약효와 함께 투여용법과 투여용량을 부가하더라도 이러한 투여용법과 투여용량은 의료행위 그 자체에 해당하므로 이러한 투여용법과 투여용량의 부가에 의하여 별개의 의약용도발명이 된다고 볼 수 없다.
- ④ 의약용도발명에서는 '통상의 기술자'가 선행발명들로부터 특정 물질의 특정 질병에 대한 치료효과를 쉽게 예측할 수 있더라도, 선행발명들에서 임상시험 등에 의한 치료효과가 확인되어야 그 진보성이 비로소 부정될 수 있다.
- ⑤ 의약용도발명의 특허청구범위에 기재되는 약리기전은 특정 물질이 가지고 있는 의약 용도를 특정하는 한도 내에서만 발명의 구성요소로서 의미를 가질 뿐, 약리기전 그 자체가 특허청구범위를 한정하는 구성요소라고 볼 수 없다.

**6. 특허협력조약(PCT)에 따른 국제특허출원에 관한 설명으로 옳지 않은 것은?**

- ① 특허법 제201조(국제특허출원의 국어번역문) 제1항에 따라 국어번역문을 제출한 출원인은 국내서면제출기간(제1항 단서에 따라 취지를 적은 서면이 제출된 경우에는 연장된 국어번역문 제출기간을 말한다)에 그 국어번역문을 갈음하여 새로운 국어번역문을 제출할 수 있으나, 출원인이 출원심사의 청구를 한 후에는 그러하지 아니하다.
- ② 특허법 제197조(대표자 등) 제1항의 절차를 대리인에 의하여 밟으려는 자는 제3조(미성년자 등의 행위능력)에 따른 법정대리인을 제외하고는 변리사를 대리인으로 하여야 한다.
- ③ 국제출원을 하려는 자는 산업통상자원부령으로 정하는 언어인 국어, 영어 또는 중국어로 작성한 출원서와 발명의 설명, 청구범위, 필요한 도면 및 요약서를 특허청장에게 제출하여야 한다.
- ④ 특허법 제203조(서면의 제출) 제3항에 따른 보정명령을 받은 자가 지정된 기간에 보정을 하지 아니하면 특허청장은 해당 국제특허출원을 무효로 할 수 있다.
- ⑤ 특허청장은 국제특허출원의 출원인에 대하여 기간을 정하여 특허협력조약 제18조(국제조사보고)의 국제조사보고서 또는 같은 조약 제35조(국제예비심사보고)의 국제예비심사보고서에 적혀 있는 문헌의 사본을 제출하게 할 수 있다.

**7. 특허취소신청제도와 특허무효심판제도의 비교에 관한 설명으로 옳지 않은 것은?**

- ① 특허취소신청은 결정계로 누구든지 신청인이 될 수 있는 반면에, 무효심판은 당사자계로 이해관계인 또는 심사관이 심판을 청구할 수 있다.
- ② 특허취소신청은 청구항이 둘 이상인 경우에 청구항마다 할 수 없지만, 무효심판은 청구항이 둘 이상인 경우에는 청구항마다 청구할 수 있다.
- ③ 특허취소신청은 물론이고 무효심판에서도 특허권자는 지정된 기간에 특허발명의 명세서 또는 도면에 대하여 정정청구를 할 수 있다.
- ④ 특허취소신청에 관한 심리는 서면으로 하는 반면에, 무효심판은 구술심리 또는 서면 심리로 한다.
- ⑤ 특허취소신청은 특허권의 설정등록일부터 등록공고일 후 6개월이 되는 날까지 신청할 수 있으나, 무효심판은 특허권이 소멸된 후에도 청구할 수 있다.

**8. 거절이유통지에 관한 설명으로 옳지 않은 것은? (다툼이 있으면 판례에 따름)**

- ① 심사관은 특허법 제62조(특허거절결정)에 따라 특허거절결정을 하고자 할 때에는 출원인에게 통지하고 기간을 정하여 의견서를 제출할 기회를 주어야 하지만, 보정각하 결정을 하려는 경우에는 그러하지 아니하다.
- ② 거절결정에 대한 심판청구를 기각하는 심결이유가 적어도 그 주지에 있어서 거절이유 통지서의 기재이유와 부합하여야 하고, 거절결정에 대한 심판에서 그 거절결정의 이유와 다른 거절이유를 발견한 경우에는 특허출원인에게 새로운 거절이유에 대한 의견서 제출의 기회를 주어야 한다.
- ③ 거절이유통지를 받은 후 그 통지에 따른 의견서 또는 보정서 제출기한 내에 2회 이상 보정을 하는 경우, 각각의 보정절차에서 마지막 보정 전에 한 모든 보정은 취하된 것으로 본다.
- ④ 거절이유통지에서 지정된 기간이 경과하여 보정서와 의견서가 제출되더라도 등록 또는 거절결정 전에는 모두 수리하여야 한다.
- ⑤ 심사관은 청구범위에 둘 이상의 청구항이 있는 특허출원에 대하여 거절이유를 통지할 때에는 그 통지서에 거절되는 청구항을 명확히 밝히고, 그 청구항에 관한 거절이유를 구체적으로 적어야 한다.

**9. 발명의 유형에 따른 진보성 판단에 관한 설명으로 옳지 않은 것은? (다툼이 있으면 판례에 따름)**

- ① 성질 또는 특성 등에 의해 물(物)을 특정하려고 하는 기재를 포함하는 특허발명과, 이와 다른 성질 또는 특성 등에 의해 물을 특정하고 있는 인용발명을 대비할 때, 특허발명의 청구범위에 기재된 성질 또는 특성이 다른 정의 또는 시험·측정방법에 의한 것으로 환산한 결과 인용발명의 대응되는 것과 유사한 경우에는, 달리 특별한 사정이 없는 한, 양 발명은 발명에 대한 기술적인 표현만 달리할 뿐 실질적으로는 유사한 것으로 보아 진보성을 인정하기 어렵다.
- ② 출원 전에 공지된 발명이 가지는 구성요소의 범위를 수치로 한정된 특허발명은 그 과제 및 효과가 공지된 발명의 연장선상에 있고 수치한정의 유무에서만 차이가 있을 뿐 그 수치범위 내외에서 현저한 효과의 차이가 생기지 않는다면, 진보성이 부정된다.
- ③ 제법한정 물건발명의 기술적 구성을 파악함에 있어, 청구항에 제조방법과는 다른 기재가 있는 경우에도 제조방법 자체만으로 한정하여 출원 전에 공지된 선행기술과 비교하여 진보성이 있는지 여부를 살펴야 한다.
- ④ 청구항에 기재된 발명이용도의 변경 또는 용도의 추가적 한정에 의해서만 선행기술과 구별되는 경우, 출원 시 기술상식을 참작할 때 그 용도의 변경 또는 추가적 한정에 의해 더 나은 효과가 없으면 진보성은 인정되지 않는다.
- ⑤ 여러 선행문헌을 인용하여 특허발명의 진보성을 판단할 때에, 그 인용되는 기술을 조합 또는 결합하면 해당 특허발명에 이를 수 있다는 암시, 동기 등이 선행문헌에 제시되어 있는 경우 진보성은 부정될 수 있다.

**10. 특허법 제52조(분할출원)에 관한 설명으로 옳지 않은 것은?**

- ① 특허출원이 외국어특허출원인 경우에는 그 특허출원에 대한 제42조의3(외국어특허출원 등) 제2항에 따른 국어번역문이 제출되지 않아도 분할할 수 있다.
- ② 특허법 제52조(분할출원) 제1항에 따라 분할출원을 하려는 자는 분할출원을 할 때에 특허출원서에 그 취지 및 분할의 기초가 된 특허출원의 표시를 하여야 한다.
- ③ 특허출원서에 최초로 첨부한 명세서에 청구범위를 적지 아니한 분할출원에 관하여는 제42조의2(특허출원일 등) 제2항에 따른 기한이 지난 후에도 분할출원을 한 날부터 30일이 되는 날까지는 명세서에 청구범위를 적는 보정을 할 수 있다.
- ④ 분할출원을 할 수 있는 권리를 가진 자는 원출원을 한 자 또는 그 승계인이고, 공동 출원의 경우에는 원출원과 분할출원의 출원인 전원이 완전히 일치하여야 한다.
- ⑤ 분할출원의 경우에 제54조(조약에 의한 우선권 주장)에 따른 우선권을 주장하는 자는 같은 조 제4항에 따른 서류를 같은 조 제5항에 따른 기간이 지난 후에도 분할출원을 한 날부터 3개월 이내에 특허청장에게 제출할 수 있다.

**11. 심결취소소송에 관한 설명으로 옳지 않은 것은? (다툼이 있으면 판례에 따름)**

- ① 특허발명의 공동 출원인이 특허거절결정에 대한 취소심판청구에서 패소한 후 제기하는 심결취소소송은 심판청구인인 공동 출원인 전원이 공동으로 제기하여야 하는 고유 필수적 공동소송이라고 할 수 없으므로, 특허거절결정에 대한 심판에서 패소한 원고는 단독으로 심결의 취소를 구하는 소송을 제기할 수 있다.
- ② 특허청 심사관이 특허출원의 보정에 대한 각하결정을 한 후 ‘보정 전의 특허출원’에 대하여 거절결정을 하였고, 그에 대한 불복심판 절차에서 위 보정각하결정 및 거절결정이 적법하다는 이유로 심판청구를 기각하는 특허심판원의 심결이 있었는데 보정각하결정이 위법한 경우, 심결취소소송에서 법원은 그것만을 이유로 곧바로 심결을 취소할 수 없다.
- ③ 거절결정불복심판청구 기각 심결의 취소소송절차에서 특허청장은 거절결정의 이유 외에도 심사나 심판 단계에서 의견서 제출의 기회를 부여한 사유 및 이와 주요한 취지가 부합하는 사유를 해당 심결의 결론을 정당하게 하는 사유로 주장할 수 있고, 심결취소 소송의 법원은 이를 심리·판단하여 심결의 당부를 판단하는 근거로 삼을 수 있다.
- ④ 거절결정 불복심판청구를 기각하는 심결의 취소소송단계에서 특허청은 심결에서 판단되지 않은 것이라고 하더라도 거절결정의 이유와 다른 새로운 거절이유에 해당하지 않는 한 심결의 결론을 정당하게 하는 사유를 주장·입증할 수 있고, 심결취소소송의 법원은 달리 볼 만한 특별한 사정이 없는 한, 제한 없이 이를 심리 판단하여 판결의 기초로 삼을 수 있다.
- ⑤ 심결취소소송을 제기한 후 당사자 사이에 소를 취하하기로 하는 합의가 이루어졌다면 특별한 사정이 없는 한 소송을 계속 유지할 법률상의 이익이 소멸하여 당해 소는 각하되어야 한다.

**12. 특허권자의 보호에 관한 설명으로 옳지 않은 것은?**

- ① 특허권자 또는 전용실시권자는 자기의 권리를 침해한 자 또는 침해할 우려가 있는 자에 대하여 그 침해의 금지 또는 예방을 청구할 수 있다.
- ② 특허권자 또는 전용실시권자가 침해의 금지 또는 예방을 청구할 때에는 침해행위를 조성한 물건(물건을 생산하는 방법의 발명인 경우에는 침해행위로 생긴 물건을 포함한다)의 폐기, 침해행위에 제공된 설비의 제거, 그 밖에 침해의 예방에 필요한 행위를 청구할 수 있다.
- ③ 특허권 또는 전용실시권 침해소송에서 특허권자 또는 전용실시권자가 주장하는 침해 행위의 구체적 행위태양을 부인하는 당사자는 자기의 구체적 행위태양을 제시하여야 한다.
- ④ 당사자가 정당한 이유 없이 자기의 구체적 행위태양을 제시하지 않는 경우에는 법원은 특허권자 또는 전용실시권자가 주장하는 침해행위의 구체적 행위태양을 진실한 것으로 본다.
- ⑤ 법원은 타인의 특허권 또는 전용실시권을 침해한 행위가 고의적인 것으로 인정되는 경우에는 손해로 인정된 금액의 3배를 넘지 아니하는 범위에서 배상액을 정할 수 있다.

13. 특허무효심판에 관한 설명으로 옳지 않은 것은? (다툼이 있으면 판례에 따름)

- ① 특허무효가 판결로 확정된 경우 특허권은 처음부터 특허발명 실시계약의 목적이 된 특허발명의 실시가 불가능한 경우가 아니라면 특허무효의 소급효에도 불구하고 그와 같은 특허를 대상으로 하여 체결된 특허발명 실시계약이 그 계약의 체결 당시부터 원시적으로 이행불능 상태에 있었다고 볼 수는 없다.
- ② 특별한 사정이 없는 한 특허권의 실시권자는 특허권자로부터 권리의 대항을 받거나 받을 염려가 없으므로 무효심판을 청구할 수 있는 이해관계가 소멸되었다고 볼 수 있다.
- ③ 특허처분에 의하여 수인을 공유자로 하는 특허등록이 이루어졌다고 하더라도 특허무효심판에서 그 공유자 지분에 따라 특허를 분할하여 일부 지분만의 무효심판을 청구하는 것은 허용할 수 없다.
- ④ 특허는 일단 등록이 된 이상 이와 같은 심판 등에 의하여 특허를 무효로 한다는 심결 등이 확정되지 않는 한 유효한 것이고 다른 절차에서 그 특허가 당연 무효라고 판단할 수 없지만, 등록된 특허 발명의 일부 또는 전부가 출원 당시 공지공용의 것인 경우에는 특허무효의 심결 등 유무에 관계없이 그 권리범위를 인정할 수 없다.
- ⑤ 특허무효심판절차에서 정정청구가 있는 경우 정정의 확정시기 및 정정의 허용 여부를 일체로 판단하여야 한다.

14. 특허발명의 실시에 관한 설명으로 옳은 것을 모두 고른 것은? (다툼이 있으면 판례에 따름)

- ㄱ. “실시”란 ‘물건의 발명’인 경우 그 물건을 생산·사용·양도·대여 또는 수입하거나 그 물건의 양도 또는 대여의 청약(양도 또는 대여를 위한 전시를 포함한다)을 하는 행위를 말한다.
- ㄴ. ‘물건의 발명’에서 “생산”이란 발명의 구성요소 일부를 결여한 물건을 사용하여 발명의 구성요소를 가진 물건을 새로 만들어내는 행위를 의미하므로, 가공, 조립 등의 행위는 이에 포함되지 않는다.
- ㄷ. ‘물건의 발명’에 대한 특허권자 또는 특허권자로부터 허락을 받은 실시권자가 우리나라에서 그 특허발명이 구현된 물건을 적법하게 양도한 경우, 양수인이나 전득자가 그 물건을 사용, 양도하는 등의 행위에 대하여 특허권의 효력이 미치지 않는다.
- ㄹ. 타인의 특허발명을 허락 없이 실시한 자에게 과실이 없다고 하기 위해서는 특허권의 존재를 알지 못하였다는 점을 정당화할 수 있는 사정이 있다거나 자신이 실시하는 기술이 특허발명의 권리범위에 속하지 않는다고 믿은 점을 정당화할 수 있는 사정이 있다는 것을 주장·입증하여야 한다.

- ① ㄱ, ㄴ
- ② ㄱ, ㄷ
- ③ ㄱ, ㄹ
- ④ ㄱ, ㄷ, ㄹ
- ⑤ ㄴ, ㄷ, ㄹ

15. 실용신안에 관한 설명으로 옳지 않은 것은 모두 몇 개인가?

- 실용신안등록출원에 대하여 심사청구가 있을 때에만 이를 심사한다.
- 출원심사의 청구는 취하할 수 없다.
- 실용신안등록출원인이 아닌 자가 출원심사의 청구를 한 후 그 실용신안등록출원서에 첨부한 명세서를 보정하여 청구범위에 적은 청구항의 수가 증가한 경우에는 그 증가한 청구항에 관하여 내야 할 심사청구료는 실용신안등록출원인이 내야 한다.
- 실용신안권 또는 전용실시권 침해행위를 조성한 물품 또는 그 침해행위로부터 생긴 물품은 몰수하거나 피해자의 청구에 따라 그 물품을 피해자에게 교부할 것을 선고하여야 한다.

- ① 0개                      ② 1개                      ③ 2개                      ④ 3개                      ⑤ 4개

16. 특허법 제51조(보정각하)에 관한 설명으로 옳지 않은 것은? (다툼이 있으면 판례에 따름)

- ① 특허법 제51조 제1항 본문에 의하면, 심사관은, 청구항을 삭제하는 보정을 제외하고, 특허법 제47조(특허출원의 보정) 제1항 제2호 및 제3호에 따른 보정이 그 보정에 따라 새로운 거절이유가 발생한 것으로 인정하면 결정으로 그 보정을 각하하여야 한다.
- ② 특허법 제51조 제1항 본문의 '새로운 거절이유가 발생한 것'이란 해당 보정으로 인하여 이전에 없던 거절이유가 새롭게 발생한 경우를 의미하는 것이다.
- ③ 기재불비의 최후거절이유를 통지함에 따라 이를 해소하기 위한 보정으로 청구항이 신설된 경우, 신설된 청구항이 청구항을 정리하면서 발생하는 불가피한 경우로서 청구범위를 감축하는 경우가 아니라면 심사관은 결정으로 그 보정을 각하하여야 한다.
- ④ 미완성발명을 이유로 하는 최초거절이유를 통지함에 따라 이를 해소하기 위하여 미완성발명을 완성시키는 보정을 한 경우라고 심사관이 인정하면 결정으로 그 보정을 각하하여야 한다.
- ⑤ 최후거절이유통지에 대한 의견서 제출기간 내에 단순히 청구항을 삭제하는 보정을 하면서 삭제된 청구항을 인용하던 종속항에서 그 인용번호를 잘못 변경함으로써 기재불비가 발생한 경우, 심사관은 거절이유를 통지하여 출원인에게 보정의 기회를 부여하여야 한다.

**17. 특허권의 공유에 관한 설명으로 옳은 것은? (다툼이 있으면 판례에 따름)**

- ① 공동발명자가 되기 위해서는 발명의 완성을 위하여 단순히 아이디어를 제공하거나 관리하는 수준을 넘어 실질적으로 상호 협력하는 관계가 있어야 하므로, 발명에 대한 새로운 착상을 구체화하고 공동 연구자에 대한 구체적인 지도를 하여 발명을 가능케 하였다고 하더라도 공동발명자에 해당하지 않는다.
- ② 당사자계 심판에 대한 심결취소소송은 공유자 전원이 공동으로 제기하여야만 하는 고유필수적 공동소송이라는 것이 판례의 태도이다.
- ③ 특허권의 각 공유자에게 민법상의 공유물분할청구권을 인정하더라도 특허법 제99조 (특허권의 이전 및 공유 등)에 반하지 아니하고, 달리 분할청구를 금지하는 특허법 규정이 없음에도 불구하고, 각 공유자에게 특허권을 부여하는 방식의 현물분할은 허용되지 않는다.
- ④ 심결취소소송에 관한 보존행위설 또는 유사필수적 공동소송설에 의하면, 특허권 공유자중 1인이 단독으로 제기한 소는 일종의 방해배제청구소송이므로 부적법하여 각하하여야 한다.
- ⑤ 특허법 제99조(특허권의 이전 및 공유 등)의 규정은 특허권 공유관계의 특수성을 고려하여 다른 공유자의 동의 없는 지분의 양도를 금지하면서, 특허권의 공유를 합유관계로 본다는 명문의 규정이 다.

**18. 특허권 침해에 관한 설명으로 옳지 않은 것은? (다툼이 있으면 판례에 따름)**

- ① 물건에 관한 특허발명의 존재를 모르고 특허발명을 실시하는 기계를 구입하여 설명서대로 조작한 것뿐이라는 사정만으로 특허침해에 관한 과실의 추정을 반복할만한 정당한 사유라고 볼 수 없다.
- ② 특허권의 존재를 모른 채 도급계약에 따라 제3자 특허발명의 실시제품을 생산하였을 뿐, 계약상 대방 이외의 자에게 생산된 제품을 판매하지 않았다는 사정만으로 특허침해에 관한 과실의 추정을 반복할만한 정당한 사유라고 볼 수 없다.
- ③ 균등침해를 판단하기 위하여 ‘과제 해결원리가 동일’한지 여부를 가릴 때에는 명세서에 적힌 발명의 상세한 설명의 기재는 물론 출원 당시의 공지기술을 참작하여 기술사상의 핵심을 실질적으로 판단하여야 한다.
- ④ 특허권에 대한 침해의 금지를 청구하는 경우 청구의 대상이 되는 제품이나 방법은 사회통념상 침해의 금지를 구하는 대상으로서 다른 것과 구별될 수 있는 정도로 구체적으로 특정되면 족하다.
- ⑤ 특허권 침해죄에 관한 공소사실의 특징은 피고인의 방어권 행사에 지장 없는 정도이면 족하므로, 청구범위를 기재하는 것으로 그 보호대상을, 침해자의 행위태양을 기재함으로써 공소사실을 특정해야 한다는 것이 판례의 태도이다.





**21. 상표의 식별력에 관한 설명으로 옳지 않은 것은? (다툼이 있으면 판례에 따름)**

- ① 상표의 구성 중 식별력이 없거나 미약한 부분이 거래사회에서 오랜 기간 사용된 결과 수요자 간에 누구의 업무에 관련된 상품을 표시하는 것인가 현저하게 인식되어 있는 경우에는 그 부분은 사용된 상품에 관계없이 식별력 있는 요부로 보아 상표의 유사 여부를 판단할 수 있다.
- ② 상품의 성질, 품질 등의 특성에 대한 정보를 직감하게 하는 표장을 기술적 표장이라 하고, 상품의 특성을 파악하기 위하여 상상, 사고, 지각 등의 사고과정을 요하는 표장을 암시적 표장이라 한다.
- ③ 간단하고 흔히 있는 표장만으로 된 상표라 하더라도 식별력을 취득하면 등록을 받을 수 있다.
- ④ 디자인과 상표는 배타적·선택적인 관계에 있는 것이 아니므로 디자인이 될 수 있는 형상이나 모양이라고 하더라도 그것이 상표의 본질적인 기능이라고 할 수 있는 자타 상품의 출처표시를 위하여 사용되는 것으로 볼 수 있는 경우에는 상표로서의 사용이라고 보아야 한다.
- ⑤ 협의의 식별력이란 자신과 타인의 상품을 구별하여 인식하게 하는 힘을 의미한다.

**22. 상표법 제33조(상표등록의 요건)에 관한 설명으로 옳지 않은 것은? (다툼이 있으면 판례에 따름)**

- ① 상품의 보통명칭을 보통으로 사용하는 방법으로 표시한 표장만으로 된 상표는 본질적인 식별력이 없다.
- ② 사용에 의한 식별력을 취득하는 상표는 실제로 사용한 상표 그 자체에 한하는 것은 아니고 그와 유사한 상표에 대하여까지 식별력 취득을 인정할 수 있으며, 그와 유사한 상표의 장기간 사용은 위 식별력 취득에 도움이 되는 요소이다.
- ③ 어떤 상표가 상품의 원재료를 표시하는 것인가의 여부는 그 상표의 관념, 지정상품과의 관계, 현실 거래사회의 실정 등에 비추어 객관적으로 판단하여야 한다.
- ④ 현저한 지리적 명칭이란 일반 수요자에게 널리 알려진 지명을 말하는 것으로, 그 판단에 있어서는 교과서, 언론 보도, 설문조사 등을 비롯하여 일반 수요자의 인식에 영향을 미칠 수 있는 여러 사정을 종합적으로 고려하여 합리적으로 판단하여야 한다.
- ⑤ 흔히 있는 성(姓) 또는 명칭을 보통으로 사용하는 방법으로 표시한 표장만으로 된 상표에서 '흔히 있는 성 또는 명칭'이라 함은 현실적으로 다수가 존재하는 것으로 인식 되고 있는 자연인의 성 또는 법인, 단체, 상호임을 표시하는 명칭, 아호, 예명, 필명 또는 그 약칭 등을 말한다.

**23. 상표법 제90조(상표권의 효력이 미치지 아니하는 범위)에 관한 설명으로 옳은 것은? (다툼이 있으면 판례에 따름)**

- ① 상표법 제90조 제1항 제1호의 자기의 성명·명칭 또는 상호·초상·서명·인장 등을 상거래 관행에 따라 사용하는 상표에 대하여는 상표권의 효력이 미치지 아니하며, 상표권의 설정등록이 있은 후에 부정경쟁의 목적으로 사용하는 경우에도 상표권의 효력이 미치지 아니한다.
- ② 상표법 제90조 제1항 제1호의 자기의 성명·명칭 또는 상호·초상·서명·인장 등을 상거래 관행에 따라 사용하는 상표에서 성명·명칭 또는 상호·초상·서명·인장 등은 저명할 것을 요건으로 한다.
- ③ 상표법 제90조 제1항 제2호의 보통명칭 또는 기술적 표장에 해당하는지 여부는 권리 범위 확인심판에서는 심결시, 침해금지 청구소송에서는 판결시를 기준으로 판단하여야 한다.
- ④ 전체적으로 볼 때 일반 수요자를 기준으로 사용상품의 품질·효능·용도 등을 표시하는 것으로 직감할 수 있을 정도로 도안화된 상표는 상표법 제90조 제1항 제2호에 해당하여 이에 대하여는 상표권의 효력이 미치지 아니한다.
- ⑤ 둘 이상의 문자·도형 등의 조합으로 이루어진 결합상표의 경우 분리인식 될 수 있는 일부분이 상표법 제90조의 상표권의 효력이 미치지 아니하는 범위의 상표에 해당하는 경우, 그 일부분에만 효력이 제한되는 것은 아니므로 그 부분을 제외한 나머지 부분을 기초로 상표 유사여부를 판단할 수 없다.

**24. 마드리드 의정서에 의한 국제출원에 관한 설명으로 옳지 않은 것은? (다툼이 있으면 판례에 따름)**

- ① 국제상표등록출원의 기초가 되는 국제등록의 전부 또는 일부가 소멸된 경우에는 그 소멸된 범위에서 해당 국제상표등록출원은 지정상품의 전부 또는 일부에 대하여 취하된 것으로 본다.
- ② 국제등록명의인은 국제등록된 지정국을 주가로 지정하는 사후지정을 신청할 수 있고, 이 경우 국제등록된 지정상품의 전부 또는 일부에 대하여 사후지정을 할 수 있다.
- ③ 국제출원은 본국관청에 계속 중인 기초출원 또는 기초등록을 기초로 하여 출원하여야 한다.
- ④ 국제등록은 기초출원(등록)에 종속적이므로 기초출원일로부터 5년이 경과하기 전까지 기초출원(등록)이 실효되면 취소된다.
- ⑤ 국제출원서와 그 출원에 필요한 서류는 특허청장에게 도달한 날부터 그 효력이 발생하며, 우편으로 제출된 경우에도 또한 같다.

25. 甲은 2017년 1월 7일경부터 본인이 판매하는 자동차 용품에 붙여 사용한 A(기술적 표장)를 2018년 11월 26일 출원하였고, 출원 전부터 활발하게 사용된 A상표는 2019년 4월경 거래사회에서 일반수요자나 거래자에게 특정인의 상품에 관한 출처를 표시하는 것으로 현저하게 인식되었으며, 2020년 1월 8일 등록결정 되었다. 이와 관련하여 옳은 것을 모두 고른 것은? (다툼이 있으면 판례에 따름)

- ㄱ. A상표는 출원 후에 특정인의 상품 출처를 표시하는 것으로 현저하게 인식 되었으나 출원 시 식별력 없는 기술적 표장에 불과하므로 등록결정을 받을 수 없다.
- ㄴ. 식별력 없는 기술적 표장이라고 할지라도 사용에 의한 식별력을 취득하면 예외적으로 상표 등록을 인정해주는 상표법 제33조(상표등록의 요건) 제2항의 적용은 출원경제 등을 이유로 상표등록여부결정을 할 때를 기준으로 판단하여야 하므로 A상표는 등록결정을 받을 수 있다.
- ㄷ. 일반수요자의 A상표에 대한 상품표지로서의 인식은 익명의 존재로서의 추상적 출처이면 족한 것이지 구체적으로 甲의 성명이나 명칭까지 인식할 필요는 없다.
- ㄹ. A상표는 출원 시 비록 기술적 표장에 불과하였지만 등록여부결정 전까지 사용에 의한 식별력을 취득하여 등록된 이상 식별력 있는 표장으로서 상표법 제90조(상표권의 효력이 미치지 아니하는 범위) 제1항 제2호에 의한 상표권 효력 제한을 받지 않는다.

- ① ㄱ, ㄴ                    ② ㄴ, ㄹ                    ③ ㄷ, ㄹ                    ④ ㄱ, ㄴ, ㄷ                    ⑤ ㄴ, ㄷ, ㄹ

26. 다음 중 상표법 제89조(상표권의 효력)에 규정된 상표권자의 독점할 권리의 범위를 침해하는 것은 모두 몇 개인가? (단, 다음의 행위들은 정당한 권원이 없는 것으로 간주함)

- 타인의 등록상표와 동일한 상표가 표시된 지정상품과 동일한 상품을 양도하기 위하여 소지하는 행위
- 타인의 등록상표와 동일한 상표가 표시된 지정상품과 유사한 상품을 인도하기 위하여 소지하는 행위
- 타인의 등록상표와 동일한 상표가 표시된 지정상품과 동일한 상품을 양도 목적으로 전시하는 행위
- 타인의 등록상표와 동일한 상표가 표시된 지정상품과 동일한 상품을 인도 목적으로 수입하는 행위
- 타인의 등록상표와 동일한 상표를 지정상품과 동일한 상품의 포장에 표시한 것을 양도한 경우

- ① 1개                    ② 2개                    ③ 3개                    ④ 4개                    ⑤ 5개

**27. 상표법상 심판에 관한 설명으로 옳지 않은 것은? (다툼이 있으면 판례에 따름)**

- ① 권리범위 확인심판에는 형성적 효력이 인정되지 않는다.
- ② 소극적 권리범위 확인심판에서 심판대상인 문자와 도형으로 구성된 결합상표를 문자 부분만으로 이루어진 상표로 변경하는 것은 확인대상표장의 동일성에 영향을 미치는 청구의 변경이므로 허용되지 않는다.
- ③ 확인대상표장을 디자인적으로 사용하는 것은 출처표시기능을 하는 상표적 사용이 아니므로 확인대상표장이 등록상표의 권리범위에 속하지 아니한다는 확인을 구하는 심판은 확인의 이익이 없다.
- ④ 피심판청구인의 상표등록출원행위가 심판청구인에 대한 관계에서 사회질서에 위반된 것으로서 심판청구인에 대하여 상표권의 효력이 없다는 대인적인 상표권 행사의 제한사유를 주장하면서 제기한 권리범위 확인심판은 상표권의 효력이 미치는 범위에 관한 권리확정과는 무관하므로 확인의 이익이 없다.
- ⑤ 甲의 선사용상표가 출원되지 않은 것을 기화로 乙은 甲이 상표를 사용하던 상품과 동일한 상품에 상표등록출원을 하여 상표등록을 받았는데, 甲이 자신의 사용상표와 乙의 등록상표는 포장과 그 사용(지정)상품이 동일하거나 유사하다고 다투지 않고 선사용권을 근거로 甲의 사용상표(확인대상표장)가 乙의 상표의 권리범위에 속하지 아니한다고 제기한 심판은 확인의 이익이 없다.

**28. 상표법상 사용권에 관한 설명으로 옳은 것은? (다툼이 있으면 판례에 따름)**

- ① 상표권자가 '상표에 관한 어떠한 경우라도 독점적인 권리를 부여하지 않고, 다만 사용권자가 상표권자의 상표를 사용할 권리를 부여하며 사용권자의 상표사용에 대하여 상표침해의 책임을 묻지 않는다'는 내용으로 사용권을 설정한 경우에 제3자가 무단으로 상표를 사용하더라도 그 사용권자에 대한 상표법 제230조(침해죄)는 성립하지 않는다.
- ② 상표권 권리범위 전부에 대하여 전용사용권이 설정된 경우에 제3자가 그 상표를 정당한 법적 권한 없이 사용하면 전용사용권자가 금지청구권을 행사하므로 상표권자는 금지청구권을 상실한다.
- ③ 상표권자가 자신의 상표권에 설정된 질권을 상속받은 경우 상속에 관한 사항을 등록하지 아니하면 그 효력이 발생하지 않는다.
- ④ 상표권자 甲은 자신의 상표권에 대하여 조그만 개인 식당을 운영하던 아버지에게 전용사용권을 설정하여 주었는데, 아버지가 사망하여 전용사용권을 甲이 단독 상속하는 경우라면 상속에 관한 사항을 등록하여야 제3자에게 대항할 수 있다.
- ⑤ 상표권 권리범위 전부에 대하여 전용사용권을 설정한 경우라도 상표권자가 상표를 사용하는 것이라면 전용사용권의 침해가 성립되지 않는다.

29. 상표의 사용에 관한 설명으로 옳은 것은? (다툼이 있으면 판례에 따름)

- ① 신문에 등록상표의 등록번호와 상표를 기재하고, 그 상표에 대하여 ‘타사의 컴퓨터 및 전자오락기구를 오인, 혼동하여 현혹 없기를 바란다’고 기재한 것은 지정상품에 대한 광고로 볼 수 있으므로 상표법 제2조(정의)상 상표의 사용으로 볼 수 있다.
- ② 소관부처로부터 등록상표의 지정상품인 의약품의 제조나 수입에 관한 품목별허가를 받지 아니한 상태에서 신문에 1년 못미쳐 한차례씩 그 상표를 광고하였거나 국내의 일부 특정지역에서 해당 상표를 부착한 지정상품이 판매된 경우라면 불사용으로 인한 상표등록취소심판에서의 정당한 사용이 있었다고 볼 수 없다.
- ③ 상품의 선전광고나 판매촉진 또는 고객에 대한 서비스 제공 등의 목적으로 그 상품과 함께 또는 이와 별도로 고객에게 무상으로 배부되는 이른바 ‘광고매체가 되는 물품’은 비록 그 물품에 표시된 상표 이외의 다른 문자나 도형 등에 의하여 광고하고자 하는 상품의 출처표시로 사용된 것으로 인식할 수 있는 등의 특별한 사정이 없더라도 이러한 물품에 상표를 표시한 것은 상표법 제2조(정의)상 상표의 사용으로 볼 수 있다.
- ④ 자신의 상표가 아니라 주문자가 요구하는 상표로 상품을 생산하여 주는 주문자 상표부착생산 방식(이른바 OEM 방식)에 의한 수출의 경우, 불사용으로 인한 상표등록취소심판에서 누가 상표를 사용한 것인지를 판단하는데 있어서는 특단의 사정이 없는 한 국내에서 실제로 상품 또는 상품을 제조하면서 포장에 상표를 표시하였는지 여부를 가지고 판단하여야 하므로 국내의 생산자에 의해 상표가 사용된 것으로 볼 수 있다.
- ⑤ 상표권자가 외국에서 자신의 등록상표를 상품에 표시하고 우리나라에서 직접 또는 대리인을 통하여 그 상품을 거래한 바 없이, 상표권자가 등록상표를 표시한 그대로 그 상품이 제3자에 의하여 정상적으로 국내로 수입되어 유통됨에 따라 사회통념상 국내의 거래자나 수요자에게 그 상표가 상표권자의 업무에 관련된 상품을 표시하는 것으로 인식되는 경우라도 상표권자가 직접 유통시킨 것이 아니므로 특단의 사정이 없는 한 불사용으로 인한 상표등록취소심판에서 그 상표를 표시한 상표권자가 국내에서 상표를 불사용한 것으로 볼 수 있다.

**30. 상표에 관한 설명으로 옳지 않은 것은?**

- ① 무역관련 지적재산권에 관한 협정(TRIPs 협정)상 상표 불사용으로 인하여 상표등록을 취소하기 위한 계속적인 불사용의 최소기간은 3년이다.
- ② 국내에 영업소가 없는 외국인인 그 외국인이 속하는 국가에서 우리나라 국민에게 그 국민과 같은 조건으로 상표권을 인정하는 경우에 상표권이나 상표에 관한 권리를 누릴 수 있다.
- ③ 국내에 주소가 없는 외국인은 우리나라가 그 외국인에 대하여 상표권 또는 상표에 관한 권리를 인정하는 경우에는 그 외국인이 속하는 국가에서 대한민국 국민에 대하여 그 국민과 같은 조건으로 상표권 또는 상표에 관한 권리를 인정하는 경우에 상표권이나 상표에 관한 권리를 누릴 수 있다.
- ④ 국내에 주소가 없는 외국인은 우리나라와 그 외국인이 속하는 국가 사이에 체결된 자유무역협정에서 상표권 또는 상표에 관한 권리를 인정하는 경우에 상표권이나 상표에 관한 권리를 누릴 수 있다.
- ⑤ 무역관련 지적재산권에 관한 협정(TRIPs 협정)은 회원국의 자율적 결정사항으로 상표권의 강제사용권을 인정하고 있다.

**31. 디자인보호법상 디자인권에 관한 설명으로 옳지 않은 것은?**

- ① 특허청장은 디자인권의 설정등록을 하였을 때에는 산업통상자원부령으로 정하는 바에 따라 디자인권자에게 디자인등록증을 발급하여야 한다.
- ② 글자체가 디자인권으로 설정등록된 경우 그 디자인권은 타자·조판 또는 인쇄 등의 통상적인 과정에서 글자체를 사용하는 경우에 그 효력이 미친다.
- ③ 디자인등록출원인은 디자인권의 설정등록일부터 3년 이내의 기간을 정하여 그 디자인을 비밀로 할 것을 청구할 수 있다.
- ④ 디자인권자는 디자인권을 포기할 수 있으며, 디자인권은 포기하였을 때부터 효력이 소멸된다.
- ⑤ 디자인일부심사등록 이의신청에 대한 디자인등록취소결정이 확정된 때에는 그 디자인권은 처음부터 없었던 것으로 본다.

**32. 디자인보호법상 심판에 관한 설명으로 옳지 않은 것은? (다툼이 있으면 판례에 따름)**

- ① 디자인권의 권리범위 확인심판 청구에 있어서 복수디자인등록출원된 디자인등록에 대하여는 각 디자인마다 권리범위 확인심판을 청구하여야 한다.
- ② 디자인등록을 받을 수 있는 권리의 공유자가 그 공유인 권리에 관하여 심판을 청구할 때에는 공유자 모두가 공동으로 청구하여야 한다.
- ③ 공유인 디자인권의 디자인권자에 대하여 심판을 청구할 때에는 공유자 일부를 피청구인으로 할 수 있다.
- ④ 심사 또는 디자인일부심사등록 이의신청 절차에서 났은 디자인에 관한 절차는 디자인 등록거절결정 또는 디자인등록취소결정에 대한 심판에서도 그 효력이 있다.
- ⑤ 등록디자인에 대한 등록무효심결이 확정되기 전이라고 하더라도 등록디자인이 공지디자인 등에 의하여 용이하게 창작될 수 있어 그 디자인등록이 무효심판에 의하여 무효로 될 것임이 명백한 경우에는 디자인권에 기초한 침해금지 또는 손해배상 등의 청구는 특별한 사정이 없는 한 권리남용에 해당하여 허용되지 아니한다.

**33. 디자인의 유사여부 판단에 관한 설명으로 옳지 않은 것은? (다툼이 있으면 판례에 따름)**

- ① 등록디자인이 신규성이 있는 부분과 함께 공지의 형상과 모양을 포함하고 있는 경우 디자인권의 권리범위를 정함에 있어서는 공지 부분의 중요도를 낮게 평가하여야 한다.
- ② 글자체 디자인은 물품성을 요하지 않고, 구조적으로 그 디자인을 크게 변화시키기 어려운 특성이 있으므로, 글자체 디자인의 고유한 특성을 충분히 참작하여 그 유사 여부를 판단하여야 한다.
- ③ 디자인의 등록요건 판단에 있어 그 유사 여부는 그 구성요소 중 물품의 기능을 확보하는데 필요한 형상 또는 공지의 형상 부분이 있다고 하여도 그것이 특별한 심미감을 불러일으키는 요소가 되지 못하는 것이 아닌 한 그것까지 포함하여 전체로서 관찰하여 느껴지는 장식적 심미감에 따라 판단하여야 한다.
- ④ 대비되는 디자인의 대상 물품들이 다같이 그 기능 내지 속성상 사용에 의하여 당연히 형태의 변화가 일어나는 경우에 그 디자인의 유사 여부는 형태의 변화 전후에 따라 서로 변화된 상태에서 각각 대비한 다음 이를 세부적인 부분으로 나누어 판단하여야 한다.
- ⑤ 보는 방향에 따라 느껴지는 미감이 같기도 하고 다르기도 할 경우에는 그 미감이 같게 느껴지는 방향으로 두고 이를 대비하여 유사 여부를 판단하여야 한다.



### 34. 디자인보호법상 비밀디자인제도에 관한 설명으로 옳지 않은 것은?

- ① 비밀디자인으로 청구된 디자인등록출원에 대하여 출원공개신청이 있는 경우에는 비밀디자인 청구는 철회된 것으로 본다.
- ② 국제디자인등록출원에 대하여는 디자인보호법 제43조(비밀디자인) 규정을 적용하지 아니한다.
- ③ 특허청장은 디자인권 침해의 경고를 받을 우려가 있는 자가 열람청구한 경우 비밀디자인의 열람청구에 응하여야 한다.
- ④ 비밀디자인의 열람청구에 따라 비밀디자인을 열람한 자는 그 열람한 내용을 무단으로 촬영·복사 등의 방법으로 취득하거나 알게 된 내용을 누설하여서는 아니 된다.
- ⑤ 타인의 디자인권 또는 전용실시권을 침해한 자는 그 침해행위에 대하여 과실이 있는 것으로 추정하되, 비밀디자인으로 설정등록된 디자인권 또는 전용실시권의 침해에 대하여는 그러하지 아니하다.

### 35. 디자인보호법상 디자인일부심사등록제도에 관한 설명으로 옳지 않은 것은?

- ① 법인이 아닌 사단 또는 재단으로서 대표자 또는 관리인이 정하여져 있는 경우에는 그 사단 또는 재단의 이름으로 디자인일부심사등록 이의신청인이 될 수 있다.
- ② 디자인일부심사등록출원을 할 수 있는 디자인은 물품류 구분 중 산업통상자원부령으로 정하는 물품으로 한정한다. 이 경우 해당 물품에 대하여는 디자인일부심사등록출원으로만 출원할 수 있다.
- ③ 누구든지 디자인일부심사등록출원에 따라 디자인권이 설정등록된 날부터 디자인일부 심사등록 공고일 후 3개월이 되는 날까지 그 디자인일부심사등록이 조약에 위반된 경우 특허청장에게 디자인일부심사등록 이의신청을 할 수 있다.
- ④ 심판장은 심판에서 필요하면 그 심판사건과 관련되는 디자인일부심사등록 이의신청에 대한 결정 또는 다른 심판의 심결이 확정되거나 소송절차가 완결될 때까지 그 절차를 중지할 수 있다.
- ⑤ 디자인일부심사등록 이의신청에 대한 각하결정과 이의신청기각결정에 대하여는 불복할 수 있다.

36. 디자인보호법 제33조(디자인등록의 요건) 제1항 ‘공업상 이용가능성’에 관한 설명으로 옳지 않은 것은? (다툼이 있으면 판례에 따름)

- ① 공업상 이용가능성이란 공업적 방법에 의하여 양산될 수 있는 것을 의미하므로 물품을 양산할 수 있다고 하더라도 수공업적 생산방법에 의할 경우에는 공업상 이용가능성이 없는 것으로 본다.
- ② 디자인등록출원서에 첨부된 도면에 서로 불일치한 부분이 있다고 하더라도 그 디자인 분야에서 통상의 지식을 가진 자가 경험칙에 의하여 디자인의 요지를 충분히 특정할 수 있는 경우 공업적 생산방식에 의하여 동일물품을 양산할 수 있다고 본다.
- ③ 화상디자인이 물품에 일시적으로 구현되는 경우에도 그 물품은 화상디자인을 표시한 상태에서 공업상 이용가능성이 있는 것으로 본다.
- ④ 식품디자인의 경우 액상·분상·분절된 조각 등으로 구성되어 생산부터 판매까지 동일한 형상을 유지하지 못하는 경우에는 공업상 이용가능성이 없는 것으로 보지만, 유통과정에서 냉동 등의 방식으로 판매 시까지 동일한 형상을 유지하는 경우에는 공업상 이용가능성이 있는 것으로 본다.
- ⑤ 안경과 같이 물품의 특성상 전부 또는 일부가 투명한 것이 명백한 경우 디자인의 설명란에 투명하다는 취지의 기재가 없더라도 디자인의 구체성이 인정되어 공업상 이용 가능성이 있는 것으로 본다.

37. 복수디자인에 관한 설명으로 옳지 않은 것은?

- ① 디자인등록출원을 하려는 자는 산업통상자원부령으로 정하는 물품류 구분에서 같은 물품류에 속하는 물품에 대하여는 100 이내의 디자인을 1디자인등록출원으로 할 수 있다.
- ② 디자인등록출원인은 복수디자인등록출원된 디자인의 전부 또는 일부에 대하여 비밀로 할 것을 청구할 수 있다.
- ③ 디자인등록출원인은 복수디자인등록출원된 디자인의 전부 또는 일부에 대하여 공개를 신청할 수 있다.
- ④ 심사관은 복수디자인등록출원된 디자인 중 일부 디자인에만 거절이유가 있을 경우에 출원된 디자인 전체에 대하여 디자인등록거절결정을 해야 한다.
- ⑤ 복수디자인등록된 디자인권은 각 디자인권마다 분리하여 이전할 수 있다.

**38. 디자인등록출원의 보정에 관한 설명으로 옳은 것은?**

- ① 물품명의 보정에 있어, 최초 제출한 도면 등을 기준으로 판단하여 단순한 착오나 오기를 정정하는 것이라도 디자인의 대상이 되는 물품의 명칭이 동일물품 외의 물품으로 보정되는 경우에는 요지변경으로 본다.
- ② 디자인등록출원인이 심사관의 보정각하결정에 대해 심판을 청구한 경우에도 심사관은 디자인등록출원에 대한 심사를 계속할 수 있다.
- ③ 디자인등록출원인은 관련디자인등록출원을 단독의 디자인등록출원으로 변경하는 보정은 할 수 있으나, 단독의 디자인등록출원을 관련디자인등록출원으로 변경하는 보정은 할 수 없다.
- ④ 국제디자인등록출원인은 디자인심사등록출원을 디자인일부심사등록출원으로 변경하는 보정을 할 수 있다.
- ⑤ 복수디자인등록출원을 한 경우(국제디자인등록출원은 제외) 도면의 보정에 있어, 디자인의 일부를 취하하기 위하여 출원디자인의 일부를 삭제 보정하는 경우에는 요지변경이 아닌 것으로 보지만, 출원서에 적힌 디자인의 수에 맞춰 도면을 추가로 제출하는 경우에는 요지변경으로 본다.

**39. 관련디자인에 관한 설명으로 옳은 것은?**

- ① 관련 디자인등록출원은 그 디자인이 기본디자인의 디자인등록출원일 이후의 기본디자인과 동일 또는 유사한 자기의 선행하는 공지디자인과 유사한 경우 디자인보호법 제 33조(디자인등록의 요건) 제1항에 의하여 거절결정 된다.
- ② 기본디자인의 디자인권에 전용실시권이 설정되어 있는 경우에는 그 기본디자인에 관한 관련디자인은 디자인등록을 받을 수 없다.
- ③ 기본디자인의 물품명칭과 관련디자인등록출원의 물품명칭이 다른 경우 심사관은 직권으로 관련디자인등록출원의 물품명칭을 기본디자인의 물품명칭으로 변경하는 보정을 하여야 한다.
- ④ 기본디자인권이 취소·포기 또는 무효심결로 인하여 소멸되는 경우 관련디자인권은 동시에 소멸한다.
- ⑤ 관련디자인은 기본디자인과 독립적인 효력을 가지므로 기본디자인의 디자인권과 관련 디자인의 디자인권은 각각 다른 사람에게 분리하여 이전할 수 있다.

40. 디자인등록출원에 관한 설명으로 옳지 않은 것은?

- ① 디자인보호법 제40조(1디자인 1디자인등록출원)에 위반되거나 착오로 등록된 등록 디자인은 무효심판의 사유가 된다.
- ② 용기가 결합된 양초와 같이, 물품의 형상·모양·색채를 나타내기 위하여 부가적인 물품이 결합되어 생산되고 일체화된 상태로 사용되는 경우에는 디자인보호법 제40조 (1디자인 1디자인등록출원)를 위반한 것으로 보지 않는다.
- ③ 2 이상의 디자인을 1디자인등록출원으로 출원한 자가 디자인등록출원의 일부를 1 이상의 새로운 디자인등록출원으로 분할하여 출원한 후, 분할된 출원이 2 이상의 디자인을 포함할 경우 이를 다시 1 이상의 새로운 디자인등록출원으로 분할하여 출원할 수 있다.
- ④ 한 별의 물품의 디자인 도면을 제출할 경우 각 구성물품의 하나의 디자인을 도면과 3D 모델링 도면을 혼합하여 표현할 수 없고 도면 또는 3D 모델링 도면 중 한가지로 통일되게 표현해야 한다.
- ⑤ 디자인등록출원인은 디자인권의 설정등록일부터 3년 이내의 기간을 정하여 그 디자인을 비밀로 할 것을 청구할 수 있으며, 설정등록일부터 3년을 초과하지 않는 한 횟수에 제한 없이 지정한 기간을 청구에 의하여 단축하거나 연장할 수 있다.

02  
2020

제57회 변리사 1차 국가자격시험  
[2교시] 민법개론

1. 신의성실의 원칙 등에 관한 설명으로 옳지 않은 것은? (다툼이 있으면 판례에 따름)

- ① 실효의 법리는 법의 일반원리인 신의성실의 원칙에 바탕을 둔 파생원칙이다.
- ② 취득시효 완성 후에 그 사실을 모르고 당해 토지에 관하여 어떠한 권리도 주장하지 않기로 하였다가 이후에 취득시효 주장을 하는 것은 특별한 사정이 없는 한 신의성실의 원칙상 허용되지 않는다.
- ③ 법정대리인의 동의없이 신용구매계약을 체결한 미성년자가 나중에 법정대리인의 동의 없음을 사유로 들어 이를 취소하는 것은 신의성실의 원칙에 반한다.
- ④ 매도인의 해제권이 장기간 행사되지 아니하고 매매대금도 거의 전부가 지급되어 있는 등 해제권이 더 이상 행사되지 아니할 것으로 매수인이 신뢰하는 데에 정당한 사유가 있는 경우, 매도인이 해제권을 행사하는 것은 신의성실의 원칙에 반한다.
- ⑤ 권리남용금지의 원칙은 당사자의 주장이 없더라도 법원은 직권으로 판단할 수 있다.

2. 甲법인의 대표이사 乙은 그 직무에 관하여 丙에게 불법행위를 하였다. 법인의 불법 행위책임(민법 제35조)에 관한 설명으로 옳은 것은? (다툼이 있으면 판례에 따름)

- ① 乙의 행위가 乙 자신의 사익을 도모하기 위한 것이라도 甲법인은 불법행위책임을 진다.
- ② 甲법인은 乙의 선임 및 그 사무감독에 상당한 주의를 다하였음을 증명하면 불법행위 책임을 면한다.
- ③ 丙에 대한 甲법인의 불법행위책임이 인정되는 경우 이중배상을 금지하기 위하여 乙의 丙에 대한 불법행위책임은 성립하지 않는다.
- ④ 乙이 甲법인을 실질적으로 운영하고 사실상 대표하여 사무를 집행하지만 대표이사로登記되어 있지 않은 경우, 乙의 불법행위에 대해 甲법인은 손해배상책임을 없다.
- ⑤ 甲이 비법인사단이라면 乙이 직무수행에 관해 불법행위를 하였어도 丙에 대하여 甲의 불법행위책임은 성립하지 않는다.

3. 후견에 관한 설명으로 옳은 것을 모두 고른 것은? (다툼이 있으면 판례에 따름)

- ㄱ. 가정법원은 일정한 자의 청구에 의하여 질병, 장애, 노령, 그 밖의 사유로 인한 정신적 제약으로 사무를 처리할 능력이 부족한 사람에게 대하여 성년후견개시의 심판을 한다.
- ㄴ. 가정법원은 피한정후견인이 한정후견인의 동의를 받아야 하는 행위의 범위를 정할 수 있다.
- ㄷ. 피특정후견인의 법률행위는 가정법원에 의해 취소할 수 있는 법률행위로 정해진 경우에만 취소할 수 있다.
- ㄹ. 특정후견은 본인의 의사에 반하여 할 수 없다.

- ① ㄱ, ㄴ
- ② ㄱ, ㄹ
- ③ ㄴ, ㄷ
- ④ ㄴ, ㄹ
- ⑤ ㄷ, ㄹ

4. 법률행위의 해석에 관한 설명으로 옳지 않은 것은? (다툼이 있으면 판례에 따름)

- ① 문서의 기재내용과 다른 명시적, 묵시적 약정이 있는 사실이 인정될 경우에는 그 기재내용과 다른 사실을 인정할 수 있다.
- ② 사적 자치가 인정되는 분야의 제정법이 임의규정인 경우, 사실인 관습은 법률행위의 해석기준이 될 수 있다.
- ③ 매매계약사항에 이의가 생겼을 때에는 매도인의 해석에 따른다는 약정을 한 경우, 법원은 매도인의 해석과 다르게 법률행위를 해석할 권한이 없다.
- ④ 계약서를 작성하면서 계약상 지위에 관하여 당사자들의 합치된 의사와 달리 착오로 잘못 기재하였는데 오류를 인지하지 못한 채 계약상 지위가 잘못 기재된 계약서에 그대로 기명날인이나 서명을 한 경우, 당사자들의 합치된 의사에 따라 계약이 성립한 것으로 보아야 한다.
- ⑤ 甲과 乙이 X토지를 매매하기로 합의하였으나 Y토지로 매매계약서를 잘못 작성한 경우 X토지에 관하여 매매계약이 성립된 것으로 보아야 한다.

5. 선량한 풍속 기타 사회질서에 반하는 행위를 모두 고른 것은? (다툼이 있으면 판례에 따름)

- ㄱ. 수사기관에서 참고인으로서 허위진술을 해주는 대가로 금원을 지급하기로 한 약정
- ㄴ. 강제집행을 면할 목적으로 부동산에 허위의 근저당권설정등기를 경료하는 행위
- ㄷ. 전통사찰의 주지직을 거액의 금품을 대가로 양도·양수하기로 하는 약정이 있음을 알고도 이를 묵인 혹은 방조한 상태에서 한 종교법인의 주지임명행위
- ㄹ. 부동산을 매도인이 이미 제3자에게 매각한 사실을 매수인이 단순히 알고 있었던 경우에 매도인의 요청으로 그 부동산을 매수하기로 한 계약

- ① ㄱ                      ② ㄱ, ㄴ                      ③ ㄴ, ㄷ                      ④ ㄱ, ㄷ, ㄹ                      ⑤ ㄴ, ㄷ, ㄹ

6. 매수인 甲과 매도인 乙은 진품임을 전제로 하여 乙 소유의 그림 1점의 매매계약을 체결하였는데, 그림이 위작이라는 사실을 나중에 알게 된 甲은 중도금 지급일에 중도금을 지급하지 않았다. 이에 관한 설명으로 옳지 않은 것은? (다툼이 있으면 판례에 따름)

- ① 위조된 그림을 진품으로 알고 매수한 것은 법률행위 내용의 중요부분의 착오에 해당한다.
- ② 甲은 매매계약에 따른 하자담보책임을 乙에게 물을 수 있으므로 착오를 이유로 의사표시를 취소할 수 없다.
- ③ 乙이 甲의 중도금지급채무불이행을 이유로 매매계약을 해제한 후라도 甲은 착오를 이유로 의사표시를 취소할 수 있다.
- ④ 乙의 기망행위로 인해 매매계약을 체결하였다면 甲은 착오를 이유로 의사표시를 취소할 수 있을 뿐만 아니라 사기를 이유로도 의사표시를 취소할 수 있다.
- ⑤ 甲이 그림을 진품으로 믿은 것에 중대한 과실이 있는 경우에는 착오를 이유로 의사표시를 취소할 수 있다.

7. 甲의 무권대리인 乙이 丙에게 甲 소유의 부동산을 매도하여 소유권이전등기를 경료해주었고, 그 후 丙은 이 부동산을 丁에게 매도하고 소유권이전등기를 경료해주었다. 이에 관한 설명으로 옳지 않은 것은? (다툼이 있으면 판례에 따름)

- ① 丙은 甲에게 상당한 기간을 정하여 추인 여부의 확답을 최고할 수 있고, 그 기간 내에 甲이 확답을 발하지 않으면 추인을 거절한 것으로 본다.
- ② 丙이 계약 당시 乙에게 대리권이 없음을 안 경우, 丙은 乙에게 한 매수의 의사표시를 철회할 수 없다.
- ③ 甲이 丁에게 추인의 의사를 표시하더라도 무권대리행위에 대한 추인의 효과가 발생하지 않는다.
- ④ 甲이 乙에게 추인의 의사를 표시한 경우, 추인 사실을 알게 된 丙은 乙에게 한 매수의 의사표시를 철회할 수 없다.
- ⑤ 甲의 추인을 얻지 못한 경우, 丙이 무권대리에 관하여 선의이더라도 과실이 있으면 乙은 계약을 이행할 책임을 부담하지 않는다.

8. 乙은 甲으로부터 甲의 부동산을 담보로 3천만 원을 차용할 수 있는 대리권을 수여받았다고 하면서 甲을 대리하여 丙과 소비대차계약을 체결하였다. 이에 관한 설명으로 옳지 않은 것은? (다툼이 있으면 판례에 따름)

- ① 甲이 丙을 상대로, 乙에게 위와 같은 권한을 부여하였다고 말하였지만 실제로는 대리권을 乙에게 수여하지 않은 경우, 甲은 선의이고 무과실인 丙에게 대리권수여의 표시에 의한 표현대리의 책임을 진다.
- ② 乙이 甲으로부터 위와 같은 권한을 적법하게 부여받고서 丙과 5천만 원을 차용하는 계약을 체결한 경우, 丙이 乙에게 그런 권한이 있었다고 믿을 만한 정당한 이유가 있었다면 3천만 원을 초과하는 부분에 대해서는 甲은 권한을 넘은 표현대리의 책임을 진다.
- ③ 甲으로부터 위와 같은 권한을 적법하게 부여받은 乙이 선임한 복대리인 丁이 丙으로부터 5천만 원을 차용하는 계약을 체결한 경우, 丙이 丁에게 그런 권한이 있었다고 믿을 만한 정당한 이유가 있었다면 3천만 원을 초과하는 부분에 대해서는 甲은 권한을 넘은 표현대리의 책임을 진다.
- ④ 甲으로부터 위와 같은 권한을 적법하게 부여받은 乙이 소비대차계약 대신 丙에게 甲의 대리인으로서 그 부동산을 매도하였다면, 丙이 乙에게 매도할 권한이 있었다고 믿을 만한 정당한 이유가 있었다고 하더라도 매도행위는 차용행위와는 별개이므로 甲은 권한을 넘은 표현대리의 책임을 지지 않는다.
- ⑤ 권한을 넘은 표현대리에서 정당한 이유의 존부는 자칭 대리인의 대리행위가 행하여질 때에 존재하는 모든 사정을 객관적으로 관찰하여 판단하여야 한다.



9. 조건에 관한 설명으로 옳은 것은? (다툼이 있으면 판례에 따름)

- ① 당사자가 조건성취의 효력을 그 성취 전에 소급하게 할 의사를 표시하였더라도 특별한 사정이 없는 한 소급하지 않는다.
- ② 조건부 법률행위에서 조건이 선량한 풍속에 위반되면 당사자의 의도를 살리기 위하여 그 조건만이 무효이고 법률행위는 유효한 것이 원칙이다.
- ③ 조건부 권리는 조건의 성부가 미정인 상태에서는 그 가치에 대한 평가가 곤란하므로 담보제공은 할 수 없다.
- ④ 해제조건부 법률행위의 조건이 법률행위의 당시에 이미 성취할 수 없는 것인 경우에는 조건 없는 법률행위로 한다.
- ⑤ 상계의 의사표시에는 조건을 붙일 수 있다.

10. 소멸시효의 중단에 관한 설명으로 옳지 않은 것은? (다툼이 있으면 판례에 따름)

- ① 시효의 중단은 당사자 및 그 승계인간에만 효력이 있다.
- ② 주채무자에 대한 시효의 중단은 보증인에 대하여도 효력이 있다.
- ③ 연대채무자 중 1인이 소유하는 부동산에 대한 압류에 따른 시효중단의 효력은 다른 연대채무자에게는 미치지 않는다.
- ④ 채권자가 피고로서 응소하여 적극적으로 권리를 주장하고 그것이 받아들여진 경우 시효중단사유인 재판상의 청구에 해당한다.
- ⑤ 권리자인 피고가 응소하여 권리를 주장하였으나 그 소가 취하되어 본안에서 그 권리 주장에 관한 판단 없이 소송이 종료된 후 종료된 때부터 6월 내에 가압류를 하면, 권리자가 가압류를 한 때부터 시효중단의 효력이 인정된다.

11. 甲이 乙에게는 자신의 부동산을 매도할 권한을, 丙에게는 다른 사람으로부터 부동산을 매수할 권한을 각기 부여하였다. 그에 따라 甲을 대리하여 乙은 丁과 매도계약을, 丙은 戊와 매수계약을 각기 체결한 경우, 이에 관한 설명으로 옳지 않은 것은? (다툼이 있으면 판례에 따름)

- ① 乙은 위 매매계약에 따라 丁이 지급하는 중도금이나 잔금을 甲을 대리하여 수령할 권한이 있다.
- ② 丁이 위 매매계약의 채무를 이행하지 않는 경우, 乙은 그 계약을 해제할 수 있는 권한이 있다.
- ③ 丙은 위 매매계약을 체결한 후에는 그 매수한 부동산을 다시 처분할 수 있는 권한은 없다.
- ④ 丙이 위 매매계약을 체결한 경우, 丙에게는 戊로부터 위 매매계약의 해제의 의사표시를 수령할 권한은 없다.
- ⑤ 丁이 채무불이행을 이유로 위 매매계약을 적법하게 해제한 경우, 乙이 丁으로부터 받은 계약금을 도난당하여 甲에게 전달하지 못하였더라도 甲은 계약금을 반환해줄 의무가 있다.

**12. 소멸시효의 기산점에 관한 설명으로 옳지 않은 것은? (다툼이 있으면 판례에 따름)**

- ① 소멸시효는 원칙적으로 권리를 행사할 수 있는 때부터 진행한다.
- ② 확정기한부 채권은 기한이 도래한 때부터 진행한다.
- ③ 불확정기한부 채권은 기한이 객관적으로 도래한 때부터 진행한다.
- ④ 소유권이전등기의무의 이행불능으로 인한 전보배상청구권의 소멸시효는 이전등기의무가 이행불능이 된 때부터 진행한다.
- ⑤ 부작위를 목적으로 한 채권의 소멸시효는 계약한 때부터 진행한다.

**13. 물권의 소멸에 관한 설명으로 옳지 않은 것은? (다툼이 있으면 판례에 따름)**

- ① 부동산 합유지분의 포기로 인한 물권변동은登記하여야 효력이 있다.
- ② 어떠한 물건에 대한 소유권과 그에 대한 제한물권이 동일한 사람에게 귀속한 경우에도 본인 또는 제3자의 이익을 위해서 그 제한물권을 존속시킬 필요가 있으면 제한물권은 소멸하지 않는다.
- ③ 부동산임차권이 대항요건을 갖춘 후에 그 부동산에 제3자의 저당권이 설정된 경우, 소유권과 임차권이 동일인에게 귀속하더라도 임차권이 소멸하지 않는다.
- ④ 지상권이 저당권의 목적인 경우에는 저당권자의 동의가 없이는 지상권을 포기할 수 없다.
- ⑤ 부동산 근저당권자가 그 소유권을 취득하여 근저당권이 혼동으로 소멸한 경우 그 소유권 취득이 무효인 것이 밝혀졌더라도 소멸하였던 근저당권은 부활하지 않는다.

**14. 등기청구권에 관한 설명으로 옳지 않은 것은? (다툼이 있으면 판례에 따름)**

- ① 부동산 매매로 인한 소유권이전등기청구권은 채권적 청구권이다.
- ② 부동산 매매로 인한 소유권이전등기청구권은 특별한 사정이 없는 한 그 권리의 성질상 양도가 제한되고 그 양도에 채무자의 승낙이나 동의를 요한다.
- ③ 토지 일부에 대한 점유취득시효가 완성된 후 점유자가 그 토지 부분에 대한 점유를 상실한 경우, 특별한 사정이 없는 한 시효완성을 원인으로 한 소유권이전등기청구권도 즉시 소멸한다.
- ④ 취득시효완성으로 인한 소유권이전등기청구권의 양도는 특별한 사정이 없는 한 등기 의무자에게 통지함으로써 그에게 대항할 수 있다.
- ⑤ 소유권이전등기를 받지 않은 부동산의 매수인이 그 부동산을 인도받아 이를 사용·수익하다가 다른 사람에게 그 부동산을 처분하고 그 점유를 승계하여 준 경우, 매수인 의 매도인을 상대로 한 이전등기청구권의 소멸시효는 진행되지 않는다.

**15. 등기의 추정력에 관한 설명으로 옳지 않은 것은? (다툼이 있으면 판례에 따름)**

- ① 미성년자인 전(前) 등기명의인이 친권자에게 이해상반행위인 부동산 증여를 했어도 일단 친권자에게 그 부동산의 소유권이전등기가 경료된 이상, 특별한 사정이 없는 한 그 이전등기의 절차를 적법하게 거친 것으로 추정된다.
- ② 소유권이전청구권 보전을 위한 가등기가 있으면 소유권이전등기를 청구할 어떤 법률관계가 있다고 추정된다.
- ③ 신축된 건물은 소유권보존등기의 명의자가 이를 신축한 것이 아니라면 그 보존등기의 권리 추정력은 깨어진다.
- ④ 등기가 원인 없이 말소된 경우 그 회복등기가 마쳐지기 전이라도 말소된 등기의 등기 명의인은 적법한 권리자로 추정된다.
- ⑤ 토지에 대한 소유권보존등기의 추정력은 그 보존등기 명의인 이외의 자가 당해 토지를 사정받은 것으로 밝혀지면 깨어진다.

**16. 점유에 관한 설명으로 옳지 않은 것은? (다툼이 있으면 판례에 따름)**

- ① 점유자는 선의로 점유한 것으로 추정되지만, 권원 없는 점유였음이 밝혀지면 곧 그동안의 점유에 대한 선의의 추정이 깨진다.
- ② 선의의 점유자라도 본권에 관한 소에 패소한 때에는 그 소가 제기된 때로부터 악의의 점유자로 본다.
- ③ 선의의 점유자에게 과실취득권이 있다는 이유만으로 불법행위로 인한 손해배상책임이 배제되지는 않는다.
- ④ 악의의 점유자는 그 받은 이익에 이자를 붙여 반환하여야 하며, 그 이자의 이행지체로 인한 지연손해금도 지급하여야 한다.
- ⑤ 악의의 점유자는 과실(過失)로 인하여 과실(果實)을 훼손한 경우 그 대가를 보상하여야 한다.

**17. 상린관계에 관한 설명으로 옳지 않은 것은?**

- ① 토지소유자는 일정한 경우 이웃 토지소유자에게 보상하고 여수(餘水)의 급여를 청구 할 수 있다.
- ② 토지소유자는 경계나 그 근방에서 담 또는 건물을 축조하거나 수선하기 위하여 필요한 범위내에서 이웃 토지의 사용을 청구할 수 있다.
- ③ 분할로 인하여 공로(公路)에 통하지 못하는 토지의 소유자가 공로에 출입하기 위해 다른 분할자의 토지를 통행하는 경우 이로 인한 손해를 보상하여야 한다.
- ④ 고지소유자가 농업용 여수(餘水)를 소통하기 위하여 저지에 물을 통과하게 한 경우 이로 인한 저지의 손해를 보상하여야 한다.
- ⑤ 수류지(水流地)의 소유자가 대안(對岸)에 언(堰)을 접촉하게 한 경우 이로 인한 대안 소유자의 손해를 보상하여야 한다.

18. 甲은 2010년 2월 11일에 조세 포탈의 목적으로 乙과 명의신탁약정을 맺었고, 이에 따라 乙은 甲으로부터 받은 매수자금을 가지고 계약의 당사자로서 丙 소유의 부동산을 매수하고 丙으로부터 소유권이전등기를 경료받았다. 이에 관한 설명으로 옳지 않은 것은? (다툼이 있으면 판례에 따름)

- ① 丙이 계약 체결 이후에 甲과 乙의 명의신탁약정 사실을 알게 된 경우, 乙과의 매매계약은 소급적으로 무효가 된다.
- ② 丙이 甲과 乙의 명의신탁관계를 모른 경우, 그 명의신탁관계는 계약명의신탁에 해당한다.
- ③ 丙이 甲과 乙의 명의신탁관계를 모르고 있었던 경우, 특별한 사정이 없는 한 乙은 甲으로부터 지급받은 취득세를 甲에게 부당이득으로 반환하여야 한다.
- ④ 명의신탁약정의 무효로 인하여 乙은 당해 부동산 자체가 아니라 甲으로부터 제공받은 매수자금을 부당이득한 것이다.
- ⑤ 丙이 계약 당시 甲과 乙의 명의신탁관계를 알고 있었던 경우, 丙은 乙에게 매매계약이 무효임을 이유로 乙 명의의 등기말소를 구할 수 있다.

19. 甲이 유치권을 행사할 수 있는 경우는? (다툼이 있으면 판례에 따름)

- ① 건물 신축공사의 수급인 甲이 사회통념상 독립한 건물이라고 볼 수 없는 구조물을 설치한 상태에서 공사가 중단되고 토지에 대한 경매가 진행되자 공사대금 지급을 요구하며 토지를 점유하는 경우
- ② 乙 소유의 건물에 경매개시결정의 기입등기가 경료되어 압류의 효력이 발생한 이후에 공사업자 甲이 乙로부터 위 부동산의 점유를 이전받아 공사를 하고 경매절차의 매수인에게 그 공사대금 지급을 요구하며 건물을 점유하는 경우
- ③ 수급인 甲이 건물을 완공한 후 도급인 乙로부터 공사대금은 받았지만 그 대금의 이행지체로 인한 손해배상액은 지급받지 못하자 그 지급을 요구하며 건물을 점유하는 경우
- ④ 임차인 甲과 임대인 乙 사이에 임대차계약 종료 후 건물명도 시 권리금을 반환하기로 하는 약정이 있었음에도 乙이 권리금을 반환하지 않자 甲이 그 지급을 요구하며 건물을 점유하는 경우
- ⑤ 甲이 건물을 매도하면서 중도금만 지급받고 잔금은 못 받은 상태에서 매수인에게 소유권이전등기를 마쳐준 후 잔금지급을 요구하며 건물을 점유하는 경우

20. 甲은 2018년 5월 1일 乙 소유 X아파트를 임차기간 2년, 임대차보증금 1억 5천만 원에 임차하고 전입신고 후 살고 있다. 甲은 2019년 5월 30일 丙으로부터 변제기를 2020년 5월 30일로 하여 1억 원을 대출받으면서 임대차보증금반환채권에 대해 질권을 설정해 주었고, 乙도 이를 승낙하였다. 이에 관한 설명으로 옳지 않은 것은? (다툼이 있으면 판례에 따름)

- ① 乙이 丙의 동의 없이 甲에게 임대차보증금 반환채무를 변제하더라도 丙에게 대항할 수 없다.
- ② 丙은 甲이 변제기가 지나도 변제하지 않는 경우, 질권의 목적이 된 채권을 자기 채권의 한도에서 乙에게 직접 청구할 권리가 있다.
- ③ 甲이 질권의 목적인 임대차보증금반환채권을 제3자에게 양도하는 경우 丙의 동의를 요하지 않는다.
- ④ 乙이 丙의 동의 없이 자신의 1억 원의 채권으로 甲과 상계합의를 한 경우, 丙은 乙에게 직접 채무의 변제를 청구할 수 없다.
- ⑤ 乙이 丁에게 X아파트를 양도한 경우, 질권이 설정되어 있더라도 특별한 사정이 없는 한 丁이 임대차보증금반환채무를 면책적으로 인수한다.

21. 甲은 乙에 대한 1억 5천만 원의 채권을 담보하기 위하여 乙 소유의 X토지(시가 2억 원)와 물상보증인 丙 소유 Y토지(시가 1억 원)에 각각 1번 저당권을 가지고 있다. 그리고 丁이 X토지에 피담보채권 1억 원의 2번 저당권을, 戊가 Y토지에 피담보채권 1억 원의 2번 저당권을 가지고 있다. 경매가 이루어져 X토지 및 Y토지가 시가대로 낙찰되고 다른 비용은 고려하지 않는다면, 이에 관한 설명으로 옳은 것은? (다툼이 있으면 판례에 따름)

- ① 동시배당이 이루어지는 경우, 甲은 X토지로부터 1억 원, Y토지로부터 5천만 원을 배당받는다.
- ② 甲이 피담보채권을 변제받기 전에 X토지에 관한 저당권을 포기하였더라도, 甲은 Y토지의 경매가 먼저 이루어지는 경우 1억 원을 배당받을 수 있다.
- ③ 먼저 X토지의 경매가 이루어져 甲이 그 경매대가로부터 채권 전액의 변제를 받았다면, 丁은 Y토지에 대하여 1억 원의 범위 내에서 甲이 가지고 있던 1번 저당권을 대위 할 수 있다.
- ④ 먼저 Y토지의 경매가 이루어져 甲이 그 경매대가로부터 1억 원의 변제를 받았다면, 나중에 X토지의 경매대가로부터 戊가 1억 원, 丙이 5천만 원을 배당받게 된다.
- ⑤ 먼저 Y토지의 경매가 이루어져 甲이 그 경매대가로부터 1억 원의 변제를 받은 경우, 乙이 丙에 대한 5천만 원의 다른 채권으로 丙의 구상금채권과 상계하더라도 戊에게 대항할 수 없다.

22. 甲은 乙로부터 돈을 빌리면서 자기 소유의 표토지에 1번 근저당권(채권최고액 5억 원)을 설정해 주었고, 甲은 다시 丙으로부터 돈을 빌리면서 표토지에 2번 근저당권 (채권최고액 3억 원)을 설정해 주었다. 이에 관한 설명으로 옳은 것은? (다툼이 있으면 판례에 따름)

- ① 丙이 2번 근저당권의 피담보채무 불이행을 이유로 경매를 신청한 때에는 경매신청시에 乙의 피담보채권이 확정된다.
- ② 乙이 경매를 신청하여 피담보채권의 원본채권이 4억 원으로 확정되었더라도 이 4억 원에 대한 확정 후 발생한 이자 1천만 원은 근저당권에 의해 담보된다.
- ③ 丙의 근저당권의 존속기간을 정하지 않은 경우, 甲이 근저당권 설정계약을 해지하더라도 근저당권으로 담보되는 丙의 피담보채무는 확정되지 않는다.
- ④ 결산기에 확정된 乙의 채권이 6억 원인 경우, 甲은 5억 원만 변제하면 乙의 근저당권의 소멸을 청구할 수 있다.
- ⑤ 丁이 X토지를 매수하여 소유권을 취득한 경우, 丙의 확정된 피담보채권이 4억 원이면 丁은 4억 원을 변제하지 않는 한 丙의 근저당권의 소멸을 청구할 수 없다.

23. 저당권과 동산질권에 관한 설명으로 옳은 것을 모두 고른 것은? (다툼이 있으면 판례에 따름)

ㄱ. 저당권과 질권 모두 그 설정에 있어 부동산 또는 동산의 인도는 요구되지 않는다.  
 ㄴ. 저당권과 질권 모두 피담보채권의 전부를 변제받을 때까지 목적물 전부에 대해 그 권리를 행사할 수 있다.  
 ㄷ. 저당권과 달리 질권은 담보물의 보존비용이나 담보물의 하자로 인한 손해배상청구권을 담보한다.  
 ㄹ. 저당권과 달리 질권은 담보물의 공용징수로 인하여 질권설정자가 받을 금전에 대해서는 질권을 행사할 수 없다.

- ① ㄱ, ㄴ
- ② ㄴ, ㄷ
- ③ ㄷ, ㄹ
- ④ ㄱ, ㄴ, ㄹ
- ⑤ ㄱ, ㄷ, ㄹ

24. 甲은 乙에 대한 5천만 원의 채무를 담보하기 위하여 점유개정의 방법으로 甲 소유의 A기계를 乙에게 양도하였고, 甲은 丙에 대한 5천만 원의 채무를 담보하기 위하여 점유개정의 방법으로 다시 그 기계를 丙에게 양도하였다. 그 후 甲은 乙로부터 5천만 원을 추가로 빌리면서 양도담보계약에서 약정하였던 피담보채무액을 증액 하였다. 이에 관한 설명으로 옳은 것을 모두 고른 것은? (다툼이 있으면 판례에 따름)

ㄱ. 甲이 A기계에 대한 점유를 잃으면, 乙 역시 양도담보권을 상실한다.  
 ㄴ. 만약 甲의 의뢰로 丁이 A기계를 수리한 경우, 丁은 乙에게 수리비 상당의 부당이득반환을 청구할 수 있다.  
 ㄷ. A기계에 대해 경매절차가 진행되어 1억 원에 매각된 경우, 乙이 1억 원을 변제받게 된다.  
 ㄹ. 丙이 乙에게 양도담보권이 있다는 사실을 알면서 甲으로부터 A기계를 현실인도받아 제3자에게 처분하여 제3자가 선의취득한 경우, 丙은 乙에게 불법 행위책임을 진다.

- ① ㄱ, ㄴ
- ② ㄴ, ㄷ
- ③ ㄷ, ㄹ
- ④ ㄱ, ㄴ, ㄹ
- ⑤ ㄱ, ㄷ, ㄹ

## 25. 이자채권에 관한 설명으로 옳지 않은 것은? (다툼이 있으면 판례에 따름)

- ① 이자채권은 주된 채권인 원본의 존재를 전제로 그에 대응하여 일정한 비율로 발생하는 종된 권리이다.
- ② 이미 발생한 이자에 관하여 채무자가 이행을 지체한 경우에는 그 이자에 대한 지연손해금을 청구할 수 있다.
- ③ 원본채권이 양도될 당시 이미 변제기에 도달한 이자채권은 그 이자채권도 함께 양도한다는 의사 표시가 없더라도 양도되는 것이 원칙이다.
- ④ 이자채권이라고 하더라도 1년 이내의 정기에 지급하기로 한 것이 아니면 민법 제163조가 정한 3년의 단기소멸시효가 적용되지 않는다.
- ⑤ 대여금 원본채권에 대한 소멸시효 완성의 효력은 소멸시효가 완성된 원금 부분으로부터 그 완성 전에 발생한 이자에도 미친다.

## 26. 대상청구권에 관한 설명으로 옳지 않은 것은? (다툼이 있으면 판례에 따름)

- ① 쌍무계약의 당사자 일방이 대상청구권을 행사하는 경우 상대방에 대하여 반대급부를 이행할 의무가 있다.
- ② 부동산 점유취득시효 완성을 원인으로 한 등기청구권이 이행불능으로 되었다고 하여 대상청구권을 행사하기 위해서는, 그 이행불능 전에 등기명의자에 대하여 점유취득시효 완성을 이유로 그 권리를 주장하였거나 점유취득시효 완성을 원인으로 한 등기청구권을 행사하였어야 한다.
- ③ 매매 목적물인 부동산이 수용되어 그 소유권이전등기의무가 이행불능이 된 경우, 등기청구권자는 등기의무자에게 대상청구권의 행사로써 등기의무자가 지급받은 수용보상금의 반환을 구하거나 또는 등기의무자가 취득한 수용보상금청구권의 양도를 구할 수 있다.
- ④ 대상청구의 대상이 되는 보상금을 채권자가 직접 자신의 명의로 지급받았다면 채무자에 대한 관계에서 바로 부당이득이 된다.
- ⑤ 매매 목적물의 이중매매로 인하여 매도인의 소유권이전등기의무가 이행불능된 경우, 매수인에게 인정되는 대상청구권은 특별한 사정이 없는 한 매도인의 소유권이전등기 의무가 이행불능되었을 때부터 소멸시효가 진행되는 것이 원칙이다.

27. 이행지체책임의 발생시기에 관한 설명으로 옳은 것을 모두 고른 것은? (다툼이 있으면 판례에 따름)

- ㄱ. 채무이행의 확정된 기한이 있는 경우에는 채무자는 기한이 도래한 때로부터지체책임이 있고, 채무이행의 불확정한 기한이 있는 경우에는 채무자는 기한이 도래함을 안 때로부터 지체책임이 있다.
- ㄴ. 채무이행의 기한이 없는 경우에는 채무자는 이행청구를 받은 다음 날부터 지체책임이 있다.
- ㄷ. 불법행위로 인한 손해배상의 경우 채무자는 불법행위일 다음 날부터 재산상 손해와 위자료를 합산한 금액 전부에 대하여 지체책임이 있다.
- ㄹ. 불법행위에서 위법행위 시점과 손해발생 시점 사이에 시간적 간격이 있는 경우에 불법행위로 인한 손해배상청구권의 지연손해금은 손해발생시점을 기산일로 하여 발생한다.

- ① ㄱ, ㄴ                      ② ㄴ, ㄷ                      ③ ㄷ, ㄹ                      ④ ㄱ, ㄴ, ㄹ                      ⑤ ㄱ, ㄷ, ㄹ

28. 채무불이행으로서 이행거절에 관한 설명으로 옳지 않은 것은? (다툼이 있으면 판례에 따름)

- ① 이행거절을 이유로 계약을 해제하기 위해서는 채권자는 채무자에게 채무이행을 최고하여야 한다.
- ② 채무자가 계약을 이행하지 않을 의사를 명백히 표시하였는지 여부는 계약 이행에 관한 당사자의 행동과 계약 전·후의 구체적인 사정 등을 종합적으로 고려하여 판단하여야 한다.
- ③ 쌍무계약에서 당사자 일방이 자기의 채무를 아직 다 이행하지 아니하였으면서도 이미 다 이행하였다고 주장하면서 상대방 채무의 이행을 구하는 제소까지 하였다면, 특별한 사정이 없는 한 미리 자기의 채무를 이행하지 아니할 의사를 표명한 것으로 볼 수 있다.
- ④ 이행거절을 이유로 채권자가 해제권을 행사하는 경우 그 이행거절 의사를 표명했는지 여부에 대한 판단시기는 계약해제 시이다.
- ⑤ 이행거절이라는 채무불이행이 인정되기 위해서는 채무를 이행하지 아니할 채무자의 명백한 의사 표시가 위법한 것으로 평가되어야 한다.

29. 채권자대위권에 관한 설명으로 옳은 것은? (다툼이 있으면 판례에 따름)

- ① 토지거래허가구역 내의 토지에 관한 매매계약에서 매수인이 매도인에 대하여 가지는 토지거래허가신청 절차의 협력의무의 이행청구권은 채권자대위권의 피보전채권에 해당하지 않는다.
- ② 특정채권도 채권자대위권의 피보전채권이 될 수 있지만, 순차 매도에서 소유권이전등기청구권이 나 임대차에 있어 명도청구권 등의 보전을 위한 경우에 한하여 채권자대위권이 인정된다.
- ③ 채권자대위권의 피보전채권이 되기 위해서는 그 채권이 제3채무자에게까지 대항할 수 있는 것이어야 한다.
- ④ 채권자가 채권자대위권을 행사하여 제3채무자에 대하여 하는 청구에서, 제3채무자는 채무자가 채권자에 대하여 가지는 동시이행의 항변권을 행사하여 대항할 수 있다.
- ⑤ 임대인의 동의 없는 임차권의 양도는 다른 특약이 없는 한 임대인에게는 대항할 수 없고, 그 임차권의 양수인은 임대인의 권한을 대위행사할 수 없다.



30. 채권자취소권의 대상이 되는 사해행위에 관한 설명으로 옳지 않은 것은? (다툼이 있으면 판례에 따름)

- ① 사해행위는 채무자가 재산을 처분하기 이전에 이미 채무초과 상태에 있는 경우뿐만 아니라, 문제된 처분행위로 말미암아 비로소 채무초과 상태에 빠지는 경우에도 성립할 수 있다.
- ② 채권양도행위가 사해행위에 해당하지 않는 경우에 양도통지가 따로 채권자취소권 행사의 대상이 될 수는 없다.
- ③ 채무자의 재산적 법률행위라 하더라도 채무자의 책임재산이 아닌 재산에 관한 법률행위인 경우에는 채권자취소권의 대상이 될 수 없다.
- ④ 채권자취소권에서 취소의 대상이 되는 사해행위는 채권행위거나 물권행위임을 불문한다.
- ⑤ 채무자의 법률행위가 통정허위표시로서 무효이거나 이미 해지된 경우에는 채권자취소권의 대상이 되지 않는다.

31. 甲은 乙의 피용자 丙의 과실에 의한 불법행위로 2억 원의 손해를 입었는데, 丙의 위 불법행위에 대해 乙의 사용자책임이 인정되었다. 丙의 손해배상채무액은 2억 원으로 인정되었고, 乙의 손해배상채무액은 甲의 과실을 참작하여 과실상계를 한 결과 1억 5천만 원으로 인정되었다. 이에 관한 설명으로 옳지 않은 것은? (다툼이 있으면 판례에 따름)

- ① 甲에 대한 丙의 손해배상채무와 乙의 손해배상채무는 부진정연대채무의 관계에 있다.
- ② 丙이 甲에게 1억 원을 변제한 경우, 甲에 대한 乙의 손해배상채무액은 5천만 원이 남게 된다.
- ③ 甲이 乙에 대한 손해배상채권의 소멸시효를 중단시키더라도 丙에 대한 손해배상채권의 소멸시효는 중단되지 않는다.
- ④ 丙이 자신의 甲에 대한 2억 원의 대여금채권으로 적법하게 상계한 경우, 그 상계로 인한 채무소멸의 효력은 乙에 대하여도 미친다.
- ⑤ 丙이 甲에 대하여 상계할 채권을 가지고 있으면서 상계하지 않고 있는 경우, 乙이 그 채권을 가지고 상계할 수는 없다.

32. 채무인수 등에 관한 설명으로 옳지 않은 것은? (다툼이 있으면 판례에 따름)

- ① 부동산의 매수인이 매매목적물에 관한 근저당권의 피담보채무를 인수하는 한편 그 채무액을 매매대금에서 공제하기로 약정한 경우, 다른 특별한 약정이 없는 한 이는 채무인수로 보아야 한다.
- ② 부동산매매계약과 함께 매수인이 매매대금 지급에 갈음하여 매도인의 제3자에 대한 채무의 이행을 인수하였는데 매수인의 인수채무불이행으로 말미암아 매도인이 인수채무를 대신 변제한 경우, 그로 인한 매수인의 손해배상채무와 매도인의 소유권이전등기 의무는 동시이행관계에 있다.
- ③ 채무자와 인수인 사이에 이행인수계약이 체결된 경우, 채권자는 직접 인수인에게 채무를 이행할 것을 청구할 수 없다.
- ④ 계약당사자로서의 지위 승계를 목적으로 하는 계약인수는 계약당사자 및 인수인의 3면 합의에 의하여 이루어지는 것이 보통이나, 관계 당사자 중 2인이 합의하고 나머지 당사자가 이를 동의 내지 승낙하는 방법으로도 가능하다.
- ⑤ 채무자와 인수인의 계약으로 체결되는 병존적 채무인수는 제3자를 위한 계약의 하나로 볼 수 있다.

33. 계약에 관한 설명으로 옳은 것을 모두 고른 것은? (다툼이 있으면 판례에 따름)

- ㄱ. 승낙기간을 정하지 아니한 계약의 청약은 한 자가 상당한 기간 내에 승낙의 통지를 받은 때에는 계약이 성립한다.
- ㄴ. 관습에 의하여 승낙의 의사표시가 필요하지 아니한 경우, 계약의 성립 시기는 청약자가 승낙의 의사표시로 인정되는 사실을 알게 된 때이다.
- ㄷ. 어느 일방이 교섭단계에서 계약이 확실하게 체결되리라는 정당한 기대 내지 신뢰를 부여하여 상대방이 그 신뢰에 따라 행동하였음에도 상당한 이유 없이 계약의 체결을 거부하여 손해를 입혔다면 불법행위를 구성할 수 있다.
- ㄹ. 목적이 불능인 계약을 체결할 때에 그 불능을 알 수 있었을 자는 상대방이 그 불능을 알 수 있었더라도 이행이익을 넘지 않은 한도에서 상대방에게 신뢰이익을 배상하여야 한다.

- ② ① ㄱ, ㄴ
- ② ㄱ, ㄷ
- ③ ㄴ, ㄹ
- ④ ㄱ, ㄷ, ㄹ
- ⑤ ㄴ, ㄷ, ㄹ

**34. 동시이행관계에 관한 설명으로 옳은 것은? (다툼이 있으면 판례에 따름)**

- ① 목적물 인도와 대금지급이 동시이행관계에 있는 매매에서 매도인이 대금채권을 제3자에게 양도하고 매수인에게 통지한 경우, 매수인은 제3자에 대해 동시이행의 항변권을 행사할 수 없다.
- ② 매수인이 선이행의무 있는 중도금지급을 이행하지 않은 상태에서 잔대금지급과 동시이행관계에 있는 매도인의 소유권이전등기 소요서류 제공 없이 잔대금지급기일이 도과한 경우, 특별한 사정이 없는 한 그때 이후의 기간에 대해서는 매수인은 위 중도금을 지급하지 않더라도 이행지체의 책임을 지지 않는다.
- ③ 동시이행관계에 있는 채무에 있어 상대방의 이행제공을 수령하지 않음으로써 수령지체에 빠진 당사자는 그 후 상대방이 자신의 채무의 이행제공 없이 이행을 청구하는 경우 동시이행의 항변권을 행사할 수 없다.
- ④ 동시이행의 항변권이 붙은 채권을 수동채권으로 하여 상계하지 못한다.
- ⑤ 乙이 甲의 공장건물을 매수한 뒤 그 소유권 이전등기 전에 甲의 동의를 얻어 丙에게 임대하였으나 甲이 매매계약을 적법하게 해제하고 丙에게 건물 명도를 청구하는 경우, 丙의 甲에 대한 건물명도 의무와 乙의 보증금반환의무는 동시이행관계에 있다.

**35. 증여에 관한 설명으로 옳지 않은 것은? (다툼이 있으면 판례에 따름)**

- ① 정기의 급여를 목적으로 한 증여는 증여자의 사망으로 인하여 그 효력을 잃는다.
- ② 부담부증여에서 수증자가 부담의무를 이행하지 않은 경우, 증여자는 자신의 의무를 이행했다라도 증여계약을 해제할 수 있다.
- ③ 증여자가 증여의 목적에 대한 담보책임을 진다는 특약은 효력이 있다.
- ④ 증여자에 대해 법률상 부양의무를 지는 수증자가 부양의무를 이행하지 않은 경우, 증여자는 그 사실을 안 날로부터 6개월이 경과한 때에는 해제할 수 없다.
- ⑤ 증여의 의사가 서면으로 표시되지 않았음을 이유로 한 증여의 해제는 형성권의 제척 기간의 적용을 받는다.

36. 매매에 관한 설명으로 옳은 것은? (다툼이 있으면 판례에 따름)

- ① 자전거 매매에 있어 자전거의 인도와 동시에 대금을 지급할 경우에는 자전거 인도장소에서 대금을 지급하여야 한다.
- ② 행사기간의 약정이 없는 매매예약 완결권은, 권리자가 예약목적물인 부동산을 인도받은 경우에는 예약이 성립한 때로부터 10년이 경과하더라도 소멸하지 않는다.
- ③ 매수인이 매도인에게 지급한 계약금을 포기하고 적법하게 매매를 해제한 경우, 이로 인해 매도인에게 계약금 이상의 손해가 발생한 때에는 매도인은 매수인에 대해 손해배상청구를 할 수 있다.
- ④ 매매계약 후에도 인도하지 아니한 목적물로부터 생긴 과실은 매도인에 속하므로, 매수인이 매매대금을 완납한 후라도 매매목적물을 인도하기까지는 과실수취권은 매도인에게 귀속된다.
- ⑤ 매매의 목적인 재산권과 대금에 관한 합의가 있더라도, 계약비용·채무이행기·이행장소에 관한 합의가 없으면 특별한 사정이 없는 한 매매계약이 성립할 수 없다.

37. 甲은 2020년 1월 29일에 그 소유 토지를 乙에게 10억 원에 매도하는 계약을 체결하면서 계약금은 1억 원으로 하고, 2020년 2월 29일에 중도금 4억 원을 지급받음과 동시에 소유권이전등기를 넘겨주고, 잔금은 2020년 3월 29일까지 지급받기로 하였다. 이에 관한 설명으로 옳은 것을 모두 고른 것은? (다툼이 있으면 판례에 따름)

ㄱ. 乙이 약정대로 중도금까지 지급하고 소유권이전등기를 경료하였으나, 2020년 3월 29일에 잔금을 지급하지 않은 경우, 甲은 즉시 계약을 해제할 수 있다.

ㄴ. 등기를 취득한 을이 2020년 4월 16일에 丙에게 매도하고 이전등기를 해준 뒤, 甲이 乙의 채무불이행을 이유로 적법하게 계약을 해제한 경우, 丙이 乙과의 계약 당시 乙의 채무불이행 사실을 알았더라도 甲은 丙 명의 등기의 말소를 청구할 수 없다.

ㄷ. 乙이 등기를 취득한 후 甲이 2020년 4월 25일에 乙의 채무불이행을 이유로 적법하게 계약을 해제하였으나 乙 명의의 등기를 말소하기 전에 丙 명의의 저장권등기가 이루어진 경우, 丙이 계약 해제 사실을 몰랐다면 甲은 丙 명의 등기의 말소를 청구할 수 없다.

- ① ㄱ
- ② ㄷ
- ③ ㄱ, ㄴ
- ④ ㄴ, ㄷ
- ⑤ ㄱ, ㄴ, ㄷ

38. 위임에 관한 설명으로 옳은 것은? (다툼이 있으면 판례에 따름)

- ① 위임계약의 성립은 위임장의 작성·교부를 요한다.
- ② 보수를 받지 않는 수임인은 위임사무처리에 관해 자기재산과 동일한 주의의무를 부담한다.
- ③ 변호사에게 소송사건의 처리를 위임함에 있어서 그 보수 지급 및 액수에 관하여 명시적인 약정을 하지 않은 경우, 특별한 사정이 없는 한 변호사는 보수를 청구할 수 없다.
- ④ 유상위임의 수임인도 언제든지 위임계약을 해지할 수 있다.
- ⑤ 경찰관이 응급의 구호를 요하는 자를 보건의료기관에게 긴급구호요청을 하고 보건의료기관이 이에 따라 치료행위를 한 경우, 국가와 보건의료기관 사이에 치료위임계약이 체결된 것으로 볼 수 있다.

39. 甲은 2018년 6월 1일 乙에게 건물의 신축공사를 공사대금 10억 원으로 하고, 공사 기간 2018년 6월 1일부터 2018년 12월 30일까지로 정하여 도급을 주었는데, 위 공사대금에는 승강기를 설치하는 것이 포함되어 있었다. 丙은 2018년 6월 30일 乙과 사이에 그 건물에 丙이 제작한 승강기를 1억 원에 제작·판매·설치하기로 하는 계약을 체결하고 승강기의 소유권은 그 제작·판매·설치대금을 모두 지급받는 시점까지 丙에게 유보하는 것으로 정하였다. 丙은 2018년 12월 9일 승강기를 설치하여 그 승강기가 건물로부터 분리할 수 없게 되었고, 甲은 2019년 3월 1일 乙에게 공사잔대금을 완불한 뒤 건물을 인도받아 보존등기 없이 丁에게 매도하고 대금 전액 수령과 동시에 인도하였다. 乙은 丙에게 승강기 제작·판매·설치대금을 지급하지 않고 있다. 이에 관한 설명으로 옳은 것은? (다툼이 있으면 판례에 따름)

- ① 乙과 丙은 승강기를 그 대체가 어렵거나 불가능할 정도로 신축건물에 맞추어 일정한 사양으로 특정하였고, 그 제작·판매·설치대금의 구분 없이 총 계약금액을 1억 원으로 정했더라도, 乙과 丙의 계약은 매매와 도급이 혼합된 계약이다.
- ② 2020년 5월 30일 丙의 승강기 제작·판매·설치대금 청구에 대해 乙은 그 채무가 시효로 소멸했음을 주장할 수 있다.
- ③ 丁은 건물에 관해 등기를 취득하지 않았더라도 그 소유권을 취득한다.
- ④ 위 건물이 戊의 토지 위에 무단으로 건축된 경우, 戊는 건물을 점유하는 丁을 상대로 건물철거를 청구할 수 없다.
- ⑤ 甲이 승강기 소유권이 丙에게 유보된 사실에 관하여 과실 없이 알지 못한 경우, 丙은 甲을 상대로 승강기 제작·판매·설치대금 상당의 부당이득반환을 청구할 수 없다.

40. 불법행위에 관한 설명으로 옳지 않은 것은? (다툼이 있으면 판례에 따름)

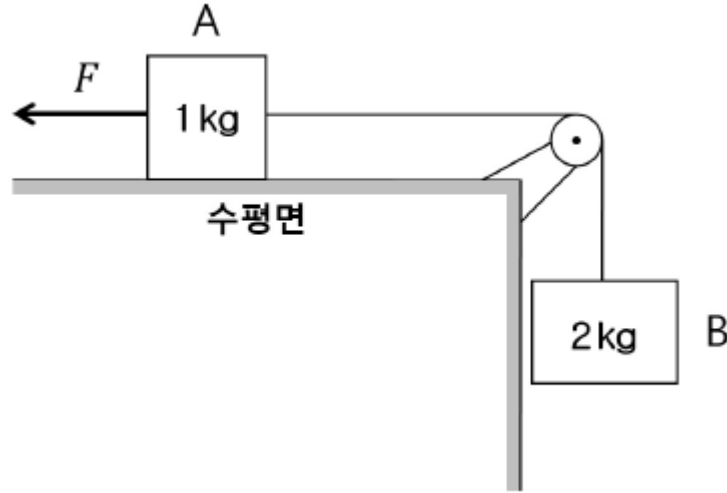
- ① 공작물 보존의 하자로 인하여 타인에게 손해를 가한 경우, 그 점유자는 손해의 방지에 필요한 주의를 해태하지 아니한 때에도 소유자와 연대하여 손해를 배상할 책임이 있다.
- ② 수급인이 도급받은 일에 관하여 제3자에게 손해를 가한 경우, 도급인에게 도급 또는 지시에 관하여 중대한 과실이 있는 때에는 도급인은 제3자에게 손해를 배상할 책임이 있다.
- ③ 책임능력 있는 미성년자의 불법행위로 인하여 손해가 발생한 경우, 그 발생한 손해가 당해 미성년자의 감독의무자의 의무위반과 상당인과관계가 있을 때에는 감독의무자는 일반 불법행위자로서 손해배상책임이 있다.
- ④ 타인의 불법행위로 생명을 잃은 피해자의 직계비속의 배우자는 경험칙상 그 직계비속에 비견할 정신적 고통을 받는다 할 것이므로 그에 대한 위자료를 청구할 수 있다.
- ⑤ 타인의 명예를 훼손한 자에 대하여 법원은 사죄광고를 명할 수 없다.

03  
2020

제57회 변리사 1차 국가자격시험  
[3교시] 자연과학개론

변리사스쿨

1. 그림은 도르래에 한 줄로 연결된 질량이 각각 1kg, 2kg 인 물체 A, B가 힘  $F$  에 의해 정지해 있는 모습을 나타낸 것이다.  $F$  를 없앴더니 두 물체가  $4m/s^2$  의 가속력을 가지고 A는 오른쪽으로, B는 연직 아래로 각각  $0.1m$  이동하였다.  $0.1m$  이동하는 동안 A에 작용되는 마찰력이 한 일(J) 의 절댓값은? (단, 중력가속도  $g$  는  $10m/s^2$  이고, 공기 저항, 도르래의 회전 마찰력과 질량, 줄의 질량은 무시한다.)



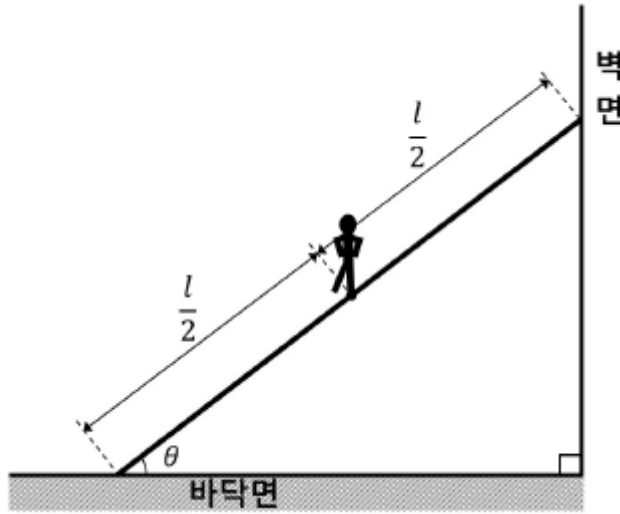
- ① 0.6                      ② 0.8                      ③ 1.0                      ④ 1.2                      ⑤ 1.4

2. 질량이 각각 60kg, 90kg인 갑과 을이 마찰이 없는 평면 위에 정지해 있다. 갑은  $x$  축의 원점에 있고, 을은  $x = +10m$  지점에 있다. 갑과 을은 줄의 양끝을 잡고 있다가, 어느 순간 줄을 마주잡고 끌어당겨서 갑과 을이 가까워지고 있다. 다음 물음에 답하시오. (단, 공기 저항과 줄의 질량은 무시하고, 줄의 길이는 늘어나지 않는다.)

ㄱ. 갑의 속도가  $+0.30 \hat{x} m/s$  일 때, 을의 속도  $\vec{v}_을$  는? (단,  $\hat{x}$  는  $+x$  방향의 단위벡터이다.)  
 ㄴ. 갑과 을이 처음 만나준 지점의  $x$  좌표는?

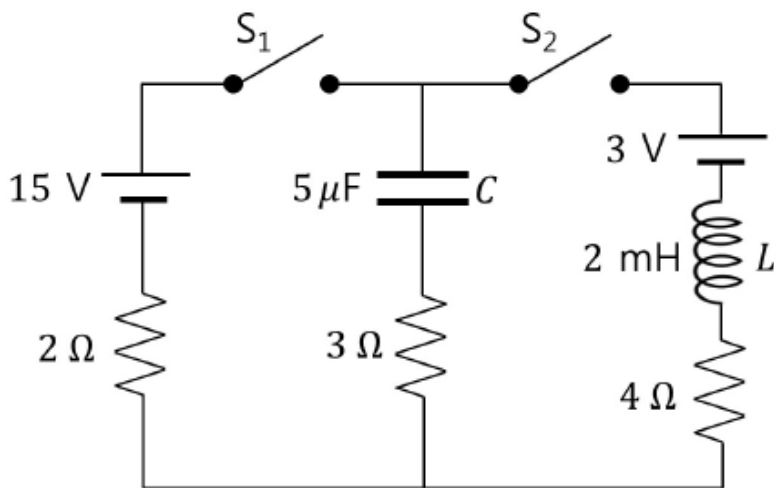
- ① ㄱ:  $\vec{v}_을 = -0.15 \hat{x} [m/s]$ , ㄴ:  $+6.0 [m]$   
 ② ㄱ:  $\vec{v}_을 = -0.15 \hat{x} [m/s]$ , ㄴ:  $+8.0 [m]$   
 ③ ㄱ:  $\vec{v}_을 = -0.20 \hat{x} [m/s]$ , ㄴ:  $+6.0 [m]$   
 ④ ㄱ:  $\vec{v}_을 = -0.20 \hat{x} [m/s]$ , ㄴ:  $+8.0 [m]$   
 ⑤ ㄱ:  $\vec{v}_을 = -0.25 \hat{x} [m/s]$ , ㄴ:  $+8.0 [m]$

3. 길이가  $l$  이고 질량이  $m$  인 균일한 사다리가, 바닥면과  $\theta$  의 각도를 이루며 마찰이 없는 벽면에 기대어 있다. 질량  $M$  인 남자는 사다리의 질량 중심에서 있다. 사다리의 바닥면 사이의 최대 정지마찰계수는  $\mu_s$  이다. 사다리가 미끄러지지 않기 위한 최소 각도를  $\theta_{\min}$  라고 할 때  $\tan\theta_{\min}$  은?



- ①  $\frac{1}{2\mu_s}$
- ②  $\frac{\mu_s}{2}$
- ③  $\frac{2}{3\mu_s}$
- ④  $\frac{\mu_s m}{2(M+m)}$
- ⑤  $\frac{M}{2\mu_s(M+m)}$

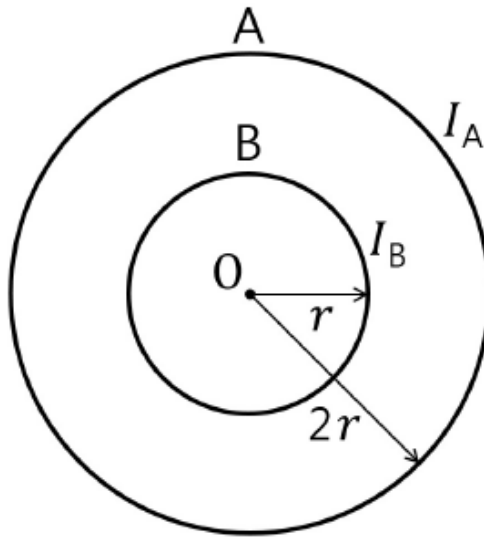
4. 그림의 회로에서 스위치  $S_1$  과  $S_2$  를 동시에 닫은 순간에 충전되지 않은 축전기  $C$  를 지나는 전류는  $I_i$  이다. 또한  $S_1$  과  $S_2$  를 닫은 후 충분히 오랜 시간이 흘렀을 때, 코일  $L$  을 지나는 전류는  $I_f$  에 가까워진다. 이때  $\frac{I_f}{I_i}$  로 옳은 것은?



- ① 0
- ②  $\frac{2}{3}$
- ③ 1
- ④  $\frac{3}{2}$
- ⑤  $\infty$



5. 그림과 같이 반지름이 각각  $2r$ ,  $r$  인 원형 도선 A, B가 원점 O를 중심으로 같은 평면에 고정되어 있다. A, B에 흐르는 일정한 전류의 세기는 각각  $I_A$ ,  $I_B$  이고, O에서 A와 B에 의한 자기장의 세기는 0 이다. 이에 관한 설명으로 옳은 것만을 <보기>에서 있는 대로 고른 것은? (단, 도선의 두께는 무시한다.)



- < 보 기 > —
- |  |
|--|
| <p>ㄱ. 전류의 방향은 A와 B가 다르다.</p> <p>ㄴ. <math>I_A : I_B = 2 : 1</math> 이다.</p> <p>ㄷ. 자기모멘트의 크기는 A가 B의 4배이다.</p> |
|--|

- ① ㄱ                      ② ㄷ                      ③ ㄱ, ㄴ                      ④ ㄴ, ㄷ                      ⑤ ㄱ, ㄴ, ㄷ

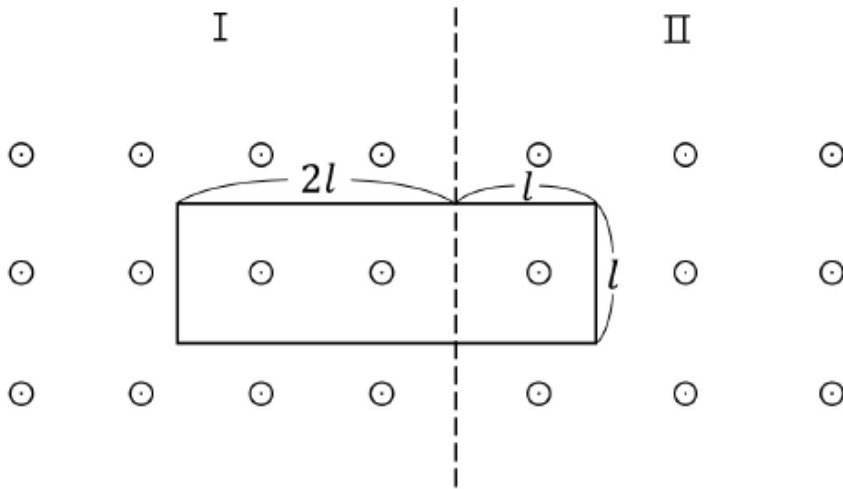
6. 잔잔한 수면 위에서 퍼져나가는 어떤 물결파의 경우, 높이 변화  $y$  는 위치  $x$  와 시간  $t$  의 함수로 다음과 같이 표시된다.

$$y(x, t) = 0.10 \sin(3x - 4t) \text{ [m]}$$

이 식에서  $x$  의 단위는 미터[m]이고,  $t$  의 단위는 초[s]이다. 이 물결파의 파장( $\lambda$ )과 속도( $v$ )는?

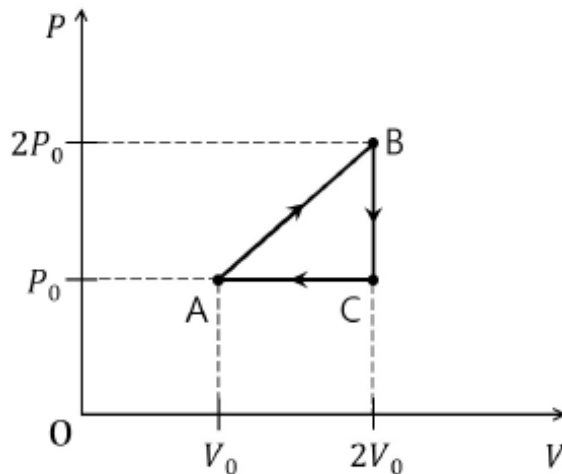
- ①  $\frac{2\pi}{3}$  [m],  $\frac{4}{3}$  [m/s]                      ②  $\frac{1}{3}$  [m],  $\frac{4}{3}$  [m/s]                      ③ 3 [m], 12 [m/s]
- ④  $\frac{3}{2\pi}$  [m],  $\frac{3}{4}$  [m/s]                      ⑤ 3 [m],  $\frac{3\pi}{2}$  [m/s]

7. 그림과 같이 지면으로부터 나오는 방향의 균일한 자기장 영역 I, II에 가로, 세로의 길이가 각각  $3l$ ,  $l$  인 직사각형 모양의 도선이 고정되어 있다. 자기장 영역 I과 II에서 시간  $t$  에 따라 변하는 자기장의 세기는 각각  $2at$ ,  $at+b$  이다. 도선에 유도되는 기전력의 크기는? (단,  $a$ ,  $b$  는 상수이고, 도선의 두께는 무시한다.)



- ①  $al^2$       ②  $2al^2$       ③  $3al^2$       ④  $4al^2$       ⑤  $5al^2$

8. 그림은 1몰의 단원자 이상기체의 상태가  $A \rightarrow B \rightarrow C \rightarrow A$ 로 변하는 순환과정에서의 압력  $P$  와 부피  $V$  를 나타낸 것이다.  $A \rightarrow B$  과정에서 기체가 흡수한 열량  $Q_{AB}$  와 이 순환과정에서 기체가 외부에 한 총 일  $W$  의 비  $\left| \frac{W}{Q_{AB}} \right|$  는?



- ①  $\frac{1}{24}$       ②  $\frac{1}{16}$       ③  $\frac{1}{12}$       ④  $\frac{1}{8}$       ⑤  $\frac{1}{6}$

9. 어떤 레이저가  $4.0 \times 10^5 \text{ W}$  의 출력으로  $1.0 \times 10^{-7} \text{ s}$  동안 빛 에너지를 방출한다. 레이저 파장이  $500 \text{ nm}$  일 때, 방출되는 총 광자 수(개)는? (단, 플랑크 상수는  $6.6 \times 10^{-34} \text{ J} \cdot \text{s}$  이고, 광속은  $3.0 \times 10^8 \text{ m/s}$  이다.)

- ①  $1.0 \times 10^{16}$       ②  $5.0 \times 10^{16}$       ③  $1.0 \times 10^{17}$       ④  $5.0 \times 10^{17}$       ⑤  $1.0 \times 10^{18}$

10. 폭이 각각  $L$ ,  $2L$  인 일차원 무한 퍼텐셜 우물에 전자 A, B가 각각 어떤 양자상태로 갇혀있다. A는 바닥상태에 있고, A와 B의 에너지는 같다. 이 때 B의 드브로이 파장( $\lambda$ )은?

- ①  $\frac{L}{4}$       ②  $\frac{L}{2}$       ③  $L$       ④  $2L$       ⑤  $4L$

11. 다음은 원자 및 이온의 바닥상태 전자배치를 나타낸 것이다. 옳은 것만을 <보기>에서 있는 대로 고른 것은?

< 보 기 >	
ㄱ. $_{24}\text{Cr}$	$1s^2 2s^2 2p^6 3s^2 3p^6 4s^1 3d^5$
ㄴ. $_{25}\text{Mn}$	$1s^2 2s^2 2p^6 3s^2 3p^6 4s^2 3d^5$
ㄷ. $_{26}\text{Fe}^{2+}$	$1s^2 2s^2 2p^6 3s^2 3p^6 3d^6$
ㄹ. $_{29}\text{Cu}$	$1s^2 2s^2 2p^6 3s^2 3p^6 4s^1 3d^{10}$

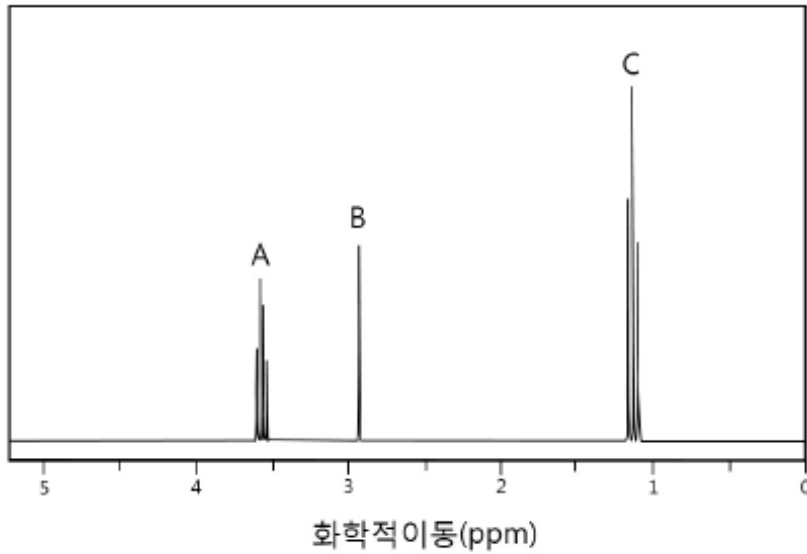
- ① ㄱ, ㄴ      ② ㄱ, ㄷ      ③ ㄴ, ㄷ      ④ ㄱ, ㄴ, ㄷ      ⑤ ㄱ, ㄴ, ㄷ, ㄹ

12. 배위화합물 A는  $[\text{Co}(\text{en})_2\text{Cl}_2]\text{Cl}$  이고, 배위화합물 B는  $[\text{Co}(\text{en})_3]\text{Cl}_3$  (en=ethylenediamine,  $\text{H}_2\text{NCH}_2\text{CH}_2\text{NH}_2$ )이다. 이에 관한 설명으로 옳은 것만을 <보기>에서 있는 대로 고른 것은?

< 보 기 >	
ㄱ. A는 기하이성질체와 광학이성질체를 가진다.	
ㄴ. B는 광학이성질체만 가진다.	
ㄷ. 결정장 갈라짐 에너지( $\Delta_0$ )는 A가 B보다 크다.	

- ① ㄱ      ② ㄷ      ③ ㄱ, ㄴ      ④ ㄴ, ㄷ      ⑤ ㄱ, ㄴ, ㄷ

13. 다음은 분자식이  $C_2H_6O$  인 유기 화합물의  $^1H-NMR$  스펙트럼을 나타낸 것이다. 스펙트럼 봉우리의 면적비는  $A : B : C = 2 : 1 : 3$  이다.



이 화합물과 스펙트럼의 설명으로 옳은 것만을 <보기>에서 있는 대로 고른 것은?

- < 보 기 > —
- ㄱ. 물에 잘 혼합된다.
  - ㄴ. 아세트산과 반응하여 에스터를 형성한다.
  - ㄷ. 봉우리 A와 C의 수소는 커플링(coupling)이다.

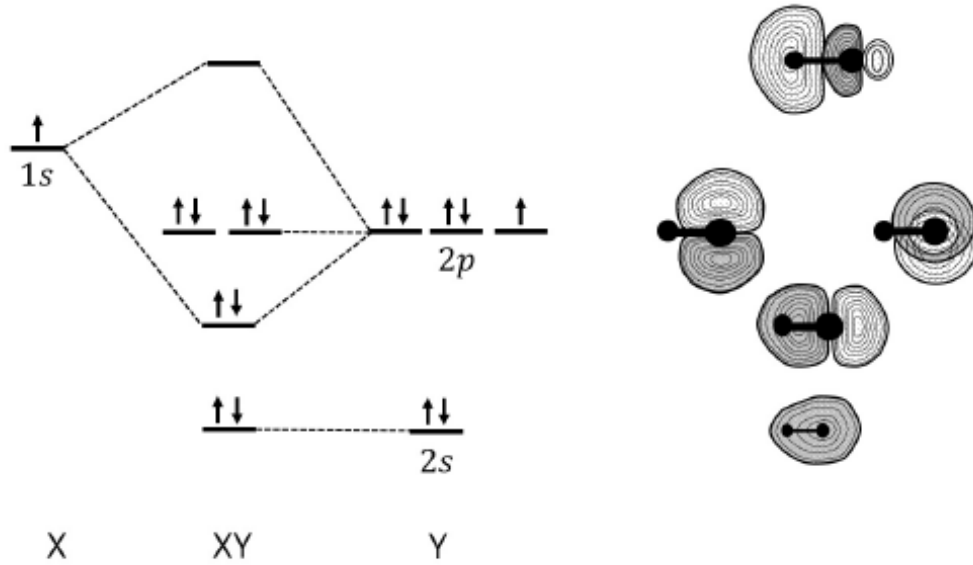
- ① ㄱ      ② ㄱ, ㄴ      ③ ㄱ, ㄷ      ④ ㄴ, ㄷ      ⑤ ㄱ, ㄴ, ㄷ

14. 분자식이  $C_4H_8$  인 탄화수소의 구조 이성질체에 관한 설명이다. 다음 설명으로 옳은 것만을 <보기>에서 있는 대로 고른 것은?

- < 보 기 > —
- ㄱ. 고리형 탄화수소는 2가지이다.
  - ㄴ. 불포화 탄화수소는 2가지이다.
  - ㄷ.  $sp$  혼성 궤도함수를 가지는 탄소가 있다.

- ① ㄱ      ② ㄴ      ③ ㄱ, ㄷ      ④ ㄴ, ㄷ      ⑤ ㄱ, ㄴ, ㄷ

15. 그림은 이핵 이원자 분자 XY의 바닥상태 분자 궤도함수를 나타낸 것이다. 바닥상태의 XY 화합물에 관한 설명으로 옳지 않은 것은?



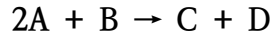
- ① XY 결합차수는 1이다.
- ② 반자성이다.
- ③ 쌍극자 모멘트가 있다.
- ④ 전기음성도는 X가 Y보다 작다.
- ⑤ 최고 점유 분자 궤도함수(HOMO)는 반결합(antibonding) 분자 궤도함수이다.

16. 숟가락의 은(Ag) 전기도금에서 숟가락은 환원 전극으로, 순수 은(Ag) 조각은 산화 전극으로 작용한다. 이 둘을 시안화은(AgCN) 용액 속에 담고 9.65A의 전류를 흐르게 하여 표면적이 54 cm<sup>2</sup> 인 숟가락의 표면을 40μm의 평균 두께로 도금하였다. 전기도금 하는데 소요된 시간(초)은? (단, 은의 밀도는 10 g/cm<sup>3</sup> 으로 가정하고 원자량은 108 g/mol 이다. 패러데이 상수는 F = 96500 C/mol, 1μm = 10<sup>-4</sup> cm 이다.)

- ① 100                      ② 200                      ③ 300                      ④ 400                      ⑤ 500



18. 다음은 A와 B가 반응하여 C와 D를 생성하는 화학 반응식이다.



표는 반응 차수가 1차인 반응물 B의 서로 다른 초기 농도([B]<sub>0</sub>)에서 반응시간(초)에 따른 반응물 A의 농도 변화를 나타낸 실험 I과 II의 자료이다. 실험 I에서 [B]<sub>0</sub> = 10.0 M 이고, 실험 II에서는 [B]<sub>0</sub> = 20.0 M 이다. 반응이 진행되는 동안 B의 농도는 일정하다고 가정한다.

시간(초)	실험 I	실험 II
	[A](mM)	[A](mM)
0	10.0	10.0
10	6.67	5.00
20	5.00	3.33
30	4.00	2.50
40	3.33	2.00
50	2.86	1.67
60	2.50	1.43

실험 I에서, 반응시간 30초일 때 C의 생성속도( $\text{mmol L}^{-1}\text{s}^{-1}$ )는? (단, 온도는 일정하다.  $1\text{mM} = 10^{-3}\text{M}$  이고  $1\text{mmol} = 10^{-3}\text{mol}$  이다.)

- ①  $1.0 \times 10^{-2}$     ②  $2.0 \times 10^{-2}$     ③  $4.0 \times 10^{-2}$     ④  $8.0 \times 10^{-2}$     ⑤  $1.0 \times 10^{-1}$

19. 다음에서 옳은 것만을 <보기>에서 있는 대로 고른 것은?

< 보 기 >

ㄱ. SF<sub>4</sub> 는 비극성이다.  
 ㄴ. PCl<sub>5</sub> 는 사각 피라미드 구조를 가진다.  
 ㄷ. I<sub>3</sub><sup>-</sup> 의 중심 원자는 dsp<sup>3</sup> 혼성 궤도 함수를 가진다.

- ① ㄱ    ② ㄷ    ③ ㄱ, ㄴ    ④ ㄴ, ㄷ    ⑤ ㄱ, ㄴ, ㄷ

20. T °C 에서 부피가 일정한 용기에 두 휘발성 액체 A와 B로만 구성된 혼합 용액이 기체-액체 평형을 이루고 있다. T °C 의 평형 상태에서, 기체상에서 A의 몰분율은 액체상에서 A의 몰분율의 2배이다. T °C 의 평형 상태에서 순수한 A의 증기압은 400 torr 이고 순수한 B의 증기압은 150 torr 이다. T °C 평형 상태에서, 액체상에서 B의 몰분율은? (단 온도는 T °C 로 일정하고, 혼합 용액은 라울의 법칙을 따른다.)

- ① 0.5    ② 0.6    ③ 0.7    ④ 0.8    ⑤ 0.9

21. 동물세포의 생체막에 관한 설명으로 옳지 않은 것은?

- ① 유동모자이크 모형으로 설명된다.
- ② 선택적 투과성을 갖는다.
- ③ 인지질은 친수성 머리와 소수성 꼬리로 구성된다.
- ④ 인지질 이중층은 비대칭적 구조이다.
- ⑤ 포화지방산의 '꺾임(kink)'은 느슨하고 유동적인 막을 만든다.

22. 리보솜에 관한 설명으로 옳은 것만을 <보기>에서 있는 대로 고른 것은?

— < 보 기 > —

ㄱ. RNA와 단백질로 이루어져 있다.  
 ㄴ. 단백질 합성이 일어나는 장소이다.  
 ㄷ. 거대분자를 단량체로 가수분해 시킨다.

- ① ㄱ
- ② ㄴ
- ③ ㄱ, ㄴ
- ④ ㄱ, ㄷ
- ⑤ ㄴ, ㄷ

23. 질소순환에 관한 설명으로 옳은 것은?

- ① 식물은 질소(N<sub>2</sub>)를 직접 흡수한다.
- ② 질산화(nitrification)는 질산이온(NO<sub>3</sub><sup>-</sup>)을 질소(N<sub>2</sub>)로 환원시키는 과정이다.
- ③ 질소고정(nitrogen fixation)은 토양의 암모늄이온(NH<sub>4</sub><sup>+</sup>)을 아질산이온(NO<sub>2</sub><sup>-</sup>)으로 전환시키는 과정이다.
- ④ 식물의 뿌리는 질산이온(NO<sub>3</sub><sup>-</sup>)과 암모늄이온(NH<sub>4</sub><sup>+</sup>) 형태로 흡수한다.
- ⑤ 암모니아화(ammonification)는 공기중의 질소(N<sub>2</sub>)를 암모니아(NH<sub>3</sub>)와 암모늄이온(NH<sub>4</sub><sup>+</sup>)으로 전환하는 과정이다.

24. 교감신경계의 작용에 관한 설명으로 옳지 않은 것은?

- ① 기관지가 수축된다.
- ② '싸움-도피 반응(fight or flight response)'이다.
- ③ 심장박동이 촉진된다.
- ④ 신경절후에서 노르에피네프린이 분비된다.
- ⑤ 동공이 확대된다.



25. 세균의 플라스미드(plasmid)에 관한 설명으로 옳은 것만을 <보기>에서 있는 대로 고른 것은?

— < 보 기 > —

ㄱ. 염색체와 별도로 존재하는 DNA이다.  
 ㄴ. 플라스미드 DNA의 복제는 염색체 DNA의 복제와 독립적으로 조절된다.  
 ㄷ. 세균의 증식에 필수적인 유전정보를 보유한다.

- ① ㄱ                      ② ㄴ                      ③ ㄱ, ㄴ                      ④ ㄴ, ㄷ                      ⑤ ㄱ, ㄴ, ㄷ

26. 광합성에 관한 설명으로 옳은 것은?

- ① 광계 I의 반응중심 색소는 스트로마에 있다.
- ② 광계 II의 반응중심에 있는 엽록소는 700nm 파장의 빛을 최대로 흡수한다.
- ③ 틸라코이드에서 NADP<sup>+</sup>의 환원이 일어난다.
- ④ 캘빈회로는 엽록체의 틸라코이드에서 일어난다.
- ⑤ 스트로마에서 명반응 산물을 이용하여 포도당이 합성된다.

27. 세균의 유전자 발현에 관한 설명으로 옳은 것은?

- ① DNA복제는 보존적 방식으로 진행된다.
- ② mRNA의 반감기는 진핵세포의 반감기 보다 길다.
- ③ 세포질에 RNA 중합효소 I, II, III이 존재한다.
- ④ 전사와 번역과정이 세포질에서 일어난다.
- ⑤ mRNA의 3'-말단에 poly A 꼬리가 첨가된다.

28. 겔 전기영동(gel electrophoresis)에 의한 DNA 절편의 분리에 관한 설명으로 옳은 것만을 <보기>에서 있는 대로 고른 것은?

— < 보 기 > —

ㄱ. DNA 절편은 겔에서 음극으로 이동한다.  
 ㄴ. 긴 DNA 절편은 짧은 DNA 절편보다 겔에서 빨리 이동한다.  
 ㄷ. DNA 양에 대한 정보를 준다.

- ① ㄱ                      ② ㄴ                      ③ ㄷ                      ④ ㄱ, ㄴ                      ⑤ ㄱ, ㄷ

29. 동물의 적응면역(acquired immunity)에 관한 설명으로 옳은 것은?

- ① 항체 IgG는 5량체를 형성한다.
- ② T세포는 체액성 면역반응이다.
- ③ B세포는 감염된 세포를 죽인다.
- ④ 항원제시세포는 I형 및 II형 MHC 분자를 모두 가지고 있다.
- ⑤ T세포는 항체를 분비한다.

30. 세균의 세포벽에 관한 설명으로 옳은 것만을 <보기>에서 있는 대로 고른 것은?

— < 보 기 > —

ㄱ. 펩티도글리칸(peptidoglycan)으로 이루어진 그물망구조를 가지고 있다.  
 ㄴ. 섬유소(cellulose)로 이루어진 다당류로 구성되어 있다.  
 ㄷ. 분자 이동의 주된 선택적 장벽이다.

- ① ㄱ
- ② ㄴ
- ③ ㄷ
- ④ ㄱ, ㄴ
- ⑤ ㄴ, ㄷ

31. 판의 경계 중에서 발산 경계에 관한 설명으로 옳지 않은 것은?

- ① 해령에서는 맨틀물질이 상승하여 새로운 해양판을 만든다.
- ② 해령에서는 V자형 열곡이 발달한다.
- ③ 육지에도 발산 경계가 분포한다.
- ④ 해령에서는 지각 열류량이 주변 해저에 비해 높다.
- ⑤ 산안드레아스 단층은 발산 경계 중 하나이다.

32. 지구의 내부 구조와 구성 물질에 관한 설명으로 옳은 것만을 <보기>에서 있는 대로 고른 것은?

— < 보 기 > —

ㄱ. 모호면을 기준으로 상부는 지각, 하부는 맨틀이다.  
 ㄴ. 외핵은 고체 상태로 존재한다.  
 ㄷ. 맨틀은 주로 감람암질 암석으로 구성되어 있다.  
 ㄹ. 지각을 이루는 암석은 퇴적암이 50%, 화성암이 40%, 반성암이 10%를 차지한다.

- ① ㄱ
- ② ㄴ
- ③ ㄱ, ㄷ
- ④ ㄱ, ㄴ, ㄷ
- ⑤ ㄴ, ㄷ, ㄹ

33. 규산염 광물만을 <보기>에서 있는 대로 고른 것은?

— < 보 기 > —		
ㄱ. 황철석	ㄴ. 감람석	ㄷ. 방해석
ㄹ. 흑운모	ㅁ. 강옥	

- ① ㄱ, ㄴ                      ② ㄱ, ㄷ                      ③ ㄴ, ㄷ                      ④ ㄴ, ㄹ                      ⑤ ㄷ, ㄹ, ㅁ

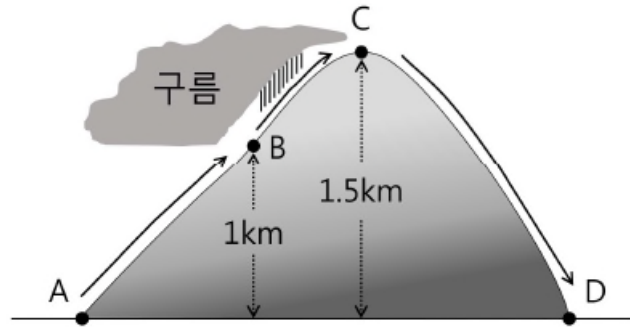
34. 우리나라의 지질과 화석에 관한 설명으로 옳지 않은 것은?

- ① 석탄은 고생대 지층에서 주로 산출된다.
- ② 공룡 발자국은 중생대 지층에서 산출된다.
- ③ 고생대 지층은 주로 강원도에 분포한다.
- ④ 고생대에는 석회암층이 산출되지 않는다.
- ⑤ 삼엽충은 고생대 지층에서 산출된다.

35. 성층권과 중간권에 관한 설명으로 옳지 않은 것은?

- ① 중간권에서는 고도가 상승할수록 온도가 감소한다.
- ② 중간권에서는 대류권에서와 같은 기상 현상이 일어난다.
- ③ 성층권의 대기는 안정하여 대류 현상이 일어나지 않는다.
- ④ 성층권에 존재하는 오존층은 태양으로부터 오는 자외선을 흡수한다.
- ⑤ 대류권계면부터 일정 고도까지 온도가 거의 일정하다가 성층권계면까지 점차적으로 상승한다.

36. 다음은 A 지점에서 기온이 20℃, 이슬점이 12℃인 공기 덩어리가 산을 타고 올라가다가 B 지점부터 정상인 C 지점까지 구름을 만든 후 산을 넘어 D 지점까지 가는 모습을 나타낸 것이다.



이에 관한 설명으로 옳은 것은?

- ① B 지점에서는 기온이 이슬점보다 낮다.
- ② C 지점에서는 기온이 이슬점보다 높다.
- ③ C 지점에서는 기온이 0℃ 아래로 떨어진다.
- ④ D 지점에서는 A 지점보다 기온이 높다.
- ⑤ D 지점에서는 이슬점이 12℃이다.

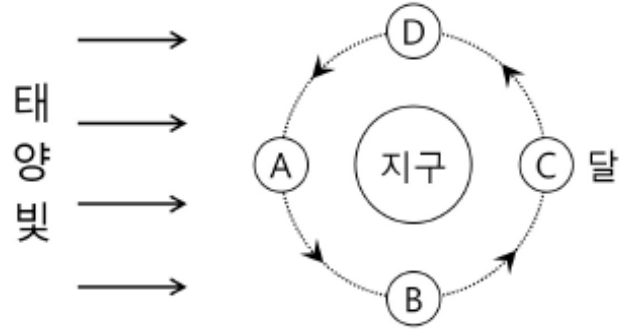
37. 해저 지형에 관한 설명으로 옳은 것은?

- ① 저탁류는 대륙사면에서 주로 나타난다.
- ② 해저 지형에서 가장 깊은 지역은 해령이다.
- ③ 대륙붕은 심해저평원보다 깊은 곳에 위치한다.
- ④ 우리나라의 황해에는 심해저평원이 발달되어 있다.
- ⑤ 해저에서 가장 넓은 영역을 차지하는 지역은 해구이다.

38. 태양계의 행성에 관한 설명으로 옳지 않은 것은?

- ① 수성은 내행성이다.
- ② 금성에는 위성이 있다.
- ③ 화성의 공전주기는 지구보다 길다.
- ④ 목성은 태양계에서 질량이 가장 큰 행성이다.
- ⑤ 토성은 지구보다 밀도가 작다.

39. 그림은 지구 주변을 도는 달의 공전을 나타낸 모식도이다.



이에 관한 설명으로 옳은 것은?

- ① 달이 B의 위치에 있을 때는 자정에 떠오른다.
- ② B에 위치한 달은 상현달이다.
- ③ 달이 C의 위치에 있을 때는 일식이 일어난다.
- ④ 달이 D의 위치에 있을 때는 초저녁에 관측된다.
- ⑤ 달이 A에 위치하면 다른 위치보다 가장 오랜 시간 동안 관측된다.

40. 표는 별의 절대 등급과 지구에서 별까지의 거리를 나타낸 것이다.

별	절대 등급	지구에서 별까지의 거리 (단위 : pc)
A	3	10
B	3	5
C	0	20

이에 관한 설명으로 옳은 것만을 <보기>에서 있는 대로 고른 것은?

— < 보 기 > —

ㄱ. A의 겉보기 등급은 3등급이다.

ㄴ. 맨눈으로 볼 때 A가 B보다 밝다.

ㄷ. C의 겉보기 등급은 절대 등급보다 작아 실제보다 밝게 보인다.

- ① ㄱ
- ② ㄱ, ㄴ
- ③ ㄱ, ㄷ
- ④ ㄴ, ㄷ
- ⑤ ㄱ, ㄴ, ㄷ



종합반 압도적 대세!  
1, 2차 총 180명의 수험생과  
함께하는 변리사 스쿨!



변리사스쿨

# 2020년도 제57회 변리사 1차 국가자격시험 최종정답

## 1교시 | 산업재산권법

1	2	3	4	5	6	7	8	9	10
①	⑤	③	③	⑤	③	②	④	③	①
11	12	13	14	15	16	17	18	19	20
②	④	②	④	②	④	③	⑤	②	①
21	22	23	24	25	26	27	28	29	30
①	②	④	④	⑤	③	③	①	②	⑤
31	32	33	34	35	36	37	38	39	40
②	③	④	③	⑤	①	④	⑤	②	①

## 2교시 | 민법개론

1	2	3	4	5	6	7	8	9	10
③	①	④	③	①	②	③	④	④	⑤
11	12	13	14	15	16	17	18	19	20
②	⑤	⑤	③	②	①	③	①	모두정답	④
21	22	23	24	25	26	27	28	29	30
⑤	②	②	③	③	④	④	①	⑤	⑤
31	32	33	34	35	36	37	38	39	40
②	①	②	②	⑤	①	④	④	⑤	①

## 3교시 | 자연과학개론

1	2	3	4	5	6	7	8	9	10
②	③	①	②	③	①	⑤	③	③	④
11	12	13	14	15	16	17	18	19	20
⑤	③	⑤	①	⑤	②	①	③	②	④
21	22	23	24	25	26	27	28	29	30
⑤	③	④	①	③	⑤	④	③	④	①
31	32	33	34	35	36	37	38	39	40
⑤	③	④	④	②	④	①	②	②	①

01  
2021

제58회 변리사 1차 국가자격시험  
[1교시] 산업재산권법



1. 특허법상의 발명에 관한 설명으로 옳지 않은 것은? (다툼이 있으면 판례에 따름)

- ① 실제로 완성된 발명이 존재한다고 하더라도 명세서와 도면에 그 발명이 기재되지 아니한 경우 발명의 완성여부는 반드시 발명의 설명 중의 구체적 실시예에 한정되어 판단되는 것은 아니다.
- ② 의약의 용도발명에 있어서는 특정물질의 의약용도가 약리기전만으로 기재되어 있더라도 명세서의 다른 기재나 기술상식에 비추어 의약으로서의 구체적인 용도를 명확하게 파악할 수 있다면 특허법이 정한 청구항의 명확성 요건을 충족하는 것으로 볼 수 있다.
- ③ 의약이라는 물건의 발명에 있어서 투여주기와 단위투여량은 조성물인 의약물질을 구성하는 부분이 아니라 의약물질을 인간 등에게 투여하는 방법으로서 의료행위에 불과하거나 그 청구범위의 기재에 의하여 얻어진 최종적인 물건 자체에 관한 것이 아니어서 발명의 구성요소로 볼 수 없다.
- ④ 미생물을 이용한 발명의 출원에 있어서 국내에 현존하지 아니하고 국외에 현존할 뿐인 경우 명세서 제출 당시인 출원시를 기준으로 국내의 통상의 기술자가 이를 용이하게 입수할 수 있다고 인정될 때에는 이를 기탁하지 아니할 수 있다.
- ⑤ 식물발명의 경우 출원발명의 명세서에 그 기술분야의 평균적 기술자가 출원발명의 결과물을 재현할 수 있도록 그 과정이 기재되어 있어야 하며, 그 결과물인 식물이나 식물소재를 기탁함으로써 명세서의 기재를 보충하거나 대체할 수는 없다.

2. 특허요건으로서의 산업상 이용가능성이 인정될 수 없는 것을 모두 고른 것은? (다툼이 있으면 판례에 따름)

- ㄱ. 인간의 질병을 경감하고 예방하거나 건강을 증진시키기 위한 방법
- ㄴ. 인체의 일부를 필수구성요소로 하여 치료효과와 미용효과를 동시에 가지는 수술방법
- ㄷ. 기계적 방식으로 인체의 피부를 마사지하여 화장품이 피부에 잘 스며들도록 하는 피부미용법
- ㄹ. 인체에도 적용할 수 있으나 청구범위의 기재에서 동물에게만 한정하여 특허 청구항을 명시하는 의료행위

- ① ㄱ, ㄴ                      ② ㄱ, ㄷ                      ③ ㄴ, ㄷ                      ④ ㄱ, ㄴ, ㄷ                      ⑤ ㄱ, ㄷ, ㄹ

3. 특허법에 규정된 최고 벌금액수를 제일 많은 것부터 적은 것까지의 순서로 올바르게 나열한 것은?

- |  |
|--|
| <ul style="list-style-type: none"> <li>ㄱ. 특허법에 따라 선서한 통역인이 특허심판원에 대하여 거짓으로 통역을 한 경우 그 통역인에 대한 벌금</li> <li>ㄴ. 법인의 업무에 관하여 그 대표자가 특허권을 침해한 경우 그 대표자에 대한 벌금</li> <li>ㄷ. 법인의 업무에 관하여 그 종업원이 특허된 것이 아닌 방법을 사용하기 위하여 광고에 그 방법이 특허 또는 특허출원된 것으로 혼동하기 쉬운 표시를 한 경우 법인에 대한 벌금</li> <li>ㄹ. 법인의 업무에 관하여 그 종업원이 전용실시권을 침해한 경우 법인에 대한 벌금</li> <li>ㅁ. 개인이 부정한 행위로 특허권의 존속기간 연장등록에 대한 결정을 받은 경우 개인에 대한 벌금</li> </ul> |
|--|

- ① ㄱ - ㄴ - ㄷ - ㄹ - ㅁ
- ② ㄴ - ㄷ - ㄱ - ㅁ - ㄹ
- ③ ㄴ - ㄹ - ㄷ - ㅁ - ㄱ
- ④ ㄹ - ㄴ - ㄱ - ㄷ - ㅁ
- ⑤ ㄹ - ㄴ - ㄷ - ㄱ - ㅁ

4. 특허권의 행사에 관한 설명으로 옳은 것은? (다툼이 있으면 판례에 따름)

- ① 특허발명 실시계약 체결 이후에 특허가 무효로 확정된 경우 특허발명 실시계약이 원시적으로 이행불능 상태에 있었다라도 특허권자는 특허발명 실시계약이 유효하게 존재하는 기간 동안 실시료의 지급을 청구할 수 있다.
- ② 특허발명 실시계약을 체결하면 특허권자는 실시권자의 특허발명 실시에 대하여 특허권 침해로 인한 손해배상이나 그 금지 등을 청구할 수 없고, 특허가 무효로 확정되기 전에는 특허권의 독점적·배타적 효력에 따라 제3자의 특허발명 실시가 금지된다.
- ③ 특허발명 또는 등록실용신안이 신규성은 있으나 진보성이 없는 경우 이에 관한 권리 범위확인심판에서 당연히 그 권리범위를 부정할 수 있다.
- ④ 특허법 제128조(손해배상청구권 등) 제5항에 의하여 특허발명의 실시에 대하여 합리적으로 받을 수 있는 금액을 결정함에 있어서는, 당해 특허발명에 대하여 특허권자가 제3자와 사이에 특허권 실시계약을 맺고 실시료를 받은 바 있다면 일방 당사자에게 현저하게 불합리하더라도 그 실시계약에서 정한 실시료를 기준으로 위 금액을 산정하여야 한다.
- ⑤ 특허법은 전용실시권이 설정된 범위를 제외하고는 특허권자가 업으로서 특허발명을 실시할 권리를 독점하도록 명시적으로 규정하며, 전용실시권자가 등록되어 있지 않은 제한을 넘어 특허발명을 실시하는 경우 특허권자에 대하여 채무불이행 책임을 지게 됨은 물론 특허권 침해가 성립한다.

5. 특허법상 특허출원 및 특허에 관한 설명으로 옳지 않은 것은? (다툼이 있으면 판례에 따름)

- ① 국립대학법인은 특허출원인 및 특허에 관한 심판과 소송의 당사자가 될 수 있다.
- ② 우리나라와 조약이나 협정이 체결되어 있지 않은 국가가 자국의 법률에 의하여 해당 국가 내에 주소나 영업소가 없는 우리나라 국민에게 특허권 또는 특허에 관한 권리를 인정하는 경우, 그 국가의 국민은 우리나라에서 특허의 출원인이나 심판과 소송의 당사자가 될 수 있다.
- ③ 특허출원하고자 하는 발명이 2인 이상 공동으로 이루어진 경우 특허출원시에 발명자 전원이 공동 출원하지 아니하였다면, 그 출원 후에 공동발명자 중 1인이 나머지 공동 발명자로부터 특허를 받을 수 있는 권리의 지분 모두를 이전받아 단독권리자가 되는 경우, 특허법 제44조(공동출원) 규정 위반의 하자는 치유되지 아니한다.
- ④ 특허를 받을 수 있는 권리를 이전하기로 하는 계약은 명시적으로는 물론 묵시적으로도 이루어질 수 있다.
- ⑤ 무권리자의 출원과 정당한 권리자의 출원 사이에 동일한 발명에 대한 제3자의 출원이 있는 경우, 정당한 권리자의 출원일은 제3자의 출원일보다 앞서므로 정당한 권리자의 출원은 제3자의 출원으로 인하여 거절되지 않으며, 오히려 제3자의 출원이 정당한 권리자의 출원에 의하여 거절된다.

6. 甲은 자신이 개발한 발명 A의 제품을 2019. 9. 1. 판매하였고, 그 판매 제품에 대해 고객의 의견을 받아서 발명 A에 구성 B를 추가한 발명의 신제품(A+B)을 2020. 5. 1. 판매하였으며, 그 후 甲은 특허법 제30조(공지 등이 되지 아니한 발명으로 보는 경우)의 규정에 의하여 2020. 8. 1. 특허출원(제1항: A, 제2항: B)을 하였다. 다른 거절이유가 없는 경우 甲의 특허출원과 그 특허심사에 관한 설명으로 옳지 않은 것은?

- ① 甲은 특허법 제30조의 규정을 적용받기 위하여 2019. 9. 1.부터 1년 이내에 특허출원 하였으므로 특허를 받을 수 있다.
- ② 甲은 특허법 제30조를 적용받고자 하는 취지를 특허출원서에 기재하고, 이를 증명할 수 있는 서류를 2020. 5. 1. 판매한 신제품(A+B)에 대해서만 제출하면 특허를 받을 수 있다.
- ③ 乙이 자체 개발한 신제품(A+B)을 2020. 7. 1. 판매한 경우, 甲은 특허법 제30조의 규정을 적용받는다 하더라도 제1항 및 제2항에 대해 특허를 받을 수 없다.
- ④ 丙이 甲의 판매제품을 인지하지 못한 상태에서 개발한 발명 B를 2020. 7. 1. 특허출원 한 경우, 甲은 제1항에 대해서 특허를 받을 수 있지만, 제2항에 대해서는 특허를 받을 수 없다.
- ⑤ 丁이 甲의 판매제품을 인지하지 못한 상태에서 자신이 개발한 발명을 2020. 7. 1. 특허출원 (제1항: A, 제2항: B)한 경우, 丁은 제1항 및 제2항 모두 특허를 받을 수 없다.

7. 청구항에 기재된 발명(AB)의 진보성의 판단에 관한 설명으로 옳지 않은 것은? (다툼이 있으면 판례에 따름)

- ① 발명(AB)에 이를 수 있는 동기가 선행의 인용발명에 기재된 A와 주지기술 B의 결합에 의하여 쉽게 발명할 수 있다는 유력한 근거가 되는 경우에는 진보성이 없을 수 있다.
- ② 발명(AB)이 선행의 인용발명에 기재된 A와 주지기술 B의 결합으로부터 당업자의 통상의 창작능력의 발휘에 해당하는 경우에는 진보성이 없다.
- ③ 발명(AB)의 결합에 의하여 얻어지는 효과가 선행의 인용발명에 기재된 A 및 주지기술 B가 가지고 있는 효과보다 더 나은 효과가 없는 경우에는 진보성이 없다.
- ④ 발명(AB)이 선행의 인용발명에 기재된 A와 본 특허출원 명세서의 실시예에 기재된 구성요소 B를 전체로 결합하여 통상의 기술자가 쉽게 발명할 수 있는 경우에는 진보성이 없다.
- ⑤ 발명(AB)의 구성요소 A와 B를 각각 분해하여 선행의 인용발명에 기재된 A와 주지기술 B를 비교하지 않고, 구성요소 A와 B를 유기적 결합에 의한 발명 전체로 대비한 결과, 발명(AB)을 쉽게 발명할 수 있는 경우에는 진보성이 없다.

8. 甲은 번역 성분 A와 해독 성분 B를 1 : 2로 배합하는 “코로나19 항체치료제”를 개발하고, 이를 2020. 5. 1. 발간된 영문저널에 게재하였으며, 이 영문저널에 게재된 발명을 특허법 제42조의3(외국어특허출원 등)의 규정에 의하여 2021. 2. 1. 외 국어특허출원을 하였다. 이 출원에 관한 설명으로 옳지 않은 것은?

- ① 甲이 영어로 특허출원을 한 취지는 영어논문의 번역 및 국어명세서 작성에 시간이 많이 소요되는 것을 감안하여 선출원주의의 지위를 빨리 확보하기 위함이다.
- ② 甲이 영어로 특허출원을 할 수 있어도 영문저널에 게재되었기 때문에 특허법 제30조(공지 등이 되지 아니한 발명으로 보는 경우)의 규정을 적용받기 위해서는 특허 출원서에 그 취지를 기재하여야 한다.
- ③ 甲은 영문저널에 게재된 날부터 1년 2개월이 되는 날까지 그 명세서 및 도면의 국어 번역문을 제출해야 하고 그 국어번역문은 보정된 것으로 본다.
- ④ 甲이 특허출원서에 최초로 첨부된 명세서의 국어번역문을 제출하지 않은 경우, 그 외국어특허출원은 국어번역문의 제출 기한이 되는 날의 다음 날에 취하한 것으로 본다.
- ⑤ 甲이 성분 A와 B의 배합에 대하여 논문과 다르게 2 : 1로 잘못된 국어번역문을 제출한 경우, 그 잘못된 국어번역문을 정정할 수 있다.

**9. 특허협력조약(PCT)에 따른 국제특허출원에 관한 설명으로 옳은 것은?**

- ① 특허청장은 국제특허출원에 청구범위가 기재되어 있지 않은 경우, 기간을 정하여 서면으로 청구 범위를 제출하도록 보정명령을 해야 한다.
- ② 특허청장은 국제특허출원이 도면에 관하여 적고 있지만 그 출원에 도면이 포함되어 있지 않아서 그 취지를 출원인에게 통지하고 출원인이 산업통상자원부령으로 정하는 기간에 도면을 제출하는 경우, 그 국제특허출원일은 도면의 도달일로 한다.
- ③ 특허청장은 국제특허출원이 도면에 관하여 적고 있지만 그 출원에 도면이 포함되어 있지 않아서 그 취지를 출원인에게 통지하여도 출원인이 도면을 제출하지 않은 경우, 그 국제특허출원은 취하된 것으로 본다.
- ④ 국제특허출원인이 특허청장으로부터 특허법 제195조(보정명령) 제4호에 따라 산업통상자원부령으로 정하는 방식을 위반하여 보정명령을 받고도 그 지정기간에 보정을 하지 않은 경우, 그 국제특허출원은 인정되나 실제 심사단계에서 방식심사 위반에 대한 거절이유통지서를 받고 보정을 할 수 있다.
- ⑤ 2인 이상이 공동으로 국제특허출원한 경우의 수수료 납부는 출원인의 대표자 또는 특허법 제3조(미성년자 등의 행위 능력)에 의한 법정대리인만 할 수 있다.

**10. 특허법 제128조(손해배상청구권 등)에 따른 손해액과 배상액의 산정에 관한 설명으로 옳지 않은 것은?**

- ① 침해에 의하여 특허권자의 손해가 발생된 것은 인정되나 그 손해액을 증명하기 위하여 필요한 사실을 증명하는 것이 해당 사실의 성질상 극히 곤란한 경우, 법원은 변론 전체의 취지와 증거조사의 결과에 기초하여 상당한 손해액을 인정할 수 있다.
- ② 특허권자는 고의 또는 과실에 의한 특허권 침해로 입은 손해의 배상을 청구할 수 있으며, 침해한 자가 그 침해행위로 인하여 얻은 이익액을 특허권자가 입은 손해액으로 추정한다.
- ③ 특허권자가 손해배상을 청구하는 경우 그 특허발명의 실시에 대하여 합리적으로 받을 수 있는 금액을 본인이 입은 손해액으로 하여 손해배상을 청구할 수 있지만, 손해액이 합리적으로 받을 수 있는 금액을 초과하는 경우에는 그 초과액에 대해서도 손해배상을 청구할 수 있다.
- ④ 특허권자가 생산할 수 있었던 물건의 수량에서 실제 판매한 물건의 수량을 뺀 수량에 특허권자가 판매한 단위수량당 이익액을 곱한 금액을 손해액의 한도로 하고, 여기서 침해행위 외의 사유로 판매할 수 없었던 수량에 따른 금액은 빼야 한다.
- ⑤ 법원은 타인의 특허권을 침해한 행위가 고의적인 것으로 인정되는 경우에는 특허법 제128조(손해배상청구 등) 제1항에도 불구하고 제2항부터 제7항까지의 규정에 따라 손해로 인정된 금액의 3배를 넘지 아니하는 범위에서 배상액을 정할 수 있다.

11. 甲이 다음과 같은 청구범위로 특허권을 받은 경우, 그 특허권의 효력범위와 침해 판단에 관한 설명으로 옳지 않은 것은? (다툼이 있으면 판례에 따름)

[청구범위]

제1항 A의 스마트폰에서 B와 C로 구성 되는 스마트폰의 음성인식 장치

제2항 제1항에 있어서, 상기 C는 음성인식시스템(c)으로 구성되는 스마트 폰의 음성인식 장치

제3항 C와 결합하여 D 단계, E 단계, F 단계로 음성을 컴퓨터에 의하여 인식하는 프로그램(P)에 의하여 구현되는 스마트폰의 음성인식방법

- ① 甲은 제1항과 제2항이 물건발명으로 그 물건을 생산·사용·양도·대여 또는 수입하거나 그 물건의 양도 또는 대여의 청약(양도 또는 대여를 위한 전시를 포함)을 하는 행위에 대한 권리를 독점한다.
- ② 乙이 甲의 허락없이 “A의 스마트폰에서 B와 음성인식시스템(c)으로 구성되는 스마트 폰의 음성인식장치”를 실시하는 경우에는 제2항의 구성과 동일하고, 제2항은 제1항(독립항)의 종속항이므로 제1항 및 제2항을 침해한다.
- ③ 乙이 甲의 허락없이 제2항의 특허발명의 실시에만 사용하는 음성인식시스템(c)을 생산·판매하는 경우에는 특허법 제127조(침해로 보는 행위) 제1호의 규정에 의한 침해이다.
- ④ 乙이 “K의 스마트폰에서 B와 C로 구성되는 스마트폰의 음성인식장치”를 판매하는 경우에는 甲의 제1항 전제부인 “A의 스마트폰”과 다르기 때문에 침해가 성립하지 않는 것이 원칙이다.
- ⑤ 제3자가 甲의 특허권을 인지하지 못하고 개발한 프로그램(P)이 제3항 방법발명의 실시에만 사용하는 물건인 경우, 그 프로그램(P)의 양도의 청약은 특허법 제127조(침해로 보는 행위) 제2호의 규정에 의한 침해이다.

12. 특허 명세서 및 도면의 보정에 관한 설명으로 옳은 것은?

- ① 특허출원인은 최초 거절이유를 통지받기 전까지의 자진보정에서는 특허출원서에 최초로 첨부한 명세서에 없는 구성을 추가하는 보정이 가능하다.
- ② 최초 거절이유를 통지받고 해당 거절이유에 따른 보정을 할 수 있지만, 이 경우에는 거절이유에 기재되지 않은 다른 사항에 대하여 보정을 할 수 없다.
- ③ 최초 거절이유를 해소하고자 청구항의 구성 A를 하위개념의 구성인 “a+b”로 보정하였으나, 이에 대하여 심사관으로부터 다시 거절이유를 통지받은 경우, 구성 “a+b”를 “a”로 보정하고 “b”를 신설 청구항으로 보정을 할 수 있다.
- ④ 거절결정에 대한 재심사청구에서는 보정을 하여야 하며, 이 경우에는 청구항을 신설할 수 없지만, 청구항의 구성 A에 발명의 설명에 기재된 하위개념의 구성 “a”를 직렬 추가하는 “A+a”로 보정할 수 있다.
- ⑤ 거절결정등본을 받은 후, 재심사를 청구하지 않고 거절결정불복심판을 청구하는 경우에는 심사관의 거절결정 이유를 해소하기 위한 도면의 보정만 가능하다.

13. 특허 정정심판 및 정정의 무효심판에 관한 설명으로 옳지 않은 것은? (다툼이 있으면 판례에 따름)

- ① 청구범위 “A+B”가 명세서의 “발명의 설명”에 기재되어 있다고 하더라도, 도면에 기재된 “B+C”를 근거로 청구범위를 “B+C”로 정정하는 것은 청구범위의 변경에 해당하므로 불가능하다.
- ② 청구항에 기재된 “온도 1,000℃”는 특허법 제136조(정정심판) 제1항 제2호의 “잘못 기재된 사항을 정정”하는 경우에 해당한다는 이유로, 명세서에 기재된 “온도 20~50℃”의 범위를 넘더라도 “온도 100℃”로 정정될 수 있다.
- ③ 특허취소신청이 특허심판원에 계속 중인 때부터 그 결정이 확정될 때까지의 기간에는 청구범위의 구성 A를 그 하위개념의 “a”로 감축하는 정정심판을 청구할 수 없다.
- ④ 정정의 무효심판의 심결에 대한 소가 특허법원에 계속 중인 경우에는 특허법원에서 변론이 종결된 날까지 “청구범위를 감축”하는 정정심판을 청구할 수 있다.
- ⑤ “청구범위를 감축하는 정정”을 하는 경우에는 특허발명의 명세서 또는 도면에 기재된 사항의 범위에서 할 수 있지만, “잘못 기재된 사항을 정정”하는 경우에는 특허출원서에 최초로 첨부된 명세서 또는 도면에 기재된 사항의 범위에서 할 수 있다.

14. 특허권의 존속기간연장제도에 관한 설명으로 옳은 것은?

- ① 특허권자 또는 그 특허권의 전용실시권이나 등록된 통상실시권을 가진 자가 특허법 제89조(타인의 특허발명 등과의 관계) 제1항에 따른 의약품 제조허가를 받지 않고 다른 사람이 허가를 받은 경우, 그 존속기간 연장등록출원은 거절결정된다.
- ② 특허발명을 실시하기 위하여 의약품제조 허가를 신청하였으나, 신청자의 책임있는 사유로 보완지시를 받은 날부터 6개월 후에 관련 서류를 제출하여 신청일부터 3년 6개월 후에 허가를 받은 경우의 존속기간연장 기간은 3년 6개월이다.
- ③ 특허권의 존속기간 연장등록출원은 허가를 받은 날부터 6개월 이내에 출원하여야 하며, 특허권의 존속기간의 만료 전 6개월 후에는 그 특허권의 존속기간 연장등록출원을 할 수 없다.
- ④ 청구범위의 독립 청구항이 2개가 있는 경우, 그 독립항 각각 별도로 의약품 제조 허가를 받기 위하여 소요된 기간이 각 독립항별로 2년 및 3년이 걸린 때에는 5년간 존속기간 연장등록이 가능하다.
- ⑤ 특허발명을 실시하기 위하여 의약품제조 허가를 받기 위한 유효성·안전성 시험에 7년이 소요된 경우에는 그 허가를 받는데 걸린 소요기간에 대하여 특허권의 존속기간을 연장할 수 있다.

15. 甲은 “살균성분이 있는 물질 A”에 대한 선출원 등록 특허권자이고, 乙은 “살균성분이 있는 물질 A와 B를 결합하여 생성한 제초제 AB”에 대한 후출원 등록 특허권자이다. 甲과 乙의 특허권 행사에 관한 설명으로 옳지 않은 것은? (다툼이 있으면 판례에 따름)

- ① 甲은 자기의 특허발명인 물질 A가 乙의 제초제에 그대로 실시되고 있다는 이유로 乙의 특허발명을 확인대상발명으로 하여 자기의 특허발명의 권리범위에 속한다는 확인을 구하는 적극적 권리범위확인심판을 청구할 수 있다.
- ② 乙의 특허발명이 甲의 특허발명과 이용관계가 성립하기 위해서는 물질 A와 B의 유기적 결합관계에 의하여 생성된 제초제 AB는 甲의 특허발명인 물질 A의 살균 성분과 특성이 일체성을 가지고 있어야 한다.
- ③ 乙은 자기의 특허발명이 특허법 제98조(타인의 특허발명 등과의 관계)에 해당하여 그 실시의 허락을 받고자 하였으나 甲이 정당한 이유 없이 허락하지 아니하는 경우, 자기의 특허발명의 실시에 필요한 범위에서 통상실시권허락 심판을 청구할 수 있다.
- ④ 乙이 자기의 특허발명을 실시하기 위하여 甲을 상대로 특허법 제138조(통상실시권허락의 심판)의 심판을 청구한 경우, 乙의 특허발명이 甲의 특허발명과 비교하여 상당한 경제적 가치가 있는 중요한 기술적 진보를 가져오는 것이 아니면 통상실시권을 허락하여서는 아니 된다.
- ⑤ 乙은 자기의 특허발명이 甲의 특허발명과 이용관계에 있는 경우 甲의 허락을 받지 아니하고는 자기의 특허발명을 업으로서 실시할 수 없다.

16. 甲은 발명 A를 2018. 9. 1. 미국잡지에 게재한 후 공지에외를 주장하여 특허협력 조약(PCT)에 따라 미국특허청에 2019. 2. 1. 국제특허출원을 하였다. 지정국인 한국특허청의 국내절차에 관한 설명으로 옳지 않은 것은?

- ① 甲이 미국잡지에 게재한 것에 대하여 특허법 제30조(공지 등이 되지 아니한 발명으로 보는 경우) 제1항 제1호를 적용받고자 하는 경우, 그 취지를 적은 서면 및 이를 증명할 수 있는 서류를 2018. 9. 1.부터 2년 7개월 이내에 제출하여야 한다.
- ② 甲이 특허청장에게 서면을 국내서면제출기간에 제출하면서 국어번역문의 제출기간을 연장하여 달라는 취지를 기재하여 제출한 경우에는 국어번역문을 함께 제출하지 않아도 된다.
- ③ 甲이 국내서면제출기간에 발명의 설명, 청구범위 및 도면(설명부분에 한정한다)의 국어번역문을 제출하고, 이에 갈음한 새로운 국어번역문을 제출할 수 있으나 甲이 출원 심사의 청구를 한 후에는 그러하지 아니하다.
- ④ 甲이 특허청장에게 서면을 제출한 경우, 한국에서의 특허출원일은 특허청장에게 서면을 제출한 날이 아니라 국제특허출원일인 2019. 2. 1.이다.
- ⑤ 甲이 특허협력조약(PCT) 제19조(1)의 규정에 따라 청구범위를 보정하고, 그 보정서의 국어번역문을 제출하는 때에는 특허법 제47조(특허출원의 보정) 제1항에 따라 보정된 것으로 본다.



17. 특허법 및 실용신안법상의 신규성에 관한 설명으로 옳지 않은 것은? (다툼이 있으면 판례에 따름)

- ① 누구나 마음대로 출입할 수 있으며 그 출입자가 비밀유지의무를 부담하지 않는 장소에 특정 발명이 설치되었다면 그 발명은 공지된 것으로 보아야 한다.
- ② 카탈로그가 제작되었으면 배부, 반포되는 것이 사회 통념이므로 카탈로그의 배부범위, 비치장소 등에 관하여 구체적인 증거가 없다고 하더라도 그 카탈로그가 배부, 반포되었음을 부인할 수는 없다.
- ③ 박사학위 논문은 제출할 때 공지된 것이 아니라 논문심사에 통과된 이후 인쇄되어 공공도서관 등에 입고되거나 불특정다수인에게 배포됨으로써 그 내용이 공지된 것으로 본다.
- ④ 법원은 특허출원 후에 작성된 문건들에 기초하여 특정 발명이 특허출원 전에 공지 또는 공연실시된 것인지 여부를 결정할 수 있다.
- ⑤ 신규성 판단에 있어서의 ‘특허출원 전’이란 개념은 외국에서 공지된 경우에 한국 시간으로 환산하는 시, 분, 초까지도 고려한 자연시 개념이 아니라 특허출원일의 개념이다.

18. 특허 및 실용신안에 관한 설명으로 옳지 않은 것은? (다툼이 있으면 판례에 따름)

- ① 실용신안 물품을 적법하게 양수한 자가 당해 물품을 계속 사용하기 위하여 필요한 범위 내에서 실용신안으로서 보호되는 기술적 사상과 무관한 부품의 교체는 실용신안권 침해가 되지 아니한다.
- ② 물건을 생산하는 방법의 발명에 대한 특허권자가 생산한 물건이 경매절차에 의하여 양도된 경우에도 원칙적으로 특허권은 소진된다.
- ③ 타인의 특허발명을 허락없이 실시한 자라도 자신이 실시하는 기술이 특허발명의 권리 범위에 속하지 않는다고 믿은 점을 정당화할 수 있는 사정이 있다는 것을 주장하여 입증한다면 그에 대한 과실의 추정은 번복될 수 있다.
- ④ 특허출원에 있어서 거절이유통지에 따른 의견서 제출기간의 마지막 날이 2019. 5. 1. (수요일, 근로자의 날)인 경우 2019. 5. 2. 제출된 의견서는 적법한 서류로 볼 수 없어 불수리 반려되어야 한다.
- ⑤ 특허발명 실시계약 체결 이후에 계약 대상인 특허의 무효가 확정되었더라도 특허의 유효성이 계약 체결의 동기로서 표시되었고 그것이 법률행위의 내용의 중요부분에 해당하는 등의 사정이 없는 한, 착오를 이유로 특허발명 실시계약을 취소할 수는 없다.

19. 특허 및 실용신안의 심판에 관한 설명으로 옳지 않은 것은? (다툼이 있으면 판례에 따름)

- ① 실용신안법 제11조(특허법의 준용)에 따라 준용되는 특허법 제33조(특허를 받을 수 있는 자) 제1항 본문에 따른 실용신안등록을 받을 수 있는 권리를 가지지 아니하는 경우, 실용신안등록을 받을 수 있는 권리자 또는 심사관은 그 실용신안등록의 무효심판을 청구할 수 있다.
- ② 동일한 특허발명에 대하여 특허 무효심판과 정정심판이 특허심판원에 동시에 계속중에 있는 경우에는 정정심판제도의 취지상 정정심판을 특허 무효심판에 우선하여 심리·판단하는 것이 바람직하므로 반드시 정정심판을 먼저 심리·판단하여야 한다.
- ③ 실용신안등록의 무효를 청구할 수 있는 심사관은 심판청구 당시 실용신안의 등록출원에 대한 심사를 담당하고 있는 자이면 되고 반드시 당해 실용신안등록을 심사하여 등록결 정한 심사관에 한하거나 심결당시에 그 심사관의 지위에 있어야만 하는 것은 아니다.
- ④ 특허권의 공유관계는 민법에 규정된 합유에 준하는 것이므로 특허권이 공유인 경우 그 특허권에 관한 심판사건에 있어서는 공유자 전원이 심판의 청구인 또는 피청구인이 되어야 하고 그 심판절차는 공유자 전원에게 합일적으로 확정되어야 할 필요에서 이른바 필요적 공동소송관계에 있다.
- ⑤ 자신의 발명이 타인의 특허권의 권리범위에 속하지 아니한다는 소극적 권리범위확인 심판 청구에 있어서 그 이유가 없는 경우, 그것을 배척함에 그치지 아니하고 그 타인의 권리범위 내에 속한다고 심결하는 것은 위법하다.

20. 실용신안등록출원에 관한 설명으로 옳은 것을 모두 고른 것은?

- ㄱ. 실용신안등록출원인이 외국어실용신안등록출원을 한 경우, 실용신안법 제11조(특허법의 준용)에 따라 준용되는 특허법 제47조(특허출원의 보정) 제1항 제1호 또는 제2호에 따른 기간에 정정을 하는 경우에는 마지막 정정 전에 한 모든 정정은 처음부터 없었던 것으로 본다.
- ㄴ. 하나의 총괄적 고안의 개념을 형성하는 일 군(群)의 고안에 대하여도 하나의 실용신안등록출원으로 할 수 있다.
- ㄷ. 특허심판원 소속 직원이었던 사람이 실용신안등록출원 중인 고안에 관하여 직무상 알게 된 비밀을 도용한 경우에는 5년 이하의 징역 또는 5천만 원 이하의 벌금에 처한다.
- ㄹ. 실용신안등록출원일부 3년이 지난 후에도 변경출원을 한 날부터 30일 이내에는 누구든지 실용신안등록출원심사의 청구를 할 수 있다.

- ① ㄱ, ㄴ
- ② ㄱ, ㄷ
- ③ ㄱ, ㄴ, ㄹ
- ④ ㄴ, ㄷ, ㄹ
- ⑤ ㄱ, ㄴ, ㄷ, ㄹ

**21. 상표법상 상품에 해당되는 것은? (다툼이 있으면 판례에 따름)**

- ① 다른 상품의 판매촉진이나 광고를 하기 위하여 무상으로 제공되는 볼펜
- ② 마약 등 거래가 금지되는 물품
- ③ 인터넷에서 다운로드의 형태로 판매되는 컴퓨터프로그램
- ④ 대리점에서 판매되는 즉석건강식품의 원재료를 보여주기 위해서 곡물마다 별도로 유리용기에 담은 상품의 견본
- ⑤ 종전부터 발행하여 오던, 영화·음악·연예인 등에 관한 정보를 담은 월간잡지 “ROADSHOW, 로드쇼”의 독자들에게 보답하기 위하여 사은품으로 제공한 외국의 영화배우들 사진을 모은 “WINK”라는 제호의 책자

**22. 상표법상 손실보상청구권에 관한 설명으로 옳지 않은 것은?**

- ① 출원인은 출원공고 후 해당 상표등록출원에 관한 지정상품과 동일·유사한 상품에 대하여 해당 상표등록출원에 관한 상표와 동일·유사한 상표를 사용하는 자에게 서면으로 경고할 수 있고, 출원인이 해당 상표등록출원의 사본을 제시하는 경우에는 출원공고 전이라도 서면으로 경고할 수 있다.
- ② 상표법 제58조(손실보상청구권) 제1항에 따라 경고를 한 출원인은 경고 후 상표권을 설정등록할 때까지의 기간에 발생한 해당 상표의 사용에 관한 업무상 손실에 상당하는 보상금의 지급을 청구할 수 있다.
- ③ 상표등록출원이 포기·취하·무효가 되거나 상표등록거절결정이 확정된 경우, 손실보상청구권은 처음부터 발생하지 않는 것으로 추정한다.
- ④ 손실보상청구권은 해당 상표등록출원에 대한 상표권의 설정등록 전까지는 행사할 수 없다.
- ⑤ 손실보상청구권을 행사할 때 상표법 제110조(손해액의 추정 등)가 준용되지 않기 때문에 업무상 손실에 관한 사항은 청구권자가 입증하여야 한다.

23. 상표법상 벌칙에 관한 설명으로 옳지 않은 것은?

- ① 상표권 침해행위는 권리자에게 피해를 주는 것 이외에 상품 출처의 오인·혼동을 발생시킴으로써 거래질서를 혼란하게 할 우려도 있으므로, 상표권 침해죄는 특허권 침해죄와는 달리 비친고죄이다.
- ② 상표법에 따라 선서한 증인으로서 특허심판원에 대하여 거짓의 진술·감정을 하여 위증죄를 범한 자가 그 사건의 상표등록여부결정 또는 심결의 확정 전에 자수하였을 경우에는 필요적으로 그 형을 감경하거나 면제하여야 한다.
- ③ 상표법상 비밀유지명령위반죄는 비밀유지명령을 신청한 자의 고소가 있어야 공소를 제기할 수 있는 친고죄이다.
- ④ 거짓이나 그 밖의 부정한 행위를 하여 상표등록, 지정상품의 추가등록, 존속기간갱신 등록, 상품 분류전환등록 또는 심결을 받은 자는 거짓행위의 죄에 해당되는데 이 죄는 비친고죄이다.
- ⑤ 상표권 침해행위에 제공되거나 그 침해행위로 인하여 생긴 침해물과 그 침해물 제작에 주로 사용하기 위하여 제공된 제작 용구 또는 재료는 필요적 몰수의 대상이지만, 상품이 그 기능 및 외관을 해치지 아니하고 상표 또는 포장과 쉽게 분리될 수 있는 경우에는 그 상품은 몰수하지 아니할 수 있다.

24. 상표등록을 받을 수 있는 것을 모두 고른 것은? (다툼이 있으면 판례에 따름)

- ㄱ. 해군사관학교 사관생도의 “견장”
- ㄴ. 의류를 지정상품으로 하는 상표 “JAMES DEAN”
- ㄷ. 지정상품이 기계류인 출원상표 “KSB”
- ㄹ. 지정상품을 ‘눈썹용 연필, 립스틱, 매니큐어, 아이세도, 마스크라’ 등으로 하는 외국회사의 출원상표 “2NE1”
- ㅁ. 공인노무사업, 법무사업, 변호사업, 변리사업 등을 지정서비스업으로 하면서 전문직 종사자에게 업무를 위임하지 아니하고 스스로 행할 수 있도록 도와주는 방식을 보통으로 표시하는 표장만으로 된 상표 “나홀로”
- ㅂ. 지정상품을 서적으로 하는 출원상표 “관족법(觀足法)”

- ② ① ㄱ, ㄷ
- ② ㄴ, ㄷ
- ③ ㄱ, ㄹ, ㅁ
- ③ ④ ㄴ, ㄹ, ㅂ
- ⑤ ㄷ, ㅁ, ㅂ

**25. 상표의 식별력에 관한 설명으로 옳지 않은 것은? (다툼이 있으면 판례에 따름)**

- ① 사회통념상 자타상품의 식별력을 인정하기 곤란하거나 공익상 특정인에게 상표를 독점 시키는 것이 적당하지 않다고 인정되는 경우에 그 상표는 식별력이 없다.
- ② 둘 이상의 문자 또는 도형의 조합으로 이루어진 결합상표는 구성 부분 전체의 외관, 호칭, 관념을 기준으로 상표의 유사 여부를 판단하는 것이 원칙이나, 상표 중에서 일반 수요자에게 그 상표에 관한 인상을 심어주거나 기억·연상을 하게 함으로써 그 부분만으로 독립하여 상품의 출처표시 기능을 수행하는 부분, 즉 요부가 있는 경우 적절한 전체관찰의 결론을 유도하기 위해서는 요부를 가지고 상표의 유사 여부를 대비·판단하는 것이 필요하다.
- ③ 결합상표의 구성 부분 전부가 식별력이 없거나 미약한 경우에는 그 중 일부만이 요부가 된다고 할 수 없으므로 상표 전체를 기준으로 유사 여부를 판단하여야 한다.
- ④ 현저한 지리적 명칭과 대학교라는 단어의 결합으로 본래의 현저한 지리적 명칭을 떠나 새로운 관념을 낳거나 새로운 식별력을 형성한 경우에는 상표등록을 할 수 있고, 이 경우에 현저한 지리적 명칭과 대학교라는 단어의 결합만으로 새로운 관념이나 식별력이 생긴다고 볼 수는 없다.
- ⑤ 수요자를 기만할 염려가 있는 상표가 특정인의 상표나 상품이라고 인식되었다고 인정되려면 선사용상표가 국내 전역에 걸쳐 수요자와 거래자에게 알려져야 하고, 특정인의 상표 등으로 인식되었는지 여부는 구체적인 사안에서 개별적으로 새로운 관념이나 식별력이 생겼는지를 판단하여야 한다.

**26. 상표 유사에 관한 설명으로 옳지 않은 것은? (다툼이 있으면 판례에 따름)**

- ① 도형상표에 있어서는 그 외관이 지배적인 인상을 남긴다 할 것이므로 외관이 동일·유사하여 양 상표를 다 같이 동종 상품에 사용하는 경우 일반 수요자로 하여금 상품의 출처에 관하여 오인·혼동을 일으킬 염려가 있다면 양 상표는 유사하다고 보아야 한다.
- ② 상표의 유사 여부 판단에서 상품 출처의 오인·혼동을 일으킬 우려가 있는지 여부는 보통의 주의력을 가진 우리나라의 일반 수요자나 거래자를 기준으로 판단하여야 한다.
- ③ 대비되는 상표 사이에 유사한 부분이 있다고 하더라도 그 부분만으로 분리인식될 가능성이 희박하거나 전체적으로 관찰할 때 명확히 출처의 혼동을 피할 수 있는 경우에는 유사상표라고 할 수 없다.
- ④ 도형상표들에서 상표의 유사 여부 판단은 두 개의 상표 자체를 나란히 놓고 대비하여 두 개의 상표를 대하는 일반 수요자에게 상품 출처에 관하여 오인·혼동을 일으킬 우려가 있는지의 관점에서 이루어져야 한다.
- ⑤ 유사상표의 사용행위에 해당하는지에 대한 판단은 두 상표가 해당 상품에 관한 거래 실정을 바탕으로 외관, 호칭, 관념 등에 의하여 일반 수요자에게 주는 인상, 기억, 연상 등을 전체적으로 종합할 때, 두 상표를 때와 장소를 달리하여 대하는 일반 수요자가 상품 출처에 관하여 오인·혼동할 우려가 있는지의 관점에서 이루어져야 한다.

**27. 상표권의 이전에 관한 설명으로 옳지 않은 것은?**

- ① 단체표장권은 이전할 수 없다. 다만, 법인의 합병의 경우에는 특허청장의 허가를 받아 이전할 수 있다.
- ② 단체표장권, 업무표장권 또는 증명표장권에 관하여는 전용사용권을 설정할 수 없다.
- ③ 업무표장권은 이전할 수 없다. 다만, 그 업무와 함께 이전할 경우에는 특허청장의 허가를 받아 이전할 수 있다.
- ④ 상표권은 그 지정상품마다 분할하여 이전할 수 있다. 이 경우 유사한 지정상품은 함께 이전하여야 한다.
- ⑤ 상표권의 이전(상속이나 그 밖의 일반승계에 의한 경우는 제외한다)·변경·포기에 의한 소멸, 존속기간의 갱신, 상품분류전환, 지정상품의 추가 또는 처분의 제한에 해당하는 사항은 등록하지 아니하면 그 효력이 발생하지 아니한다.

**28. 상표권에 관한 설명으로 옳지 않은 것은? (다툼이 있으면 판례에 따름)**

- ① 상표권자에 대하여 상표권에 관한 이전약정에 기하여 이전등록절차의 이행을 청구할 권리를 가지는 사람이 이미 그 상표를 실제로 사용하고 있으면 상표권에 관한 이전등록절차 이행청구권의 소멸시효가 진행되지 아니한다.
- ② 타인의 상표권을 침해한 자는 그 침해행위에 대하여 과실이 있는 것으로 추정되고, 타인의 상표권을 침해한 자에게 과실이 없다고 하기 위하여는 상표권의 존재를 알지 못하였다는 점을 정당화할 수 있는 사정이 있다거나 자신이 사용하는 상표가 등록상표의 권리범위에 속하지 아니한다고 믿은 점을 정당화할 수 있는 사정이 있다는 것을 주장·증명하여야 한다.
- ③ 상표법 제109조(손해배상의 청구)에 따른 손해배상을 청구하는 경우 그 등록상표의 사용에 대하여 합리적으로 받을 수 있는 금액에 상당하는 금액을 상표권자 또는 전용사용권자가 받은 손해액으로 하여 그 손해배상을 청구할 수 있다.
- ④ 상표권은 등록되어 있는 상표를 타인이 사용하였다는 것만으로 당연히 통상 받을 수 있는 상표권 사용료 상당액이 손해로 인정되는 것은 아니고, 상표권자가 그 상표를 영업 등에 실제 사용하고 있었음에도 불구하고 상표권 침해행위가 있었다는 등 구체적 피해 발생이 전제되어야 인정될 수 있다.
- ⑤ 상표권의 행사가 상표제도의 목적이나 기능을 일탈하여 공정한 경쟁질서와 상거래 질서를 어지럽히고 수요자 사이에 혼동을 초래하거나 상대방에 대한 관계에서 신의성실의 원칙에 위배되는 등 법적으로 보호받을 만한 가치가 없다고 인정되는 경우에는 그 상표권의 행사는 권리행사의 외형을 갖추었다 하더라도 등록상표에 관한 권리를 남용하는 것으로서 허용될 수 없다.

**29. 상표등록 취소심판에 관한 설명으로 옳은 것은?**

- ① 지정상품추가등록출원의 기초가 된 등록상표에 대하여 무효심판 또는 취소심판이 청구되거나 그 등록상표가 무효심판 또는 취소심판 등으로 소멸된 경우에 지정상품추가등록 출원을 한 출원인은 상표등록출원으로 변경할 수 있다.
- ② 전용사용권자 또는 통상사용권자가 지정상품 또는 이와 유사한 상품에 등록상표 또는 이와 유사한 상표를 사용함으로써 수요자에게 상품의 품질을 오인하게 하거나 타인의 업무와 관련된 상품과의 혼동을 불러일으키게 한 경우에는 상표권자가 상당한 주의를 하여도 그 상표등록의 취소심판을 청구할 수 있다.
- ③ 상표권의 이전으로 유사한 등록상표가 각각 다른 상표권자에게 속하게 되고 그 중 1인이 자기의 등록상표의 지정상품과 동일·유사한 상품에 부정경쟁을 목적으로 자기의 등록상표를 사용함으로써 수요자에게 상품의 품질을 오인하게 하거나 타인의 업무와 관련된 상품과 혼동을 불러일으키게 한 경우를 사유로 하는 취소심판은 이해관계인만이 청구할 수 있다.
- ④ 상표법 제120조(전용사용권 또는 통상사용권 등록의 취소심판) 제1항에 따라 전용사용권 또는 통상사용권 등록의 취소심판을 청구한 후 그 심판청구사유에 해당하는 사실이 없어진 경우에도 취소 사유에 영향이 미치지 아니한다.
- ⑤ 상표권자·전용사용권자 또는 통상사용권자 중 어느 누구도 정당한 이유 없이 등록상표를 그 지정상품에 대하여 취소심판청구일 전 계속하여 3년 이상 국내에서 사용하고 있지 아니하였음을 이유로 상표등록을 취소한다는 심결이 확정되었을 경우에는 그 상표권은 심결 확정일부터 소멸된다.

**30. 상표법상 일사부재리 원칙에 관한 설명으로 옳지 않은 것은? (다툼이 있으면 판례에 따름)**

- ① 상표법에 따른 심판의 심결이 확정되었을 경우에 그 사건에 대해서 이해관계인은 같은 사실 및 같은 증거에 의하여 다시 심판을 청구할 수 없다. 다만, 확정된 심결이 각하심결인 경우에는 다시 심판을 청구할 수 있다.
- ② 확정심결에 일사부재리의 효력을 인정하는 이유는 서로 모순·저촉되는 심결방지와 확정심결의 신뢰성확보·권위 유지, 심판청구의 남발 방지, 확정심결에 대한 법적 안정성에 있다.
- ③ 확정심결의 일사부재리는 심결당사자, 그 승계인뿐만 아니라 제3자에 대하여도 대세적 효력이 있다.
- ④ 대법원은 동일 증거에는 전에 확정된 심결의 증거와 동일한 증거만이 아니라 그 심결을 번복할 수 있을 정도로 유력하지 아니한 증거가 부가되는 것도 포함하는 것이므로, 확정된 심결의 결론을 번복할 만한 유력한 증거가 새로 제출된 경우에는 일사부재리의 원칙에 반하지 않는다고 판시하였다.
- ⑤ 대법원은 일사부재리의 원칙에 해당하는지의 판단 시점을 ‘심결시’에서 ‘심판청구시’로 변경하였다.

**31. 디자인등록출원절차에 관한 설명으로 옳은 것은?**

- ① 특허청장 또는 특허심판원장은 청구에 따라 또는 직권으로 디자인보호법 제119조(보정각하결정에 대한 심판)에 따른 심판의 청구기간을 30일 이내에서 한 차례만 연장할 수 있지만, 예외적으로 교통이 불편한 지역에 있는 자에 대해서는 산업통상자원부령으로 정하는 바에 따라 추가로 1회 연장할 수 있고, 그 기간은 1개월 이내로 한다.
- ② 특허청장 또는 특허심판원장은 디자인보호법 제47조(절차의 보정)에 따른 보정명령을 받은 자가 지정된 기간 내에 그 보정을 하지 않아 디자인에 관한 절차가 무효로 된 경우에 지정된 기간을 지키지 못한 것이 보정명령을 받은 자가 책임질 수 없는 사유에 의한 것으로 인정되면 그 사유가 소멸한 날부터 1개월 이내 보정명령을 받은 자의 청구에 따라 그 무효처분을 취소할 수 있다.
- ③ 특허청장 또는 심판장은 디자인보호법 제22조(절차의 중단)에 따라 중단된 절차에 관한 수계신청에 대하여 직권으로 조사하여 이유 없다고 인정하면 결정으로 각하하여야 한다.
- ④ 특허청장 또는 심판관은 디자인보호법 제23조(중단된 절차의 수계)에 규정된 자가 중단된 절차를 수계하지 아니하면 직권으로 기간을 정하여 수계를 명하여야 하며, 수계 명령을 받은 자가 이 기간에 수계하지 아니하면 그 기간이 끝나는 날의 다음 날에 수계한 것으로 본다.
- ⑤ 특허청장 또는 특허심판원장이 천재지변이나 그 밖의 불가피한 사유로 그 직무를 수행할 수 없을 때에는 특허청 또는 특허심판원에 계속 중인 절차는 그 사유가 없어질 때까지 중지된다.

**32. 비밀디자인에 관한 설명으로 옳은 것은?**

- ① 디자인등록출원인은 디자인권의 설정등록일의 다음날부터 3년 이내의 기간을 정하여 그 디자인을 비밀로 할 것을 청구할 수 있으며, 이때 복수디자인등록출원된 디자인에 대하여는 출원된 디자인의 전부 또는 일부에 대하여 청구할 수 있다.
- ② 디자인등록출원인은 디자인등록출원을 한 날부터 최초의 디자인등록료를 내는 날까지 그 디자인을 비밀로 할 것을 청구할 수 있으며, 디자인보호법 제86조(등록료 및 수수료의 감면)에 따라 그 등록료가 면제된 경우에는 특허청장이 디자인권을 설정등록할 때까지 그 디자인을 비밀로 할 것을 청구할 수 있다.
- ③ 디자인등록출원인이 비밀디자인으로 청구된 디자인등록출원에 대하여 출원공개신청을 한 경우에 그 디자인에 대한 비밀청구는 취소된 것으로 본다.
- ④ 디자인권자의 동의를 받은 자가 비밀디자인을 열람청구하여 해당 비밀디자인을 열람하게 된 경우에 그 열람한 내용을 무단으로 촬영·복사 등의 방법으로 취득 하거나 알게 된 내용을 누설하여서는 아니 되며, 누설하는 경우에는 3년 이하의 징역 또는 3천 만원 이하의 벌금에 처한다.
- ⑤ 비밀디자인으로 청구한 디자인의 디자인권자 및 전용실시권자는 그 디자인에 관하여 특허청장으로부터 증명을 받은 서면을 제시하여 경고하지 않더라도 권리 침해자에 대하여 침해금지 또는 예방을 청구할 수 있다.





35. 디자인 일부심사등록출원이 거절결정될 수 있는 것을 모두 고른 것은? (단, 정보 제공에 의한 경우는 제외함)

- ㄱ. 디자인등록을 받을 수 있는 권리를 가지지 아니한 자가 출원한 디자인
- ㄴ. 디자인등록출원 전에 국내에서 공지된 디자인과 유사한 디자인
- ㄷ. 공공기관의 표장과 동일한 디자인
- ㄹ. 디자인등록출원 전에 반포된 간행물에 게재된 디자인을 결합한 것으로 쉽게 창작할 수 있는 디자인
- ㅁ. 200 디자인을 1디자인등록출원한 디자인

- ① ㄱ, ㄴ, ㄷ      ② ㄱ, ㄷ, ㅁ      ③ ㄴ, ㄷ, ㄹ      ④ ㄴ, ㄹ, ㅁ      ⑤ ㄷ, ㄹ, ㅁ

36. 디자인등록 심판 및 재심에 관한 설명으로 옳은 것은?

- ① 이해관계인 또는 심사관은 디자인등록이 디자인보호법 제42조(한 별의 물품의 디자인)에 위반된 경우에 한 별의 물품 디자인등록무효심판을 청구할 수 있으며, 이는 한 별 물품의 디자인권이 소멸된 후에도 청구할 수 있다.
- ② 디자인권이 공유인 경우에 같은 디자인권에 대하여 디자인등록무효심판을 청구하는 자가 2인 이상이면 각자 또는 모두가 공동으로 심판을 청구하여야 한다.
- ③ 특허심판원장은 디자인보호법 제119조(보정각하결정)에 따른 심판이 청구된 경우에 그 청구가 이유있다고 인정될 때에는 심결로써 보정각하결정을 취소하여야 한다.
- ④ 대리권의 흠을 이유로 재심을 청구하는 경우에 청구인 또는 법정대리인이 심결등본의 송달에 의하여 심결이 있는 것을 안 날로부터 30일 이내 재심을 청구하여야 한다.
- ⑤ 심결에 대한 소는 특허법원의 전속관할로 하며, 당사자, 참가인 또는 해당 심판이나 재심에 참가 신청을 하였으나 그 신청이 거부된 자만 제기할 수 있다.

37. 디자인보호법상 관련디자인에 관한 설명으로 옳지 않은 것은?

- ① 관련디자인으로 등록되기 위해서는 그 디자인의 대상이 되는 물품이 기본디자인의 물품과 동일하거나 유사한 물품이어야 한다.
- ② 관련디자인의 출원인은 디자인등록출원서에 관련디자인의 디자인등록출원 여부를 적어 특허청장에게 제출하여야 한다.
- ③ 관련디자인은 기본디자인과의 관계에서 신규성이나 선출원에 대한 예외를 인정할 뿐이고, 이를 제외한 나머지 등록요건을 만족하여야 관련디자인으로 등록될 수 있다.
- ④ 무효심판 계류 중인 등록디자인을 기본디자인으로 한 관련디자인등록출원이 관련디자인으로 인정될 경우에는 그 심사를 보류한다.
- ⑤ 심사관은 디자인일부심사등록출원으로서 관련디자인등록출원이 기본디자인과 유사하지 아니한 경우에는 디자인등록거절결정을 할 수 없다.

**38. 디자인등록출원 분할 및 보정에 관한 설명으로 옳지 않은 것은?**

- ① 디자인등록출원의 보정은 디자인등록여부결정의 통지서가 도달하기 전까지 할 수 있다.
- ② 복수디자인등록출원을 한 자는 디자인등록출원의 일부를 1 이상의 새로운 디자인등록 출원으로 분할하여 디자인등록출원을 할 수 있다.
- ③ 디자인등록출원인은 디자인일부심사등록출원을 디자인심사등록출원으로, 디자인심사등록출원을 디자인일부심사등록출원으로 변경하는 보정을 할 수 있다.
- ④ 국제디자인등록출원인은 디자인일부심사등록출원을 디자인심사등록출원으로, 디자인심사등록출원을 디자인일부심사등록출원으로 변경하는 보정을 할 수 없다.
- ⑤ 한 벌 물품의 디자인을 출원한 자는 한 벌 물품 디자인의 성립요건을 충족하지 못한 경우 각각의 구성 물품을 분할하여 디자인등록출원을 할 수 있다.

**39. 디자인에 관한 판결의 내용 중 옳은 것은? (다툼이 있으면 판례에 따름)**

- ① 디자인의 유사 여부는, 디자인을 구성하는 요소들을 각 부분으로 분리하여 대비할 것이 아니라 전체와 전체를 대비·관찰하여, 보는 사람의 마음에 환기될 미적 느낌과 인상이 유사한지 여부에 따라 판단하되, 그 물품의 성질, 용도, 사용형태 등에 비추어 보는 사람의 시선과 주의를 가장 끌기 쉬운 부분을 중심으로 대비·관찰하여 특허청 심사관의 심미감에 차이가 생기게 하는지 여부의 관점에서 판단하여야 한다.
- ② 등록디자인에 대한 등록무효심결이 확정되기 전이라도 그 디자인등록이 무효심판에 의하여 무효로 될 것이 명백한 경우에는 그 디자인권에 기초한 침해금지 또는 손해배상 등의 청구는 특별한 사정이 없는 한 권리남용에 해당하여 허용되지 아니한다고 보아야 하며, 디자인권침해소송을 담당하는 법원은 디자인권자의 그러한 청구가 권리 남용에 해당한다는 항변이 있는 경우에 그 당부를 살피기 위한 전제로서 디자인등록의 무효 여부에 대하여 심리·판단할 수 없다.
- ③ 디자인보호법 제33조(디자인등록의 요건)에 따라 창작수준을 판단할 때는 공지디자인의 대상 물품이나 주지형태의 알려진 분야, 공지디자인이나 주지형태의 외관적 특징들의 관련성, 해당 디자인 분야의 일반적 경향 등에 비추어 일반 수요자가 용이하게 그와 같은 결합에 이를 수 있는지를 함께 살펴보아야 한다.
- ④ 등록디자인의 보호범위는 디자인등록출원서의 기재사항 및 그 출원서에 첨부한 도면과 도면의 기재사항·사진·모형 또는 견본에 표현된 디자인에 의하여 정하여지므로, 등록디자인은 통상의 지식을 가진 자가 그 보호범위를 명확하게 파악하여 동일한 형태와 모양의 물품을 반복 생산할 수 있을 정도로 구체성을 갖출 필요는 없다.
- ⑤ 디자인보호법 제2조(정의)에서 말하는 ‘물품’이 디자인등록의 대상이 되기 위해서는 통상의 상태에서 독립된 거래의 대상이 되어야 하고, 그것이 부품인 경우에는 다시 호환성을 가져야 하나, 이는 반드시 실제 거래사회에서 현실적으로 거래되고 다른 물품과 호환될 것을 요하는 것은 아니고, 그러한 독립된 거래의 대상 및 호환의 가능성만 있으면 디자인등록의 대상이 되는 것이다.

40. 「산업디자인의 국제등록에 관한 헤이그협정」에 따른 국제출원에 있어서 특허청을 통한 국제출원에 관한 설명으로 옳은 것은?

- ① 특허청장은 국제출원서의 기재사항이 영어로 기재되어 있지 않은 경우에 국제출원인에게 상당한 기간을 정하여 보완에 필요한 대체서류의 제출을 명하여야 하며, 이때 제출명령을 받은 자가 지정 기간 이후에 대체서류를 제출한 경우에는 이를 출원인 또는 제출인에게 반려하여야 한다.
- ② 특허청을 통한 국제출원을 하려는 자는 국제출원서 및 그 출원에 필요한 서류를 특허청장에게 제출해야 하는데, 이때 국제출원서에는 사진을 포함하여 도면을 첨부하여야 하지만, 헤이그협정 제5조(국제출원의 내용)에 따른 수수료의 납부방법까지 적어야 하는 것은 아니다.
- ③ 특허청을 통한 국제출원을 하려는 자가 헤이그협정 제5조(국제출원의 내용)에 따른 공개 연기신청을 하려는 경우에는 국제출원서에 도면을 대신하여 산업통상자원부령으로 정하는 바에 따른 견본을 첨부하여야 한다.
- ④ 특허청장은 국제출원서가 도달한 날을 국제출원서에 적어 관계 서류와 함께 헤이그협정 제1조(약어적 표현)에 따른 국제사무국에 보내고, 그 국제출원서의 원본을 특허청을 통한 국제출원을 한 자에게 보내야 한다.
- ⑤ 특허청장은 특허청을 통한 국제출원을 하려는 자가 송달료를 내지 아니한 경우에는 상당한 기간을 정하여 보정을 명하여야 하고, 보정명령을 받은 자가 지정된 기간에 송달료를 내지 아니한 경우에는 해당 절차를 무효로 하여야 한다.

02  
2021

제58회 변리사 1차 국가자격시험  
[2교시] 민법개론

1. 권리남용금지의 원칙에 관한 설명으로 옳은 것을 모두 고른 것은? (다툼이 있으면 판례에 따름)

- ㄱ. 채무자가 소멸시효완성 전에 채권자의 권리행사를 현저하게 곤란하게 하여 시효가 완성된 경우, 채무자가 시효의 완성을 주장하는 것은 권리 남용이 된다.
- ㄴ. 권리남용은 당사자의 주장이 없더라도 법원은 직권으로 판단할 수 있다.
- ㄷ. 거래당사자가 유치권을 자신의 이익을 위하여 고의적으로 작출하여 유치권의 최우선순위 담보권으로서의 지위를 부당하게 이용함으로써 신의 성실의 원칙에 반한다고 평가되는 경우에는 유치권의 남용이 된다.
- ㄹ. 권리남용으로 인정되는 경우, 남용의 구체적 효과는 권리의 종류와 남용의 결과에 관계없이 권리의 박탈이라는 점에서는 동일하다.

- ① ㄱ, ㄴ      ② ㄴ, ㄷ      ③ ㄷ, ㄹ      ④ ㄱ, ㄴ, ㄷ      ⑤ ㄴ, ㄷ, ㄹ

2. 법인의 기관에 관한 설명으로 옳은 것을 모두 고른 것은? (다툼이 있으면 판례에 따름)

- ㄱ. 법인의 정관에 이사의 해임사유에 관한 규정이 있는 경우, 법인으로서의 이사의 중대한 의무위반 등의 특별한 사정이 없는 이상 정관에서 정하지 아니한 사유로 이사를 해임할 수 없다.
- ㄴ. 이사와 감사의 성명·주소는 등기사항이다.
- ㄷ. 이익이 상반되는 경우, 법원이 선임한 특별대리인은 그 사항에 대하여 법인을 대표한다.
- ㄹ. 이사의 대표권 제한이 정관에 기재된 경우, 이를 등기하지 않아도 악의의 제3자에게 대항할 수 있다.

- ① ㄱ, ㄷ      ② ㄴ, ㄹ      ③ ㄱ, ㄴ, ㄹ      ④ ㄱ, ㄷ, ㄹ      ⑤ ㄴ, ㄷ, ㄹ

3. 비법인사단에 관한 설명으로 옳은 것은? (다툼이 있으면 판례에 따름)

- ① 비법인사단은 부동산소유권에 관하여 등기의무자가 될 수 없다.
- ② 비법인사단의 해산에 따른 청산절차에는 사단법인의 청산인에 관한 민법 규정을 유추적용할 수 있다.
- ③ 비법인사단의 대표자가 행한 타인에 대한 업무의 포괄적 위임과 그에 따른 포괄적 수입인의 대행행위는 비법인사단에 대하여 그 효력이 있다.
- ④ 비법인사단의 채무는 구성원의 지분비율에 따라 귀속한다.
- ⑤ 이사의 결원으로 인하여 손해가 생길 염려가 있더라도 이해관계인은 법원에 임시이사의 선임을 청구할 수 없다.

**4. 법률행위의 부관에 관한 설명으로 옳지 않은 것은? (다툼이 있으면 판례에 따름)**

- ① 상계에는 시기(始期)를 붙이지 못한다.
- ② 현상광고에 정한 행위의 완료에 조건이나 기한을 붙일 수 있다.
- ③ 무상임치와 무이자 소비대차의 경우, 채무자만이 기한이익을 갖는다.
- ④ 조건의 성취로 인하여 이익을 받을 당사자가 신의성실에 반하여 조건을 성취시킨 때에는 상대방은 그 조건이 성취하지 아니한 것으로 주장할 수 있다.
- ⑤ 부관이 붙은 법률행위에 있어서 부관에 표시된 사실이 발생한 때뿐만 아니라 발생하지 않는 것으로 확정된 때에도 그 채무를 이행하여야 한다고 보는 것이 상당한 경우에는 표시된 사실의 발생여부가 확정되는 것을 불확정기한으로 정한 것으로 본다.

**5. 물건에 관한 설명으로 옳은 것은? (다툼이 있으면 판례에 따름)**

- ① 부동산에 부속된 동산을 분리하면 그 동산의 경제적 가치가 없는 경우에는 타인이 권원에 의하여 동산을 부속시킨 경우라도 그 동산은 부동산소유자에게 귀속된다.
- ② 집합물에 대한 양도담보권자가 점유개정의 방법으로 양도담보권설정계약 당시 존재하는 집합물의 점유를 취득한 후 양도담보권설정자가 자기 소유의 집합물을 이루는 물건을 반입한 경우, 나중에 반입된 물건에는 양도담보권의 효력이 미치지 않는다.
- ③ 적법한 경작권 없이 타인의 토지를 경작하였다면 그 경작한 입도(立稻)가 성숙한 경우에도 경작자는 그 입도의 소유권을 갖지 못한다.
- ④ 증물은 주물의 처분에 따르므로, 당사자의 특약으로 증물만을 별도로 처분할 수 없다.
- ⑤ 입목에 관한 법률에 의하여 소유권보존등기가 마쳐진 입목은 토지와 분리하여 양도될 수 있으나, 저당권의 객체는 될 수 없다.

**6. 소멸시효에 관한 설명으로 옳지 않은 것은? (다툼이 있으면 판례에 따름)**

- ① 소멸시효에 관한 규정은 강행규정이지만, 법률행위에 의하여 경감할 수 있다.
- ② 공유물분할청구권은 공유관계가 존속하는 한 별도로 소멸시효가 진행되지 않는다.
- ③ 부당이득반환청구권의 소멸시효는 청구권이 성립한 때로부터 진행하고, 원칙적으로 권리의 존재나 발생을 알지 못하였다고 하더라도 소멸시효의 진행에 장애가 되지 않는다.
- ④ 부동산매수인이 소유권이전등기 없이 부동산을 인도받아 사용·수익하다가 제3자에게 그 부동산을 처분하고 점유를 승계하여 준 경우, 소유권이전등기청구권의 소멸시효가 진행되지 않는다.
- ⑤ 원인채권의 지급을 확보하기 위하여 어음이 수수된 당사자 사이에 채권자가 어음채권에 관한 집행권원에 기하여 한 배당요구는 그 원인채권의 소멸시효를 중단시키는 효력이 없다.

**7. 불공정한 법률행위에 관한 설명으로 옳은 것은? (다툼이 있으면 판례에 따름)**

- ① 불공정한 법률행위에도 무효행위 전환의 법리가 적용될 수 있다.
- ② 불공정한 법률행위로서 무효인 경우에도 추인하면 유효로 된다.
- ③ 불공정한 법률행위에 관한 규정은 부담 없는 증여의 경우에도 적용된다.
- ④ 경매에서 경매부동산의 매각대금이 시가에 비하여 현저히 저렴한 경우, 불공정한 법률행위에 해당하여 무효이다.
- ⑤ 법률행위가 현저하게 공정을 잃은 경우, 특별한 사정이 없는 한 그 법률행위는 공박·경솔·무경험으로 인해 이루어진 것으로 추정된다.

**8. 착오로 인한 법률행위에 관한 설명으로 옳은 것은? (다툼이 있으면 판례에 따름)**

- ① 법률에 관한 착오는 그것이 법률행위 내용의 중요부분에 관한 것이라 하더라도 착오를 이유로 취소할 수 없다.
- ② 착오로 인한 의사표시의 취소에 관한 민법 제109조 제1항은 당사자의 합의로 그 적용을 배제할 수 없다.
- ③ 착오한 표의자의 중대한 과실 유무에 관한 증명책임은 의사표시의 효력을 부인하는 착오자에게 있다.
- ④ 상대방이 표의자의 착오를 알고 이용한 경우, 그 착오가 표의자의 중대한 과실로 인한 것이라고 하더라도 표의자는 착오에 의한 의사표시를 취소할 수 있다.
- ⑤ 표의자가 착오를 이유로 의사표시를 취소한 경우, 취소로 인하여 손해를 입은 상대방은 표의자에게 불법행위로 인한 손해배상을 청구할 수 있다.

**9. 甲 소유의 X토지를 매도하는 계약을 체결할 대리권을 甲으로부터 수여받은 乙은 甲의 대리인임을 현명하고 丙과 매매계약을 체결하였다. 이에 관한 설명으로 옳지 않은 것은? (다툼이 있으면 판례에 따름)**

- ① 乙은 특별한 사정이 없는 한 매매계약을 해제할 권한이 없다.
- ② 乙이 미성년자인 경우, 甲은 乙의 제한능력을 이유로 X토지에 대한 매매계약을 취소 할 수 없다.
- ③ 丙과의 매매계약이 불공정한 법률행위에 해당하는지 여부가 문제된 경우, 매도인의 무경험은 甲을 기준으로 판단한다.
- ④ 乙이 丙으로부터 매매대금을 수령한 경우, 甲에게 이를 아직 전달하지 않았더라도 특별한 사정이 없는 한 丙의 매매대금채무는 소멸한다.
- ⑤ 甲이 乙에게 매매계약의 체결과 이행에 관한 포괄적 대리권을 수여한 경우, 특별한 사정이 없는 한 乙은 약정된 매매대금 지급기일을 연기하여 줄 권한을 가진다.



10. 법률행위의 취소에 관한 설명으로 옳지 않은 것은? (다툼이 있으면 판례에 따름)

- ① 제한능력자의 법률행위에 대한 법정대리인의 추인은 취소의 원인이 소멸된 후에 하여야 그 효력이 있다.
- ② 취소할 수 있는 법률행위로 취득한 권리를 취소권자의 상대방이 제3자에게 양도한 경우, 법정추인이 되지 않는다.
- ③ 법률행위의 취소를 전제로 한 소송상의 이행청구나 이를 전제로 한 이행거절에는 취소의 의사표시가 포함되어 있다고 볼 수 있다.
- ④ 취소할 수 있는 법률행위는 취소권자가 추인할 수 있는 후에 이의를 보류하지 않고 이행청구를 하면 추인한 것으로 본다.
- ⑤ 취소권자가 취소할 수 있는 법률행위를 적법하게 추인한 경우, 그 법률행위를 다시 취소할 수 없다.

11. 甲은 토지거래허가구역 내에 있는 그 소유의 표토지에 대하여 토지거래허가를 받을 것을 전제로 乙과 매매계약을 체결하였다. 이에 관한 설명으로 옳지 않은 것은? (다툼이 있으면 판례에 따름)

- ① 甲이 허가신청절차에 협력하지 않으면 乙은 甲에 대하여 협력의무의 이행을 소구할 수 있다.
- ② 甲이 허가신청절차에 협력할 의무를 이행하지 않더라도 특별한 사정이 없는 한 乙은 이를 이유로 계약을 해제할 수 없다.
- ③ 甲과 乙이 허가신청절차 협력의무의 이행거절의사를 명백히 표시한 경우, 매매계약은 확정적으로 무효가 된다.
- ④ 매매계약이 乙의 사기에 의해 체결된 경우, 甲은 토지거래허가를 신청하기 전에 사기를 이유로 계약을 취소함으로써 허가신청절차의 협력의무를 면할 수 있다.
- ⑤ 표토지가 중간생략등기의 합의에 따라 乙로부터 丙에게 허가 없이 전매된 경우, 丙은 甲에 대하여 직접 허가신청절차의 협력의무 이행청구권을 가진다.

12. 甲은 그 소유의 X토지에 저당권을 설정하고 금전을 차용하는 계약을 체결할 대리권을 친구 乙에게 수여하였는데, 乙이 甲을 대리하여 X토지를 丙에게 매도하는 계약을 체결하였다. 이에 관한 설명으로 옳은 것은? (다툼이 있으면 판례에 따름)

- ① 丙이 乙의 대리행위가 유권대리라고 주장하는 경우, 그 주장 속에는 표현대리의 주장이 포함된 것으로 보아야 한다.
- ② 丙이 계약체결 당시에 乙에게 매매계약 체결의 대리권이 없음을 알았더라도 丙의 甲에 대한 최고권이 인정된다.
- ③ 丙이 계약체결 당시에 乙에게 매매계약 체결의 대리권이 없음을 알았더라도 계약을 철회할 수 있다.
- ④ 乙의 행위가 권한을 넘은 표현대리로 인정되는 경우, 丙에게 과실(過失)이 있다면 과실상계의 법리에 따라 甲의 책임이 경감될 수 있다.
- ⑤ 丙이 乙의 대리행위가 권한을 넘은 표현대리라고 주장하는 경우, 乙에게 매매계약체결의 대리권이 있다고 丙이 믿을 만한 정당한 이유가 있었는지의 여부는 계약성립 이후의 모든 사정을 고려하여 판단해야 한다.

13. 선의취득에 관한 설명으로 옳지 않은 것은? (다툼이 있으면 판례에 따름)

- ① 대리인이 본인 소유가 아닌 물건을 처분하고 상대방이 본인 소유라고 오신한 경우에도 선의취득이 인정될 수 있다.
- ② 자동차관리법이 적용되는 자동차이더라도 행정상 특례조치에 의하지 아니하고는 적법하게 등록할 수 없어서 등록하지 아니한 상태에 있고 통상적인 용도가 도로 외의 장소에서만 사용하는 것이라는 등의 특별한 사정이 있다면, 민법 제249조의 선의취득 규정이 적용될 수 있다.
- ③ 채무자 이외의 사람에 속하는 동산을 경매절차에서 경락받은 경우에도 선의취득이 성립할 수 있다.
- ④ 매수인이 점유개정으로 동산의 점유를 취득한 경우에는 선의취득이 인정되지 않는다.
- ⑤ 점유보조자가 보관한 물건을 횡령하여 형사상 절도죄가 성립되는 경우, 그 물건은 민법 제250조(도품·유실물에 대한 특례)의 도품에 해당되므로, 피해자는 점유를 상실한 날로부터 2년 내에 그 물건의 반환을 청구할 수 있다.

**14. 점유자와 회복자의 법률관계에 관한 설명으로 옳은 것은? (다툼이 있으면 판례에 따름)**

- ① 악의의 점유자가 점유물의 사용에 따른 이익을 반환하여야 하는 경우, 자신의 노력으로 점유물을 활용하여 얻은 초과이익도 반환하여야 한다.
- ② 악의의 수익자는 받은 이익에 이자를 붙여 반환하여야 하며, 그 이자의 이행지체로 인한 지연손해금도 지급하여야 한다.
- ③ 악의의 점유자가 과실(果實)을 수취하지 못한 경우, 이에 대한 과실(過失)이 없더라도 그 과실(果實)의 대가를 보상하여야 한다.
- ④ 점유자가 점유물을 개량하기 위하여 유익비를 지출한 경우는 점유자가 점유물을 반환할 때에 그 상환을 청구할 수 있으나, 필요비를 지출한 경우에는 즉시 상환을 청구할 수 있다.
- ⑤ 점유물이 점유자의 책임 있는 사유로 멸실된 때, 악의의 점유자라 하더라도 자주점유인 경우는 타주점유에 비하여 책임이 경감된다.

**15. 등기에 관한 설명으로 옳은 것은? (다툼이 있으면 판례에 따름)**

- ① 본등기에 의한 물권변동의 효력은 가등기를 한 때에 소급하여 발생한다.
- ② 등기가 원인 없이 말소된 경우, 그 회복등기가 마쳐지기 전이라도 말소된 등기의 등기명의인은 적법한 권리자로 추정된다.
- ③ 합유자가 그 지분을 포기하면 지분권 이전등기를 하지 않더라도, 포기된 합유지분은 나머지 잔존 합유지분권자들에게 물권적으로 귀속하게 된다.
- ④ 매매로 인한 소유권이전등기에서 등기명의자가 등기원인을 증여로 주장하였다면 등기의 추정력은 깨어진다.
- ⑤ 사망자 명의로 신청하여 이루어진 이전등기도 특별한 사정이 없는 한 등기의 추정력이 인정되므로, 등기의 무효를 주장하는 자가 현재의 실체관계에 부합하지 않음을 증명하여야 한다.

16. 乙은 甲의 X토지를 임차하여 점유하고 있는데, 丙이 무단으로 표토지 위에 건축 폐자재를 적치(積置)하여 乙의 토지사용을 방해하고 있다. 이에 관한 설명으로 옳지 않은 것은? (다툼이 있으면 판례에 따름)

- ① 甲은 丙에 대하여 소유권에 기한 방해배제청구권을 행사할 수 있다.
- ② 乙은 丙에 대하여 소유권에 기한 방해배제청구권을 행사할 수 없지만, 甲의 소유권에 기한 방해배제청구권을 대위 행사할 수 있다.
- ③ 丙이 X토지를 자신의 것으로 오신하여 건축폐자재를 적치한 경우라 하더라도, 乙은 丙에 대하여 점유권에 기한 방해배제청구권을 행사할 수 있다.
- ④ 甲은 丙에 대하여 점유권에 기한 방해배제청구권을 행사할 수 없지만, 乙의 점유권에 기한 방해배제청구권을 대위 행사할 수 있다.
- ⑤ X토지에 대한 임대차 계약이 종료되면 甲은 乙에 대하여 임대차 계약상 반환청구권을 행사할 수 있는데, 이는 채권적 청구권으로 물권적 청구권과 별개로 행사할 수 있다.

17. 부동산 소유권의 점유취득시효에 관한 설명으로 옳지 않은 것은? (다툼이 있으면 판례에 따름)

- ① 시효완성자는 취득시효완성에 따른 등기를 하지 않더라도 시효완성 당시의 등기명의인에 대하여 취득시효를 주장할 수 있다.
- ② 취득시효가 완성되기 전에 등기명의인이 바뀐 경우에는 시효완성자는 취득시효완성 당시의 등기명의인에게 취득시효를 주장할 수 있다.
- ③ 취득시효완성 후 등기명의인이 변경되면 설사 등기원인이 취득시효 완성 전에 존재하였더라도, 시효완성자는 변경된 등기명의인에게 취득시효를 주장할 수 없다.
- ④ 취득시효기간이 진행되는 중에 등기명의인이 변동된 경우, 취득시효기간의 기산점을 임의로 선택하거나 소급하여 20년 이상 점유한 사실만을 내세워 시효완성을 주장할 수 없다.
- ⑤ 취득시효완성 후 등기명의인이 바뀐 경우, 등기명의가 바뀐 시점으로부터 다시 취득 시효기간이 경과하더라도 취득시효완성을 주장할 수 없다.

18. 2020. 10. 1. 甲 소유의 X토지와 그 지상에 있는 Y건물에 설정된 저당권의 실행으로 X토지는 乙이 경락받았고, 포건물은 丙이 경락받았다. X토지 및 Y건물에는 매각에 따른 소유권이전등기만 되었으며, X토지에 대한 법정지상권 등기는 현재까지 경료되지 않았다. 2021. 1. 15. 乙은 X토지를 丁에게 양도하고 丁명의로 소유권이전등기를 하였고, 2021. 2. 10. 丙은 자신이 가진 X토지에 대한 권리와 Y건물에 대한 소유권을 戊에게 매도하는 계약을 체결하고 Y건물에 대한 소유권이전 등기를 하였다. 이에 관한 설명으로 옳은 것은? (다툼이 있으면 판례에 따름)

- ① 2020. 10. 1. 당시 丙은 X토지에 대하여 법정지상권 등기를 하지 않았기 때문에, 丙은 X토지에 대한 법정지상권을 취득하지 못한다.
- ② 2020. 10. 1. 당시 丙이 법정지상권을 취득하였다더라도 본인의 의사와 무관하게 취득한 것이므로, 지료를 지급할 필요가 없다.
- ③ 2021. 1. 16. 丙은 X토지에 대한 법정지상권을 丁에게 주장할 수 있다.
- ④ 2021. 2. 10. 戊는 법정지상권 등기 없이도, X토지에 대하여 법정지상권을 취득한다.
- ⑤ 2021. 2. 27. 현재 丁은 戊에 대하여 Y건물의 철거를 청구할 수 있다.

19. 저당권에 관한 설명으로 옳지 않은 것은? (다툼이 있으면 판례에 따름)

- ① 구분건물의 전유부분에 설정된 저당권의 효력은 특별한 사정이 없는 한 그 전유 부분의 소유자가 나중에 취득한 대지권에도 미친다.
- ② 저당목적물에 갈음하는 금전의 인도청구권에 대하여 저당권자가 압류하기 전에 그 금전이 물상보증인에게 지급되었더라도, 저당권자는 물상보증인에게 부당이득반환을 청구할 수 있다.
- ③ 저당권부 채권을 양수한 채권자가 채권양도의 대항요건을 갖추지 않은 경우에는 그보다 후순위 저당권자에 대하여 채권양도로서 대항할 수 없다.
- ④ 물상대위권을 행사하지 아니하여 우선변제권을 상실한 저당권자는 저당목적물에 갈음한 보상금으로 이득을 얻은 다른 채권자에 대하여 그 이익을 부당이득으로 반환청구 할 수 없다.
- ⑤ 저당부동산에 대하여 전세권을 취득한 제3자는 저당권자에게 그 부동산으로 담보된 채권을 변제하고 저당권의 소멸을 청구할 수 있다.

## 20. 전세권에 관한 설명으로 옳지 않은 것은? (다툼이 있으면 판례에 따름)

- ① 타인의 토지에 있는 건물의 소유자가 그 건물에 설정한 전세권의 효력은 그 건물의 소유를 목적으로 한 임차권에도 미친다.
- ② 대지와 건물이 동일한 소유자에게 속한 경우에 건물에 전세권을 설정한 때에는 그 대지소유권의 특별승계인은 전세권설정자에 대하여 지상권을 설정한 것으로 본다.
- ③ 전세권이 법정갱신된 경우, 전세권자는登記 없이도 그 목적물을 취득한 제3자에 대하여 갱신된 권리를 주장할 수 있다.
- ④ 전세권에 저당권을 설정한 경우, 전세기간이 만료되더라도 전세권의 저당권자는 전세권 자체에 대하여 저당권을 실행하여 전세금을 배당받을 수 있다.
- ⑤ 토지전세권의 존속기간을 15년으로 약정한 경우에 그 존속기간은 10년으로 단축 되지만, 당사자는 존속기간 만료 시에 갱신한 날로부터 10년을 넘지 않는 기간으로 전세권을 갱신할 수 있다.

## 21. 민사유치권에 관한 설명으로 옳은 것은? (다툼이 있으면 판례에 따름)

- ① 유치권자는 유치물의 과실(果實)이 금전인 경우, 이를 수취하여 다른 채권보다 먼저 유치권으로 담보된 채권의 변제에 충당할 수 있다.
- ② 유치권자가 유치물의 보존에 필요한 사용을 한 경우에는 특별한 사정이 없는 한, 차임 상당의 이득을 소유자에게 반환할 의무가 없다.
- ③ 건물공사대금의 채권자가 그 건물에 대하여 유치권을 행사하는 동안에는 그 공사대금 채권의 소멸시효가 진행하지 않는다.
- ④ 임대인과 임차인 사이에 임대차 종료에 따른 건물명도 시에 권리금을 반환하기로 약정한 경우, 임차인은 권리금반환청구권을 가지고 건물에 대한 유치권을 행사할 수 있다.
- ⑤ 유치권자가 경매개시결정등기 전에 부동산에 관하여 유치권을 취득하였다더라도 그 취득에 앞서 저당권설정등기가 먼저 되어 있었다면, 경매절차의 매수인에게 자기의 유치권으로 대항할 수 없다.

**22. 양도담보에 관한 설명으로 옳지 않은 것은? (다툼이 있으면 판례에 따름)**

- ① 집합물 양도담보에서 양도담보의 목적인 집합물을 구성하는 개개의 물건이 변동되더라도 양도담보권의 효력은 항상 현재의 집합물에 미친다.
- ② 주택을 채권담보의 목적으로 양도한 경우, 양도담보권자가 그 주택을 사용·수익하기로 하는 약정이 없는 이상 주택에 대한 임대권한은 양도담보 설정자에게 있다.
- ③ 채무자가 피담보채무의 이행지체에 빠진 경우, 양도담보권자는 채무자로부터 적법하게 목적 부동산의 점유를 이전받은 제3자에 대하여 직접 소유권에 기한 인도청구를 할 수 있다.
- ④ 양도담보권의 목적인 주된 동산에 다른 동산이 부합되어 부합된 동산에 관한 권리를 상실하는 손해를 입은 사람은 양도담보권자를 상대로 그로 인한 보상을 청구할 수 없다.
- ⑤ 채무자가 금전채무를 담보하기 위하여 그 소유의 동산을 채권자에게 양도하되 점유개정에 의하여 이를 계속 점유하기로 한 경우, 다시 다른 채권자와 양도담보 설정계약을 체결하고 점유개정의 방법으로 그 동산을 인도하더라도 뒤의 채권자는 양도담보권을 취득할 수 없다.

**23. 질권질권에 관한 설명으로 옳지 않은 것은? (다툼이 있으면 판례에 따름)**

- ① 피담보채권액이 입질채권액보다 적은 경우에도 질권의 효력은 입질채권 전부에 미친다.
- ② 주택임차인이 보증금반환채권을 담보로 질권을 설정한 경우, 질권자에게 임대차 계약서를 교부하지 않았더라도 그 질권은 유효하다.
- ③ 질권설정자가 제3채무자에게 질권설정 사실을 통지한 후 제3채무자가 질권자의 동의 없이 질권설정자와 상계합의를 하여 질권의 목적인 채무를 소멸하게 한 경우, 질권자는 제3채무자에 대하여 직접 채무의 변제를 청구할 수 있다.
- ④ 저당권부 채권에 질권을 설정한 경우에는 그 저당권등기에 질권의 부기등기를 하여야 질권의 효력이 저당권에 미친다.
- ⑤ 저당권부 채권에 질권을 설정하면서 그 저당권의 피담보채권만을 질권의 목적으로 하고 저당권은 질권의 목적으로 하지 않는 것은 저당권의 부종성에 반하여 허용되지 않는다.





**26. 채권의 목적에 관한 설명으로 옳지 않은 것은? (다툼이 있으면 판례에 따름)**

- ① 수임인이 위임사무의 처리과정에서 받은 물건으로 위임인에게 인도할 목적물이 대체물이더라도 당사자 사이에는 특정된 물건과 같은 것으로 보아야 한다.
- ② 채권의 성질 또는 당사자의 의사표시로 달리 정한 바가 없는 이상, 특정물의 인도는 채권성립 당시의 그 물건의 소재지에서 한다.
- ③ 제한종류채권에서 채무자가 지정권자인 경우, 채권의 기한이 도래한 후 채권자의 최고에도 불구하고 채무자가 이행할 물건을 지정하지 않으면 그 지정권은 채권자에게 이전한다.
- ④ 채권액이 외국통화로 지정된 금액채권인 외화채권의 경우, 채권자는 대응급부권을 행사하여 우리나라 통화로 환산하여 청구할 수 없다.
- ⑤ 이자제한법상 제한이자를 초과하는 이자채권을 자동채권으로 하여 상계의 의사표시를 하더라도 그 상계의 효력은 발생하지 않는다.

**27. 이행불능에 관한 설명으로 옳지 않은 것은? (다툼이 있으면 판례에 따름)**

- ① 토지거래허가구역 내의 토지에 관하여 허가를 조건으로 매매계약을 체결한 경우, 그 허가 전에는 거래계약상의 채무를 이행할 수 없게 되더라도 그에 따른 손해배상책임을 지지 않는다.
- ② 쌍무계약에서 당사자 일방이 부담하는 채무의 일부만이 채무자의 책임 있는 사유로 이행할 수 없게 된 경우, 이행가능한 나머지 부분만의 이행으로 계약목적물을 달성할 수 없다면 채무의 이행은 전부가 불능이라고 보아야 한다.
- ③ 민법상 임대차에서 목적물을 사용·수익하게 할 임대인의 의무는 임대인이 임대차목적물의 소유권을 상실한 것만으로 이행불능이 된다.
- ④ 매매목적물에 관하여 매도인의 다른 채권자가 강제경매를 신청하여 그 절차가 진행 중에 있다는 사유만으로 매도인의 채무가 이행불능이 되는 것은 아니다.
- ⑤ 쌍무계약에서 당사자 일방의 급부뿐만 아니라 상대방의 반대급부도 전부 이행불능이 된 경우, 특별한 사정이 없는 한 당사자 일방은 상대방에게 대상청구를 할 수 없다.

28. 채무인수에 관한 설명으로 옳은 것은? (다툼이 있으면 판례에 따름)

- ① 채무자와 채무인수인 사이의 면책적 채무인수에서 채권자가 승낙을 거절하였더라도 다시 승낙하면 채무인수의 효력이 생긴다.
- ② 채무자와 채무인수인 사이의 면책적 채무인수에서 채권자가 채무인수인에게 인수금의 지급을 청구하더라도 채무인수의 승낙으로 볼 수 없다.
- ③ 채무자와 채무인수인 사이의 면책적 채무인수에서 채권자의 승낙이 없는 경우, 채무자와 인수인 사이에는 이행인수로서의 효력도 인정될 수 없다.
- ④ 채권자와 채무인수인 사이의 중첩적 채무인수는 채무자의 의사에 반하여도 이루어질 수 있다.
- ⑤ 면책적 채무인수의 경우, 채무인수인은 채무자에 대한 항변사유로 채권자에게 대항할 수 있다.

29. 다수당사자의 채권관계에 관한 설명으로 옳지 않은 것은? (다툼이 있으면 판례에 따름)

- ① 甲과 乙이 공유하는 부동산을 丙에게 공동으로 임대한 경우, 임대차 종료 시 甲과 乙은 지분비율에 따라 丙에게 임대차보증금을 반환할 채무를 부담한다.
- ② 丙에 대해 불가분채권을 가지고 있는 甲과 乙 중 甲이 丙에게 이행을 청구하여 丙이 이행지체에 빠진 경우, 丙은 乙에게도 이행지체 책임을 진다.
- ③ 甲과 乙이 공유하는 부동산을 丙이 무단으로 점유·사용하고 있는 경우, 특별한 사정이 없는 한 甲과 乙은 丙에 대해 지분 비율에 따른 부당이득반환청구권을 갖는다.
- ④ 甲이 乙의 丙에 대한 채무를 중첩적으로 인수하는 경우, 甲과 乙은 원칙적으로 연대 채무를 부담한다.
- ⑤ 甲의 채권자 丁이 甲의 연대채무자 乙, 丙에 대한 채권 중 甲의 乙에 대한 채권에 대해 압류 및 추심명령을 발령받았더라도 甲은 丙에 대해 이행을 청구할 수 있다.

30. 수급인 甲은 2020. 10. 1. 도급인 乙과 도급계약을 체결하고, 2021. 1. 5. 공사를 완성하여 乙에 대한 1억 원의 공사대금채권을 갖고 있던 중 위 채권을 丙에게 양도하고, 이를 乙에게 통지하였다. 이에 관한 설명으로 옳지 않은 것은? (다툼이 있으면 판례에 따름)

- ① 甲이 丙에게 공사대금채권의 추심 기타 행사를 위임하면서 그 채권을 양도하였으나 양도의 원인인 위임이 해지된 경우, 공사대금채권은 甲에게 복귀한다.
- ② 甲이 주채무자 乙에 대한 채권과 그의 보증인 丁에 대한 채권 중 丁에 대한 채권만을 양도하기로 한 경우, 그 약정은 효력이 없다.
- ③ 甲과 乙 사이에 채권양도금지특약이 있는 경우, 이와 같은 사실을 알고 있는 甲의 채권자 戊가 甲의 乙에 대한 채권에 대해 압류 및 전부명령을 받았다면 乙은 戊에게 위 특약에 의해 대항할 수 없다.
- ④ 甲이 丙에게 공사대금채권 중 5,000만 원만 양도하고 乙에게 채권양도통지 후 乙이 甲에 대한 2,000만 원의 하자보수에 갈음하는 손해배상채권을 취득한 경우, 乙의 위 채권에 의한 상계는 각 분할된 채권액의 채권 총액에 대한 비율에 따라야 한다.
- ⑤ 甲의 丙에 대한 채권양도 및 乙에 대한 확정일자부 통지와 甲의 채권자 戊가 신청한 甲의 乙에 대한 채권에 대한 압류 및 전부명령이 乙에게 동시에 도달한 경우, 乙은 채권자를 알 수 없음을 이유로 변제공탁을 할 수 있다.

31. 변제에 관한 설명으로 옳은 것을 모두 고른 것은? (다툼이 있으면 판례에 따름)

- ㄱ. 甲은 乙에 대해 1,000만 원의 채무를 부담하고 있는데, 丙이 자신의 채무로 오해하여 乙에게 1,000만 원을 지급한 경우, 제3자 변제에 해당하지 않는다.
- ㄴ. 甲이 그의 乙에 대한 공사대금채무의 담보로 乙의 유치권이 성립한 그 소유의 건물을 丙에게 매도하면서 소유권이전등기시까지 임대한 경우, 丙은 甲의 의사에 반하여 공사대금채무를 乙에게 변제할 수 없다.
- ㄷ. 예금주 甲의 대리인이라고 주장하는 乙이 甲의 통장과 인감을 소지하고 丙은행에 예금반환 청구를 한 경우, 대리인을 사칭한 乙은 채권의 사실상 귀속자와 같은 외형을 갖추고 있지 아니하여 채권의 준점유자로 볼 수 없다.
- ㄹ. 지시채권 증서 소지인 甲에 대한 乙의 변제는 乙이 甲의 권리 없음을 알았거나 중과실이 있는 경우를 제외하고 유효하다.

- ① ㄱ
- ② ㄱ, ㄴ
- ③ ㄱ, ㄹ
- ④ ㄱ, ㄴ, ㄷ
- ⑤ ㄴ, ㄷ, ㄹ

32. 甲은 乙에 대해 2020. 7. 1. 발생한 대여금채권을 갖고 있다. 2021. 1. 10.부터 채무초과상태인 乙이 사해의사로 악의의 丙과 2021. 1. 15.에 법률행위를 하였다. 甲은 乙과 丙 사이의 법률행위에 대해서 2021. 2. 15. 채권자취소권을 행사하고자 한다. 이에 관한 설명으로 옳지 않은 것은? (다툼이 있으면 판례에 따름)

- ① 甲이 乙을 상대로 위 대여금채무의 이행청구소송을 제기하였으나 2020. 9. 1. 원고패소로 확정된 경우, 甲의 사해행위취소청구는 인용될 수 없다.
- ② 乙이 2020. 9. 1. 甲의 위 대여금채권에 대한 담보로 그 소유의 X부동산에 저당권설정등기를 한 경우, 우선변제적 효력이 미치는 범위 내에서는 甲의 채권자취소권 행사도 허용되지 않는다.
- ③ 甲이 위 대여금채권에 기해 2021. 1. 3. 乙 소유의 X부동산에 가압류를 한 후 乙은 丁의 丙에 대한 채무를 담보하기 위해 X부동산에 대하여 2021. 1. 15. 丙과 저당권설정계약을 체결하고 저당권설정등기를 마쳐준 경우, 甲은 채권자취소권을 행사할 수 있다.
- ④ 乙이 2020. 10. 3. 그 소유 X부동산(시가 6,000만 원)과 Y부동산(시가 4,000만 원)에 丁에 대한 3,000만 원의 피담보채무를 담보하기 위해 공동저당권을 설정한 후, 2021.1. 15. 丙에게 X부동산을 매도하고 당일 소유권이전등기를 마친 경우, 4,200만 원의 범위 내에서 사해행위가 성립한다.
- ⑤ 乙의 채권자 戊가 2020. 12. 3. 乙 소유의 X부동산을 가압류한 상태에서, 2021. 1. 15. 乙로부터 X부동산을 양도받은 丙이 乙의 戊에 대한 가압류채무를 변제한 경우, X부동산의 양도계약이 사해행위로 취소되면 丙은 특별한 사정이 없는 한 甲에게 가액반환을 하여야 하고, 위 변제액을 공제하여야 한다.

33. 甲은 자신 소유의 X노트북을 乙에게 매도하면서 그 대금은 乙이 甲의 채권자 丙에게 직접 지급하기로 하는 제3자를 위한 계약을 체결하였고, 丙은 乙에게 수익의 의사를 표시하였다. 이에 관한 설명으로 옳지 않은 것은? (다툼이 있으면 판례에 따름)

- ① 甲과 乙이 미리 매매계약에서 丙의 권리를 변경·소멸할 수 있음을 유보한 경우, 이러한 약정은 丙에 대해서도 효력이 있다.
- ② 甲은 丙의 동의가 없는 한 乙의 채무불이행을 이유로 계약을 해제할 수 없다.
- ③ 제3자를 위한 계약의 체결 원인이 된 甲과 丙 사이의 법률관계가 취소된 경우, 특별한 사정이 없는 한 乙은 丙에게 대금지급을 거절할 수 없다.
- ④ 乙의 채무불이행을 이유로 甲이 계약을 해제한 경우, 丙은 乙에게 자기가 입은 손해에 대한 배상을 청구할 수 있다.
- ⑤ 甲과 乙의 매매계약이 취소된 경우, 乙이 丙에게 이미 매매대금을 지급하였다고 하더라도 특별한 사정이 없는 한 乙은 丙을 상대로 부당이득반환청구를 할 수 없다.

### 34. 계약의 성립에 관한 설명으로 옳지 않은 것은? (다툼이 있으면 판례에 따름)

- ① 계약의 당사자가 누구인지는 계약에 관여한 당사자의 의사해석 문제로서, 당사자들의 의사가 일치하는 경우에는 그 의사에 따라 계약의 당사자를 확정해야 한다.
- ② 임대차계약에서 보증금의 지급약정이 있는 경우, 보증금의 수수는 임대차계약의 성립 요건이 아니다.
- ③ 계약이 의사의 불합치로 성립하지 아니한 경우, 그로 인하여 손해를 입은 당사자는 상대방에 대하여 민법 제535조(계약체결상의 과실)를 유추적용하여 손해배상을 청구할 수 있다.
- ④ 매매계약체결 당시 목적물과 대금이 구체적으로 확정되지 않았더라도, 이행기 전까지 구체적으로 확정될 수 있는 방법과 기준이 정해져 있다면 계약의 성립을 인정할 수 있다.
- ⑤ 청약자의 의사표시나 관습에 의해 승낙의 통지가 필요하지 않은 경우, 계약은 승낙의 의사표시로 인정되는 사실이 있는 때에 성립한다.

### 35. 동시이행의 항변권에 관한 설명으로 옳지 않은 것은? (다툼이 있으면 판례에 따름)

- ① 부동산 매매계약에서 매수인이 부가가치세를 부담하기로 약정한 경우, 특별한 사정이 없는 한 부가가치세를 포함한 매매대금 전부와 부동산의 소유권이전등기의무는 동시이행관계에 있다.
- ② 공사도급계약상 도급인의 지체상금채권과 수급인의 공사대금채권은 특별한 사정이 없는 한 동시이행관계에 있다고 할 수 없다.
- ③ 구분소유적 공유관계가 전부 해소된 경우, 공유지분권자 상호간의 지분이전등기의무는 동시이행의 관계에 있다.
- ④ 원인채무의 지급을 담보하기 위하여 어음이 교부된 경우, 채무자는 어음반환과 동시이행을 주장하여 원인채무의 지급을 거절할 수는 없다.
- ⑤ 동시이행의 관계에 있는 쌍방의 채무 중 어느 한 채무가 이행불능이 됨으로 인하여 발생한 손해배상채무도 여전히 다른 채무와 동시이행의 관계에 있다.

36. 甲과 乙은 甲 소유의 X토지에 대하여 매매계약을 체결하였다. 이에 관한 설명으로 옳지 않은 것은? (다툼이 있으면 판례에 따름)

- ① 甲과 乙이 계약해제로 인한 원상회복의무로 반환할 매매대금에 가산할 이자를 4%로 약정한 경우, 동 약정이율은 매매대금 반환의무의 이행지체로 인한 지연손해금률에도 적용된다.
- ② 甲이 乙의 채무불이행을 이유로 매매계약을 해제한 후에도 乙은 착오를 이유로 매매계약을 취소할 수 있다.
- ③ 乙 명의로 소유권이전등기가 경료된 X토지에 대하여 乙의 채권자 丙이 가압류 집행을 마쳐둔 경우, 甲은 丙에 대하여 乙의 채무불이행을 이유로 한 해제의 소급효를 주장할 수 없다.
- ④ 甲이 乙의 채무불이행에 관하여 원인의 일부를 제공하였다고 하더라도 乙이 이를 이유로 甲의 계약해제에 따른 원상회복청구에 대하여 과실상계하는 것은 인정되지 않는다.
- ⑤ 乙이 증도금을 약정된 기일에 지급하지 않으면 최고 없이 계약은 자동적으로 해제되는 것으로 약정한 경우, 특별한 사정이 없는 한 그 불이행이 있으면 계약은 자동적으로 해제된다.

37. 甲은 친구 乙이 운전하는 차량에 호의로 동승하여 귀가하던 중 신호를 무시하고 운전하던 丙의 차량과 충돌하는 사고로 부상을 당하였다. 이 사고로 인한 甲의 손해액은 1,000만 원, 乙과 丙의 과실비율은 2:8로 확정되었다. 이에 관한 설명으로 옳지 않은 것은? (단, 자동차손해배상보장법은 고려하지 않으며, 다툼이 있으면 판례에 따름)

- ① 甲의 손해에 대하여 乙, 丙은 부진정연대책임을 진다.
- ② 甲의 호의동승으로 인해 乙의 책임이 제한되는 경우, 이는 丙에게도 인정된다.
- ③ 甲이 乙의 난폭운전으로 사고발생의 위험성이 상당할 정도로 우려된다는 것을 인식한 경우, 甲에게 안전운전을 촉구할 주의의무가 인정된다.
- ④ 甲의 호의동승에 따른 책임제한이 30%로 인정되고 丙이 甲에게 600만 원을 변제한 경우, 丙은 乙에게 40만 원을 구상할 수 있다.
- ⑤ 丙이 甲에게 손해 전부를 배상하고 乙에 대한 구상권을 취득한 후 甲의 乙에 대한 손해배상채권이 시효로 소멸한 경우, 丙은 乙에게 더 이상 구상권을 행사할 수 없다.

38. 甲은 주택을 짓기 위하여 건축업자 乙과 도급계약을 체결하면서 지체상금약정도 하였다. 이에 관한 설명으로 옳은 것을 모두 고른 것은? (다툼이 있으면 판례에 따름)

- ㄱ. 乙에 의해 완공된 주택에 하자가 있어 계약의 목적을 달성할 수 없는 경우라도 甲은 도급계약을 해제할 수 없다.
- ㄴ. 乙에 의해 완공된 주택에 발생한 하자가 중요하지 않는데도 그 보수에 과다한 비용이 드는 경우, 甲은 하자보수에 갈음하는 손해배상을 청구 할 수 있다.
- ㄷ. 지체상금의 종기는 특별한 사정이 없는 한 乙이 공사를 중단하거나 기타 해제사유가 있어 甲이 실제로 해제한 때로부터 甲이 다른 업자에게 의뢰하여 완공할 수 있었던 시점까지로 제한된다.
- ㄹ. 예정된 준공기한 전에 도급계약이 해제되어 乙이 공사를 완료하지 아니한 경우에는 특별한 사정이 없는 한 지체상금약정은 적용되지 않는다.

- ① ㄱ, ㄴ                    ② ㄱ, ㄹ                    ③ ㄴ, ㄷ                    ④ ㄴ, ㄹ                    ⑤ ㄷ, ㄹ

39. 민법상 조합에 관한 설명으로 옳은 것은? (다툼이 있으면 판례에 따름)

- ① 어느 조합원이 출자의무를 이행하지 않은 경우, 다른 조합원은 이를 이유로 조합 계약을 해제할 수 있다.
- ② 조합계약이 성립하기 위한 공동사업이란 조합원 전원이 사업의 성공에 대하여 이해관계를 가지는 것으로 일부 조합원만이 이익분배를 받는 관계는 조합이 아니다.
- ③ 부동산의 공동매수인들이 전매차익을 얻으려는 목적으로만 상호 협력하는 경우에도 민법상 조합 관계에 있다고 볼 수 있다.
- ④ 조합원의 채권자는 조합재산을 구성하는 개개의 재산에 대한 조합원의 합유지분에 대하여 강제집행을 할 수 있다.
- ⑤ 조합원이 조합을 탈퇴할 권리는 그 성질상 채권자대위가 허용되지 않는 일신전속적 권리에 해당한다.

40. 매도인의 담보책임에 관한 설명으로 옳지 않은 것은? (다툼이 있으면 판례에 따름)

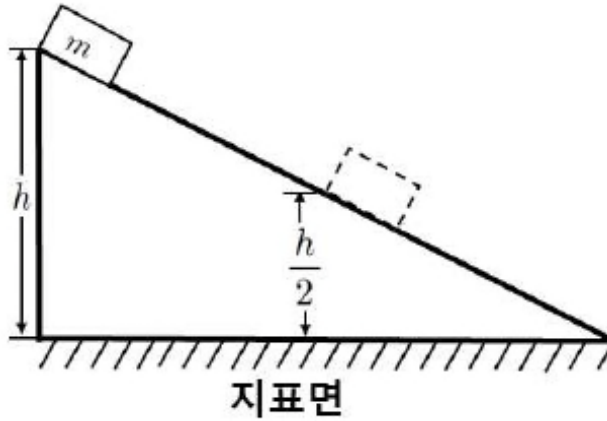
- ① 수량지정매매에 해당하는 부동산매매계약에서 실제면적이 계약면적에 미달하는 경우, 매수인은 대금감액청구권의 행사와 별도로 부당이득반환청구도 할 수 있다.
- ② 타인의 권리를 매매한 자가 그 권리를 이전할 수 없게 된 경우, 매도인은 선의의 매수인에 대하여 불능 당시의 시가를 표준으로 이행이익을 배상할 의무가 있다.
- ③ 매매계약 내용의 중요부분에 착오가 있는 경우, 매수인은 매도인의 하자담보책임이 성립하는지와 상관없이 착오를 이유로 그 매매계약을 취소할 수 있다.
- ④ 매수인이 하자의 발생과 확대에 잘못이 있는 경우, 법원은 매도인의 손해배상액을 산정함에 있어 매수인의 과실을 직권으로 참작하여 그 범위를 정해야 한다.
- ⑤ 저당권이 설정된 부동산의 매수인이 저당권의 행사로 그 소유권을 취득할 수 없는 경우, 약의의 매수인이라도 특별한 사정이 없는 한 계약을 해제할 수 있다.

03  
2021

제58회 변리사 1차 국가자격시험  
[3교시] 자연과학개론

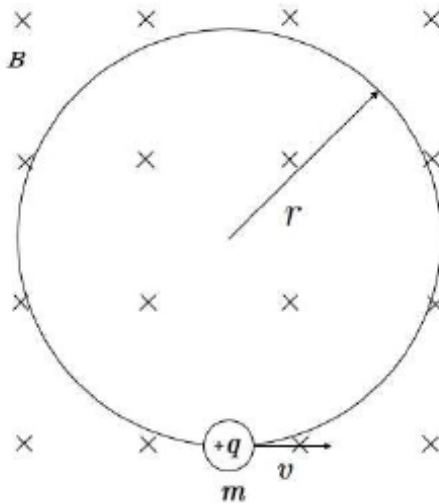


1. 경사진 면을 질량  $m$ 인 물체가 마찰없이 미끄러져 내려오고 있다. 물체는 높이  $h$ 에서 정지 상태에서로부터 출발하였다. 물체가  $\frac{h}{2}$ 인 지점을 통과하는 순간의 속력은?



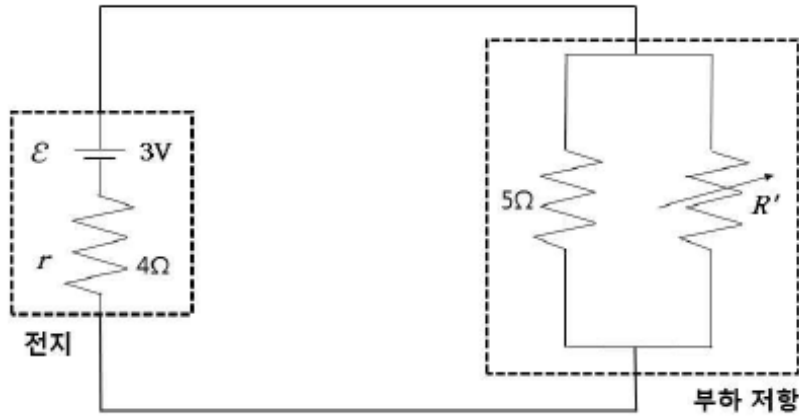
- ①  $\frac{1}{4} \sqrt{gh}$       ②  $\frac{1}{2} \sqrt{gh}$       ③  $\sqrt{\frac{gh}{2}}$       ④  $\sqrt{gh}$       ⑤  $\sqrt{2gh}$

2. 균일한 자기장  $B$ 에 수직인 방향으로 속도  $v$ 로 입사한 질량  $m$ 인 전하  $+q$ 는 반지름  $r$ 인 원운동을 한다. 전하의 운동을 설명한 것으로 옳지 않은 것은?



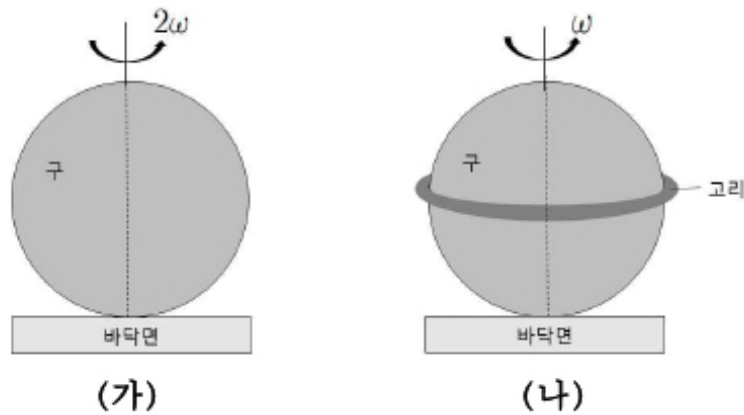
- ① 전하의 가속도 크기는  $\frac{qvB}{r}$ 이다.      ② 원운동의 주기는  $\frac{2\pi m}{qB}$ 이다.  
 ③ 원운동의 반지름은  $\frac{mv}{qB}$ 이다.      ④ 전하의 운동에너지는  $\frac{1}{2}mv^2$ 이다.  
 ⑤ 전하가 받는 힘의 크기는  $qvB$ 이다.

3. 그림은 전지와 부하 저항이 연결된 회로이다. 부하 저항은  $5\Omega$  인 저항과  $R'$  인 가변 저항이 병렬로 연결되어 있다. 전지의 기전력( $\mathcal{E}$ )은  $3V$ 이고, 내부 저항( $r$ )은  $4\Omega$  이다. 부하 저항에 최대 전력(electric power)을 전달하기 위한  $R'$  은?



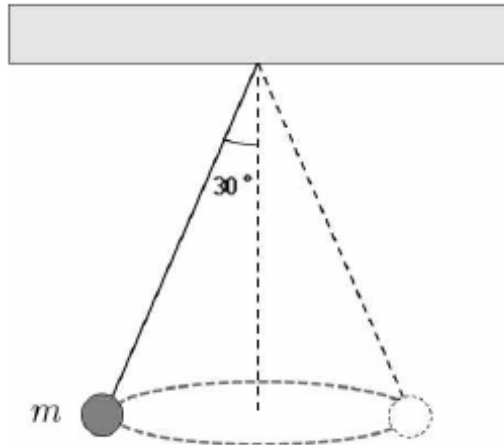
- ①  $1\Omega$
- ②  $4\Omega$
- ③  $5\Omega$
- ④  $9\Omega$
- ⑤  $20\Omega$

4. 그림 (가)는 질량이  $M$  이고 반지름이  $R$  인 속이 꽉 찬 균일한 강체 구를, (나)는 질량이  $m$  이고 반지름이  $R$  인 가늘고 균일한 고리를 (가)의 구에 수평으로 끼워 고정된 강체를 나타낸 것이다. 정지해 있던 (가)와 (나)의 강체에 동일한 토크를 동일한 각도까지 각각 가했더니, (가)와 (나)의 강체는 제자리에서 각각 각속도  $2\omega$  와  $\omega$  로 회전한다.



- ①  $\frac{3}{5}$
- ②  $\frac{5}{6}$
- ③  $\frac{6}{5}$
- ④  $\frac{5}{4}$
- ⑤  $\frac{5}{3}$

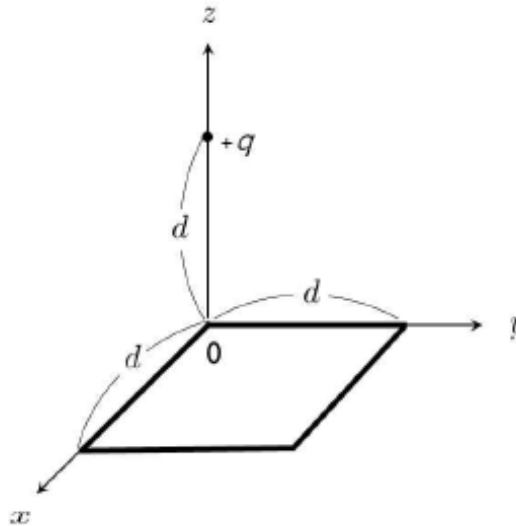
5. 그림은 줄에 매달린 물체가 수평면에서 등속 원운동을 하는 모습을 나타낸 것이다. 물체의 질량은  $m$  이고, 줄과 수직축 사이의 각도는  $30^\circ$  이다.



물체의 구심 가속도의 크기는? (단, 중력 가속도는  $g$  이고, 모든 마찰은 무시한다.)

- ①  $\frac{1}{2}g$       ②  $\frac{1}{\sqrt{3}}g$       ③  $\frac{\sqrt{3}}{2}g$       ④  $\sqrt{3}g$       ⑤  $2g$

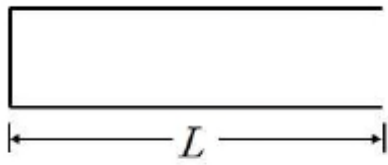
6. 그림과 같이  $xy$  평면의 일사분면에 놓인 한 변의 길이가  $d$  인 정사각형의 한 꼭짓점은 원점에 있고, 점전하  $+q$  는 원점에서  $d$  만큼 떨어져  $z$  축 상에 고정되어 있다.



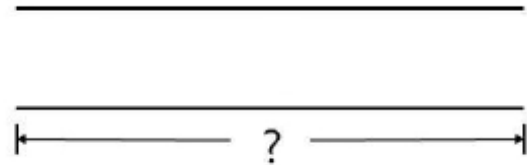
정사각형을 통과하는 전기 선속(electric flux)은? (단,  $\epsilon_0$  은 진공의 유전율이다.)

- ①  $\frac{q}{2\epsilon_0}$       ②  $\frac{q}{3\epsilon_0}$       ③  $\frac{q}{6\epsilon_0}$       ④  $\frac{q}{12\epsilon_0}$       ⑤  $\frac{q}{24\epsilon_0}$

7. 그림 (가)는 길이가  $L$  인 한쪽이 막힌 관이고, (나)는 양쪽이 열린 관이다. (가)의 관에서 가장 낮은 음의 정상 음파가 (나)의 관에서 정상 음파가 되기 위한 관의 최소 길이는? (단, 관의 가장자리 효과는 무시한다.)



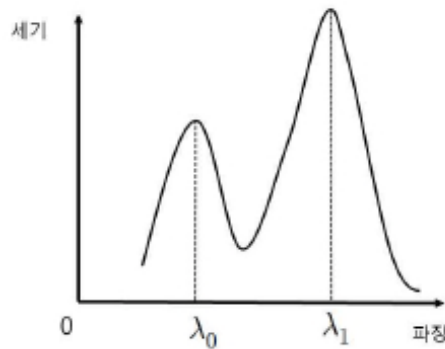
(가)



(나)

- ①  $\frac{1}{2}L$       ②  $L$       ③  $\frac{3}{2}L$       ④  $2L$       ⑤  $3L$

8. 그림은 어떤 각도  $\theta$  로 산란된 X선의 세기를 파장에 따라 측정한 콤프턴 실험 결과이다. 세기 분포는 파장  $\lambda_0$ ,  $\lambda_1$  에서 두 개의 봉우리를 갖는다.



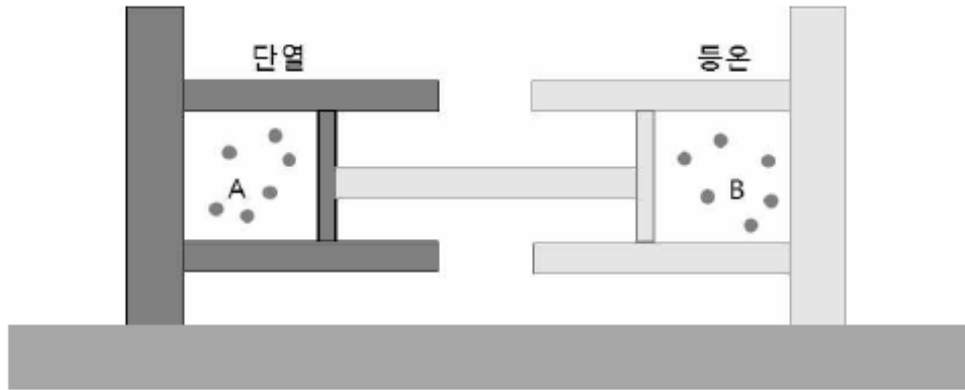
이에 관한 설명으로 옳은 것만을 <보기>에서 있는 대로 고른 것은?

— < 보 기 > —

- ㄱ. 산란각  $\theta$  가 커지면 두 봉우리에 해당하는 파장의 차는 커진다.
- ㄴ. 산란된 X선의 광자 한 개 당 에너지는  $\lambda_1$  일 때가  $\lambda_0$  일 때보다 크다.
- ㄷ. 광자와 전자의 총운동량은 충돌 전과 후가 동일하다.

- ① ㄱ      ② ㄴ      ③ ㄷ      ④ ㄱ, ㄷ      ⑤ ㄱ, ㄴ, ㄷ

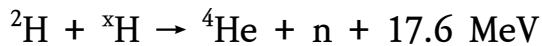
9. 그림은 힘의 평형을 이루며 정지해 있는 연결된 피스톤과 단원자 이상기체 A와 B가 각각 실린더에 들어 있는 모습을 나타낸 것이다. A와 B의 압력, 부피, 절대온도는 각각  $P, V, T$  로 같다. A가 들어 있는 실린더는 단열되어 있고, B가 들어 있는 실린더는 외부와 열적 평형을 이룬다. 이 때 A에 열량  $Q_{in} (> 0)$ 을 서서히 공급하면, A의 나중 온도는  $4T$  가 되고 B에서 열량  $Q_{out} (> 0)$ 이 외부로 방출된다.



열량의 차( $Q_{in} - Q_{out}$ )는? (단, 외부의 온도는  $T$  로 일정하고, 대기압은 일정하며 마찰은 무시한다.)

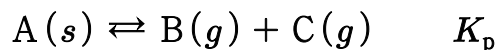
- ①  $\frac{1}{2}PV$       ②  $\frac{3}{2}PV$       ③  $\frac{5}{2}PV$       ④  $\frac{7}{2}PV$       ⑤  $\frac{9}{2}PV$

10. 다음의 핵융합 반응식에서  $x$  에 해당하는 것은? (단,  $n$ 은 중성자이다.)



- ① 1      ② 2      ③ 3      ④ 4      ⑤ 5

11. 다음은 온도  $T$  에서  $A(s)$  분해 반응의 화학 반응식과 압력으로 정의되는 평형 상수( $K_p$ )이다.






$T$  에서, 1기압의  $B(g)$  가 들어 있는 용기에  $A(s)$  를 넣은 후  $A(s)$  의 분해 반응이 일어나 도달한 평형 상태의 전체 기체 압력이 2기압이었다.  $K_p$  는? (단, 기체는 이상 기체로 거동하고,  $A(s)$  의 증기 압력은 무시한다.)

- ①  $\frac{1}{4}$       ②  $\frac{1}{2}$       ③  $\frac{3}{4}$       ④ 1      ⑤  $\frac{5}{4}$



14. 다음은 3가지 탄화수소의 구조식이다.



이에 관한 설명으로 옳은 것만을 <보기>에서 있는 대로 고른 것은?

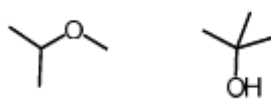
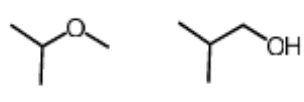
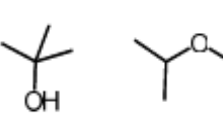
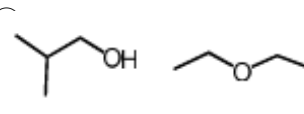
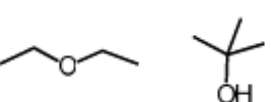
- < 보 기 > —
- ㄱ. *sp* 혼성 궤도함수를 갖는 탄소가 포함된 탄화수소는 2가지이다.
  - ㄴ. H의 질량 백분율이 가장 큰 것은 에틸렌이다.
  - ㄷ. 알렌에서 모든 원자는 같은 평면에 있다.

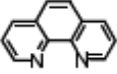
- ① ㄱ      ② ㄷ      ③ ㄱ, ㄴ      ④ ㄴ, ㄷ      ⑤ ㄱ, ㄴ, ㄷ

15. 표는 화학식이  $C_4H_{10}O$  인 두 이성질체 A와 B의 적외선(IR)과  $^{13}C$  핵자기 공명(NMR) 분광학 자료이다.

	IR 주요 특성 봉우리 ( $\tilde{\nu}$ , $cm^{-1}$ )	$^{13}C$ NMR 봉우리 ( $\delta$ , ppm)
A	2950, 1130	80, 57, 22
B	3368, 2973, 1202	69, 31

A와 B의 구조식을 순서대로 옳게 나타낸 것은?

- ①       ② 
- ③       ④ 
- ⑤ 

16. 다음은  $H_2O$ ,  $Br^-$ , 두 자리 리간드 phen이 배위결합한 정팔면체  $Co(III)$  착이온 (가)와 (나)의 화학식이다. phen은 이다.



이에 관한 설명으로 옳은 것만을 <보기>에서 있는 대로 고른 것은?

————— < 보 기 > —————
ㄱ. (가)의 모든 기하이성질체는 광학 비활성이다. ㄴ. 기하이성질체의 수는 (나)가 (가)보다 크다. ㄷ. (나)의 기하이성질체 중 광학 비활성인 것이 있다.

- ① ㄱ                      ② ㄷ                      ③ ㄱ, ㄴ                      ④ ㄴ, ㄷ                      ⑤ ㄱ, ㄴ, ㄷ

17. 표는 원자 X의 오비탈 A와 B에 관한 자료이다.

오비탈	주양자수	방사 방향 마디 수	각마디 수
A	n	0	x
B	n+1	0	2

이에 관한 설명으로 옳은 것만을 <보기>에서 있는 대로 고른 것은?

————— < 보 기 > —————
ㄱ. $x = 1$ 이다. ㄴ. $n = 3$ 이다. ㄷ. A의 각운동량 양자수( $l$ )는 0이다.

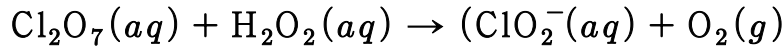
- ① ㄱ                      ② ㄷ                      ③ ㄱ, ㄴ                      ④ ㄴ, ㄷ                      ⑤ ㄱ, ㄴ, ㄷ

18. 분자 궤도함수 이론에 근거하여 바닥 상태 이원자 분자에 관한 설명으로 옳지 않은 것은?

- ①  $Li_2$ 의 결합 차수는 1이다.
- ②  $C_2$ 는 반자기성이다.
- ③  $O_2$ 에는 2개의 홀전자가 있다.
- ④  $N_2$ 의 최고 점유 분자 궤도함수(HOMO)는  $\sigma$  궤도함수이다.
- ⑤  $B_2$ 의 최저 비점유 분자 궤도함수(LUMO)는 이중 축퇴된 한 쌍의 반결합성 궤도함수이다.



19. 다음의 산화 환원 반응을 염기성 용액에서 균형을 맞추었을 때  $\text{OH}^-(aq)$ 의 반응 계수는  $a$ ,  $\text{H}_2\text{O}(l)$ 의 반응 계수는  $b$ 이다.  $\frac{b}{a}$ 는?



- ①  $\frac{3}{2}$                       ② 2                      ③  $\frac{5}{2}$                       ④ 3                      ⑤  $\frac{7}{2}$

20.  $25^\circ\text{C}$ 에서  $1.0 \times 10^{-8}\text{M}$  염산( $\text{HCl}(aq)$ )에 들어 있는  $\text{H}^+$ ,  $\text{OH}^-$ ,  $\text{Cl}^-$ 의 농도를 비교한 것으로 옳은 것은? (단,  $25^\circ\text{C}$ 에서  $\text{H}_2\text{O}$ 의 이온곱 상수( $K_w$ )는  $1.0 \times 10^{-14}$ 이다.)

- ①  $[\text{H}^+] < [\text{OH}^-] < [\text{Cl}^-]$                       ②  $[\text{H}^+] = [\text{Cl}^-] < [\text{OH}^-]$   
 ③  $[\text{OH}^-] = [\text{Cl}^-] < [\text{H}^+]$                       ④  $[\text{OH}^-] < [\text{Cl}^-] < [\text{H}^+]$   
 ⑤  $[\text{Cl}^-] < [\text{OH}^-] < [\text{H}^+]$

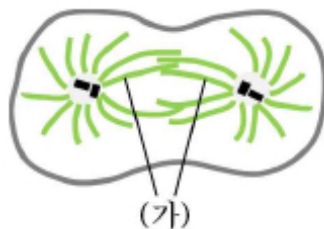
21. 식물에서 일어나는 광합성에 관한 설명으로 옳은 것만을 <보기>에서 있는 대로 고른 것은?

— < 보 기 > —

ㄱ.  $\text{NAD}^+$ 가 전자운반체 역할을 한다.  
 ㄴ. 암반응에서 탄소고정이 일어난다.  
 ㄷ. 배출되는  $\text{O}_2$ 는  $\text{CO}_2$ 에서 유래된 것이다.  
 ㄹ. 광계 II에서 얻은 에너지는 ATP 생성에 이용된다.

- ① ㄱ, ㄴ                      ② ㄱ, ㄷ                      ③ ㄴ, ㄷ                      ④ ㄴ, ㄹ                      ⑤ ㄷ, ㄹ

22. 그림은 분열 중인 동물세포를 나타낸 것이다. (가)는 중심체로부터 뻗어 나온 섬유이다.



(가)의 단량체는?

- ① 액틴                      ② 튜불린                      ③ 라미닌                      ④ 미오신                      ⑤ 케라틴

23. 포유동물의 동맥, 정맥, 모세혈관에 관한 설명으로 옳은 것만을 <보기>에서 있는 대로 고른 것은?

— < 보 기 > —

ㄱ. 혈압은 동맥에서 가장 높다.  
 ㄴ. 혈류의 속도는 정맥에서 가장 느리다.  
 ㄷ. 총단면적은 모세혈관에서 가장 크다.

- ① ㄱ                      ② ㄴ                      ③ ㄱ, ㄷ                      ④ ㄴ, ㄷ                      ⑤ ㄱ, ㄴ, ㄷ

24. 다음은 그레이브스병(Graves' disease)과 그레이브스병을 가진 여성 A에 대한 자료이다.

◦ 그림은 갑상샘호르몬의 분비가 유도되는 과정을 나타낸 것이다.

TRH : 갑상샘자극호르몬 방출호르몬  
 TSH : 갑상샘자극호르몬

◦ 그레이브스병은 수용체 작동제(receptor agonist)로 작용하는 항-TSH 수용체 항체를 생성하는 자가면역질환이며, A는 갑상샘 항진증을 갖고 있다.  
 ◦ A가 출산한 B는 태어난 직후 항-TSH 수용체 항체를 가지고 있었고, 시간이 지난 후 B에서 더 이상 이 항체가 발견되지 않았다.

이에 관한 설명으로 옳은 것만을 <보기>에서 있는 대로 고른 것은?

— < 보 기 > —

ㄱ. A에서 갑상샘호르몬의 양이 증가해도 갑상샘으로부터 지속적으로 호르몬이 분비된다.  
 ㄴ. A에서 갑상샘호르몬은 뇌하수체 전엽에 작용하여 TSH의 분비를 촉진한다.  
 ㄷ. B가 가지고 있던 항-TSH 수용체 항체의 유형은 IgG이다.

- ① ㄱ                      ② ㄴ                      ③ ㄷ                      ④ ㄱ, ㄴ                      ⑤ ㄱ, ㄷ

25. 감수분열에 관한 설명으로 옳은 것만을 <보기>에서 있는 대로 고른 것은?

— < 보 기 > —

ㄱ. 감수분열 I에서 교차가 일어난다.  
 ㄴ. 감수분열 II에서 자매염색분체가 서로 분리된다.  
 ㄷ. 감수분열 전체 과정을 통해 DNA 복제가 두 번 일어난다.

- ① ㄱ                      ② ㄴ                      ③ ㄷ                      ④ ㄱ, ㄴ                      ⑤ ㄱ, ㄷ

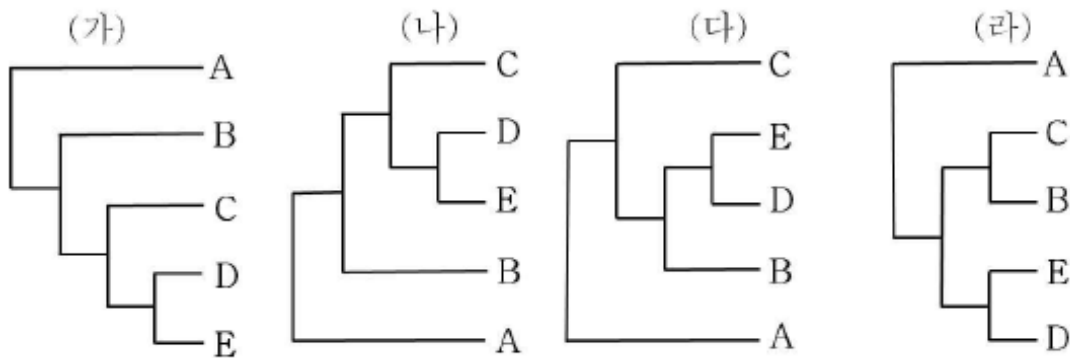
26. 유전자형이 AbBbDd인 어떤 식물에서 대립유전자 A와 d는 같은 염색체에, B는 다른 염색체에 있다. 이 식물을 자가교배하여 자손을 얻을 때, 자손의 유전자형이 AaBbDd일 확률은? (단, 생식세포 형성 시 교차는 고려하지 않는다.)

- ①  $\frac{1}{2}$
- ②  $\frac{1}{4}$
- ③  $\frac{1}{8}$
- ④  $\frac{1}{9}$
- ⑤  $\frac{1}{16}$

27. 진핵세포의 유전자발현에 관한 설명으로 옳은 것은?

- ① 오페론을 통해 전사가 조절된다.
- ② mRNA 가공은 세포질에서 일어난다.
- ③ 인핸서(enhancer)는 전사를 촉진하는 단백질이다.
- ④ 히스톤 꼬리의 아세틸화는 염색질 구조변화를 유도한다.
- ⑤ 마이크로 RNA (miRNA)는 짧은 폴리펩티드에 대한 정보를 담고 있다.

28. 그림 (가) ~ (라)는 생물분류군 A ~ E 의 유연관계를 나타낸 계통수이다.



A ~ E 의 진화적 관계가 동일한 계통수를 옳게 짝지은 것은?

- ① (가)-(나)
- ② (가)-(다)
- ③ (나)-(다)
- ④ (나)-(라)
- ⑤ (다)-(라)

29. 코로나 바이러스(SARS-CoV-2)의 감염 여부를 역전사 중합효소연쇄반응(RT-PCR)을 이용하여 진단하고자 한다. 이 진단 방법에서 필요한 시료가 아닌 것은?

- ① 역전사효소
- ② 열안정성 DNA 중합효소
- ③ 디옥시뉴클레오티드(dNTP)
- ④ SARS-CoV-2 바이러스 특이적 IgM
- ⑤ SARS-CoV-2 유전자 특이적 프라이머

30. 다음 중 어떤 생물이 세균(Bacteria) 영역에 속하는 생물이라고 판단한 근거로 가장 적절한 것은?

- ① RNA 중합효소는 한 종류만 있다.
- ② 히스톤과 결합한 DNA가 있다.
- ③ 세포 표면에 섬모가 있다.
- ④ 셀룰로오스로 구성된 세포벽이 있다.
- ⑤ 막으로 둘러싸인 세포소기관이 세포질에 있다.

31. 탄산염 광물에 해당하는 것은?

- ① 암염            ② 황동석            ③ 각섬석            ④ 금강석            ⑤ 돌로마이트

32. 고생대의 화석과 지질에 관한 설명으로 옳지 않은 것은?

- ① 석탄층이 발견된다.
- ② 석회암층이 발견된다.
- ③ 삼엽충 화석이 산출된다.
- ④ 화폐석 화석이 산출된다.
- ⑤ 초대륙인 판게아(Pangaea)가 형성되었다.

33. 온대 저기압에 관한 설명으로 옳은 것만을 <보기>에서 있는 대로 고른 것은?

— < 보 기 > —

ㄱ. 성질이 다른 두 기단이 만나서 형성된다.

ㄴ. 온난 전선의 전선면에서는 적란운이 발달한다.

ㄷ. 온난 전선면의 기울기가 한랭 전선면의 기울기보다 작다.

- ① ㄱ            ② ㄴ            ③ ㄱ, ㄷ            ④ ㄴ, ㄷ            ⑤ ㄱ, ㄴ, ㄷ

34. 지진과 지진파에 관한 설명으로 옳은 것만을 <보기>에서 있는 대로 고른 것은?

— < 보 기 > —

ㄱ. 진앙은 탄성에너지가 최초로 방출된 지점이다.

ㄴ. P파와 S파는 모두 실체파이다.

ㄷ. S파는 파의 진행 방향이 매질 입자의 진동 방향과 평행한 종파이다.

- ① ㄱ            ② ㄴ            ③ ㄷ            ④ ㄱ, ㄴ            ⑤ ㄴ, ㄷ

35. 지구 내부의 구성 물질에 관한 설명으로 옳은 것만을 <보기>에서 있는 대로 고른 것은?

— < 보 기 > —

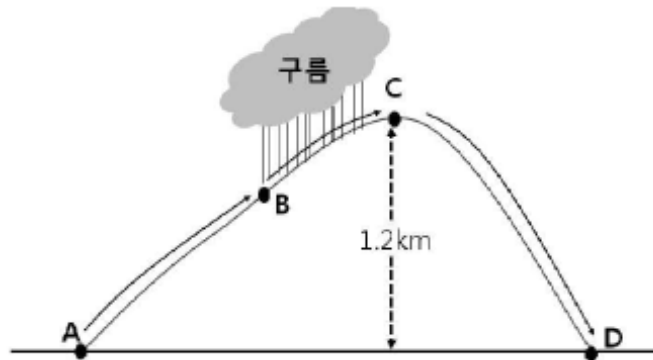
ㄱ. 내핵의 물질은 고체 상태로 존재한다.

ㄴ. 상부 맨틀의 암석은 유문암으로 구성되어 있다.

ㄷ. 해양지각의 SiO<sub>2</sub> 구성 성분비는 대륙지각의 SiO<sub>2</sub> 구성 성분비보다 크다.

- ① ㄱ                      ② ㄴ                      ③ ㄷ                      ④ ㄱ, ㄴ                      ⑤ ㄴ, ㄷ

36. 그림은 A 지점에서 기온이 18℃, 이슬점이 10℃ 인 공기 덩어리가 산을 타고 올라가다가 B 지점부터 정상인 C 지점까지 구름을 만든 후 산을 넘어 D 지점까지 가는 과정을 나타낸 것이다.



이에 관한 설명으로 옳은 것만을 <보기>에서 있는 대로 고른 것은? (단, 건조단열 감률은 10℃/km, 이슬점 감률은 2℃/km 이며, A와 D의 해발고도는 0 km 이다.)

— < 보 기 > —

ㄱ. B 지점의 고도는 1 km 이다.

ㄴ. C 지점에서 기온은 이슬점보다 낮다.

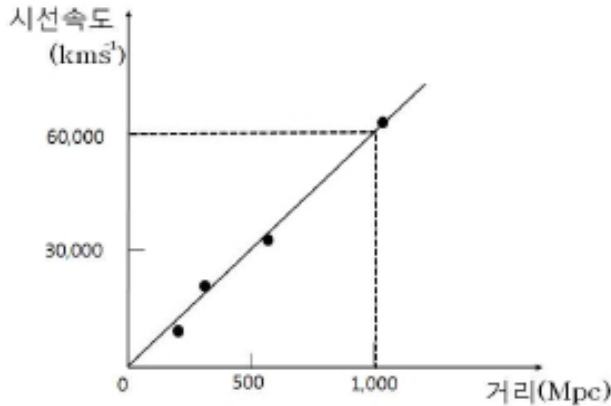
ㄷ. D 지점에서는 A 지점보다 기온이 높다.

- ① ㄱ                      ② ㄴ                      ③ ㄱ, ㄷ                      ④ ㄴ, ㄷ                      ⑤ ㄱ, ㄴ, ㄷ

37. 지진해일(Tsunami)에 관한 설명으로 옳지 않은 것은?

- ① 심해파의 특성을 갖는다.
- ② 속도는 수심과 관련된다.
- ③ 해안으로 다가오면서 파고가 높아진다.
- ④ 우리나라 동해안에서 피해가 보고되었다.
- ⑤ 해저에서 발생하는 지진에 의해 일어난다.

38. 다음 그래프는 외부 은하들의 거리와 시선속도의 관계를 나타낸 것이다.



이에 관한 설명으로 옳은 것만을 <보기>에서 있는 대로 고른 것은?

- < 보 기 >
- ㄱ. 우주는 팽창하고 있다.
  - ㄴ. 허블 상수는  $60 \text{ km s}^{-1} \text{ Mpc}^{-1}$  이다.
  - ㄷ. 멀리 있는 은하일수록 청색편이가 크게 나타난다.

- ① ㄱ                      ② ㄴ                      ③ ㄱ, ㄴ                      ④ ㄴ, ㄷ                      ⑤ ㄱ, ㄴ, ㄷ

39. 지구 대기권에 관한 설명으로 옳지 않은 것은?

- ① 대류권에서는 기상현상이 나타난다.
- ② 대류권의 높이는 위도에 따라 다르다.
- ③ 성층권에서는 오존층에서 기온이 가장 높다.
- ④ 중간권에서는 대류작용이 일어난다.
- ⑤ 열권에서는 전리층이 존재한다.

40. 표는 별 A, B의 절대 등급과 겉보기 등급을 나타낸 것이다.

	A	B
절대 등급(M)	0	0
겉보기 등급(m)	5	7

별 A, B에 관한 설명으로 옳은 것은?

- ① A의 연주시차는 0.1"이다.
- ② A가 B보다 지구에서 가까운 거리에 있다.
- ③ 100pc에 위치한 A의 겉보기 등급은 0이다.
- ④ 육안으로 관측할 때 B가 A보다 10배 밝다.
- ⑤ A, B의 거리 지수(m-M)로 별의 화학조성을 알 수 있다.



변리사스쿨, 1등의 비결!  
1차 압도적 대세로  
합격의 길을 열어드립니다!



변리사스쿨

# 2021년도 제58회 변리사 1차 국가자격시험 최종정답

## 1교시 | 산업재산권법

1	2	3	4	5	6	7	8	9	10
③	①	⑤	②	③	②,④	④	③	②	④
11	12	13	14	15	16	17	18	19	20
⑤	④	②,④	①	모두정답	①	⑤	④	②	⑤
21	22	23	24	25	26	27	28	29	30
③	③	②	②	⑤	④	③	①	④	①,⑤
31	32	33	34	35	36	37	38	39	40
④	②	③	④	②	④,⑤	⑤	①	⑤	①

## 2교시 | 민법개론

1	2	3	4	5	6	7	8	9	10
④	①	②	③	①	⑤	①	④	③	①
11	12	13	14	15	16	17	18	19	20
⑤	②	⑤	②	②	④	⑤	③	③	④
21	22	23	24	25	26	27	28	29	30
①	①,③	⑤	⑤	⑤	④	③	④	①	④
31	32	33	34	35	36	37	38	39	40
③	⑤	②	③	④	①	⑤	②	②	①

## 3교시 | 자연과학개론

1	2	3	4	5	6	7	8	9	10
④	①	⑤	②	②	⑤	④	④	⑤	③
11	12	13	14	15	16	17	18	19	20
③	②	④	③	①	⑤	①	⑤	③	⑤
21	22	23	24	25	26	27	28	29	30
④	②	③	⑤	④	②	④	①	④	①
31	32	33	34	35	36	37	38	39	40
⑤	④	③	②	①	③	①	③	③	②



01  
2022

제59회 변리사 1차 국가자격시험  
[1교시] 산업재산권법

**1. 특허 제도에 관한 설명으로 옳지 않은 것은?**

- ① 물건을 생산하는 방법에 관한 발명이 있는 경우, 그 방법에 의하여 생산한 물건을 수출하는 행위 자체는 특허발명의 실시행위에 해당하지 않는다.
- ② 법인이 아닌 사단 또는 재단이라 하더라도 대표자나 관리인이 정하여져 있다면, 그 사단 또는 재단의 이름으로 출원심사의 청구인, 심판의 청구인·피청구인이 될 수 있다.
- ③ 국내에 주소 또는 영업소가 없는 재외자라 하더라도 국내에 체류하고 있는 경우에는 재외자의 이름으로 특허에 관한 절차를 밟을 수 있다.
- ④ 특허청 심사관이 의견제출통지서에서 출원인의 의견서 제출 기간을 지정한 경우, 이 지정기간은 출원인의 청구에 의하여 연장뿐만 아니라 단축도 가능하다.
- ⑤ 특허권 및 특허에 관한 권리의 등록신청서류와 특허협력조약 제2조(vii)에 따른 국제 출원에 관한 서류를 우편으로 제출하는 경우, 우편물의 통신일부인(通信日附印)에 표시된 날이 분명하다면 표시된 날부터 효력이 발생한다.

**2. 특허를 받을 수 있는 권리에 관한 설명으로 옳지 않은 것은? (다툼이 있으면 판례에 따름)**

- ① 특허출원 후에는 특허를 받을 수 있는 권리의 승계는 상속, 그 밖의 일반승계의 경우를 제외하고는 특허출원인변경신고를 하여야만 그 효력이 발생한다.
- ② 특허출원 전에 이루어진 특허를 받을 수 있는 권리의 승계는 그 승계인이 특허출원을 하여야만 그 효력이 발생한다.
- ③ 특허를 받을 수 있는 권리는 발명의 완성과 동시에 발명자에게 원시적으로 귀속되지만, 이는 재산권으로 양도성을 가지므로 계약 또는 상속 등을 통하여 전부 또는 일부 지분을 이전할 수 있고, 특허를 받을 수 있는 권리를 이전하기로 하는 계약은 명시적으로는 물론 묵시적으로도 이루어질 수 있다.
- ④ 정부는 특허출원된 발명이 국방상 필요한 경우에는 특허를 하지 아니할 수 있으며, 전시·사변 또는 이에 준하는 비상시에 국방상 필요한 경우에는 특허를 받을 수 있는 권리를 수용할 수 있고, 특허하지 아니하거나 수용한 경우에는 정부는 정당한 보상금을 지급 하여야 한다.
- ⑤ 동일한 자료부터 동일한 발명 및 고안에 대한 특허를 받을 수 있는 권리 및 실용신안등록을 받을 수 있는 권리를 승계한 자가 둘 이상인 경우 그 승계한 권리에 대하여 같은 날에 특허출원 및 실용신안등록출원이 있으면 특허출원인 및 실용신안등록출원인 간에 협의하여 정한 자에게만 승계의 효력이 발생한다.

**3. 신규성에 관한 설명으로 옳지 않은 것은? (다툼이 있으면 판례에 따름)**

- ① 발명의 신규성 판단에 제공되는 대비 발명은 반드시 그 기술적 구성 전체가 명확하게 표현된 것뿐만 아니라, 미완성 발명이라고 하더라도 그 기술분야에서 통상의 지식을 가진 자가 기술상식이나 경험칙에 의하여 쉽게 기술내용을 파악할 수 있는 범위 내에서는 신규성 판단을 위한 선행자료로서의 지위를 가진다.
- ② 선택발명의 신규성을 부정하기 위해서는 선행발명이 선택발명을 구성하는 하위개념을 구체적으로 개시하고 있어야 하고, 이에 그 발명이 속하는 기술분야에서 통상의 지식을 가진 자가 선행문헌의 기재 내용과 출원시의 기술 상식에 기초하여 선행문헌으로부터 직접적으로 선택발명의 존재를 인식할 수 있는 경우도 포함된다.
- ③ 구성요소의 범위를 수치로써 한정하여 표현한 발명이 그 출원 전에 공지된 발명과 사이에 수치한정의 유무 또는 범위에서만 차이가 있는 경우에는, 그 한정된 수치범위가 공지된 발명에 구체적으로 개시되어 있거나, 그렇지 않더라도 그러한 수치한정이 그 발명이 속하는 기술분야에서 통상의 지식을 가진 자가 적절히 선택할 수 있는 주지·관용의 수단에 불과하고 이에 따른 새로운 효과도 발생하지 않는다면 그 신규성이 부정된다.
- ④ 발명을 논문으로 발표하더라도 신규성 상실사유가 발생한 날로부터 12개월 이내에 출원하는 경우 신규성 상실의 예외를 인정받을 수 있으나, 제3자가 해당 논문을 읽고 동일 발명에 대하여 먼저 출원을 하는 경우에는 신규성 상실의 예외를 인정받은 특허 출원은 선출원주의 위반으로 특허를 받을 수 없다.
- ⑤ 제조방법이 기재된 물건발명의 신규성을 판단하는 경우, 그 기술적 구성을 제조 방법의 기재를 포함하여 청구범위의 모든 기재에 의하여 특정되는 구조나 성질 등을 가지는 물건으로 파악하여 선행기술과 비교하여 신규성 결여 여부를 살펴야 한다.

**4. 분할출원에 관한 설명으로 옳은 것은?**

- ① 분할출원은 출원서에 최초로 첨부된 명세서 또는 도면에 기재된 사항의 범위 내에서 할 수 있으며, 원출원이 외국어출원인 경우에 국어번역문이 제출되지 않았다면 원문에 기재된 범위 내에서 분할출원할 수 있다.
- ② 분할출원된 명세서에 기재된 발명의 내용이 분할후 원출원서에 기재된 발명의 내용과 동일하다면, 적법한 분할출원이 아니라는 점을 근거로 거절결정이 된다.
- ③ 분할출원에서 자기공지에외적용의 주장을 하는 경우, 그 증명서류는 분할출원일로부터 30일이 되는 날까지 제출하여야 한다.
- ④ 분할출원은 특허출원서에 최초로 첨부한 명세서에 청구범위가 적혀 있는 경우에만 가능하므로 최초로 첨부한 명세서에 청구범위가 적혀 있지 아니한 경우에는 분할출원을 할 수 없다.
- ⑤ 분할출원은 특허결정등본을 송달 받은 이후에도 가능하나, 특허권설정등록을 받으려는 날이 3개월보다 짧은 경우에는 분할출원을 할 수 없다.

**5. 특허출원 절차에 관한 설명으로 옳지 않은 것은?**

- ① 특허출원인의 의사에 반한 공지가 있어 이를 주장하고자 하는 경우, 특허출원시에 그 취지와 증거 자료를 제출하여야 하나, 보완수수료를 납부하면 보정 기간에 그 취지를 적은 서류 또는 이를 증명할 수 있는 서류를 제출할 수 있다.
- ② 무권리자의 특허출원에 해당한다는 이유로 특허거절결정이 확정된 경우, 정당한 권리자의 출원에 대한 심사청구는 무권리자 출원일로부터 3년이 경과한 이후라도 정당한 권리자의 출원일로부터 30일 이내에 청구할 수 있다.
- ③ 분할출원을 기초로 특허법 제54조(조약에 의한 우선권 주장)에 따른 우선권을 주장하고자 하는 경우, 분할출원을 한 날부터 3개월 이내에 우선권 주장 서류를 특허청장에게 제출할 수 있다.
- ④ 특허출원에 대한 최후거절이유통지에 따른 보정이 각하된 경우에, 이에 대하여 독립하여 불복할 수 없고, 심판에서 다투는 경우에는 특허거절결정에 대한 심판에서 다투 수 있다.
- ⑤ 특허출원인은 특허출원서에 최초로 첨부한 명세서에 청구범위를 적지 아니한 변경출원의 경우 특허법 제42조의2(특허출원일 등) 제2항에 따른 기한이 지난 후에도 변경 출원을 한 날부터 30일이 되는 날까지 명세서에 청구범위를 적는 보정을 할 수 있다.

**6. 특허출원에 관한 설명으로 옳지 않은 것은?(다툼이 있으면 판례에 따름)**

- ① 청구범위가 기재되지 아니한 명세서가 첨부된 특허출원에 대하여 특허출원인이 출원심사청구서를 제출한 경우에는 부적법한 서류로서 반려처분 대상이 된다.
- ② 출원이 법령에 정한 방식에 위반하였으나 반려 대상이 아닌 경우에는 보정명령을 받게 되고, 보정명령을 받은 자가 지정된 기간내에 보정을 하지 아니하는 경우에는 그 특허에 관한 절차는 무효가 될 수 있다.
- ③ 요약서는 특허출원서류의 일부로 필요적으로 제출되어야 할 서류이고, 요약서에만 기재되어 있고 발명의 명세서에 기재가 빠뜨린 경우에는 보정을 할 수 있는 기간 내에 요약서 기재내용을 명세서에 추가할 수 있다.
- ④ 특허출원인은 출원시에는 명세서에 청구범위를 적지 않을 수 있으나 이 경우에는 출원일(우선권 주장을 수반하는 특허출원의 경우 최우선일)부터 1년 2개월이 되는 날까지 명세서에 청구범위를 적는 보정을 하여야 하고, 출원인은 청구범위를 기재하는 보정을 하여야 출원심사청구가 가능하다.
- ⑤ 특허법 제42조(특허출원) 제4항 제1호가 정한 명세서 기재요건을 충족하는지는 특허 출원 당시의 기술수준을 기준으로 하여 그 발명이 속하는 기술분야에서 통상의 지식을 가진 사람의 입장에서 청구범위에 기재된 발명과 대응되는 사항이 발명의 설명에 기재되어 있는지에 의하여 판단하여야 하므로, 특허출원 당시의 기술수준에 비추어 발명의 설명에 개시된 내용을 청구범위에 기재된 발명의 범위까지 확장 또는 일반화 할 수 있다면 청구범위는 발명의 설명에 의하여 뒷받침된다.

7. 발명의 진보성 판단에 관한 설명으로 옳은 것을 모두 고른 것은? (다툼이 있으면 판례에 따름)

- ㄱ. 발명의 구성의 곤란성 여부 판단이 불분명한 경우에는 특허발명이 선행발명에 비하여 이질적이거나 양적으로 현저한 효과를 가지고 있더라도 진보성은 부정된다.
- ㄴ. 특허발명의 진보성을 판단할 때에는 청구항에 기재된 복수의 구성을 분해한 후 각각 분해된 개별 구성요소들이 공지된 것인지 여부만을 따져서는 아니 되고, 특유의 과제해결원리에 기초하여 유기적으로 결합한 전체로서의 구성의 곤란성을 따져 보아야 한다.
- ㄷ. 효과의 현저성은 특허발명의 명세서에 기재되어 통상의 기술자가 인식 하거나 추론할 수 있는 효과를 중심으로 판단하여야 하고, 만일 그 효과가 의심스러울 때에는 그 기재 내용의 범위를 넘지 않는 한도에서 출원일 이후에 추가적인 실험 자료를 제출하는 등의 방법으로 그 효과를 구체적으로 주장·입증하는 것이 허용된다.
- ㄹ. 의약용도발명에서는 통상의 기술자가 선행발명들로부터 특정 물질의 특정 질병에 대한 치료효과를 쉽게 예측할 수 있는 정도에 불과하다면 그 진보성이 부정되고, 이러한 경우 선행발명들에서 임상시험 등에 의한 치료효과가 확인될 것까지 요구된다고 볼 수 없다.

- ① ㄱ, ㄴ      ② ㄴ, ㄷ      ③ ㄷ, ㄹ      ④ ㄱ, ㄴ, ㄹ      ⑤ ㄴ, ㄷ, ㄹ

8. 특허출원심사에 관한 설명으로 옳은 것은?

- ① 심사관은 특허결정되어 특허권 설정등록된 특허출원에 명백한 거절이유를 발견한 경우에는 직권으로 특허결정을 취소하고 다시 심사하여야 한다.
- ② 심사관의 직권 재심사에 의하여 특허결정을 취소한다는 사실이 특허출원인에게 통지가 되기 이전에 특허권 설정등록이 이루어졌다면, 특허취소결정은 처음부터 없었던 것으로 본다.
- ③ 심사관이 특허출원서에 첨부된 명세서, 도면의 일부를 직권보정하면서 특허등록결정을 하였으나, 특허출원인에 의하여 의견서가 제출되면, 특허결정은 유지되나 직권 보정 사항은 처음부터 없었던 것으로 본다.
- ④ 특허출원인은 특허거절결정등본을 송달 받고 재심사를 청구하였더라도 거절결정 불복심판 청구기간 이내라면 이를 취하하고 거절결정불복심판 청구를 할 수 있다.
- ⑤ 특허출원인은 출원공개 후 특허등록을 무효로 한다는 심결의 확정 이 있더라도, 출원된 사실을 알면서 출원된 발명을 업으로서 실시하고 있는 자에게 무효로 확정될 때까지의 특허발명의 실시에 대하여 합리적으로 받을 수 있는 금액의 보상금을 청구할 수 있다.

**9. 특허료에 관한 설명으로 옳은 것은?**

- ① 추가납부기간에 특허료를 납부하지 않은 경우에는 특허권의 설정등록을 받으려는 자의 특허출원 은 취하한 것으로 본다.
- ② 특허권의 설정등록을 받으려는 자 또는 특허권자가 책임질 수 없는 사유로 추가납부기간에 특허료를 내지 아니하였거나 보전기간에 보전하지 아니한 경우에는 그 사유가 소멸한 날부터 30일 이내에 그 특허료를 내거나 보전할 수 있다.
- ③ 특허권의 존속기간의 연장등록을 무효로 한다는 심결이 확정된 경우에 심결이 확정된 해부터의 특허료는 납부한 자의 청구에 의하여 반환한다.
- ④ 특허청장은 특허료가 잘못 납부된 경우에는 그 사실을 납부한 자에게 통지하여야 하며, 특허료의 반환청구는 이 통지를 받은 날부터 3년이 지나면 할 수 없다.
- ⑤ 특허청장은 특허료의 감면을 거짓이나 그 밖의 부정한 방법으로 받은 자에 대하여는 산업통상자원부령으로 정하는 바에 따라 감면받은 특허료의 3배액을 징수할 수 있다.

**10. 특허를 받을 수 있는 권리 및 특허권의 공유에 관한 설명으로 옳지 않은 것은? (다툼이 있으면 판례에 따름)**

- ① 단독으로 발명을 완성한 후 특허를 받을 수 있는 권리의 일부 지분을 양도한 경우에는 공유자 모두가 공동으로 특허출원을 하지 않더라도 해당 출원은 거절되지 않는다.
- ② 특허권이 공유인 경우 다른 공유자와 경업관계에 있는 제3자에게 지분이 양도되면 다른 공유자는 불측의 손해를 입을 우려가 있기 때문에 특허권이 공유인 경우에는 각 공유자는 다른 공유자 모두의 동의를 받아야만 그 지분을 양도할 수 있다.
- ③ 특허권의 각 공유자에게 민법상의 공유물분할청구권을 인정하더라도 특허법 제99조(특허권의 이전 및 공유 등)에 반하지 아니하고, 달리 분할청구를 금지하는 특허법 규정이 없으므로, 특허권의 공유관계에 민법상 공유물분할청구에 관한 규정이 적용될 수 있다.
- ④ 특허권 분할시 각 공유자에게 특허권을 부여하는 방식의 현물분할을 인정하면 하나의 특허권이 사실상 내용이 동일한 복수의 특허권으로 증가하는 부당한 결과를 초래하게 되므로 현물분할은 허용되지 않는다.
- ⑤ 심판청구서의 보정은 그 요지를 변경할 수 없는 것이 원칙이나, 공동출원인 중 일부만이 심판청구를 제기한 경우 나머지 공동출원인을 심판청구인으로 추가하는 보정은 허용된다.

**11. 특허권에 관한 설명으로 옳지 않은 것은?**

- ① 반도체 기술에 대해서는 특허법 제107조(통상실시권 설정의 재정) 제1항 제3호(공공의 이익을 위하여 비상업적으로 실시하는 경우만 해당한다)의 경우에만 재정을 청구할 수 있다.
- ② 비밀취급이 필요한 특허발명에 대해서는 그 발명의 비밀취급이 해제될 때까지 그 특허의 등록공고를 보류하여야 하며, 그 발명의 비밀취급이 해제된 경우에는 지체 없이 특허법 제87조(특허권의 설정등록 및 등록공고) 제3항에 따라 등록공고를 하여야 한다.
- ③ 특허발명의 실시가 특허법 제2조(정의) 제3호 나목에 따른 방법의 사용을 청약하는 행위인 경우 특허권의 효력은 그 방법의 사용이 특허권 또는 전용실시권을 침해한다는 것을 알면서 그 방법의 사용을 청약하는 행위에만 미친다.
- ④ 정부는 특허발명이 국가 비상사태, 극도의 긴급상황 또는 공공의 이익을 위하여 비상업적으로 실시할 필요가 있다고 인정하는 경우에는 그 특허발명을 실시하거나 정부 외의 자에게 실시하게 할 수 있다.
- ⑤ 청산절차가 진행 중인 법인의 특허권은 법인의 청산종결등기일(청산종결등기가 되었더라도 청산사무가 사실상 끝나지 아니한 경우에는 청산사무가 사실상 끝난 날과 청산종결등기일부터 6개월이 지난 날 중 빠른 날로 한다)까지 그 특허권의 이전등록을 하지 아니한 경우에는 청산종결등기일의 다음 날에 소멸한다.

**12. 특허권 침해와 특허소송에 관한 설명으로 옳은 것은? (다툼이 있으면 판례에 따름)**

- ① 심결취소소송에서도 자백 또는 의제자백이 인정되지만, 자백의 대상은 사실이고 이러한 사실에 대한 법적 판단 내지 평가는 자백의 대상이 되지 않으므로, 특허 발명의 진보성 판단에 제공되는 선행발명이 어떤 구성요소를 가지고 있는지 여부에 대해서는 자백이 허용되지 않는다.
- ② 특허권의 권리범위는 청구범위에 기재된 사항에 의하여 정하여지는 것이 원칙이나, 청구항은 발명의 설명에 의하여 뒷받침될 것이 요구되기 때문에, 청구범위의 기재만으로 특허의 기술적 구성을 알 수 없거나 알 수 있더라도 기술적 범위를 확정할 수 없는 경우에는 명세서의 기재에 의한 보충을 통해 기술적 범위의 확장 또는 제한 해석을 함으로써 특허권의 권리범위가 발명의 크기에 맞게 실질적으로 정해질 수 있도록 해야 한다.
- ③ 후 발명이 선 특허발명의 요지를 전부 포함하고 이를 그대로 이용하되, 후 발명 내에 선 특허발명이 발명으로서의 일체성을 유지하는 경우에는 이용관계가 성립하고, 선 특허권자의 허락없이 선 특허발명을 실시하면 이용침해에 해당하나, 후 발명이 선 특허발명과 동일한 발명이 아니라 균등한 발명을 이용하는 경우에는 그렇지 않다.
- ④ 청구항에 기재된 구성요소는 모두 필수구성요소로 파악되어야 하며 일부 구성요소를 그 중요성이 떨어진다는 등의 이유로 필수구성요소가 아니라고 주장할 수 없다.
- ⑤ 특허권침해소송의 상대방이 제조하는 제품이 특허발명의 특허권을 침해한다고 할 수 있기 위해서는 특허발명의 청구범위에 기재된 각 구성요소와 그 구성요소 간의 유기적 결합관계가 침해대상 제품에 그대로 포함되어 있을 필요까지는 없다.

13. 일사부재리에 관한 설명으로 옳지 않은 것은? (다툼이 있으면 판례에 따름)

- ① 확인대상발명의 일부 구성이 불명확하여 다른 것과 구별될 수 있는 정도로 구체적으로 특정되어 있지 않다면 심판의 심결이 확정되더라도 일사부재리의 효력이 미치는 범위가 명확하다고 할 수 없으므로 나머지 구성만으로 확인대상발명이 특허발명의 권리범위에 속하는지 여부를 판단할 수 있는 경우라 하더라도 심판청구를 각하 하여야 한다.
- ② 종전에 확정된 심결에서의 무효사유 외에 다른 무효사유가 추가된 심판청구의 경우 일사부재리 원칙에 위배되지 아니하지만, 종전에 확정된 심결에서 판단이 이루어진 청구원인과 공통되는 부분에 대해서는 일사부재리 원칙 위배 여부의 관점에서 종전에 확정된 심결을 반복할 수 있을 정도로 유력한 증거가 새로이 제출되었는지를 따져 종전 심결에서와 다른 결론을 내릴 것인지를 판단하여야 한다.
- ③ 적극적 권리범위확인심판의 심결이 확정된 때에는 그 일사부재리의 효력은 동일사실 및 동일증거에 의한 소극적 권리범위확인심판 청구에 대해서도 그대로 미친다.
- ④ 동일사실이란 청구원인사실의 동일성을 말하고, 진보성의 결여를 이유로 하는 등록무효심판 청구에 대한 심결이 확정된 후, 다시 특허가 미완성발명 내지 기재불비에 해당한다는 이유를 들어 등록무효심판 청구를 하는 것은 일사부재리에 해당하지 않는다.
- ⑤ 확정된 심결이 각하심결인 경우에는 일사부재리의 효력이 없다고 정한 특허법 제163조(일사부재리) 단서 규정은 새로 제출된 증거가 선행 확정 심결을 반복할 수 있을 만큼 유력한 증거인지에 관한 심리·판단이 이루어진 후 선행 확정 심결과 동일 증거에 의한 심판청구라는 이유로 각하된 심결인 경우에는 적용되지 않는다.

14. 특허법상 심판제도에 관한 설명으로 옳은 것을 모두 고른 것은? (다툼이 있으면 판례에 따름)

- ㄱ. 적극적 권리범위 확인심판의 청구인은 특허권자, 전용실시권자이다.
- ㄴ. 심판장은 구술심리로 심판을 할 경우에는 심판장이 지정한 직원에게 기일마다 심리의 요지와 그 밖에 필요한 사항을 적은 조서를 작성하게 하여야 하며, 이 조서에는 심판의 심판장 및 조서를 작성한 직원이 서명날인하여야 한다.
- ㄷ. 제138조(통상실시권 허락의 심판) 제1항에 따른 심판 청구인은 이용·저촉관계에 있는 후출원 특허권자, 전용실시권자 또는 통상실시권자이다.
- ㄹ. 제139조(공동심판의 청구 등) 제1항에 따라 심판에 참가하려는 자는 참가 신청서를 심판장에게 제출하여야 하며, 참가여부는 심판으로 결정하여야 하고, 이 결정에 대해서는 불복할 수 없다.
- ㅁ. 부적법한 심판청구로서 그 흠을 보정할 수 없을 경우라도 피청구인에게 답변서 제출의 기회를 주어야 하고, 심결로써 그 청구를 각하할 수 없다.

- ① ㄱ, ㄴ, ㄷ
- ② ㄱ, ㄴ, ㅁ
- ③ ㄱ, ㄷ, ㄹ
- ④ ㄴ, ㄹ, ㅁ
- ⑤ ㄷ, ㄹ, ㅁ



**15. 특허법상 재심제도에 관한 설명으로 옳지 않은 것은?**

- ① 당사자는 특허취소결정 또는 심결 확정 후 재심사유를 안 날부터 30일 이내에 재심을 청구하여야 하고, 대리권의 흠을 이유로 재심을 청구하는 경우에 이 기간은 청구인 또는 법정대리인이 특허취소결정등본 또는 심결등본을 송달 받은 날부터 기산한다.
- ② 특허취소결정 또는 심결 확정 후 3년이 지나면 재심을 청구할 수 없으며, 재심사유가 특허취소결정 또는 심결 확정 후에 생겼을 때에는 위의 3년의 기간은 그 사유가 발생한 날의 다음 날부터 기산한다.
- ③ 심판의 당사자가 공모하여 제3자의 권리나 이익을 사해(詐害)할 목적으로 심결을 하게 하였을 때에는 제3자는 그 확정된 심결에 대하여 재심을 청구할 수 있으며, 이 경우 심판의 당사자를 공동피청구인으로 한다.
- ④ 취소된 특허권이 재심에 의하여 회복된 경우 특허권의 효력은 해당 특허취소결정 또는 심결이 확정된 후 재심청구 등록 전에 선의로 수입하거나 국내에서 생산 또는 취득한 물건에는 미치지 아니한다.
- ⑤ 취소된 특허권이 재심에 의하여 회복된 경우 해당 특허취소결정 또는 심결이 확정된 후 재심청구 등록 전에 국내에서 선의로 그 발명의 실시사업을 하고 있는 자 또는 그 사업을 준비하고 있는 자는 실시하고 있거나 준비하고 있는 발명 및 사업목적의 범위에서 그 특허권에 관하여 통상실시권을 가진다.

**16. 특허소송에 관한 설명으로 옳은 것은? (다툼이 있으면 판례에 따름)**

- ① 침해소송이 계속 중이어서 그 소송에서 특허권의 효력이 미치는 범위를 확정할 수 있는 경우에는 이를 이유로 침해소송과 별개로 청구된 권리범위확인심판의 심판청구의 이익이 부정된다고 볼 수 있다.
- ② 동일한 특허발명에 대하여 정정심판 사건이 특허심판원에 계속 중에 있는 경우에 이를 이유로 상고심에 계속 중인 그 특허발명에 관한 특허무효심결에 대한 취소소송의 심리를 중단하여야 하는 것은 아니다.
- ③ 특허권자가 정정심판을 청구하여 특허무효심판에 대한 심결취소소송의 사실심 변론종결 이후에 특허발명의 명세서 또는 도면에 대하여 정정을 한다는 심결이 확정되는 경우에는 정정 전 명세서 등으로 판단한 원심판결에 재심사유가 있다.
- ④ 동일한 특허권에 관하여 2인 이상의 자가 공동으로 특허의 무효심판을 청구하여 승소한 경우에 그 특허권자가 제기할 심결취소소송은 심판청구인 전원을 상대로 제기하여 야만 하는 고유필수적 공동소송이다.
- ⑤ 법원은 특허취소결정 또는 심결에 대한 소 및 특허취소신청서·심판청구서·재심청구서의 각하 결정에 대한 소 또는 특허법원의 판결에 따른 상고가 대법원에 제기되었을 때에는 지체 없이 그 취지를 특허청장과 특허심판원장에게 통지하여야 한다.

**17. 특허협력조약에 의한 국제특허출원에 관한 설명으로 옳은 것은?**

- ① 국제특허출원서에 발명의 설명은 기재되어 있으나 청구범위가 기재되어 있지 않는 경우, 국제출원이 특허청에 도달한 날을 국제출원일로 인정하여야 한다.
- ② 국제출원에 관한 서류가 우편의 지연으로 인하여 제출기간내에 도달하지 않은 경우에도 이러한 지연이 우편의 지연에 의한 것으로 인정된다면, 당해서류는 제출기간 내에 제출된 것으로 추정한다.
- ③ 국제출원에서, 우선일부터 1년 4개월과 국제출원일부터 4개월 중 늦게 만료되는 날 이내에 우선권 주장의 보정은 할 수 있으나, 우선권 주장의 추가는 할 수 없다.
- ④ 국제출원에 대하여 특허청이 국제조사기관으로 지정된 경우에, 우선권 주장의 기초가 되는 선출원이, 국어, 영어, 일본어 이외의 언어로 된 경우에는 국어 번역문을 제출할 것을 출원인에게 명할 수 있다.
- ⑤ 외국어로 출원된 국제출원에서 원문의 범위를 벗어난 보정은 특허무효사유이나 국어 번역문의 범위를 벗어난 보정은 거절이유에는 해당하지만 특허무효사유는 아니다.

**18. 특허법에 규정된 벌칙에 관한 설명으로 옳지 않은 것은?**

- ① 특허권침해죄는 피해자의 명시적 의사에 반하여 공소를 제기할 수 없고, 비밀유지명령을 국내외에서 정당한 사유 없이 위반한 행위에 대해서는 비밀유지명령을 신청한 자의 고소가 없으면 공소를 제기할 수 없다.
- ② 특허법에 따라 선서한 증인, 감정인 또는 통역인이 특허심판원에 대하여 거짓으로 진술·감정 또는 통역한 경우에 그 사건의 특허취소신청에 대한 결정 또는 심결이 확정되기 전에 자수한 경우에는 그 형을 감경 또는 면제할 수 있다.
- ③ 특허심판원으로부터 증인·감정인 또는 통역인으로 소환된 자로서 정당한 이유 없이 소환에 따르지 아니하거나 선서·진술·증언·감정 또는 통역을 거부한 경우에는 과태료 부과 대상이 된다.
- ④ 피해자는 침해행위를 조성한 물건 또는 그 침해행위로부터 생긴 물건을 받은 경우에는 그 물건의 가액을 초과하는 손해액에 대해서만 배상을 청구할 수 있다.
- ⑤ 법인의 대표자나 법인 또는 개인의 대리인, 사용인, 그 밖의 종업원이 그 법인 또는 개인의 업무에 관하여 비밀누설죄를 범하면 그 행위자를 벌하는 외에 그 법인에는 6천만 원 이하의 벌금형을, 그 개인에게는 해당 조문의 벌금형을 과(科)한다. 다만, 법인 또는 개인이 그 위반행위를 방지하기 위하여 해당 업무에 관하여 상당한 주의와 감독을 게을리하지 아니한 경우에는 그러하지 아니하다.

19. 甲은 자신이 발명한 ‘발명 X’에 관하여 학술논문으로 공개 발표하였고, 얼마 되지 않아 乙도 독자적으로 ‘발명 X’를 발명하여 학술논문으로 공개 발표하였다. 그 후, 甲은 제1국 특허청에 ‘발명 X’에 관하여 특허출원하였다. 甲은 우리나라 특허청에 제1국에서의 출원을 근거로 조약우선권을 주장하면서 ‘발명 X’에 관하여 특허출원하였다(이하 ‘국내출원 A’). 이어서 甲은 자신이 학술논문에 발표한 ‘발명 X’에 대하여 공지에외의 적용과 ‘국내출원 A’를 기초로 국내우선권을 주장하면서 출원 하였다(이하 ‘국내출원 B’). 다음 설명에서 옳지 않은 것을 모두 고른 것은?

- ㄱ. 甲의 ‘국내출원 B’가 특허 등록된다면, 특허권은 ‘국내출원 A’의 출원일로부터 20년이 되는 날까지 존속한다.
- ㄴ. 甲이 공지에외의 적용을 받기 위한 증명서류의 제출은, ‘국내출원 A’의 출원일로부터 30일 이내에 하여야 한다.
- ㄷ. 甲은 공지에외 주장이 인정되더라도, ‘국내출원 B’의 ‘발명 X’에 대해서는 乙의 공개행위에 의하여 특허받지 못하게 된다.
- ㄹ. 甲의 ‘국내출원 A’는 제1국 출원일로부터 1년 3개월이 지난 시점에서 취하된 것으로 본다.

- ① ㄱ, ㄴ
- ② ㄴ, ㄷ
- ③ ㄷ, ㄹ
- ④ ㄱ, ㄴ, ㄹ
- ⑤ ㄴ, ㄷ, ㄹ

20. 실용신안권 및 침해에 관한 설명으로 옳지 않은 것은? (다툼이 있으면 판례에 따름)

- ① 등록고안의 청구범위에 기재된 구성요소 중 일부를 권리행사의 단계에서 등록고안에서 비교적 중요하지 않은 사항이라고 하여 무시하는 것은 사실상 청구범위의 확장적 변경을 사후에 인정하는 것이 되어 허용될 수 없다.
- ② 실용신안권 침해금지가처분에서 금지의 대상이 되는 침해행위는 구체적으로 특정되어야 하는바, 이러한 가처분의 효력은 특정된 침해행위에 대하여만 미칠 뿐 신청인이 피보전 권리로 주장한 실용신안권의 권리범위 또는 보호범위에까지 당연히 미치는 것은 아니다.
- ③ 등록고안과 대비되는 고안이 공지의 기술만으로 이루어진 경우라 하더라도 등록고안과 대비하여 등록고안의 권리범위에 속하는지 여부를 판단하고, 이 경우에 그 등록 내용과 동일·유사한 물품을 제작·판매한다면 실용신안권 침해죄를 구성할 수 있다.
- ④ 실용신안등록청구범위를 정정하는 것이 그 청구범위를 확장하거나 변경하는 경우에 해당하는지 여부를 판단함에 있어서는 청구범위 자체의 형식적인 기재만을 가지고 대비할 것이 아니라 고안의 상세한 설명을 포함하여 명세서 및 도면의 전체내용과 관련하여 실질적으로 대비하여 그 확장이나 변경에 해당하는지 여부를 판단하는 것이 합리적이다.
- ⑤ 실용신안권 침해죄는 7년 이하 징역 또는 1억원 이하 벌금에 처하고, 고소가 없으면 공소(公訴)를 제기할 수 없다.

**21. 사용에 의한 식별력을 취득한 상표에 관한 설명으로 옳지 않은 것은? (다툼이 있으면 판례에 따름)**

- ① 소리상표를 오랫동안 지속적으로 사용하여 사용에 의한 식별력을 취득하였더라도 법률상 가능성이 인정되는 경우 상표등록을 받을 수 없다.
- ② 상표법 제33조(상표등록의 요건) 제1항 제7호의 기타 식별력이 없는 상표에 해당하는 경우에도 사용에 의한 식별력을 취득하면 등록받을 수 있다.
- ③ 상표법 제34조(상표등록을 받을 수 없는 상표) 제1항 제7호의 적용에 있어 선출원 등록상표의 등록여부 결정시에는 식별력이 미약하였던 일부 구성부분이 타인의 후출원상표와 유사판단시 요부로 되기 위해서는 타인의 후출원상표의 출원시를 기준으로 사용에 의한 식별력을 취득하여야 한다.
- ④ 사용에 의한 식별력을 취득한 기술적 상표는 상표법 제90조(상표권의 효력이 미치지 아니하는 범위) 제1항 제2호에 의한 효력제한을 받지 아니한다.
- ⑤ 상표등록여부결정시를 기준으로 본질적으로 식별력이 없는 상표가 과오로 등록된 경우 등록 후의 사용에 의하여 식별력을 취득하더라도 무효로 될 수 있다.

**22. 상표법 제34조(상표등록을 받을 수 없는 상표) 제1항 제13호에 관한 설명으로 옳지 않은 것은? (다툼이 있으면 판례에 따름)**

- ① 본 호에 해당하려면 출원 당시에 선사용상표가 국내 또는 외국의 수요자들에게 특정인의 상품을 표시하는 것이라고 인식되어 있어야 하고, 출원인이 선사용상표와 동일 또는 유사한 상표를 부정한 목적을 가지고 사용하여야 한다.
- ② 본 호의 국내 또는 외국의 수요자들에게 특정인의 상품을 표시하는 것이라고 인식되어 있다는 것은 일반 수요자를 표준으로 하여 거래의 실정에 따라 인정되는 객관적인 상태를 말하는 것이다.
- ③ 본 호의 국내 또는 외국의 수요자들에게 특정인의 상품을 표시하는 것이라고 인식되기 위해서는 선사용상표에 관한 권리자의 명칭이 구체적으로 알려지는 것까지 필요한 것은 아니고, 권리자가 누구인지 알 수 없더라도 동일하고 일관된 출처로 인식될 수 있으면 충분하다.
- ④ 선사용상표가 양도된 경우 본 호의 국내 또는 외국의 수요자들에게 특정인의 상품을 표시하는 것이라고 인식되어 있는 상표로 인정되기 위해서는 선사용상표에 관한 주지성이 양수인에게 승계되었거나 양수인이 독자적으로 주지성을 획득해야 하며, 양도 전의 사용실적을 고려할 수는 없다.
- ⑤ 본 호의 국내 또는 외국의 수요자들에게 특정인의 상품을 표시하는 것이라고 인식되는지를 결정하기 위해 외국에서의 상표 및 그 사용상품에 대한 인식과 평가를 참작할 수 있다.

### 23. 상표권의 존속기간과 존속기간갱신등록에 관한 설명으로 옳지 않은 것은?

- ① 상표권의 존속기간은 설정등록이 있는 날부터 10년이지만 10년씩 갱신하여 영구적 독점이 가능하다.
- ② 존속기간갱신등록신청서는 상표권의 존속기간 만료 전 1년 이내에 제출하여야 한다. 다만, 이 기간에 존속기간갱신등록신청을 하지 아니한 자는 상표권의 존속기간이 끝난 후 6개월 이내에 할 수 있다.
- ③ 상표권이 공유인 경우 공유자는 단독으로 상표권 존속기간갱신등록신청을 할 수 있다.
- ④ 상표법 제84조(존속기간갱신등록신청) 제2항에 따른 기간에 존속기간갱신등록신청을 하면 상표권의 존속기간이 갱신된 것으로 보며, 존속기간갱신등록은 원등록(原登錄)의 효력이 끝나는 날의 다음 날부터 효력이 발생한다.
- ⑤ 존속기간갱신등록신청에 대해서는 실체심사를 하지 아니하므로 1상표 1출원(제38조), 절차의 보정(제39조) 등 상표등록출원의 심사에 따른 규정이 준용되지 아니한다.

### 24. 상표권 침해 쟁송절차 및 침해여부 판단에 관한 설명으로 옳지 않은 것은? (다툼이 있으면 판례에 따름)

- ① 후행 등록상표인 침해상표가 일반수요자에게 인식되어 있어 역혼동이 발생하는 경우에 침해상표에 대한 인식만을 근거로 하여서도 그 상표 사용자를 상대로 한 선행 등록상표의 상표권에 기초한 침해금지 또는 손해배상 등의 청구는 권리남용에 해당한다고 볼 수 있다.
- ② 상표권 침해소송에서 등록상표에 명백한 무효사유가 있어 그 상표권의 행사가 권리남용에 해당한다는 항변이 있는 경우 법원은 그 당부를 살피기 위한 전제로 무효여부에 대해 판단할 수 있으며 무효사유는 특별히 한정하지 않고 있다.
- ③ 상표법 제90조(상표권의 효력이 미치지 아니하는 범위) 제1항 제3호의 상표권의 효력이 제한되는 경우에 해당하는지 여부는 권리범위확인심판의 판단대상이 된다.
- ④ 타인의 등록상표가 표시된 일회용 필름용기의 재활용에 있어 그 용기에 새겨진 타인의 상표를 그대로 둔 채 필름만 대체해서 재판매한 경우 상표권은 소진되지 않으므로 상표권 침해가 성립된다.
- ⑤ 상표법 제99조(선사용에 따른 상표를 계속 사용할 권리)의 선사용권을 근거로 침해에 해당하지 않는다는 주장은 침해소송에서는 인정될 수 있으나 권리범위 확인심판에서는 인정될 수 없다.

## 25. 상표법상 표시에 관한 설명으로 옳지 않은 것은?

- ① 상표권자는 상표법 제98조(특허권 등의 존속기간 만료 후 상표를 사용하는 권리)에 따라 상표를 사용할 권리를 가진 자에게 그 자의 업무에 관한 상품과 자기의 업무에 관한 상품 간에 혼동을 방지하는 데 필요한 표시를 하도록 청구할 수 있다.
- ② 상표권자는 상표법 제99조(선사용에 따른 상표를 계속 사용할 권리) 제1항에 따라 상표를 사용할 권리를 가지는 자에게 그 자의 상품과 자기의 상품 간에 출처의 오인이나 혼동을 방지하는 데 필요한 표시를 할 것을 청구할 수 있다.
- ③ 상표법 제223조(동음이의어 지리적 표시 등록단체표장의 표시)에 따라 둘 이상의 지리적 표시 등록단체표장이 서로 동음이의어 지리적 표시에 해당하는 경우 각 단체표장권자와 그 소속 단체원은 지리적 출처에 대하여 수요자가 혼동하지 아니하도록 하는 표시를 등록단체표장과 함께 사용하여야 한다.
- ④ 상표법 제223조(동음이의어 지리적 표시 등록단체표장의 표시)를 위반한 자는 3년 이하의 징역 또는 3천만원 이하의 벌금에 처한다.
- ⑤ 누구든지 등록을 하지 아니한 상표 또는 상표등록출원을 하지 아니한 상표를 등록상표 또는 등록출원상표인 것같이 상품에 표시하는 행위를 해서는 아니 되며, 이를 위반 시 3년 이하의 징역 또는 3천만원 이하의 벌금에 처한다.

## 26. 상표법 제119조(상표등록의 취소심판) 제1항 제1호의 심판에 관한 설명으로 옳은 것은? (다툼이 있으면 판례에 따름)

- ① 혼동의 대상이 되는 타인의 상표(이하 '대상상표')가 저명한 경우 대상상표의 상품과 실사용 상표의 상품이 유사하지 않아도 경제적 견련관계가 있으면 본 호를 적용할 수 있다.
- ② 상표권이 이전되는 경우 양도인의 부정사용의 책임은 이전 후 양수인에게 승계되지 아니하므로 양수인이 스스로 부정사용을 하지 않는 한 본 호를 적용할 수 없다.
- ③ 대상상표가 식별력이 없는 표장인 경우 실사용 상표와 대상상표가 유사한 경우라면 출처혼동의 우려가 있으므로 본 호를 적용할 수 있다.
- ④ 본 호 규정은 타인의 선등록 상표의 신용에 부당편승을 방지하는 취지이므로 대상상표가 미등록 또는 후등록 상표인 경우에는 적용할 수 없다.
- ⑤ 본 호의 고의 요건 판단에 있어 대상상표가 주지·저명한 상표인 경우에는 그 대상 상표나 그 표장상품의 존재를 인식하지 못한 경우에도 고의의 존재가 추정된다.

27. 상표법상 저촉에 관한 설명으로 옳지 않은 것을 모두 고른 것은? (다툼이 있으면 판례에 따름)

- ㄱ. 상표권자는 저촉관계에 있는 타인의 등록상표를 확인대상표장으로 하여 권리대 권리간 적극적 권리범위확인심판을 청구할 수 있다.
- ㄴ. 상표등록출원일 전에 발생한 저작권과 상표권이 저촉되는 경우 부정경쟁의 목적이 없는 한 저작권자는 존속기간이 만료한 후에도 원 저작권의 범위 내에서 등록상표와 동일·유사한 표장을 계속하여 사용할 수 있다.
- ㄷ. 상표법은 저촉되는 지식재산권 상호 간에 선출원 또는 선발생 권리가 우선함을 기본원리로 하고 있고, 이러한 원리는 상표권 사이의 저촉관계에도 그대로 적용된다.
- ㄹ. 상표법에 따르면 출원일을 기준으로 저촉되는 상표 사이의 우선순위가 결정되며, 이에 위반하여 등록된 상표는 제척기간의 적용을 받는 등록무효심판의 대상이 된다.
- ㅁ. 후출원 등록상표를 무효로 하는 심결이 확정될 때까지는 후출원 등록상표권자가 자신의 상표권 실시행위로서 선출원 등록상표와 동일 또는 유사한 상표를 그 지정상품과 동일 또는 유사한 상품에 사용하는 것은 선출원 등록상표권에 대한 침해가 되지 않는다.

- ① ㄱ, ㄴ, ㄹ      ② ㄱ, ㄴ, ㅁ      ③ ㄱ, ㄷ, ㄹ      ④ ㄴ, ㄷ, ㅁ      ⑤ ㄷ, ㄹ, ㅁ

28. 마드리드 의정서에 따라 국제등록된 국제출원으로서 대한민국을 지정국으로 지정 (사후 지정을 포함한다)한 국제출원(이하 '국제상표등록출원'이라 한다)에 관한 설명으로 옳은 것은?

- ① 국내에서 영리를 목적으로 하지 아니하는 업무를 하는 자는 국제상표등록출원으로 자기의 업무표장을 등록받을 수 있다.
- ② 국제상표등록출원을 하려는 자가 상표의 부기적(附記的)인 부분을 삭제한 경우에는 상표등록출원의 요지를 변경한 것으로 볼 수 있다.
- ③ 국제상표등록출원을 하려는 자가 상표등록출원을 한 경우 증명표장등록출원으로 변경 할 수 있다.
- ④ 국제상표등록출원을 하려는 자가 둘 이상의 상품을 지정상품으로 하여 상표등록출원을 한 경우 일정 기간 내에 둘 이상의 상표등록출원으로 분할할 수 있다.
- ⑤ 국제상표등록출원을 하려는 자가 파리협약에 따른 우선권 주장을 한 경우에는 최초로 출원한 국가의 정부가 인정하는 상표등록출원의 연월일을 적은 서면, 상표 및 지정상품의 등본을 3개월 이내에 특허청장에게 제출하여야 한다.

29. 상표법상 상표가 동일 또는 동일성이 있는 경우뿐만 아니라 유사한 경우에도 적용 되는 것은?

- ① 출원 시의 특례(제47조)를 인정받기 위한 출원상표 판단 시.
- ② 조약우선권 주장(제46조)의 객체적 요건 충족 판단 시.
- ③ 불사용 취소심판(제119조 제1항 제3호)에서 등록상표의 사용으로 인정받기 위한 사용상표 판단 시.
- ④ 타인의 등록상표가 표시된 상품을 양도, 인도하기 위한 소지 행위가 '침해로 보는 행위'(제108조 제1항 제4호)에 해당하는 지 여부 판단 시.
- ⑤ 법정손해배상청구(제111조)가 인정되기 위한 침해영역에 관한 요건 판단 시.

30. 상표법상 기간에 관한 설명으로 옳은 것은?

- ① 상표등록을 받을 수 있는 자가 정부가 개최하는 박람회에 출품한 상품에 사용한 상표를 그 출품일 부터 12개월 이내에 그 상품을 지정상품으로 하여 상표등록출원을 한 경우에는 그 상표등록출원은 그 출품을 한 때에 출원한 것으로 본다.
- ② 출원공고가 있는 경우에는 누구든지 출원공고일부터 3개월 내에 거절이유 등에 해당한다는 것을 이유로 특허청장에게 이의신청을 할 수 있다.
- ③ 상표권자가 사망한 날부터 3년 이내에 상속인이 그 상표권의 이전등록을 하지 아니한 경우에는 상표권자가 사망한 날부터 3년이 되는 날의 다음날에 상표권이 소멸된다.
- ④ 상표법 제35조(선출원)에 해당하는 것을 사유로 하는 상표등록의 무효심판은 상표등록일로부터 3년이 지난 후에는 청구할 수 없다.
- ⑤ 심판에서 심판관의 제척 또는 기피의 원인은 신청한 날부터 30일 이내에 소명하여야 한다.



31. 디자인등록출원절차에 관한 설명으로 옳은 것을 모두 고른 것은?

- ㄱ. 특허심판원장은 청구에 따라 또는 직권으로 제69조에 따른 디자인일부 심사등록 이의신청 이유 등의 보정기간을 30일 이내에서 한 차례만 연장할 수 있으나, 교통이 불편한 지역에 있는 자의 경우에는 산업통상자원부령으로 정하는 바에 따라 그 횟수 및 기간을 추가로 연장할 수 있다.
- ㄴ. 특허청장 또는 특허심판원장은 제47조(절차의 보정)에 따른 보정명령을 받은 자가 지정된 기간 내에 그 보정을 하지 아니하면 디자인에 관한 절차를 무효로 할 수 있다.
- ㄷ. 당사자의 사망으로 특허청 또는 특허심판원에 계속 중인 디자인에 관한 절차가 중단된 경우 상속인은 상속을 포기할 수 있는 동안에는 그 절차를 수계(受繼)하지 못한다.
- ㄹ. 당사자에게 특허청 또는 특허심판원에 계속 중인 절차를 속행할 수 없는 장애사유가 발생하여 특허청장 또는 심판관이 결정으로 장애사유가 해소될 때까지 그 절차의 중지를 명한 경우 그 결정을 취소할 수 없다.

- ① ㄱ, ㄴ                    ② ㄴ, ㄷ                    ③ ㄱ, ㄴ, ㄷ                    ④ ㄱ, ㄷ, ㄹ                    ⑤ ㄴ, ㄷ, ㄹ

32. 부분디자인에 관한 설명으로 옳지 않은 것은?

- ① 부분디자인에서 ‘부분’이란 다른 디자인과 대비의 대상이 될 수 있는 하나의 창작단위로 인정되는 것이므로 창작단위로 인정되는 부분을 구비하지 못한 경우에는 디자인의 정의에 합치되지 않는 것으로 본다.
- ② ‘화상의 부분’은 화상디자인의 부분디자인으로 등록될 수 있다.
- ③ 한 벌의 물품의 디자인은 2 이상의 물품이 한 벌의 물품으로 동시에 사용되는 경우이므로 ‘한 벌의 물품의 부분’은 부분디자인으로 등록될 수 없다.
- ④ 부분디자인으로 등록받으려는 부분이 아닌 부분을 보정하여도 등록받으려는 부분의 위치, 크기, 범위가 변경되지 않는다면 디자인등록출원의 요지변경에 해당하지 않는다.
- ⑤ 부분디자인에 관한 디자인등록출원이 있기 전에 그 부분디자인과 동일 또는 유사한 부분을 포함하는 전체디자인 또는 부분디자인이 전기통신회선을 통하여 공중이 이용 할 수 있게 된 경우 그 부분디자인의 출원은 신규성을 상실한다.

### 33. 디자인보호법상 물품에 관한 설명으로 옳지 않은 것은? (다툼이 있으면 판례에 따름)

- ① 디자인의 동일·유사 여부 판단에서 디자인보호법 시행규칙 소정의 물품 구분표는 디자인 등록 사무의 편의를 위한 것이 아니라 동종의 물품을 법정한 것이므로 용도와 기능이 상이하고 양 물품의 형상, 모양, 색채 또는 그 결합이 유사하고 서로 섞여서 사용할 수 있는 경우에도 비유사물품으로 보아야 한다.
- ② 물품이 디자인등록의 대상이 되기 위해서는 통상의 상태에서 독립된 거래의 대상이 되어야 하고, 그것이 부품인 경우에는 다시 호환성을 가져야 하나, 이는 반드시 실제 거래사회에서 현실적으로 거래되고 다른 물품과 호환될 것을 요하는 것은 아니고, 그러한 독립된 거래의 대상 및 호환의 가능성만 있으면 디자인등록의 대상이 된다.
- ③ 디자인은 원칙적으로 물품을 떠나서는 존재할 수 없고 물품과 일체불가분의 관계에 있으므로 디자인이 동일·유사하다고 하려면 디자인이 표현된 물품이 동일·유사하여야 하고, 물품의 동일·유사성 여부는 물품의 용도, 기능 등에 비추어 거래 통념상 동일·유사한 물품으로 인정할 수 있는지 여부에 따라 결정하여야 한다.
- ④ 하나의 물품 중 물리적으로 떨어져 있는 둘 이상의 부분에 관한 디자인이 그들 사이에 형태적으로나 기능적으로 일체성이 있어서 보는 사람으로 하여금 그 전체가 일체로서 시각을 통한 미감을 일으키게 하는 경우 그 등록출원은 '1디자인'에 위배되지 않는다.
- ⑤ 디자인의 구성 중 물품의 기능을 확보할 수 있는 선택 가능한 대체 형상이 존재하는 경우에는 물품의 기능을 확보하는 데에 불가결한 형상이 아니므로, 이 경우 단순히 기능과 관련된 형상이라는 이유만으로 디자인의 유사 여부 판단에 있어서 그 중요도를 낮게 평가하여서는 아니 된다.

### 34. 한 별의 물품의 디자인에 관한 설명으로 옳지 않은 것은?

- ① 한 별의 물품의 각 구성물품이 서로 결합하여 하나의 통일된 형상·모양 또는 관념을 표현하는 경우에는 구성물품이 조합된 상태의 1조의 도면과 각 구성물품에 대한 1조 씩의 도면을 제출하여야 한다.
- ② 2 이상의 물품이 한 별의 물품으로 동시에 사용되는 경우 그 한 별의 물품의 디자인이 한 별 전체로서 통일성이 있을 때에는 1디자인으로 디자인등록을 받을 수 있다. 이 경우 한 별의 물품의 구분은 산업통상자원부령으로 정한다.
- ③ 2 이상의 물품(동종의 물품 포함)이 한 별로 동시에 사용된다는 의미는 관념적으로 하나의 사용이 다른 것의 사용을 예상하게 하거나, 상거래 관행상 동시에 사용하는 것으로 인정되는 것을 말한다.
- ④ 한 별의 물품의 디자인 도면을 제출하는 경우 각 구성물품의 하나의 디자인은 도면이나 3D 모델링 도면으로 표현할 수 있다.
- ⑤ 구성물품 외의 물품이 포함된 경우에는 한 별의 물품으로 정해진 물품과 동시에 사용되어야 상당한 한 별의 물품으로 보기 때문에 '한 별의 태권도복 세트'와 같은 전문운 동복 세트의 구성물품에는 보호장구도 포함된다.

**35. 디자인보호법 제33조(디자인등록의 요건) 제2항 ‘창작비용이성’에 관한 설명으로 옳지 않은 것은? (다툼이 있으면 판례에 따름)**

- ① 디자인 분야에서 흔한 창작수법이나 표현방법에 의해 변경·조합하거나 전용하였음에 불과한 디자인 등과 같이 창작수준이 낮은 디자인은 그 디자인이 속하는 분야에서 통상의 지식을 가진 자가 용이하게 창작할 수 있는 것이어서 디자인등록을 받을 수 없다.
- ② 디자인보호법 제33조 제2항에 따라 등록을 받을 수 없는 디자인에는 그 디자인이 속하는 분야에서 통상의 지식을 가진 자가 제1항 제1호 또는 제2호에 해당하는 디자인 각각에 의하여 용이하게 창작할 수 있는 디자인은 포함되나 각 호의 디자인의 결합에 의하여 용이하게 창작할 수 있는 디자인은 포함되지 않는다.
- ③ 공지디자인의 형상·모양·색채 또는 이들의 결합이나 국내에서 널리 알려진 형상, 모양, 색채 또는 이들의 결합을 거의 그대로 모방 또는 전용하였거나, 이를 부분적으로 변형하였다고 하더라도 전체적으로 볼 때 다른 미감적 가치가 인정되지 않는 상업적·기능적 변형에 불과한 디자인은 디자인등록을 받을 수 없다.
- ④ 공지형태나 주지형태를 서로 결합하거나 결합된 형태를 변형·변경 또는 전용한 경우 디자인의 창작수준을 판단할 때는 공지디자인의 대상 물품이나 주지형태의 알려진 분야, 공지디자인이나 주지형태의 외관적 특징들의 관련성, 해당 디자인 분야의 일반적 경향 등에 비추어 통상의 디자이너가 용이하게 그와 같은 결합에 이를 수 있는지를 함께 살펴보아야 한다.
- ⑤ 등록디자인과 대비되는 디자인이 등록디자인의 출원 전에 그 디자인이 속하는 분야에서 통상의 지식을 가진 자가 공지디자인 또는 이들의 결합에 따라 쉽게 실시할 수 있는 것인 때에는 등록디자인과 대비할 것도 없이 그 등록디자인의 권리범위에 속하지 않는다.

**36. 디자인일부심사등록 이의신청에 관한 설명으로 옳지 않은 것은?**

- ① 디자인일부심사등록 이의신청에 관한 심사를 할 때에는 이의신청인이 신청하지 아니한 등록디자인에 관하여는 심사할 수 없다.
- ② 심사장은 디자인일부심사등록 이의신청이 있을 때에는 디자인일부심사등록 이의신청서 부분을 디자인일부심사등록 이의신청의 대상이 된 등록디자인의 디자인권자에게 송달하고 기간을 정하여 답변서를 제출할 기회를 주어야 한다.
- ③ 디자인일부심사등록 이의신청은 의견진술의 통지 또는 결정등본이 송달된 후에 취하 할 수 있으며, 이 경우 그 이의신청은 처음부터 없었던 것으로 본다.
- ④ 이의신청인은 디자인일부심사등록 이의신청을 한 날부터 30일 이내에 디자인일부심사 등록 이의신청서에 적은 이유 또는 증거를 보정할 수 있다.
- ⑤ 심사관합의체는 디자인일부심사등록 이의신청이 이유 없다고 인정될 때에는 그 이의 신청을 기각한다는 취지의 결정을 하여야 한다. 디자인일부심사등록 이의신청기각결정에 대하여는 불복할 수 없다.

**37. 디자인보호법상 실시권에 관한 설명으로 옳지 않은 것은?**

- ① 전용실시권자는 실시사업(實施事業)과 같이 이전하는 경우 또는 상속이나 그 밖의 일반승계의 경우를 제외하고는 디자인권자의 동의를 받지 아니하면 그 전용실시권을 이전할 수 없다.
- ② 기본디자인의 디자인권이 취소, 포기 또는 무효심결 등으로 소멸한 경우 그 기본 디자인에 관한 2 이상의 관련디자인의 전용실시권을 설정하려면 같은 자에게 함께 설정하여야 한다.
- ③ 디자인권이 공유인 경우에는 각 공유자는 계약으로 특별히 약정한 경우를 제외하고는 다른 공유자의 동의를 받지 아니하면 그 등록디자인 또는 이와 유사한 디자인을 단독으로 실시할 수 없다.
- ④ 통상실시권을 등록한 경우에는 그 등록 후에 디자인권 또는 전용실시권을 취득한 자에 대하여도 그 효력이 발생한다.
- ⑤ 제100조(선사용에 따른 통상실시권)에 따른 선사용에 의한 통상실시권은 등록이 없더라도 디자인권 또는 전용실시권을 취득한 자에 대하여 그 효력이 발생한다.

**38. 디자인보호법상 심판에 관한 설명으로 옳은 것은? (다툼이 있으면 판례에 따름)**

- ① 특허법과는 달리 디자인보호법에는 정정심판제도가 존재하지 않는다.
- ② 디자인권 또는 디자인등록을 받을 수 있는 권리의 공유자가 그 공유인 권리에 관하여 심판을 청구할 때에는 각자 또는 모두가 공동으로 심판을 청구할 수 있다.
- ③ 하나의 디자인등록출원에 물품류 구분 중 2 이상의 물품 또는 2 이상의 물품의 부분에 대하여 디자인이 등록된 경우에는 무효심판의 대상이 된다.
- ④ 심판장은 심리종결을 통지한 후에도 당사자 또는 참가인의 신청에 의하여 심리를 재개할 수 있으나 직권으로는 심리를 재개할 수 없다.
- ⑤ 디자인권자는 디자인권이 소멸된 후에도 심판청구의 이익이 있는 경우에는 권리범위 확인심판을 청구할 수 있다.

**39. 복수디자인에 관한 설명으로 옳지 않은 것은?**

- ① 복수디자인등록출원을 한 자는 디자인등록출원의 일부를 1 이상의 새로운 디자인등록출원으로 분할하여 출원할 수 있다.
- ② 심사관은 복수디자인등록출원된 디자인 중 일부 디자인에 대하여 거절이유를 발견할 수 없을 때에는 그 일부 디자인에 대하여 디자인등록결정을 하여야 한다.
- ③ 제68조(디자인일부심사등록 이의신청)에 따른 디자인일부심사등록 이의신청을 하는 경우 복수 디자인등록출원된 디자인등록에 대하여는 각 디자인마다 이의신청을 하여야 한다.
- ④ 심사관은 복수디자인등록출원된 디자인등록이 조약에 위반되어 무효심판을 청구하는 경우에는 각 디자인마다 청구하여야 한다.
- ⑤ 특허청장의 보완명령에 따라 지정기간 내에 복수디자인등록출원된 디자인 중 일부 디자인에 대해 절차보완서를 제출한 경우에는 최초로 복수디자인등록출원을 한 때를 복수디자인 전체의 출원일로 본다.

**40. 디자인보호법상 도면에 관한 설명으로 옳지 않은 것은?**

- ① 디자인등록출원인은 최초의 디자인등록출원의 요지를 변경하지 아니하는 범위에서 디자인등록출원서의 기재사항, 디자인등록출원서에 첨부한 도면, 도면의 기재사항이나 사진 또는 견본을 보정할 수 있다.
- ② 등록디자인의 보호범위는 디자인등록출원서의 기재사항 및 그 출원서에 첨부된 도면·사진 또는 견본과 도면에 적힌 디자인의 설명에 따라 표현된 디자인에 의하여 정하여진다.
- ③ 특허청을 통한 국제출원을 하려는 자가 헤이그협정 제5조(5)에 따른 공개연기신청을 하려는 경우에는 국제출원서에 도면을 대신하여 산업통상자원부령으로 정하는 바에 따른 견본을 첨부할 수 있다.
- ④ 심사관은 디자인등록결정을 할 때에 디자인등록출원서 또는 도면에 적힌 사항이 명백히 잘못된 경우에는 직권으로 보정을 하여야 한다. 이 경우 디자인등록결정 등본의 송달과 함께 그 직권보정 사항을 디자인등록출원인에게 알려야 한다.
- ⑤ 디자인권의 권리범위 확인심판을 청구할 때에는 등록디자인과 대비할 수 있는 도면을 첨부하여야 한다.

02  
2022

제59회 변리사 1차 국가자격시험  
[2교시] 민법개론

**1. 신의성실의 원칙에 관한 설명으로 옳지 않은 것은? (다툼이 있으면 판례에 따름)**

- ① 채권자가 유효하게 성립한 계약에 따른 급부의 이행을 청구하는 때에 법원이 급부의 일부를 감축하는 것은 원칙적으로 허용되지 않는다.
- ② 아파트 분양자는 아파트단지 인근에 공동묘지가 조성되어 있는 사실을 분양계약자에게 고지할 신의칙상의 의무를 부담한다.
- ③ 경제상황의 변동으로 당사자에게 손해가 생기더라도 합리적인 사람의 입장에서 사정변경을 예견할 수 있었다면 사정변경을 이유로 계약을 해제할 수 없다.
- ④ 법령에 위반되어 무효임을 알면서도 법률행위를 한 자가 강행법규 위반을 이유로 그 무효를 주장하는 것은 신의칙에 반한다.
- ⑤ 취득시효완성 사실을 모르고 해당 토지에 관하여 어떠한 권리도 주장하지 않기로 약속한 후, 이에 반하여 취득시효주장을 하는 것은 특별한 사정이 없는 한 신의칙상 허용되지 않는다.

**2. 성년인 甲은 질병으로 인한 정신적 제약으로 사무를 처리할 능력이 부족한 상태이다. 이에 관한 설명으로 옳지 않은 것은? (다툼이 있으면 판례에 따름)**

- ① 甲은 스스로 한정후견개시의 심판을 청구할 수 있다.
- ② 가정법원은 甲에 대한 한정후견개시의 심판을 할 때 甲의 의사를 고려해야 한다.
- ③ 甲의 배우자가 甲에 대한 성년후견개시의 심판을 청구한 경우에도 가정법원은 필요하다면 한정후견개시의 심판을 할 수 있다.
- ④ 가정법원은 甲에 대한 한정후견개시의 심판을 할 때 취소할 수 없는 甲의 법률행위의 범위를 정할 수 있다.
- ⑤ 甲에 대한 한정후견개시의 심판이 있는 후 한정후견개시의 원인이 소멸된 경우, 甲은 한정후견종료의 심판을 청구할 수 있다.

**3. 법인의 기관에 관한 설명으로 옳은 것은? (다툼이 있으면 판례에 따름)**

- ① 재단법인은 이사를 둘 필요가 없다.
- ② 대표권 있는 이사가 다른 이사의 정당한 이사회 소집을 거절하는 경우, 법원이 이사회 소집을 허가할 수 있다.
- ③ 이사가 수인인 경우 정관에 다른 규정이 없으면 법인의 사무에 관하여 이사의 과반수로서 법인을 대표한다.
- ④ 법인과 이사의 법률관계는 신뢰를 기초로 한 고용 유사의 관계이다.
- ⑤ 재단법인은 정관의 규정에 따라 감사를 둘 수 있다.

**4. 민법 제35조(법인의 불법행위능력)에 관한 설명으로 옳지 않은 것은? (다툼이 있으면 판례에 따름)**

- ① 대표권이 없는 이사의 행위로 인하여는 법인의 불법행위가 성립하지 않는다.
- ② 법인의 불법행위능력은 사단법인뿐만 아니라 재단법인에 대하여도 적용된다.
- ③ 민법 제35조 제1항의 규정은 법인 아닌 사단에 유추적용된다.
- ④ 대표자의 행위가 법령의 규정에 위배된 것이라도 외관상, 객관적으로 직무에 관한 행위라고 인정될 수 있는 것이라면 민법 제35조 제1항의 직무에 관한 행위에 해당한다.
- ⑤ 대표자의 행위가 직무에 관한 행위에 해당하지 아니함을 피해자가 알았던 경우에도 법인의 불법행위책임이 인정된다.

**5. 법률행위의 조건에 관한 설명으로 옳은 것은? (다툼이 있으면 판례에 따름)**

- ① 조건이 선량한 풍속 기타 사회질서에 위반한 것인 때에는 조건 없는 법률행위로 한다.
- ② 조건의 성취가 미정한 권리의무는 이를 처분할 수 없다.
- ③ 조건을 붙이는 것이 허용되지 아니하는 법률행위에 조건을 붙인 경우 조건 없는 법률행위로 한다.
- ④ 정지조건부 채권양도에 있어서 조건이 성취되었다는 사실은 채권양도의 효력을 주장하는 자에게 그 증명책임이 있다.
- ⑤ 주택건설을 위한 토지매매계약의 당사자가 건축허가 신청이 불허되었을 때에는 이를 무효로 한다는 약정을 한 경우 이는 정지조건부계약이다.

**6. 소멸시효에 관한 설명으로 옳지 않은 것은? (다툼이 있으면 판례에 따름)**

- ① 부동산의 매수인이 목적 부동산을 인도받아 계속 점유하는 경우, 그 매매로 인한 매수인의 소유권 이전등기청구권의 소멸시효는 진행하지 않는다.
- ② 신축 중인 건물에 관한 소유권이전등기청구권의 소멸시효는 그 건물이 완공되지 아니한 동안에는 진행하지 않는다.
- ③ 부작위를 목적으로 하는 채권의 소멸시효는 위반행위를 한 때로부터 진행한다.
- ④ 단기의 소멸시효에 해당하는 주채무의 소멸시효기간이 확정판결에 의하여 10년으로 연장되면 보증채무의 소멸시효기간도 10년으로 연장된다.
- ⑤ 소멸시효의 중단을 위한 승인은 묵시적인 방법으로도 할 수 있다.



7. 물건에 관한 설명으로 옳지 않은 것은? (다툼이 있으면 판례에 따름)

- ① 토지의 정착물은 부동산이다.
- ② 일정한 토지가 지적공부에 1필의 토지로 등록된 경우, 그 토지의 지적 및 경계는 일응 그 등록으로써 특정된다.
- ③ 건물의 경계는 사회통념상 독립한 건물로 인정되는 건물 사이의 현실적 경계에 의하여 특정된다.
- ④ 주물 그 자체의 효용과 직접 관계가 없는 물건이라도 주물 소유자의 사용에 공여되고 있으면 종물에 해당한다.
- ⑤ 특별한 사정이 없는 한 법정과실은 수취할 권리의 존속기간일수의 비율로 취득한다.

8. 반사회적 법률행위에 해당하지 않는 것을 모두 고른 것은? (다툼이 있으면 판례에 따름)

ㄱ. 강제집행을 면할 목적으로 부동산에 허위의 근저당권설정등기를 경료하는 행위.  
 ㄴ. 오로지 보험사고를 가장하여 보험금을 취득할 목적으로 생명보험계약을 체결하는 행위.  
 ㄷ. 매도인의 배임행위에 제2매수인이 적극 가담하여 행해진 부동산이중매매.  
 ㄹ. 도박자금에 제공할 목적으로 금전을 대차하는 행위.

- ① ㄱ
- ② ㄹ
- ③ ㄱ, ㄴ
- ④ ㄴ, ㄷ
- ⑤ ㄷ, ㄹ

9. 허위표시의 무효로 대항할 수 없는 선의의 제3자에 관한 설명으로 옳은 것은? (다툼이 있으면 판례에 따름)

- ① 파산관재인은 파산채권자 모두가 악의가 아닌 한 선의의 제3자이다.
- ② 가장근저당권설정계약이 유효하다고 믿고 그 피담보채권을 가압류한 자는 선의의 제3자로 보호될 수 없다.
- ③ 가장소비대차의 계약상 지위를 선의로 이전받은 자는 선의의 제3자로 보호될 수 있다.
- ④ 악의의 제3자로부터 선의로 전득한 자는 선의의 제3자로 보호받지 못한다.
- ⑤ 선의의 제3자로 보호받기 위해서는 선의뿐만 아니라 무과실도 인정되어야 한다.

10. 사기·강박에 의한 의사표시에 관한 설명으로 옳지 않은 것은? (다툼이 있으면 판례에 따름)

- ① 아파트 분양자가 아파트 인근에 쓰레기매립장이 건설될 예정이라는 사실을 분양 계약자에게 고지하지 않는 것은 기망행위에 해당한다.
- ② 신의칙에 반하여 정상가격을 높이 책정한 후 할인하여 원래 가격으로 판매하는 백화점 변칙세일은 기망행위에 해당한다.
- ③ 강박행위의 주체가 국가 공권력이고 그 공권력 행사의 내용이 기본권을 침해하는 것이면 그 강박에 의한 의사표시는 당연히 무효가 된다.
- ④ 부정한 이익을 목적으로 부정행위에 대한 고소, 고발이 행해지는 경우에는 강박행위가 될 수 있다.
- ⑤ 제3자에 의한 사기행위로 계약을 체결한 경우, 피해자는 그 계약을 취소하지 않아도 제3자에게 불법행위로 인한 손해배상을 청구할 수 있다.

11. 법률행위의 무효와 취소에 관한 설명으로 옳지 않은 것은? (다툼이 있으면 판례에 따름)

- ① 법률행위가 무효임을 알고 이를 추인한 때에는 원칙적으로 소급하여 유효가 된다.
- ② 불공정한 법률행위에도 무효행위 전환의 법리가 적용될 수 있다.
- ③ 법률행위의 일부가 무효인 경우, 그 무효부분이 없더라도 법률행위를 하였을 것으로 인정되는 때에는 나머지 부분은 무효가 되지 않는다.
- ④ 취소할 수 있는 법률행위의 상대방이 확정되어 있는 경우에는 그 취소는 그 상대방에 대한 의사표시로 하여야 한다.
- ⑤ 강박에 의한 의사표시는 법률행위를 한 날로부터 10년이 경과하면 취소하지 못한다.

12. 법정대리인을 모두 고른 것은?

ㄱ. 성년후견인	ㄴ. 법원이 선임한 부재자재산관리인
ㄷ. 친권자	ㄹ. 배우자

- ① ㄱ, ㄹ
- ② ㄴ, ㄷ
- ③ ㄱ, ㄴ, ㄷ
- ④ ㄴ, ㄷ, ㄹ
- ⑤ ㄱ, ㄴ, ㄷ, ㄹ

13. 甲은 자신 소유의 X건물에 대하여 乙과 전세금을 1억 원으로 하는 전세권설정계약을 체결하고 乙명의 전세권설정등기를 마쳐 주었다. 이에 관한 설명으로 옳은 것은? (다툼이 있으면 판례에 따름)

- ① 甲이 X건물의 소유를 목적으로 한 지상권을 가지고 있던 경우, 그 지상권에는 乙의 전세권의 효력이 미치지 않는다.
- ② X건물의 대지도 甲의 소유인 경우, 대지소유권의 특별승계인 丙은 乙에 대하여 지상권을 설정한 것으로 본다.
- ③ 乙은 전세권 존속 중에 원칙적으로 甲의 동의 없이는 자신의 전세권을 제3자에게 양도할 수 없다.
- ④ 甲이 전세권 존속 중 X건물의 소유권을 丁에게 양도한 경우, 특별한 사정이 없는 한 乙에 대한 전세금반환의무는 丁이 부담한다.
- ⑤ 甲에게 X건물의 소유를 위한 토지사용권이 없어 토지소유자가 X건물의 철거를 청구하는 경우, 乙은 자신의 전세권으로 그 철거청구에 대항할 수 있다.

14. 민사유치권에 관한 설명으로 옳은 것은? (다툼이 있으면 판례에 따름)

- ① 채무자가 자신의 소유물을 직접점유하고 채권자가 이를 통해 간접점유하는 방법으로는 유치권이 성립하지 않는다.
- ② 부동산 매도인이 매매대금을 다 지급받지 못하고 매수인에게 부동산 소유권을 이전해 준 경우, 특별한 사정이 없는 한 매도인은 매매대금채권을 피담보채권으로 하여 자신이 점유하는 부동산의 유치권을 주장할 수 있다.
- ③ 유치물이 분할가능한 경우, 유치권자가 피담보채권의 일부를 변제받았다면 유치물 전부에 대하여 유치권을 행사할 수 없다.
- ④ 임차인이 임대인에 대하여 권리금반환청구권을 가지는 경우, 이를 피담보채권으로 하여 임차목적물에 대한 유치권을 행사할 수 있다.
- ⑤ 유치권배제특약이 있는 경우, 유치권이 발생하지 않으나 이는 유치권배제특약을 한 당사자 사이에서만 주장할 수 있다.

15. 甲은 乙 소유의 X주택에 관한 공사대금채권을 가진 자로서 그 주택에 거주하며 점유·사용하고 있다. 이에 관한 설명으로 옳은 것을 모두 고른 것은? (각 지문은 독립적이며, 다툼이 있으면 판례에 따름)

- ㄱ. X주택의 존재와 점유가 대지소유권자에게 불법행위가 되는 경우에도 X주택에 대한 甲의 유치권이 인정되면 甲은 자신의 유치권으로 대지소유 권자에게 대항할 수 있다.
- ㄴ. X주택에 경매개시결정의 기입등기가 경료되어 압류의 효력이 발생한 후 甲이 X주택의 점유를 乙로부터 이전받은 경우, 甲은 그 경매절차의 매수인에게 유치권을 주장할 수 없다.
- ㄷ. 甲이 X주택을 자신의 유치권 행사로 점유·사용하더라도, 이를 이유로는 甲의 乙에 대한 공사대금채권의 소멸시효가 중단되지 않는다.
- ㄹ. 甲이 자신의 유치권에 기하여 X주택에 거주하던 중 乙의 허락없이 X주택을 제3자에게 임대하고 임차보증금을 수령하였다면, 甲은 乙에 대하여 임차보증금 상당액을 부당이득으로 반환하여야 한다.

- ① ㄱ, ㄴ                    ② ㄴ, ㄷ                    ③ ㄷ, ㄹ                    ④ ㄱ, ㄷ, ㄹ                    ⑤ ㄴ, ㄷ, ㄹ

16. 질권에 관한 설명으로 옳은 것은? (다툼이 있으면 판례에 따름)

- ① 질권설정을 위한 인도는 현실의 인도에 한하지 않고 점유개정의 방법에 의하더라도 무방하다.
- ② 질권은 다른 약정이 없는 한 피담보채권의 원본, 이자, 위약금, 질권실행의 비용 뿐 아니라 질물보존의 비용 및 채무불이행 또는 질물의 하자로 인한 손해배상채권도 담보한다.
- ③ 담보가 없는 채권에 질권을 설정한 다음 그 채권을 담보하기 위해 저당권이 설정된 경우, 저당권 등기에 질권의 부기등기 없이도 저당권의 부종성으로 인해 질권의 효력은 저당권에 미친다.
- ④ 채권질권 설정 후 채권질권설정자인 채권자가 질권자의 동의 없이 입질채권의 채무자와 상계합의를 하였다면 질권자는 그 입질채권의 채무자에게 자신의 질권을 주장할 수 없다.
- ⑤ 질권의 목적인 채권의 양도행위는 질권자의 이익을 해하는 변경에 해당하므로 그 양도에는 질권자의 동의를 요한다.

**17. 전세권에 관한 설명으로 옳지 않은 것은? (다툼이 있으면 판례에 따름)**

- ① 전세권은 1필의 토지 중 일부에 대해서도 설정할 수 있다.
- ② 전세권 존속기간이 시작되기 전에 마친 전세권설정등기는 특별한 사정이 없는 한 무효로 추정된다.
- ③ 전세금이 현실적으로 수수되지 않은 경우에도 기존의 채권으로 전세금의 지급에 갈음할 수 있다.
- ④ 전세권 존속기간 만료의 경우, 합의에 의하여 전세권설정계약을 갱신할 수 있으나 그 기간은 갱신한 날로부터 10년을 넘을 수 없다.
- ⑤ 전세권설정계약의 당사자가 전세권의 존속기간을 약정하지 않은 경우, 각 당사자는 언제든지 상대방에 대하여 전세권의 소멸을 통고할 수 있다.

**18. 근저당권에 관한 설명으로 옳은 것은? (다툼이 있으면 판례에 따름)**

- ① 근저당권의 물상보증인은 확정된 채무액이 채권최고액을 초과하더라도 특별한 사정이 없는 한 채권최고액만을 변제하고 근저당권설정등기의 말소청구를 할 수 있다.
- ② 근저당권에 존속기간이나 결산기의 정함이 없는 경우, 근저당권설정자는 근저당권자에 대한 해지의 의사표시로써 피담보채권을 확정시킬 수 없다.
- ③ 후순위 근저당권자가 경매를 신청한 경우, 선순위 근저당권의 피담보채권은 후순위 근저당권자의 경매신청 시에 확정된다.
- ④ 근저당권의 피담보채권 확정 전에 발생한 원본채권에 관하여 확정 후에 발생하는 이자나 지연손해금 채권은 채권최고액의 범위 내일지라도 근저당권에 의하여 담보되지 않는다.
- ⑤ 근저당권의 피담보채권이 확정되기 전에 채권의 일부가 대위변제된 경우, 근저당권의 일부이전의 부기등기 여부와 관계없이 근저당권은 대위변제자에게 법률상 당연히 이전된다.

19. 甲 소유의 X토지에 관하여 甲과 乙, 乙과 丙 사이에 순차로 매매계약이 체결되었다. 甲, 乙, 丙은 이행의 편의상 X토지에 관하여 乙명의의 소유권이전등기를 생략하고, 바로 甲으로부터 丙명으로 소유권이전등기를 경료하여 주기로 합의하였다. 이에 관한 설명으로 옳은 것을 모두 고른 것은? (각 지문은 독립적이며, 다툼이 있으면 판례에 따름)

- ㄱ. 위 합의에도 불구하고 乙은 甲에 대해 X토지에 관한 소유권이전등기청구권을 행사할 수 있다.
- ㄴ. 위 합의 이후 甲과 乙 사이에 매매대금을 인상하는 약정이 체결된 경우, 甲은 乙이 인상된 매매대금을 지급하지 않았음을 이유로 丙명의로의 소유권이전 등기의무의 이행을 거절할 수 있다.
- ㄷ. 만일 X토지가 토지거래허가구역 내의 토지로서 관할 관청의 허가 없이 전전매매된 것이라면, 丙은 甲에 대하여 직접 표토지에 관한 토지거래허가 신청절차의 협력의무 이행청구권이 있다.

- ① ㄱ                      ② ㄷ                      ③ ㄱ, ㄴ                      ④ ㄴ, ㄷ                      ⑤ ㄱ, ㄴ, ㄷ

20. 물권적 청구권에 관한 설명으로 옳지 않은 것은? (다툼이 있으면 판례에 따름)

- ① 미등기 무허가건물의 양수인은 미등기인 상태에서 소유권에 기한 방해제거청구를 할 수 없다.
- ② 소유권에 기한 소유물반환청구를 거부할 수 있는 권리에는 임차권 등과 같이 점유를 수반하는 채권도 포함된다.
- ③ 특별한 사정이 없는 한 합의해제에 따른 부동산 매도인의 원상회복청구권은 소유권에 기한 물권적 청구권으로서 소멸시효의 대상이 되지 않는다.
- ④ 소유자가 제3자에게 그 소유 물건에 대한 처분권한을 유효하게 수여하면 제3자의 처분이 없더라도 소유자는 그 제3자 이외의 자에 대해 소유권에 기한 물권적 청구권을 행사할 수 없다.
- ⑤ 공유자는 자신의 지분권 행사를 방해하는 행위에 대해서 지분권에 기한 방해배제청구권을 행사할 수 있다.

21. 분묘기지권에 관한 설명으로 옳은 것을 모두 고른 것은? (다툼이 있으면 판례에 따름)

- ㄱ. 시효로 분묘기지권을 취득한 사람은 토지소유자가 분묘기지에 관한 지료를 청구하면 그 청구한 날부터의 지료를 지급할 의무가 있다.
- ㄴ. 자기 소유 토지에 분묘를 설치한 사람이 그 토지를 양도하면서 분묘를 이장하겠다는 특약을 하지 않음으로써 분묘기지권을 취득한 경우, 특별한 사정이 없는 한 분묘기지권자는 분묘기지권이 성립한 때부터 토지 소유자에게 지료를 지급할 의무가 있다.
- ㄷ. 자기 소유의 토지 위에 분묘를 설치한 후 토지의 소유권이 경매 등으로 타인에게 이전되면서 분묘기지권을 취득한 자가, 판결에 따라 분묘기지권에 관한 지료의 액수가 정해졌음에도 판결확정 후 책임 있는 사유로 상당한 기간 동안 지료의 지급을 지체하여 지체된 지료가 판결확정 전 후에 걸쳐 2년분 이상이 되는 경우에는 새로운 토지소유자는 분묘기지 권자에 대하여 분묘기지권의 소멸을 청구할 수 있다.

- ① ㄱ                      ② ㄴ                      ③ ㄱ, ㄴ                      ④ ㄴ, ㄷ                      ⑤ ㄱ, ㄴ, ㄷ

22. 공유에 관한 설명으로 옳지 않은 것은? (다툼이 있으면 판례에 따름)

- ① 공유물분할청구권은 공유관계에 수반되는 형성권으로서 채권자대위권의 목적이 될 수 있다.
- ② 공유물의 소수지분권자가 다른 공유자와 협의 없이 공유물의 전부를 독점적으로 점유·사용하고 있는 경우, 다른 소수지분권자는 보존행위로서 공유물의 인도를 청구할 수 없다.
- ③ 특별한 사정이 없는 한 공유물의 과반수지분권자가 그 공유물의 특정 부분을 배타적으로 사용·수익하기로 정하는 것은 공유물의 관리방법으로서 적법하다.
- ④ 특별한 사정이 없는 한 공유물의 과반수지분권자로부터 사용·수익을 허락받은 점유자에 대하여 소수지분권자는 그 점유자가 사용·수익하는 공유물에 대한 점유배제를 구할 수 없다.
- ⑤ 특별한 사정이 없는 한 공유물의 과반수지분권자로부터 공유부동산의 특정 부분에 대한 사용·수익을 허락받은 제3자는 소수지분권자에 대해 그 점유로 인하여 법률상 원인 없이 이득을 얻은 것으로 볼 수 있다.

23. 신축건물의 소유권 귀속에 관한 설명으로 옳지 않은 것을 모두 고른 것은? (다툼이 있으면 판례에 따름)

- ㄱ. 자기 비용과 노력으로 건물을 신축한 자와 그 건축허가명義자가 다른 경우, 원칙적으로 건축허가명義자가 소유권을 원시 취득한다.
- ㄴ. 건축주의 사정으로 건축공사가 중단되었던 미완성의 건물을 인도받아 나머지 공사를 마치고 완공한 경우, 그 건물이 공사가 중단된 시점에서 아직 사회통념상 독립한 건물이라고 볼 수 있는 형태와 구조를 갖추고 있지 않았더라도 원래의 건축주가 그 건물의 소유권을 원시취득한다.
- ㄷ. 건물신축도급계약에서 완성된 건물의 소유권을 도급인에게 귀속시키기로 합의한 경우에는 그 건물의 소유권은 도급인에게 원시적으로 귀속된다.
- ㄹ. 미등기건물의 원시취득자와 승계취득자 사이의 합의로 승계취득자 앞으로 직접 경료한 미등기건물에 관한 소유권보존등기는 적법한 등기로서 효력이 있다.

- ① ㄱ, ㄴ                    ② ㄱ, ㄷ                    ③ ㄴ, ㄹ                    ④ ㄱ, ㄴ, ㄹ                    ⑤ ㄴ, ㄷ, ㄹ

24. 선의취득에 관한 설명으로 옳지 않은 것은? (다툼이 있으면 판례에 따름)

- ① 선의취득자가 임의로 선의취득 효과를 거부하고 종전 소유자에게 동산을 반환받아 갈 것을 요구할 수 없다.
- ② 물권적 합의가 동산의 인도보다 먼저 행해지면, 선의취득자의 선의·무과실 여부는 물권적 합의가 이루어진 때를 기준으로 판단한다.
- ③ 위탁물 횡령의 경우, 그 위탁물은 민법 제250조(도품, 유실물에 대한 특례)의 도품, 유실물에 포함되지 않는다.
- ④ 특별한 사정이 없는 한 선의취득이 성립되면 무권리자인 양도인은 양수인과의 거래행위에 의해 취득한 이익을 부당이득으로 종전 소유자에게 반환해야 한다.
- ⑤ 양도인이 소유자로부터 보관을 위탁받은 동산을 제3자에게 보관시킨 경우에 양도인이 그 제3자에 대한 반환청구권을 양수인에게 양도하고 지명채권 양도의 대항요건을 갖추었을 때에는 양수인은 동산의 선의취득에 필요한 점유의 취득 요건을 충족한다.



**25. 채권의 목적에 관한 설명으로 옳은 것은? (다툼이 있으면 판례에 따름)**

- ① 주채무가 외화채무인 경우, 채권자와 보증인 사이에 미리 약정한 환율로 환산한 원화로 보증채무를 이행하기로 하는 약정은 허용되지 않는다.
- ② 특정물채권의 경우, 채무의 성질 또는 당사자의 의사표시로 변제장소를 정하지 아니한 때에는 특정물의 인도는 채권자의 현주소에서 해야 한다.
- ③ 선택채권의 경우, 선택권 없는 당사자의 과실로 인하여 수개의 급부 중 일부가 이행 불능이 된 때에는 채권의 목적은 잔존한 것에 존재한다.
- ④ 금전채무의 이행지체로 인하여 발생하는 지연이자는 그 성질이 이자이다.
- ⑤ 종류채권이 특정되면 그 채권은 특정물채권으로 전환되고, 특별한 사정이 없는 한 채무자는 그 특정물을 인도할 때까지 선량한 관리자의 주의로 보존해야 한다.

**26. 민법 제391조(이행보조자의 고의, 과실)에 관한 설명으로 옳지 않은 것은? (다툼이 있으면 판례에 따름)**

- ① 이행보조자로서의 피용자라 함은 일반적으로 채무자의 의사관여 아래 그 채무의 이행행위에 속하는 활동을 하는 사람이면 족하다.
- ② 임대인이 임차인과의 임대차계약상의 약정에 따라 제3자에게 도급을 주어 임차 목적물을 수선한 경우, 그 수급인인 제3자는 임대인에 대하여 이행보조자로서의 피용자가 아니다.
- ③ 이행보조자가 채무의 이행을 위하여 제3자를 복이행보조자로 사용하는 경우, 채무자가 이를 승낙하였거나 적어도 묵시적으로 동의했다면 채무자는 복이행보조자의 고의·과실에 관하여 민법 제391조에 따라 책임을 부담한다.
- ④ 이행보조자의 행위가 채무자에 의하여 그에게 맡겨진 이행업무와 객관적, 외형적으로 관련을 가지는 경우에는 채무자는 그 행위에 대하여 책임을 져야 한다.
- ⑤ 임대인의 이행보조자가 임차인으로 하여금 임차목적물을 사용·수익하지 못하게 함으로써 임대인은 채무불이행책임을 지고 그 이행보조자는 불법행위책임을 지는 경우, 양 책임은 부진정연대 채무관계에 있다.

27. 甲은 자신의 X토지를 乙에게 1억 원에 매도하는 계약을 체결하였다. 乙은 계약금과 중도금으로 6천만 원을 甲에게 지급하였다. 그 후 X토지의 가격이 폭등하자 甲은 X토지를 丙에게 1억 5천만 원에 매도하고 丙 명의로 소유권이전등기를 마쳐 주었다. 이에 관한 설명으로 옳은 것을 모두 고른 것은? (각 지문은 독립적이며, 다툼이 있으면 판례에 따름)

- ㄱ. 甲과 乙의 매매계약은 특별한 사정이 없는 한 甲이 丙과 매매계약을 맺은 때에 이행불능이 된다.
- ㄴ. 특별한 사정이 없는 한 乙은 甲을 상대로 X토지의 인도 및 소유권이전등기의 청구를 할 수 없다.
- ㄷ. 만일 甲이 乙의 잔금미지급을 이유로 계약을 적법하게 해제할 수 있었으나 해제하지 않은 상태에서 甲이 丙에게 X토지를 매도하고 소유권이전등기를 마쳐준 경우라면, 특별한 사정이 없는 한 甲은 乙에게 이행불능에 따른 책임을 부담하지 않는다.
- ㄹ. 만일 甲이 丙에게 X토지의 소유권이전등기가 아니라 소유권이전등기청구권 보전을 위한 가등기만을 마쳐준 경우라면, 특별한 사정이 없는 한 甲은 乙에게 이행불능에 따른 책임을 부담하지 않는다.

- ① ㄴ                      ② ㄱ, ㄷ                      ③ ㄴ, ㄹ                      ④ ㄱ, ㄷ, ㄹ                      ⑤ ㄴ, ㄷ, ㄹ

28. 다수당사자의 채권관계에 관한 설명으로 옳은 것은? (다툼이 있으면 판례에 따름)

- ① 甲과 乙이 공유하는 건물을 丙에게 공동으로 임대하고 임차보증금을 수령한 경우, 특별한 사정이 없는 한 임대차 종료 시 甲과 乙은 지분비율에 따라 丙에게 임차 보증금을 반환할 채무를 부담한다.
- ② 甲의 乙에 대한 금전채무에 대하여 丙이 乙과 보증계약을 체결한 경우, 주채무자 甲이 시효이익을 포기하면 보증인 丙에게도 그 효력이 있다.
- ③ 甲, 乙, 丙이 균등한 부담으로 丁에 대하여 3억 원의 연대채무를 부담하고 있는 경우, 甲이 丁에게 9천만 원을 변제하였다면 甲은 乙과 丙에게 각 3천만 원씩 구상할 수 있다.
- ④ 甲, 乙, 丙이 균등한 부담으로 丁에 대하여 6천만 원의 연대채무를 부담하고, 甲이 丁에 대한 4천만 원의 반대채권을 가지고 유효하게 상계한 경우, 丙은 丁에 대하여 2천만 원의 채무를 면한다.
- ⑤ 甲의 乙에 대한 금전채무에 대하여 丙이 乙과 연대보증계약을 체결하고, 乙이 丙에게 채무의 이행을 청구한 경우, 丙은 최고·검색의 항변권을 행사할 수 있다.

29. 지명채권의 양도에 관한 설명 중 옳지 않은 것은? (다툼이 있으면 판례에 따름)

- ① 장래의 채권도 양도 당시 기본적 채권관계가 어느 정도 확정되어 있어 그 권리의 특징이 가능하고 가까운 장래에 발생할 것임이 상당 정도 기대되는 경우에는 이를 양도할 수 있다.
- ② 전세권이 존속하는 동안은 전세권을 존속시키기로 하면서 전세금반환채권만을 전세권과 분리하여 확정적으로 양도할 수 있다.
- ③ 특별한 사정이 없는 한 임차인은 임차권과 분리하여 임대차보증금반환채권만을 제3자에게 양도할 수 있다.
- ④ 부동산의 매매로 인한 소유권이전등기청구권의 양도는 채무자의 동의나 승낙을 받아야 대항력이 생긴다.
- ⑤ 주채권과 분리하여 보증채권만을 양도할 수 없다.

30. 甲은 乙에 대하여 다음과 같은 내용의 대여금 채무를 부담하고 있다.

- A채무: 대여일 2020. 3. 7., 원금 1억 원(무이자), 변제기 2021. 3. 7.
- B채무: 대여일 2020. 4. 12., 원금 2억 원(무이자), 변제기 2021. 4. 12.

이에 관한 설명으로 옳지 않은 것은? (비용·지연이자 는 고려하지 말 것) (각 지문은 독립적이며, 다툼이 있으면 판례에 따름)

- ① 甲이 2021. 4. 3. 1억 원을 변제하면서 특별한 합의나 지정이 없었던 경우, 위 1억 원 은 A채무의 변제에 충당된다.
- ② 甲이 2021. 5. 7. 1억 원을 변제하면서 특별한 합의나 지정이 없었던 경우, 위 1억 원 은 B채무의 변제에 충당된다.
- ③ 甲이 2021. 5. 7. 1억 원을 변제하면서 특별한 합의나 지정이 없었던 경우, A채무의 담보를 위해 丙의 X토지에 저당권이 설정되어 있었다면 위 1억 원은 A채무의 변제에 충당된다.
- ④ 甲이 2021. 5. 7. 1억 원을 변제하면서 특별한 합의나 지정이 없었던 경우, B채무의 담보를 위해 보증인 丙이 있었다면 위 1억 원은 A채무의 변제에 충당된다.
- ⑤ 만일 A채무와 B채무 모두 월 1%의 이자가 약정되어 있고, 甲이 2021. 5. 7. 1억 원을 변제하면서 A채무의 원본에 충당하기로 지정한 것에 대하여 乙과의 묵시적 합의가 인정된다면, 위 1억 원은 A채무의 원본에 충당된다.

31. 면책적 채무인수에 관한 설명으로 옳지 않은 것은?

- ① 전(前)채무자로부터 채무를 인수한 채무인수인은 특별한 의사표시가 없으면 전(前)채무자에 대한 항변사유를 가지고 채권자에게 대항할 수 있다.
- ② 이해관계 없는 제3자는 채무자의 의사에 반하여 채무를 인수하지 못한다.
- ③ 채권자의 채무인수에 대한 승낙은 다른 의사표시가 없으면 원칙적으로 채무를 인수한 때에 소급하여 그 효력이 생긴다.
- ④ 제3자와 채무자간의 계약에 의한 채무인수는 특별한 사정이 없는 한 채권자의 승낙이 있을 때까지 당사자는 이를 철회하거나 변경할 수 있다.
- ⑤ 전(前)채무자의 채무에 대한 보증이나 제3자가 제공한 담보는 채무인수로 인하여 원칙적으로 소멸한다.

32. 甲이 乙의 사해행위를 이유로 채권자취소권을 행사하는 것에 관한 설명으로 옳은 것을 모두 고른 것은? (각 지문은 독립적이며, 다툼이 있으면 판례에 따름)

ㄱ. 乙 소유 X토지에 대해 甲의 점유취득시효가 완성된 후에 乙이 X토지를 丙에게 처분한 경우, 甲은 자신의 소유권이전등기청구권이 침해되었음을 이유로 채권자취소권을 행사할 수 없다.

ㄴ. 乙은 甲에게 5천만 원, 丙에게 1억 원 등 총 3억 원 이상의 채무를 부담하고 있다. 乙의 재산은 시가 2억 원 상당의 X아파트가 유일한데, 乙은 이 아파트를 丙에게 대물변제로 소유권이전등기를 마쳐 주었다. 이 경우 특별한 사정이 없는 한 乙이 丙에게 한 대물변제는 사해행위에 해당한다.

ㄷ. 甲은 乙에 대하여 5천만 원의 채권을 가지고 있다. 乙이 소유하고 있는 유일한 재산인 시가 3억 원 상당의 X토지에는 甲의 乙에 대한 채권이 발생하기 전에 이미 근저당권자 丙은행, 채권최고액 1억 원으로 하는 근저당권이 설정되어 있었다. 그 후 乙은 위 부동산을 丁에게 2억 원에 매도하고, 丁은 丙은행에 1억 원을 변제함으로써 근저당권은 소멸되었다. 이 경우 원칙적으로 甲은 乙이 丁에게 X토지를 매도한 행위를 사해행위로 취소하고 원상회복으로 X토지의 명의를 乙에게 회복시킬 수 있다.

ㄹ. 乙은 丙에 대한 자신의 채권을 丁에게 양도하고 丙에게 채권양도의 통지를 하였다. 이후 乙의 금전채권자 甲에 의해 위 채권양도가 사해행위로 적법하게 취소된 경우, 甲은 丙을 상대로 乙을 대위하여 채무의 이행을 청구할 수 있다.

- ① ㄱ
- ② ㄱ, ㄴ
- ③ ㄴ, ㄷ
- ④ ㄷ, ㄹ
- ⑤ ㄱ, ㄴ, ㄷ

**33. 계약금에 관한 설명으로 옳은 것은? (다툼이 있으면 판례에 따름)**

- ① 계약금을 수령한 매도인이 계약금의 배액을 상환하고 계약을 해제하려는 경우, 매수인이 이를 수령하지 않으면 공탁하여야 해제의 효력이 발생한다.
- ② 매수인이 자신이 지급한 계약금을 포기하고 계약을 해제하기 전에, 매도인이 매수인에 대하여 매매계약의 이행을 최고하고 매매잔대금의 지급을 구하는 소송을 제기하였다면 이는 이행에 착수한 것으로 보아야 한다.
- ③ 토지거래허가구역 내 토지에 관하여 매매계약을 체결하고 계약금만 주고받은 상태에서 토지거래허가를 받았다면 매도인은 자신이 수령한 계약금의 배액을 상환하여 매매 계약을 해제할 수 있다.
- ④ 당사자 일방의 귀책사유로 인한 법정해제권을 행사하는 경우, 특별한 사정이 없는 한 계약금은 위약금으로서 상대방에게 귀속된다.
- ⑤ 계약당사자가 계약금에 기한 해제권을 배제하기로 하는 약정을 하더라도, 각 당사자는 계약금에 기한 해제권을 행사할 수 있다.

**34. 동시이행의 항변권에 관한 설명으로 옳지 않은 것은? (다툼이 있으면 판례에 따름)**

- ① 특별한 사정이 없는 한 주된 급부의무만이 동시이행의 관계에 있다.
- ② 쌍방의 채무가 별개의 계약에 기한 것이라도 당사자들은 특약으로 동시이행의 항변권을 성립시킬 수 있다.
- ③ 쌍무계약의 당사자 일방이 선이행의무를 이행하지 않고 있던 중 상대방 채무의 이행기가 도래한 경우에도 특별한 사정이 없는 한 동시이행의 항변권을 행사할 수 있다.
- ④ 채무자에게 민법 제536조 제2항의 불안의 항변권이 인정되기 위해서는 채권자측에 발생한 사정이 신용불안이나 재산상태 악화와 같이 객관적·일반적인 것이어야 한다.
- ⑤ 부동산 매도인이 동시이행의 항변권을 가지는 경우에는 이행거절 의사를 구체적으로 밝히지 않았더라도 동시이행의 항변권으로 인해 이행지체책임이 발생하지 않는다.

**35. 합의해제에 관한 설명으로 옳은 것은? (다툼이 있으면 판례에 따름)**

- ① 계약의 합의해제는 단독행위의 일종이다.
- ② 계약이 합의해제가 된 경우에도 특별한 사정이 없는 한 채무불이행으로 인한 손해배상청구는 인정된다.
- ③ 특별한 사정이 없는 한 계약이 일부이행된 상태에서 당사자 쌍방이 장기간에 걸쳐 나머지 의무를 이행하지 않고 이를 방치한 것만으로도 묵시적 합의해제가 인정된다.
- ④ 계약을 합의해제할 때에는 원상회복에 관하여 반드시 약정을 하여야 한다.
- ⑤ 매매계약을 합의해제한 후 그 합의해제를 무효화시키고, 해제된 매매계약을 부활시키는 약정은 계약자유의 원칙상 적어도 당사자 사이에서는 가능하다.

36. 甲은 乙로부터 800m<sup>2</sup>의 X토지를 5천만 원에 매수하여 건물을 신축하기 위한 건축허가를 받았다. 이후 甲은 건물신축을 위한 굴착공사를 하다가 1m 깊이에 300톤의 폐기물이 매립되어 있는 것을 발견하였고, 이를 처리하기 위해 6천만 원을 지출하였다. 이에 관한 설명으로 옳지 않은 것은? (다툼이 있으면 판례에 따름)

- ① 특별한 사정이 없는 한 乙은 X토지의 객관적 하자뿐만 아니라 주관적 하자에 대해서도 하자담보 책임을 부담한다.
- ② 폐기물로 인해 X토지에 하자가 인정되는 경우, 하자담보책임으로 인한 손해배상청구권은 甲이 X토지를 인도받은 때 발생한다.
- ③ X토지에 매립된 폐기물로 인해 乙에게 하자담보책임과 채무불이행책임이 모두 인정되는 경우, 특별한 사정이 없는 한 甲은 채무불이행책임에 따른 손해배상청구만 가능하다.
- ④ 폐기물로 인해 X토지에 하자가 인정되는 경우, 폐기물처리비용이 매매대금을 초과한다는 사정은 원칙적으로 채무불이행으로 인한 甲의 손해배상청구권 행사에 장애가 되지 않는다.
- ⑤ 乙이 X토지에 폐기물을 불법으로 매립하였음에도 이를 처리하지 않은 상태에서 그 토지를 甲에게 매도한 경우, 특별한 사정이 없는 한 이는 甲에 대한 위법행위로서 불법행위가 성립할 수 있다.

37. 민법상 소비대차에 관한 설명으로 옳은 것을 모두 고른 것은? (다툼이 있으면 판례에 따름)

ㄱ. 소비대차는 차주가 대주로부터 현실로 금전 등을 수수하거나 현실의 수수가 있는 것과 같은 경제적 이익을 취득하여야만 성립한다.

ㄴ. 금전대차의 경우에 차주가 금전에 갈음하여 유가증권 기타 물건의 인도를 받은 때에는 반환시의 가액으로써 차용액으로 한다.

ㄷ. 이자부 소비대차에서 목적물의 하자가 중대하여 계약의 목적을 달성할 수 없는 경우, 특별한 사정이 없는 한 선의·무과실의 차주는 계약을 해제할 수 있다.

- ① ㄱ
- ② ㄴ
- ③ ㄷ
- ④ ㄱ, ㄴ
- ⑤ ㄱ, ㄴ, ㄷ

38. 민법상 조합의 재산관계에 관한 설명으로 옳지 않은 것은? (다툼이 있으면 판례에 따름)

- ① 2인으로 구성된 조합에서 한 사람이 탈퇴하면, 특별한 사정이 없는 한 조합은 해산되고, 조합재산은 탈퇴로 인한 계산으로 청산된다.
- ② 조합재산에 대한 각자의 지분을 다른 조합원의 동의없이 양도할 수 있도록 하는 조합원들 상호간의 약정은 유효하다.
- ③ 조합원이 출자하기로 한 부동산이 조합재산으로 되려면 권리이전절차가 완료되어야 하며, 완료 전에는 제3자에게 그 부동산을 조합재산이라고 주장할 수 없다.
- ④ 조합의 업무집행자가 1인만 있는 경우, 특별한 사정이 없는 한 조합재산의 처분은 그 업무집행자가 단독으로 결정한다.
- ⑤ 조합원의 지분에 대한 압류는 그 조합원의 장래의 이익배당 및 지분의 반환을 받을 권리에 대하여 효력이 있다.

39. 甲이 소유권을 유보한 채 乙에게 철강제품을 매도하였다. 자신의 토지에 건물을 신축하려는 丙과 도급계약을 체결한 乙은 그 이행과정에서 그 철강제품을 건물의 골조공사에 사용하여 丙 소유의 X건물을 완성하였다. 丙은 그 철강제품의 소유권이 유보된 사실에 대해 과실없이 알지 못하였고, 그 철강제품의 대금은 여전히 지급되지 않은 상태이다. 이에 관한 설명으로 옳은 것을 모두 고른 것은? (다툼이 있으면 판례에 따름)

- ㄱ. 부동산에의 부합에 관한 법리는 건물의 신축의 경우에 적용될 수 있다.
- ㄴ. 甲의 소유권 유보에도 불구하고 丙은 철강제품에 대한 소유권을 취득한다.
- ㄷ. 부당이득반환청구의 요건이 충족되지 않았더라도, 甲은 민법 제261조 (침부로 인한 구상권)에 근거하여 丙에게 보상청구권을 행사할 수 있다.
- ㄹ. 특별한 사정이 없는 한 丙은 그 철강제품의 귀속으로 인한 이익을 보유할 수 있는 법률상 원인이 있다.

- ① ㄱ, ㄴ
- ② ㄷ, ㄹ
- ③ ㄱ, ㄴ, ㄹ
- ④ ㄴ, ㄷ, ㄹ
- ⑤ ㄱ, ㄴ, ㄷ, ㄹ

40. 甲은 농지법상 처분명령을 회피하기 위하여 친구인 乙과 2020. 3. 19. 양자간 명의신탁약정을 체결하였다. 이에 따라 乙은 甲으로부터 甲 소유 X토지의 소유권 이전등기를 넘겨받았다. 이에 관한 설명으로 옳지 않은 것은? (다툼이 있으면 판례에 따름)

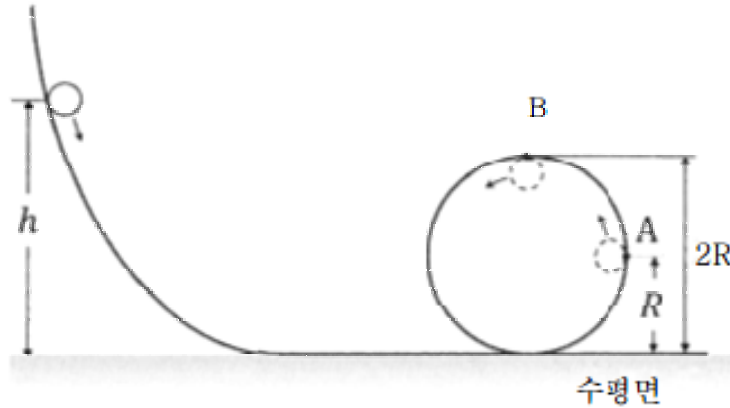
- ① 甲은 乙을 상대로 진정명의 회복을 원인으로 하는 소유권이전등기를 청구할 수 있다.
- ② 甲은 명의신탁해지를 원인으로 하여 乙을 상대로 소유권이전등기를 청구할 수 없다.
- ③ 甲이 乙을 상대로 그 등기의 말소를 청구하는 것은 특별한 사정이 없는 한 민법 제 746조의 불법 원인급여를 이유로 금지된다.
- ④ 乙이 제3자에게 X토지를 임의로 처분한 경우, 甲은 그 제3자에게 소유권이전등기의 말소를 청구할 수 없다.
- ⑤ 乙이 제3자에게 X토지를 임의로 처분한 경우, 형사상 횡령죄의 성립 여부와 관계없이 乙은 甲에 대하여 민사상 불법행위책임을 부담한다.

03  
2022

제59회 변리사 1차 국가자격시험  
[3교시] 자연과학개론



1. 그림과 같이 곡선과 반지름  $R$  인 원으로 구성되어 있는 궤도의 높이  $h$  인 곳에 구슬을 가만히 놓으면 구슬은 궤도를 따라 미끄러지며 운동하여 원궤도의 두 지점 A와 B를 지난다. A, B에서 원궤도가 구슬에 작용하는 수직항력은 각각  $n_A$  ,  $n_B$  이다.



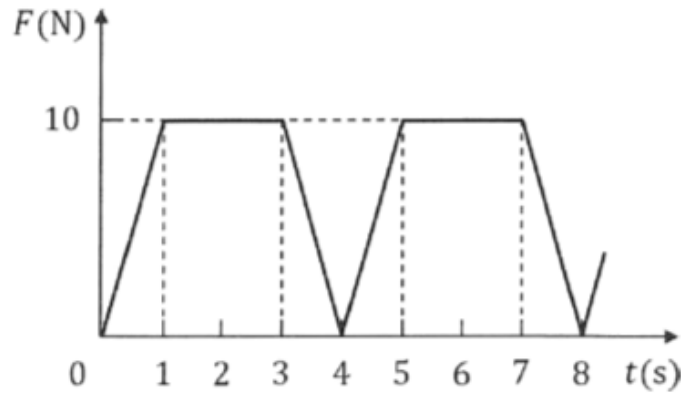
$\frac{n_A}{n_B} = 2$  일 때,  $h$  는? (단, 중력 가속도는 일정하고, 구슬의 크기, 공기 저항과 모든 마찰은 무시한다.)

- ①  $\frac{5}{2}R$       ②  $3R$       ③  $\frac{7}{2}R$       ④  $4R$       ⑤  $\frac{9}{2}R$

2. 지면으로부터 높이  $H$  인 곳에서 가만히 놓인 물체가 자유 낙하하여 지면에 도달했다. 물체가 지면에 도달할 때까지 걸린 시간이  $t_0$  일 때, 이 물체의 운동 에너지가 중력 퍼텐셜 에너지의 2배인 지점까지 낙하하는 데 걸린 시간은? (단, 중력 가속도는 일정하고, 물체의 크기는 무시하며, 지면에서 중력 퍼텐셜 에너지는 0이다.)

- ①  $\frac{1}{3}t_0$       ②  $\frac{1}{\sqrt{3}}t_0$       ③  $\frac{2}{3}t_0$       ④  $\sqrt{\frac{2}{3}}t_0$       ⑤  $\frac{\sqrt{3}}{2}t_0$

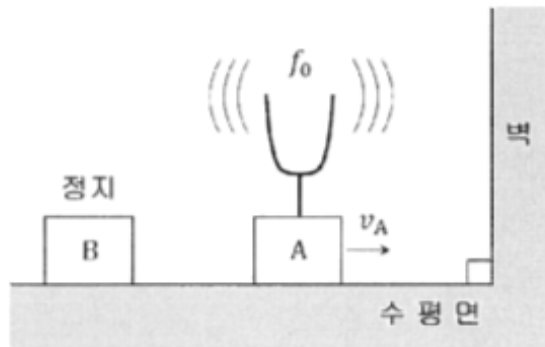
3. 그림은 수평면상의 한 지점에 정지해 있던 질량 2 kg 인 물체에 시간  $t = 0$  에서  $+x$  방향으로 작용하는 알짜힘의 크기  $F$  를 시간  $t$  에 따라 나타낸 것이다.



$t = 8s$  인 순간, 물체의 속력은?

- ①  $20m/s$       ②  $30m/s$       ③  $40m/s$       ④  $60m/s$       ⑤  $80m/s$

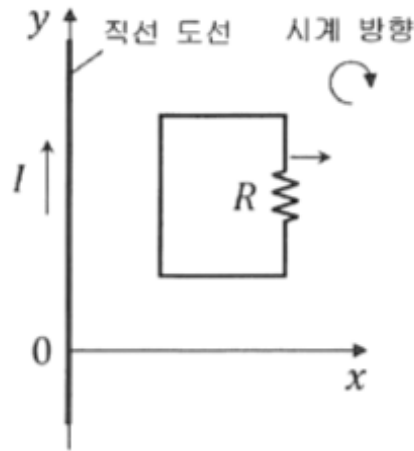
4. 그림과 같이 학생 A가 진동수  $f_0$  으로 진동하는 소리굽쇠를 가지고  $v_A$  의 속력으로 벽을 향해 움직이고 있다. A의 뒤쪽에 정지해 있는 학생 B는 소리굽쇠로부터 나는 소리와 벽에서 반사되어 오는 메아리의 맥놀이를 측정한다.



$v_A = \frac{1}{5}v_0$  일 때, B가 측정한 맥놀이의 진동수는? (단,  $v_0$  은 공기 중에서 소리의 속력이다.)

- ①  $\frac{1}{3}f_0$       ②  $\frac{5}{12}f_0$       ③  $\frac{1}{2}f_0$       ④  $\frac{7}{12}f_0$       ⑤  $\frac{2}{3}f_0$

5. 그림과 같이 수평면의  $y$  축 상에 놓여 있는 무한히 긴 직선 도선에 세기  $I$  인 전류가  $+y$  방향으로 흐르고 있고, 저항  $R$  가 연결된 직사각형 회로가 동일한 수평면의  $x > 0$  인 영역에서  $+x$  방향으로 운동하고 있다.

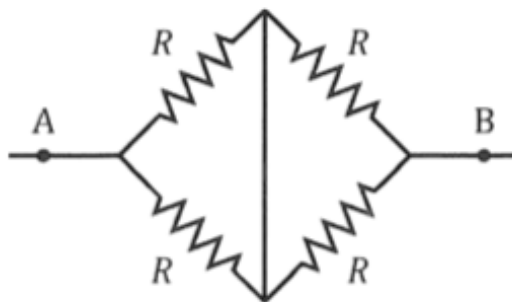


이에 관한 설명으로 옳은 것만을 <보기>에서 있는 대로 고른 것은?

- < 보 기 > —
- ㄱ. 직선 도선에 흐르는 전류에 의한 자기장의 방향은 직사각형 회로를 뚫고 들어가는 방향이다.
  - ㄴ. 저항  $R$  에는 시계 방향으로 유도 전류가 흐른다.
  - ㄷ. 직선 도선과 직사각형 회로 사이에는 인력이 작용한다.

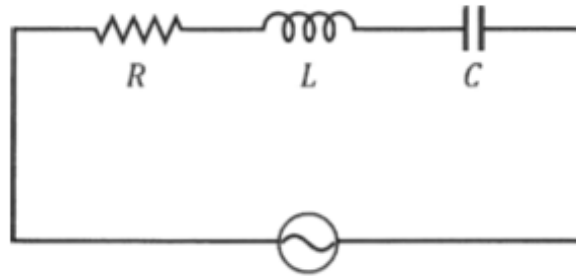
- ① ㄱ      ② ㄷ      ③ ㄱ, ㄴ      ④ ㄴ, ㄷ      ⑤ ㄱ, ㄴ, ㄷ

6. 그림은 저항값이  $R$  인 4개의 저항으로 구성된 어느 회로의 일부를 나타낸 것이다. 두 지점 A와 B 사이의 등가(합성) 저항값은?



- ①  $\frac{1}{4}R$       ②  $\frac{1}{2}R$       ③  $R$       ④  $2R$       ⑤  $4R$

7. 그림과 같이 저항  $R$ , 코일  $L$ , 축전기  $C$  를 전압의 최댓값이  $100V$  이고 진동수가  $f_0$  으로 일정한 교류 전원에 연결하였다. 저항의 저항값은  $40\Omega$  이고, 저항 양단과 코일 양단에 걸리는 전압의 최댓값은 각각  $80V$  와  $60V$  이다. 이 회로의 공명 진동수는?



- ①  $\frac{1}{2}f_0$       ②  $\frac{1}{\sqrt{2}}f_0$       ③  $f_0$       ④  $\sqrt{2}f_0$       ⑤  $2f_0$

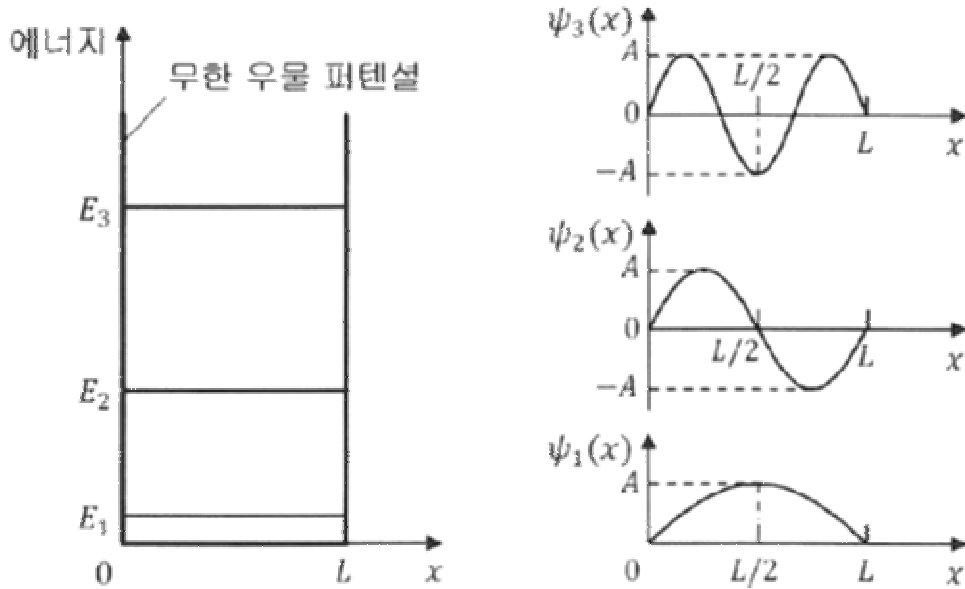
8. 절대 온도  $T_0$  에 있던 1몰의 단원자 분자 이상 기체에 열을 가했더니, 기체가 등압 팽창을 하여 온도  $2T_0$  인 상태가 되었다. 이 과정에서 기체에 공급된 열량은? (단,  $R$  는 기체 상수이다.)

- ①  $\frac{1}{2}RT_0$       ②  $RT_0$       ③  $\frac{3}{2}RT_0$       ④  $2RT_0$       ⑤  $\frac{5}{2}RT_0$

9. 문턱 진동수가 각각  $f_0$  과  $f_X$  인 금속판 A와 X에 진동수가  $3f_0$  인 빛을 비추었더니 A와 X에서 모두 광전자가 방출되었다. A에서 방출된 광전자의 최대 운동 에너지가 X에서 방출된 광전자의 최대 운동 에너지의 1.5배일 때,  $f_X$  는?

- ①  $\frac{5}{3}f_0$       ②  $2f_0$       ③  $\frac{7}{3}f_0$       ④  $\frac{8}{3}f_0$       ⑤  $3f_0$

10. 그림은 폭  $L$  인 무한 우물 퍼텐셜에 속박되어 있는 입자의 에너지 준위  $E_n$  과 파동 함수  $\psi_n(x)$  를 양자수  $n$  에 따라 나타낸 것이다. 이에 관한 설명으로 옳지 않은 것은?



- ① 파동 함수의 파장은  $n = 1$  인 상태에서가  $n = 3$  인 상태에서보다 더 길다.
- ② 입자가  $n = 1$  인 상태에 있을 때, 위치에 따라 입자를 발견할 확률 밀도는  $x = \frac{L}{2}$  에서 최대이다.
- ③ 입자가  $n = 2$  인 상태에 있을 때, 입자를 발견할 확률은  $0 < x < \frac{L}{2}$  에서가  $\frac{L}{2} < x < L$  에서보다 크다.
- ④ 퍼텐셜에 속박된 입자가 가질 수 있는 에너지는 불연속적이다.
- ⑤ 퍼텐셜에 속박된 입자는 퍼텐셜 바닥에 정지해 있을 수 없다.

11. 표는  $X(l)$  와  $Y(l)$  에 대하여 절대 온도(K)의 역수 ( $\frac{1}{T}$ ) 에 따른  $P_{\text{증기}}$  값을 자연 로그의 음수 값 ( $-\ln P_{\text{증기}}$ ) 으로 나타낸 것이다.  $P_{\text{증기}}$ 는 평형 증기압(atm)이다.

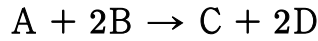
$\frac{1}{T}(\text{K}^{-1})$	$-\ln P_{\text{증기}}$	
	$X(l)$	$Y(l)$
$4a$	$-2b$	$-4b$
$5a$	$0$	$-3b$
$6a$	$2b$	$-2b$
$7a$	$4b$	$-b$
$8a$	$6b$	$0$
$9a$	$8b$	$b$
$10a$	$10b$	$2b$

정상 끓는점 (normal boiling point)에서  $\frac{\Delta S_{\text{증발}}^{\circ}(X)}{\Delta S_{\text{증발}}^{\circ}(Y)}$  는? (단, 액체의 표준 증발 엔탈피

( $\Delta H_{\text{증발}}^{\circ}$ ) 는 온도에 무관하고,  $\Delta S_{\text{증발}}^{\circ}(X)$  와  $\Delta S_{\text{증발}}^{\circ}(Y)$  는 각각  $X(l)$  와  $Y(l)$  의 표준 증발 엔트로피(J/K · mol)이다.  $a$  와  $b$  는 양수이다.)

- ①  $\frac{5}{4}$
- ②  $\frac{4}{3}$
- ③  $\frac{3}{2}$
- ④  $\frac{5}{3}$
- ⑤ 2

12. 다음은 A와 B가 반응하여 C와 D를 생성하는 화학 반응식과 반응 속도 법칙이다.



$$\frac{-d[A]}{dt} = k[A][B]^m \quad (k \text{ 는 반응 속도 상수, } m \text{ 은 반응 차수})$$

표는 두 강철 용기에서 온도와 반응물의 초기 농도를 달리하여 반응시켰을 때, 반응 시간(min)에 따른 B의 농도 변화를 나타낸 자료이다.

온도(K)	[A] <sub>0</sub> (M)	[B](mM)						
		0 min	1 min	2 min	3 min	4 min	5 min	6 min
T <sub>1</sub>	20.0	20.0	13.3	10.0	8.00	6.67	5.72	5.00
T <sub>2</sub>	10.0	10.0	5.00	3.33	2.50	2.00	1.67	1.43


이에 관한 설명으로 옳은 것만을 <보기>에서 있는 대로 고른 것은? (단, 반응이 진행되는 동안 A의 농도는 각 반응의 초기 농도 ([A]<sub>0</sub>)로 일정하다고 가정한다. 반응에서 온도는 T<sub>1</sub>과 T<sub>2</sub>로 각각 일정하다.)

< 보 기 >

- ㄱ.  $m = 2$  이다.
- ㄴ.  $\frac{T_2 \text{에서 반응 속도 상수}(k_2)}{T_1 \text{에서 반응 속도 상수}(k_1)} = 4$  이다.
- ㄷ.  $\frac{T_1 \text{에서 2min일 때 C의 생성 속도(M/s)}}{T_2 \text{에서 4min일 때 D의 생성 속도(M/s)}} = \frac{25}{4}$  이다.

- ① ㄱ                      ② ㄴ                      ③ ㄱ, ㄷ                      ④ ㄴ, ㄷ                      ⑤ ㄱ, ㄴ, ㄷ

13. 다음은 A(g)와 B(g)가 반응하여 C(g)가 생성되는 반응의 평형 반응식과 압력으로 정의되는 평형 상수( $K_P$ )이다.



표는 반응 전 C(g) 1mol 만이 들어 있는 피스톤이 달린 실린더에서 반응이 일어날 때, 서로 다른 온도에서 도달한 평형에 대한 자료이다.

평형 상태	온도 (K)	실린더 속 혼합 기체의 부피 (L)	$K_P$
I	$T$	8V	1
II	$\frac{4}{5}T$	6V	$a$

$a$  는? (단, 대기압은 1atm으로 일정하고 피스톤의 질량과 마찰은 무시한다. 모든 기체는 이상 기체와 같은 거동을 한다.)

- ① 4                      ② 5                      ③ 6                      ④ 8                      ⑤ 10

14. 분자식이  $C_5H_{10}$  인 탄화수소의 구조 이성질체 중 고리형 탄화수소의 개수는?

- ① 2                      ② 3                      ③ 4                      ④ 5                      ⑤ 6

15. 다음은 4가지 분자 (가)~(라)를 나타낸 것이다.

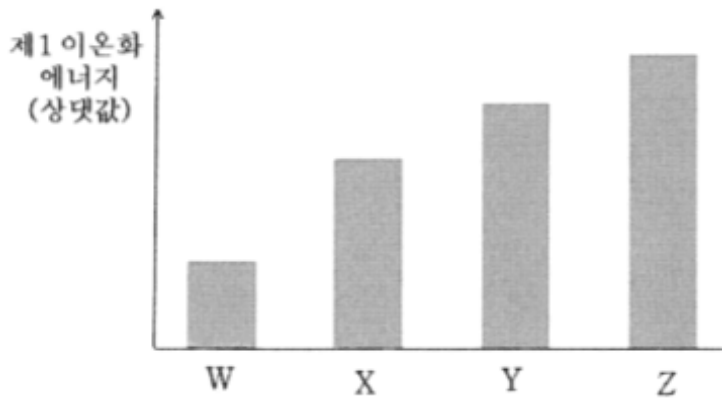
(가)	(나)	(다)	(라)
$NH_3$	$CS_2$	$CH_2O$	$SiH_4$

루이스 구조와 원자가 껍질 전자쌍 반발 이론에 근거하여 이에 관한 설명으로 옳지 않은 것은?

- ①  $\frac{\text{공유 전자쌍 수}}{\text{비공유 전자쌍 수}}$  는 (가)가 (나)의 3배이다.  
 ② 분자의 쌍극자 모멘트는 (가)가 (나)보다 크다.  
 ③ 모든 원자가 같은 평면에 존재하는 분자는 (가)와 (다)이다.  
 ④ 다중 결합을 갖는 분자는 (나)와 (다)이다.  
 ⑤ 결합각은 (나)가 (라)보다 크다.



16. 그림은 원자 W~Z의 제 1 이온화 에너지(상댓값)를 나타낸 것이다. W~Z는 C, N, F, Na 중 하나이다.



이에 관한 설명으로 옳은 것만을 <보기>에서 있는 대로 고른 것은? (단, W~Z는 임의의 원소 기호이다.)

< 보 기 >

ㄱ. 원자 반지름은 W > X 이다.

ㄴ. 2p 전자의 유효 핵전하는 Y > Z 이다.

ㄷ. 제 2 이온화 에너지는 W > Z 이다.

- ① ㄱ                      ② ㄴ                      ③ ㄱ, ㄷ                      ④ ㄴ, ㄷ                      ⑤ ㄱ, ㄴ, ㄷ

17. 표는 분자 궤도함수 이론에 근거한 바닥상태의 두 가지 화학종에 관한 자료이다. X와 Y는 N과 O 중 하나이다.

	XY <sup>+</sup>	Y <sub>2</sub>
결합 차수	3	(가)
자기적 성질	(나)	상자기성

분자 궤도함수 이론에 근거한 다음 화학종에 관한 설명으로 옳지 않은 것은? (단, X와 Y는 임의의 원소 기호이고, 모든 화학종은 바닥상태이다.)

- ① Y<sub>2</sub><sup>+</sup>의 결합 차수는 (가)보다 크다.
- ② (나)는 반자기성이다.
- ③ X<sub>2</sub>와 XY<sup>+</sup>은 등전자이다.
- ④ Y<sub>2</sub><sup>-</sup>에서  $\frac{\pi_{2p}^* \text{에 채워진 홀전자 수}}{\pi_{2p} \text{에 채워진 전자 수}} = \frac{1}{4}$  이다.
- ⑤ XY<sup>-</sup>의 홀전자 수는 1이다.

18. 표는 결정장 이론에 근거한 바닥상태의 3가지 착이온 (가)~(다)에 관한 자료이다. 각 착이온의 배위 구조는 정사면체, 사각 평면, 정팔면체 중 하나이다.

	(가)	(나)	(다)
화학식	$[\text{Fe}(\text{CN})_6]^{4-}$	$[\text{CoCl}_4]^{2-}$	$[\text{Ni}(\text{CN})_4]^{2-}$
홀전자 수	0	3	0

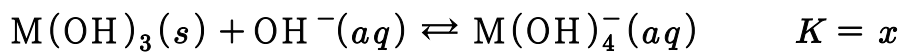
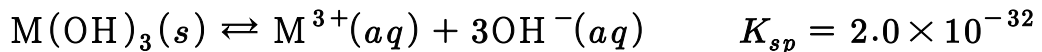
이에 관한 설명으로 옳은 것만을 <보기>에서 있는 대로 고른 것은? (단, Fe, Co, Ni의 원자 번호는 26, 27, 28이다.)

— < 보 기 > —

ㄱ. (나)에서 Co 이온의  $3d_{x^2}$  오비탈에 전자가 2개 있다.  
 ㄴ. (다)에서 Ni 이온의 에너지 준위는  $3d_{xy} > 3d_{x^2}$  이다.  
 ㄷ. 중심 금속이온의  $3d_{xy}$  오비탈에 있는 전자 수는 (가) > (나) 이다.

- ① ㄱ                      ② ㄴ                      ③ ㄱ, ㄷ                      ④ ㄴ, ㄷ                      ⑤ ㄱ, ㄴ, ㄷ

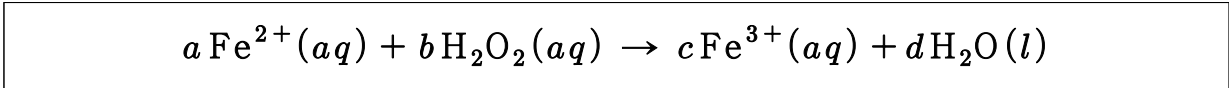
19. 다음은  $T \text{ }^\circ\text{C}$  의 염기 완충 수용액에서  $\text{M}(\text{OH})_3(s)$  의 용해 평형과 관련된 평형 반응식이고,  $T \text{ }^\circ\text{C}$  에서  $K_{sp}$  와  $K$  는 각각 용해도곱 상수와 평형 상수이다.



$T \text{ }^\circ\text{C}$  , pH = 10.0 인 염기 완충 수용액에서  $\text{M}(\text{OH})_3(s)$  의 용해도( $S$ )가  $4.0 \times 10^{-3} \text{ mol/L}$  일 때,  $x$ 는? (단, 온도는  $T \text{ }^\circ\text{C}$  로 일정하고,  $T \text{ }^\circ\text{C}$  에서 물의 이온곱 상수 ( $K_w$ )는  $1.0 \times 10^{-14}$  이다.  $\text{M}(\text{OH})_3(s)$  의 용해는 주어진 평형 반응들만 고려하며, M은 임의의 금속이다.)

- ① 10                      ② 20                      ③ 30                      ④ 40                      ⑤ 50

20. 다음은 산성 수용액에서 산화 환원 반응의 균형 화학 반응식이다.  $a \sim d$ 는 반응 계수이다.



이에 관한 설명으로 옳은 것만을 <보기>에서 있는 대로 고른 것은?

- < 보 기 > —————
- ㄱ.  $a + b < c + d$  이다.
  - ㄴ. O의 산화수는 증가한다.
  - ㄷ.  $\text{Fe}^{2+}$  1 mol 이 반응할 때 전자 2 mol 을 잃는다.

- ① ㄱ                      ② ㄴ                      ③ ㄷ                      ④ ㄱ, ㄴ                      ⑤ ㄱ, ㄷ

21. 포화지방에 관한 설명으로 옳은 것은?

- ① 주로 식물의 종자에 존재한다.
- ② 트랜스지방(trans fat)은 포화지방이다.
- ③ 포화지방은 불포화지방보다 녹는점이 높다.
- ④ 포화지방산은 탄소와 탄소 사이에 이중결합이 있다.
- ⑤ 포화지방산은 펩티드결합으로 글리세롤에 연결되어 있다.

22.  $C_4$  식물에 관한 설명으로 옳은 것만을 <보기>에서 있는 대로 고른 것은?

- < 보 기 > —————
- ㄱ. 옥수수는  $C_4$  식물에 속한다.
  - ㄴ. 캘빈 회로는 유관속초세포에서 일어난다.
  - ㄷ. 대기 중에 있는  $\text{CO}_2$  는 엽육세포에서 고정된다.

- ① ㄱ                      ② ㄷ                      ③ ㄱ, ㄴ                      ④ ㄴ, ㄷ                      ⑤ ㄱ, ㄴ, ㄷ

23. (가)는 미토콘드리아의 산화적 인산화 과정에서 작용하는 전자전달 사슬의 최종 전자 수용체이고, (나)는 광합성의 명반응에서 작용하는 전자전달 사슬의 최종 전자 수용체이다. (가)와 (나)로 옳은 것은?

- ① (가)  $\text{O}_2$     - (나) NADPH
- ② (가)  $\text{O}_2$     - (나)  $\text{NADP}^+$
- ③ (가)  $\text{H}_2\text{O}$    - (나) NADPH
- ④ (가)  $\text{H}_2\text{O}$    - (나)  $\text{NADP}^+$
- ⑤ (가)  $\text{H}_2\text{O}$    - (나) NADP

24. IgM 에 관한 설명으로 옳은 것만을 <보기>에서 있는 대로 고른 것은?

— < 보 기 > —

ㄱ. 1차 면역반응에서 B세포로부터 처음 배출되는 항체이다.  
 ㄴ. 눈물과 호흡기 점막 같은 외분비액에 존재하며 국소방어에 기여한다.  
 ㄷ. 알레르기 반응에 관여한다.

- ① ㄱ                    ② ㄴ                    ③ ㄷ                    ④ ㄱ, ㄴ                    ⑤ ㄱ, ㄷ

25. 대장균의 유전자 발현에 관한 설명으로 옳지 않은 것은?

- ① RNA 중합효소 I, II, III이 세포질에 존재한다.
- ② 70S 리보솜이 세포질에서 단백질을 합성한다.
- ③ DNA 복제과정에서 에너지가 사용된다.
- ④ 오페론 구조를 통해 전사가 조절된다.
- ⑤ 단백질 합성의 개시 아미노산은 포밀메티오닌이다.

26. 세균의 세포벽에 관한 설명으로 옳지 않은 것은?

- ① 그람음성균의 지질다당체의 지질 성분은 동물에 독성을 나타낸다.
- ② 페니실린은 펩티도글리칸의 교차연결 형성을 저해한다.
- ③ 곰팡이의 세포벽과 조성이 다르다.
- ④ 분자 이동의 주된 선택적 장벽이다.
- ⑤ 세균의 형태를 유지한다.

27. 다음 염기서열로 이루어진 DNA 단편을 PCR로 증폭하고자 한다. 한 쌍의 프라이머 서열로 옳은 것은? (단, 주형 DNA는 한 가닥만 표시한다.)

5'-ATGTTTCGAGAGGCTGGCTAAC-----}}-----CCTTTATCGGAATTGGATTAA-3'

- ① 5'-ATGTTTCGAGAGGCTGGCT-3'                    ② 5'-ATGTTTCGAGAGGCTGGCT-3'  
 5'-TTAATCCAATTCGATAA-3'                    5'-GGAAATAGCCTTAACCTA-3'
- ③ 5'-ATGTTTCGAGAGGCTGGCT-3'                    ④ 5'-TACAAGCTCTCCGACCGA-3'  
 5'-CCTTTATCGGAATTGGAT-3'                    5'-GGAAATAGCCTTAACCTA-3'
- ⑤ 5'-TACAAGCTCTCCGACCGA-3'  
 5'-CCTTTATCGGAATTGGAT-3'

28. 전기영동을 이용한 노던블롯(Nothern blot) 실험에 관한 설명으로 옳은 것만을 <보기>에서 있는 대로 고른 것은?

— < 보 기 > —

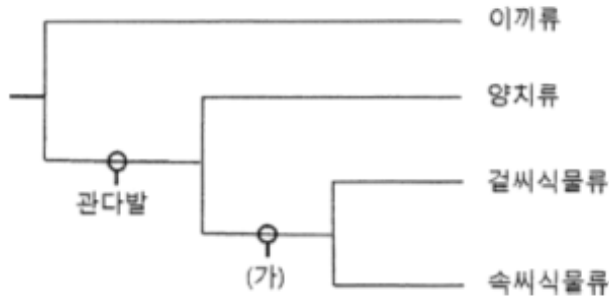
ㄱ. RNA 길이에 관한 상대적 정보를 나타낸다.

ㄴ. 발현된 RNA 양의 증감에 대해 알 수 있다.

ㄷ. 단백질의 구조를 확인할 수 있다.

- ① ㄱ      ② ㄷ      ③ ㄱ, ㄴ      ④ ㄴ, ㄷ      ⑤ ㄱ, ㄴ, ㄷ

29. 그림은 파생 형질을 포함하는 식물 계통수의 일부를 나타낸 것이다. (가)는 ‘꽃’과 ‘종자’ 중 하나이다.



이에 관한 설명으로 옳은 것만을 <보기>에서 있는 대로 고른 것은?

— < 보 기 > —

ㄱ. (가)는 ‘꽃’이다.

ㄴ. 겉씨식물류의 생활사에서 세대 교번이 일어난다.

ㄷ. 중복 수정은 속씨식물류의 특징이다.

- ① ㄱ      ② ㄴ      ③ ㄱ, ㄷ      ④ ㄴ, ㄷ      ⑤ ㄱ, ㄴ, ㄷ

30. 유전적 부동에 관한 설명으로 옳은 것만을 <보기>에서 있는 대로 고른 것은?

— < 보 기 > —

ㄱ. 병목 효과는 유전적 부동의 한 유형이다.

ㄴ. 유전적 부동은 대립유전자 빈도의 임의 변화시킬 수 있다.

ㄷ. 유전적 부동은 크기가 큰 집단보다 작은 집단에서 대립유전자 빈도를 크게 변경시킬 수 있다.

- ① ㄱ      ② ㄷ      ③ ㄱ, ㄴ      ④ ㄴ, ㄷ      ⑤ ㄱ, ㄴ, ㄷ

31. 판 경계부에 위치한 여러 지역에서 일어나는 지질활동에 관한 설명으로 옳은 것만을 <보기>에서 있는 대로 고른 것은?

< 보 기 >

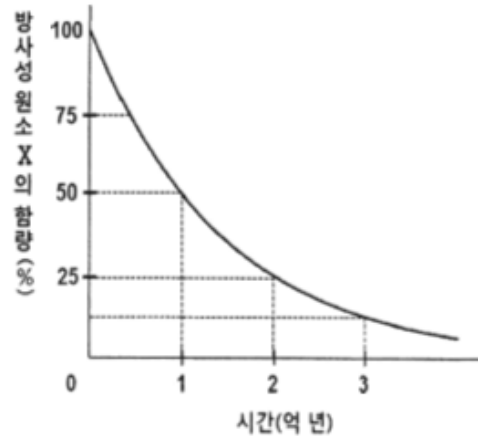
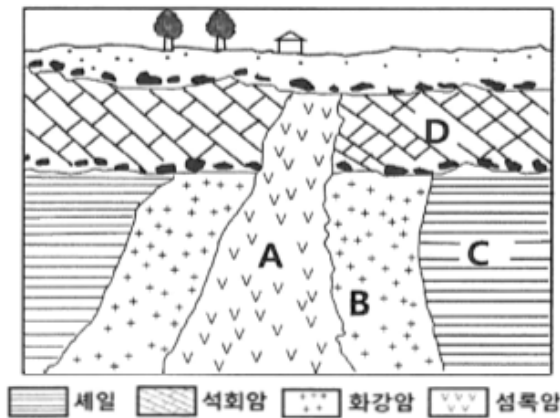
ㄱ. 동아프리카 열곡대는 수렴경계이다.  
 ㄴ. 산안드레아스 단층은 보존경계로 천발지진이 일어난다.  
 ㄷ. 히말라야 산맥은 대륙판과 해양판의 수렴경계로 화산활동이 활발하다.

- ① ㄱ                    ② ㄴ                    ③ ㄱ, ㄷ                    ④ ㄴ, ㄷ                    ⑤ ㄱ, ㄴ, ㄷ

32. 지진과 지진파에 관한 설명으로 옳지 않은 것은?

- ① P파와 S파는 모두 실체파(body wave)이다.
- ② 탄성에너지가 최초로 방출된 지점은 진원이다.
- ③ P파의 속도가 S파의 속도보다 빠르다.
- ④ S파는 고체, 기체, 액체인 매질을 모두 통과한다.
- ⑤ P파는 파의 진행 방향이 매질 입자의 진동 방향과 평행한 종파이다.

33. 그림 (가)는 어느 지역의 지질 단면도를, (나)는 방사성 원소 X의 붕괴 곡선을 나타낸 것이다. A와 B에 들어 있는 방사성 원소 X의 양은 붕괴 후 각각 처음 함량의 50%, 25%이다.



지층 A~D에 관한 설명으로 옳은 것만을 <보기>에서 있는 대로 고른 것은?

< 보 기 >

ㄱ. A의 절대연령은 2억 년이다.  
 ㄴ. D는 신생대 제3기의 지층으로 화폐석 화석이 산출된다.  
 ㄷ. 지층의 생성순서는 C → B → D → A 이다.

- ① ㄱ                    ② ㄷ                    ③ ㄱ, ㄴ                    ④ ㄴ, ㄷ                    ⑤ ㄱ, ㄴ, ㄷ

34. 한반도의 중생대 지층에 관한 설명으로 옳은 것만을 <보기>에서 있는 대로 고른 것은?

— < 보 기 > —

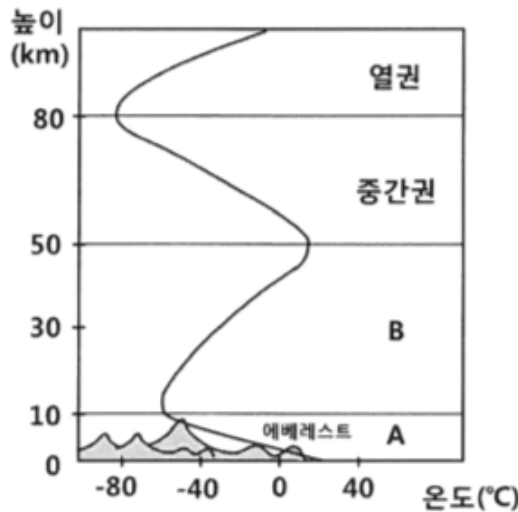
ㄱ. 대보 조산 운동 이후에 경상누층군이 퇴적되었다.  
 ㄴ. 경상누층군에서는 공룡 발자국 화석이 발견되었다.  
 ㄷ. 평안누층군 이후에 화강암류의 관입이 일어나지 않았다.

- ① ㄱ                    ② ㄷ                    ③ ㄱ, ㄴ                    ④ ㄴ, ㄷ                    ⑤ ㄱ, ㄴ, ㄷ

35. 어떤 별 A의 겉보기 등급이 3등급이고, 지구에서 A 까지의 거리가 100pc일 때, A의 절대 등급은?

- ① -2                    ② -1                    ③ 2                    ④ 3                    ⑤ 5

36. 그림은 온도 변화에 따른 대기권의 연직 구조를 나타낸 것이다.



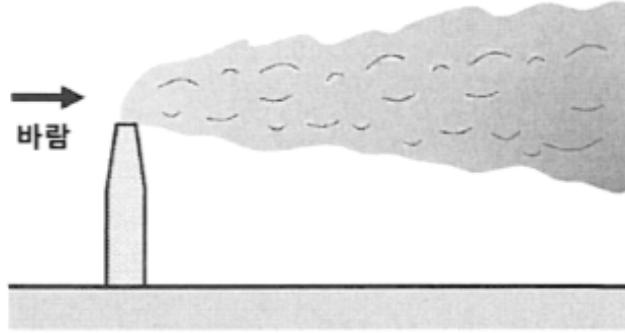
이에 관한 설명으로 옳은 것만을 <보기>에서 있는 대로 고른 것은?

— < 보 기 > —

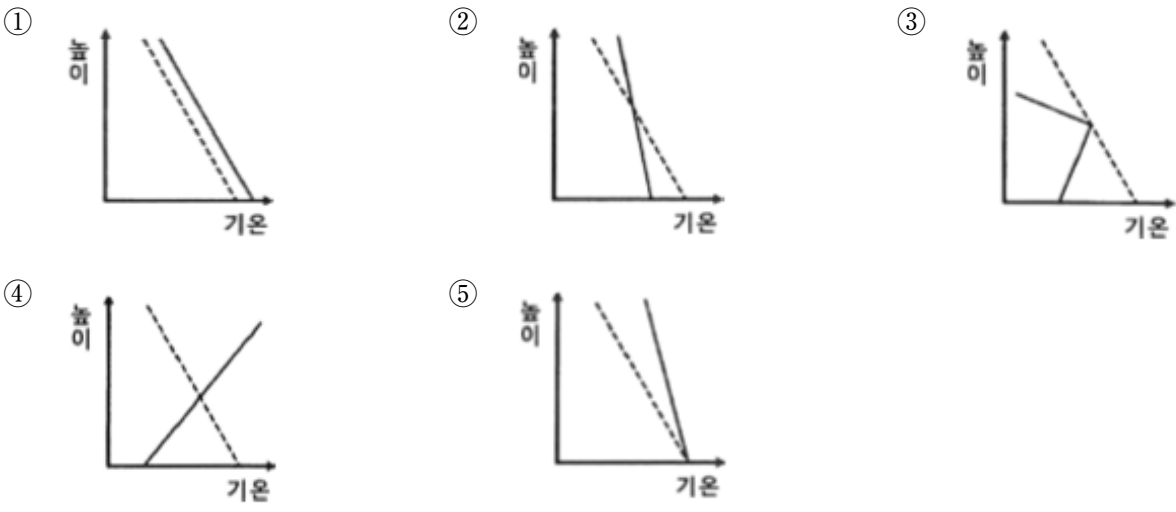
ㄱ. 대류권계면의 높이는 적도에서 낮고, 극에서 높다.  
 ㄴ. 기상현상은 A에서 일어난다.  
 ㄷ. B에서는 오존층이 자외선을 흡수하여 온도가 상승한다.

- ① ㄱ                    ② ㄴ                    ③ ㄱ, ㄷ                    ④ ㄴ, ㄷ                    ⑤ ㄱ, ㄴ, ㄷ

37. 그림은 굴뚝의 연기가 원추형(coning)으로 퍼져나가는 모습을 나타낸 것이다.



이 지역의 대기 상태를 옳게 나타낸 것은? (단, 실선은 기온선, 점선은 건조단열선이다.)

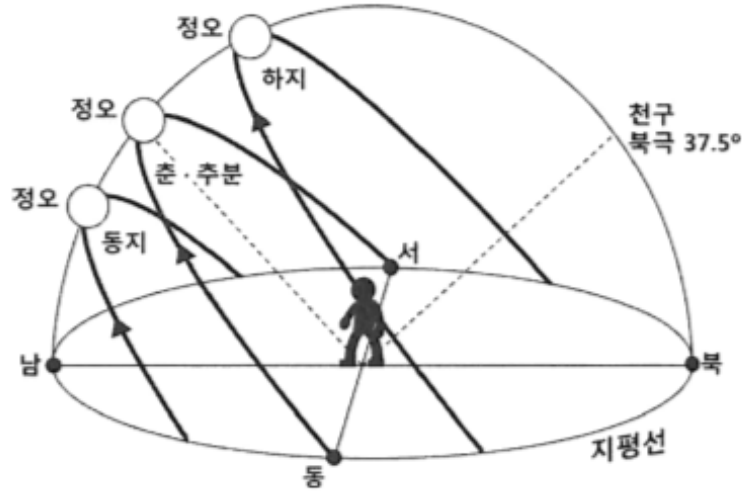


38. 지구 내부의 구조 및 구성 물질의 상태에 관한 설명으로 옳지 않은 것은?

- ① 모호면은 지각과 맨틀의 경계이다.
- ② 맨틀은 지구 내부에서 가장 큰 부피를 차지한다.
- ③ 내핵은 높은 온도로 인해 액체 상태로 존재한다.
- ④ 외핵은 액체 상태로 존재한다.
- ⑤ 상부맨틀에는 지진파의 속도가 느려지는 저속도층이 존재한다.



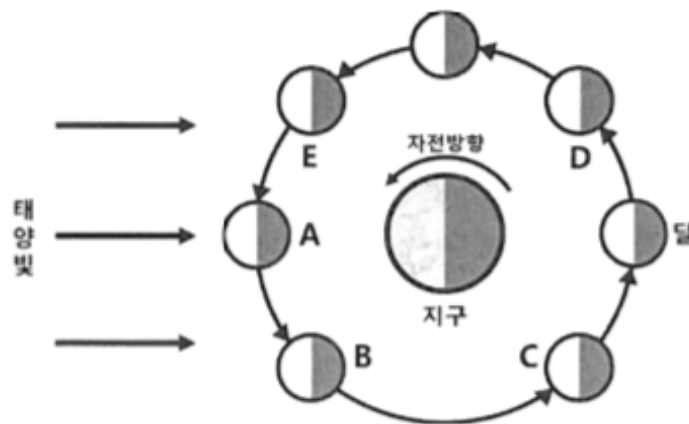
39. 그림은 위도 37.5° N인 어느 지역의 사계절 태양의 일주운동을 나타낸 것이다.



이에 관한 설명으로 옳지 않은 것은?

- ① 이 지역의 북극성 고도는 37.5°이다.
- ② 태양이 동지점에 있을 때, 태양의 적위는 -23.5°이다.
- ③ 태양이 춘·추분점에 있을 때, 태양은 정동쪽에서 떠서 정서쪽으로 진다.
- ④ 겨울에 이 지역의 낮의 길이는 밤의 길이에 비해 더 짧다.
- ⑤ 여름에 이 지역의 태양의 남중고도는 52°이다.

40. 그림은 달의 공전을 나타낸 모식도이다. 어느 날 서울에서 새벽 5시경에 지구 관측자가 그믐달을 관측하였다. 이 달이 떠 있는 하늘의 방향과 그림의 달의 위치로 옳은 것은?



- ① 남서쪽, A      ② 남동쪽, B      ③ 북서쪽, C      ④ 남서쪽, D      ⑤ 남동쪽, E



풍격있는 강의,  
믿음수있는 강사  
처음부터 끝까지 함께하겠습니다.



변리사스쿨

# 2022년도 제59회 변리사 1차 국가자격시험 최종정답

## 1교시 | 산업재산권법

1	2	3	4	5	6	7	8	9	10
⑤	②	④	③	①	③	⑤	②	④	①
11	12	13	14	15	16	17	18	19	20
①	④	⑤	③	①	②	⑤	⑤	④	③
21	22	23	24	25	26	27	28	29	30
③	④	⑤	①	④	①	②	②	④	③
31	32	33	34	35	36	37	38	39	40
②	③	①	⑤	②	③	③	①	⑤	④

## 2교시 | 민법개론

1	2	3	4	5	6	7	8	9	10
④	④	⑤	⑤	④	④	④	①	①	③
11	12	13	14	15	16	17	18	19	20
①	③,⑤	④	①	②	②	②	①	③	④
21	22	23	24	25	26	27	28	29	30
⑤	⑤	①	②	⑤	②	③	③	②	②
31	32	33	34	35	36	37	38	39	40
①	②	③	④	⑤	③	③	①	③	③

## 3교시 | 자연과학개론

1	2	3	4	5	6	7	8	9	10
④	④	②	②	⑤	③	④	⑤	①	③
11	12	13	14	15	16	17	18	19	20
①	①	②	④	③	③	⑤	⑤	④	①
21	22	23	24	25	26	27	28	29	30
③	⑤	②	①	①	④	①	③	④	⑤
31	32	33	34	35	36	37	38	39	40
②	④	②	③	①	④	①	③	⑤	⑤

01  
2023

제60회 변리사 1차 국가자격시험  
[1교시] 산업재산권법

**1. 기간에 관한 설명으로 옳지 않은 것은?**

- ① 기간을 월 또는 연의 처음부터 기산하지 아니하는 때에는 최후의 월 또는 연에서 그 기산일에 해당하는 날의 전일로 기간이 만료한다.
- ② 국내우선권주장에 있어서 선출원의 취하로 보는 시점은 기간의 말일이 공휴일이라 하더라도 기간의 말일이 그 다음날로 연장되지는 않는다.
- ③ 기간의 기산일이 공휴일인 경우 그 기간은 공휴일의 다음날부터 시작된다.
- ④ 법정기간은 특허법 제132조의17의 규정에 의한 심판의 청구기간에 한하여 연장할 수 있으나, 지정기간은 연장 대상에 제한이 없다.
- ⑤ 법정기간은 단축할 수 없으나 지정기간은 당사자의 청구에 따라 단축할 수 있다.

**2. '발명자'에 관한 설명으로 옳은 것은?**

- ① 특허법 제2조(정의)는 '발명자'란 자연법칙을 이용하여 기술적 사상을 창작한 자로 규정하고 있다.
- ② 특허법 제42조(특허출원) 제1항에 따라 출원인과 발명자가 동일한 경우 특허출원서에는 발명자의 성명 및 주소를 생략할 수 있다.
- ③ 특허법 제87조(특허권의 설정등록 및 등록공고)에 따라 특허청장은 출원인의 요청이 있으면 발명자의 성명 및 주소를 생략하여 등록공고를 할 수 있다.
- ④ 국제특허출원에 있어서 특허법 제203조(서면의 제출) 제1항 전단에 따른 서면에는 발명자의 성명 및 주소를 기재하여야 한다.
- ⑤ 특허법 제64조(출원공개)에 따라 특허청장은 공개특허공보에 발명자의 성명 및 주소를 반드시 게재하여 공개해야 한다.

**3. 특허법 제33조(특허를 받을 수 있는 자)에 관한 설명으로 옳지 않은 것은? (다툼이 있으면 판례에 따름)**

- ① 甲이 단독으로 완성한 발명 X에 대한 특허를 받을 수 있는 권리를 乙에게 이전하는 것에 묵시적으로 동의하면, 乙은 발명 X에 대한 특허를 받을 수 있는 권리의 승계인이 될 수 있다.
- ② 특허청 직원인 丙은 단독으로 완성한 발명 Y를 재직 중에 일반인 乙에게 양도하더라도, 乙은 발명 Y에 대한 특허를 받을 수 있는 권리의 승계인이 될 수 있다.
- ③ 甲과 乙이 공동으로 발명을 완성한 경우, 甲과 乙 사이에 지분을 정하는 특약이 없으면 공유자의 지분은 균등한 것으로 추정한다.
- ④ 특허청 직원인 丙으로부터 특허를 받을 수 있는 권리를 상속한 일반인 乙은 지체 없이 그 취지를 특허청장에게 신고하여야 한다.
- ⑤ 미성년자 丁은 법정대리인 戊의 동의가 있어야만 제3자로부터 특허를 받을 수 있는 권리를 무상으로 양도받을 수 있다.

4. 특허출원인 甲은 2022. 6. 1. 출원한 특허출원(청구항 제1항 내지 제10항)에 대한 의견제출통지서(청구항 제1항 내지 제8항은 특허법 제29조 제2항 진보성 흠결, 제9항 및 제10항은 특허 가능한 청구항으로 인정)를 2022. 8. 1. 통지받았다. 甲은 2022. 8. 30. 의견서 및 보정서를 제출하였으나, 심사관으로부터 2022. 10. 3. 특허거절결정서를 통지받았다. 이에 대응하여 甲은 특허거절결정에 대해서 특허법 제67조의2에 따른 재심사 청구를 하지 않고 2022. 10. 21. 특허법 제132조의17에 따른 심판을 청구하였으나 2023. 2. 10. 특허법 제132조의17에 따른 심판청구가 기각되었고, 2023. 2. 17. 심결의 등본을 송달받았다. 특허출원인 甲이 청구항 제9항 및 제10항에 대한 특허권을 획득하기 위하여 취할 수 있는 특허법상의 조치를 모두 고른 것은?

- ㄱ. 특허법 제52조(분할출원)에 따라 청구항 제9항 및 제10항을 분할 출원
- ㄴ. 특허법 제52조의2(분리출원)에 따라 청구항 제9항 및 제10항을 분리 출원
- ㄷ. 특허법 제55조(특허출원 등을 기초로 한 우선권 주장)에 따라 청구항 제9항 및 제10항을 청구범위에 기재하여 국내 우선권 주장 출원
- ㄹ. 특허법 제67조의2(재심사의 청구)에 따라 청구항 제9항 및 제10항을 남기고 나머지 청구항을 삭제하는 보정을 하면서 재심사 청구

- ① ㄱ, ㄴ                    ② ㄱ, ㄷ                    ③ ㄱ, ㄹ                    ④ ㄴ, ㄷ                    ⑤ ㄴ, ㄹ

5. 특허법상 신규성 또는 진보성에 관한 설명으로 옳지 않은 것은? (다툼이 있으면 판례에 따름)

- ① 복수의 인용발명의 결합에 의하여 특허성을 판단하는 것은 진보성의 문제이며, 신규성의 문제가 아니다.
- ② 청구항에 기재된 발명에 대하여 동일한 인용발명으로, 또는 인용발명을 달리하여 신규성이 없다는 거절 이유와 진보성이 없다는 거절 이유를 동시에 통지할 수 있다.
- ③ 발명의 진보성 유무를 판단할 때에는 진보성 판단의 대상이 된 발명의 명세서에 개시되어 있는 기술을 알고 있음을 전제로 하여 사후적으로 통상의 기술자가 그 발명을 쉽게 발명할 수 있는지를 판단하여서는 아니 된다.
- ④ 독립항의 진보성이 인정되는 경우에는 그 독립항을 인용하는 종속항도 예외 없이 진보성이 인정 된다.
- ⑤ 선행기술이 미완성 발명이거나 표현이 불충분하거나 또는 일부 내용에 흠결이 있다면, 통상의 기술자가 기술상식이나 경험칙에 의하여 쉽게 기술내용을 파악할 수 있다고 하더라도 진보성 판단의 대비 자료로 인용할 수 없다.

**6. 특허법상 신규성에 관한 설명으로 옳지 않은 것은? (다툼이 있으면 판례에 따름)**

- ① 신규성 판단에 있어서 '공지(公知)된 발명'이란 특허출원 전에 국내 또는 국외에서 그 내용이 비밀 상태로 유지되지 않고 불특정인에게 알려지거나 알려질 수 있는 상태에 있는 발명을 의미한다. 여기서 '불특정인'이란 그 발명에 대한 비밀준수 의무가 없는 자를 말한다.
- ② 신규성 판단에 있어서 '특허출원 전'이란 특허출원일의 개념이 아닌 특허출원의 시, 분, 초까지도 고려한 자연시(自然時, 외국에서 공지된 경우 한국시간으로 환산한 시간) 개념이다.
- ③ 불특정인에게 공장을 견학시킨 경우, 그 제조상황을 보았을 경우에 제조공정의 일부에 대하여는 장치의 외부를 보아도 그 제조공정의 내용을 알 수 없는 것으로서, 그 내용을 알지 못하면 그 기술의 전체를 알 수 없는 경우에도 견학자가 그 장치의 내부를 볼 수 있거나 그 내부에 대하여 공장의 종업원에게 설명을 들을 수 있는 상황(공장 측에서 설명을 거부하지 않음)으로서 그 내용을 알 수 있을 때에는 그 기술은 공연히 실시된 것으로 본다.
- ④ 카탈로그가 제작되었으면 배부, 반포되는 것이 사회통념이므로 카탈로그의 배부범위, 비치장소 등에 관하여 구체적인 증거가 없다고 하더라도 그 카탈로그가 배부, 반포되었음을 부인할 수는 없다.
- ⑤ 내부에 특징이 있는 발명에 대해 그 외형 사진만이 간행물에 게재되어 있는 경우에 그 발명은 게재된 것이라고 할 것이다.

**7. 특허요건 중 '산업상 이용 가능성'에 관한 설명으로 옳지 않은 것은? (다툼이 있으면 판례에 따름)**

- ① 인체를 처치하는 방법이 치료 효과와 비치료 효과를 동시에 가지는 경우, 양자를 구별 및 분리할 수 없는 방법은 치료방법으로 간주되어 산업상 이용 가능한 것으로 인정하지 않는다.
- ② 인체에도 적용할 수 있으나 청구범위의 기재에서 동물에게만 한정하여 특허 청구항을 명시하는 의료행위는 산업상 이용 가능성이 있는 것으로 취급한다.
- ③ 의료인에 의한 의료행위가 아니더라도 발명의 목적, 구성 및 효과 등에 비추어 보면 인간의 질병을 치료, 예방 또는 건강상태의 증진 내지 유지 등을 위한 처치방법의 발명인 경우에는 산업상 이용 가능성이 없는 것으로 취급한다.
- ④ 인간의 수술, 치료 또는 진단에 사용하기 위한 의료 기기 그 자체, 의약품 그 자체 등은 산업상 이용 가능성이 없는 것으로 취급한다.
- ⑤ 의료기기의 작동방법 또는 의료기기를 이용한 측정방법 발명은 그 구성에 인체와 의료기기 간의 상호작용이 인체에 직접적이면서 일시적이 아닌 영향을 주는 경우 또는 실질적인 의료행위를 포함하는 경우를 제외하고는 산업상 이용 가능한 것으로 취급한다.

**8. 발명 A에 대한 공지의 예외 주장을 할 수 없는 경우는? (다툼이 있으면 판례에 따름)**

- ① 甲은 2021. 5. 15. 학회에서 발명 A를 공개하고 2021. 9. 15. 출원하였으나 출원서에 자기공지 예외문구를 누락하였다. 甲은 2021. 12. 15. 특허등록결정등본을 송달받았고, 설정등록 전인 2022. 3. 30. 소정의 수수료를 내고 자기공지 예외취지의 서류를 제출하였다.
- ② 甲은 2022. 9. 1. 발명 A를 공개한 후 2023. 1. 5. 원특허출원을 하였으나 공지예외를 주장하지 않았고, 거절이유 통지에 따른 의견서 제출기간 내에 분할출원을 실시하면서 공지예외를 주장하였다.
- ③ 甲은 국내우선권주장출원을 하면서 선출원보다 늦게 자기공지된 발명 A에 대하여 공지의 예외를 주장하였다.
- ④ 甲은 2020. 2. 1. 발명 A를 박람회 에 출품하고 2020. 12. 1. 공지예외를 주장하면서 특허출원하였다. 한편 乙은 박람회에서 발명 A를 지득하고 2020. 5. 2. 간행물에 전재(轉載)하였는바, 甲이 이 사실과 함께 자신의 의사에 반한 공지임을 입증하였다.
- ⑤ 甲은 2020. 2. 1. 발명 A를 학회에서 발표하였는데, 그 내용이 강연집에 실리게 되었다. 甲은 학회발표에 대해서만 적법한 공지예외 주장 절차를 밟았다.

**9. 진보성 판단에 관한 설명으로 옳지 않은 것은? (다툼이 있으면 판례에 따름)**

- ① 출원발명의 수치범위가 선행발명의 수치범위에 포함된다면, 특허발명에 진보성을 인정할 수 있는 다른 구성요소가 없는 경우 출원발명의 수치한정이 임계적 의의를 가지는 때에 한하여 진보성이 인정된다.
- ② 파라미터발명은 청구항의 기재 자체만으로는 기술적 구성을 명확하게 이해할 수 없는 경우가 있으므로, 파라미터발명의 진보성은 발명의 설명 또는 도면 및 출원시의 기술 상식을 참작하여 발명을 명확하게 파악하여 판단한다.
- ③ 제조방법이 기재된 물건발명의 특허요건을 판단함에 있어서 그 기술적 구성을 제조방법 자체로 한정하여 출원 전에 공지된 선행기술과 비교하여 진보성 판단을 하여야 한다.
- ④ 의약화학물 분야에 속하는 결정형 발명은 구성만으로 효과의 예측이 쉽지 않으므로 구성의 곤란성을 판단할 때 발명의 효과가 선행발명에 비하여 현저하다면 구성의 곤란성을 추론할 수도 있다.
- ⑤ 선택발명의 경우 공지된 화합물이 갖는 효과와 질적으로 다르거나 양적으로 현저한 효과의 차이가 있다는 점이 발명의 설명에 명확히 기재되어 있다면 이를 기초로 진보성 판단을 할 수 있다.



10. 특허법 제84조(특허료 등의 반환)에 관한 설명으로 옳지 않은 것은?

- ① 납부된 특허료 및 수수료는 제1항 각호의 어느 하나에 해당하는 경우에만 납부한 자의 청구에 의하여 반환한다.
- ② 잘못 납부된 특허료 및 수수료는 납부한 자의 청구에 의하여 반환한다.
- ③ 납부된 특허료 및 수수료는 특허권의 존속기간의 연장등록을 무효로 한다는 심결이 확정된 해의 다음 해부터의 특허료 해당분에 해당하는 경우 납부한 자의 청구에 의하여 반환한다.
- ④ 특허청장 또는 특허심판원장은 납부된 특허료 및 수수료가 제1항 각호의 어느 하나에 해당하는 경우에는 그 사실을 납부한 자에게 통지하여야 한다.
- ⑤ 제1항에 따른 특허료 및 수수료의 반환청구는 제2항에 따른 통지를 받은 날부터 3년이 지나면 할 수 없다.

11. 특허법상 ‘통상실시권 설정의 재정’에 관한 설명으로 옳지 않은 것은?

- ① 특허발명의 실시가 공공의 이익을 위하여 특히 필요하여 하는 재정의 경우, 특허청장은 재정을 받은 자에게 통상실시권은 국내수요충족을 위한 공급을 주목적으로 하여야 한다는 조건을 붙일 수 있다.
- ② 특허발명을 실시하려는 자는 공공의 이익을 위하여 특허발명을 비상업적으로 실시하려는 경우와 사법적 절차 또는 행정적 절차에 의하여 불공정거래행위로 판정된 사항을 바로잡기 위하여 특허발명을 실시할 필요가 있는 경우, 특허권자 또는 전용실시권자와 협의 없이도 재정을 청구할 수 있다.
- ③ 반도체 기술에 대해서는, 공공의 이익을 위하여 비상업적으로 실시하려는 경우와, 사법적 절차 또는 행정적 절차에 의하여 불공정거래행위로 판정된 사항을 바로잡기 위하여 특허발명을 실시할 필요가 있는 경우에만 재정을 청구할 수 있다.
- ④ 특허출원일부터 4년이 지나지 아니한 특허발명에 관하여는 특허발명이 정당한 이유 없이 계속하여 3년 이상 국내에서 상당한 영업적 규모로 실시되고 있지 아니하거나 적당한 정도와 조건으로 국내수요를 충족시키지 못한다는 것을 근거로 재정을 청구할 수 없다.
- ⑤ 재정에 의한 통상실시권은 실시사업과 함께 이전하는 경우에만 이전할 수 있다.

**12. 특허법상 ‘허가 등에 따른 특허권의 존속기간 연장제도’에 관한 설명으로 옳지 않은 것은? (다툼이 있으면 판례에 따름)**

- ① 허가 등에 따른 특허권존속기간 연장등록출원은 대상이 되는 특허발명의 특허권이 존속되는 경우에만 가능하다.
- ② 하나의 특허와 관련하여 연장등록출원의 대상이 되는 유효성분 A, B 및 C에 대하여 각각 허가 A, B 및 C를 받았다면 각 유효성분에 대하여 연장 받고자 하는 허가 모두에 대하여 1회씩 연장등록출원 할 수 있다.
- ③ 특허권의 존속기간을 연장 받을 수 있는 기간은 그 특허발명을 실시할 수 없었던 기간으로서 5년의 기간 내로 한정된다.
- ④ 해당 관청의 심사부서 중 어느 한 부서의 보완요구로 인하여 보완기간이 소요되었다 하더라도, 다른 부서에서 허가를 위한 심사 등의 절차가 계속 진행되고 있었던 경우에는 그 보완기간 중 다른 부서에서 심사가 진행되고 있는 기간과 중첩되는 기간에 관한 한 허가 등을 받은 자의 책임 있는 사유로 인하여 허가가 지연되었다고 볼 수 없으므로 위 중첩되는 기간은 그 특허발명을 실시할 수 없었던 기간에서 제외할 수 없다.
- ⑤ 특허권 존속기간의 연장등록출원의 출원인은 특허권자에 한하며 특허권이 공유인 경우에는 공유자 전원이 공동으로 특허권 존속기간의 연장등록출원을 하여야 한다.

**13. 특허법상 특허권침해에 관한 설명으로 옳은 것은? (다툼이 있으면 판례에 따름)**

- ① 물건 A에 대한 특허권의 전용실시권자 甲은 乙이 아무런 과실 없이 자신의 전용 실시권을 침해하는 행위를 하였더라도 乙을 상대로 A를 제조하는데 제공된 기계의 제거를 청구할 수 없다.
- ② 의약이라는 물건의 발명에서 대상 질병 또는 약효와 함께 투여용법과 투여용량을 부가하더라도 이러한 투여용법과 투여용량은 의료행위 그 자체에 해당하므로 이러한 투여용법과 투여용량의 부가에 의하여 별개의 의약용도발명이 된다고 볼 수 없다.
- ③ 발명의 상세한 설명의 기재와 출원당시의 공지기술 등을 참작하여 파악되는 특허발명의 해결수단이 기초하고 있는 기술사상의 핵심이 침해제품 등에서도 구현되어 있다면 작용효과가 실질적으로 동일하다고 보는 것이 원칙이다.
- ④ 시장에서 다른 용도로 판매되고 있어 오로지 특허발명의 생산에만 사용되는 전용물이 아니더라도, 그것이 특허발명의 과제해결에 필수불가결한 기능을 하고, 당사자가 그 물건이 특허발명의 실시 사용된다는 사정을 알면서 업으로 이를 공급한다면 특허법 제127조에서 정한 간접침해에 해당한다.
- ⑤ 법원은 타인의 특허권을 침해한 행위가 고의적인 것으로 인정되는 경우에는 손해로 인정된 금액 범위 내에서 배상액을 정하여야 한다.

14. 甲은 제품 X를 국내에서 직접 생산하는 제조업자이고, 乙은 甲으로부터 제품 X를 납품받아 판매하는 판매업자이다. 특허권자 丙은 乙의 제품 표가 자신의 특허권 P(청구항 제1항 내지 제10항)를 직접 침해하고 있다고 판단하여 乙에게 서면으로 침해 경고장(청구항 제1항 내지 제3항을 침해한다고 기재)을 송부하였다. 乙은 丙으로부터 침해 경고장을 수령한 후에 특허 무효 조사를 실시하여 특허권 P의 청구항 제1항 및 제2항에 대한 진보성의 흠결을 입증할 수 있는 유력한 증거 E를 확인하였고, 청구항 제3항은 잘못 기재된 사항이 있음을 확인하였다. 甲, 乙 및 丙이 각각 취할 수 있는 특허법상의 조치에 관한 설명으로 옳지 않은 것은? (다툼이 있으면 판례에 따름)

- ① 乙은 판매하는 제품 X가 丙의 특허권 요의 제1항 및 제2항의 권리 범위에 속하지 않는다는 청구 취지로 특허법 제135조의 권리범위 확인심판을 청구할 수 있다.
- ② 丙은 甲에 의해서 특허무효심판(증거 E를 제출하며 청구항 제1항 및 제2항의 진보성 흠결을 청구 이유로 기재)이 청구된 후 지정 기간 내에 특허권 P의 청구항 제3항에 대해서 정정을 청구할 수 있다.
- ③ 甲과 乙은 특허권 P의 청구항 제1항 및 제2항에 대해서 특허법 제29조 위반을 주장하고 청구항 제3항에 대해서 특허법 제42조 제4항 위반을 주장하는 심판청구서를 공동으로 특허심판원에 제출할 수 있다.
- ④ 乙이 丙을 상대로 특허권 P에 대한 특허무효심판(청구항 제3항에 대해서 특허법 제42조 제4항 위반을 청구 이유로 기재)을 청구하여 특허심판원에 계속 중인 경우, 丙은 특허권 P에 대한 정정 심판을 청구하여 두 심판에 대한 심리의 병합을 신청할 수 있다.
- ⑤ 甲에 의해서 청구된 특허무효심판에서 丙이 답변서를 제출하였음에도 인용심결이 나온 경우 甲은 반드시 丙의 동의를 받아야만 특허무효심판의 취하를 할 수 있다.

15. 특허권 A에 대한 특허무효심판에 대한 심결이 2023. 1. 27. 오전 0시 확정(해당 심결 이전의 확정심결과 저촉되지 않음)되었고, 특허권자 甲은 2023. 2. 6. 재심 사유를 알게 되었으며, 심결 등본의 송달에 의하여 특허무효심결이 있는 것을 알게 된 날은 2023. 2. 13.이다. 甲은 확정된 무효심결에 대해서 재심을 청구하려 한다. 이에 관한 설명으로 옳은 것을 모두 고른 것은? (모든 일자는 공휴일이 아닌 것으로 하며, 아래 각 지문은 독립적으로 판단할 것)

- ㄱ. 甲은 2026. 1. 27.이 경과하면 재심을 청구할 수 없다.
- ㄴ. 甲은 2023. 3. 8.까지 재심을 청구할 수 있다.
- ㄷ. 재심사유가 2023. 2. 2.에 생겼다면, 甲은 2026. 2. 2.까지 재심을 청구할 수 있다.
- ㄹ. 대리권의 흠을 이유로 재심을 청구하는 경우에 甲은 2023. 3. 15.까지 재심을 청구할 수 있다.

- ① ㄱ, ㄴ, ㄷ
- ② ㄱ, ㄴ, ㄹ
- ③ ㄱ, ㄷ, ㄹ
- ④ ㄴ, ㄷ, ㄹ
- ⑤ ㄱ, ㄴ, ㄷ, ㄹ

16. 심결취소소송에서 당사자적격에 관한 설명으로 옳은 것을 모두 고른 것은? (다툼이 있으면 판례에 따름)

- ㄱ. 특허취소결정, 결정계 심판의 심결 또는 그 재심의 심결 및 심판청구서·재심청구서 각하 결정에 대한 소를 제기하는 경우에는 특허청장을 피고로 하여야 한다.
- ㄴ. 공동으로 특허무효심판을 청구하여 승소한 경우, 특허권자가 공동심판청구인 중 일부만을 상대로 제기한 심결취소소송에서 당사자변경을 가져오는 당사자 추가신청은 허용된다.
- ㄷ. 특허취소신청 기각결정에 대하여는 불복할 수 없으며, 인용결정에 대한 불복소송에서 특허권자는 원고가 된다.
- ㄹ. 심결취소소송에서 특허취소결정·심판·재심사건의 당사자, 참가인 그 외 심결에 의하여 자기의 법률상 이익이 침해되는 자는 원고적격이 인정된다.

- ① ㄱ, ㄴ                      ② ㄱ, ㄷ                      ③ ㄴ, ㄷ                      ④ ㄴ, ㄹ                      ⑤ ㄷ, ㄹ

17. 특허소송에 관한 설명으로 옳지 않은 것은? (다툼이 있으면 판례에 따름)

- ① 심결 또는 결정의 취소판결이 확정된 경우에는 심판관은 심판청구인의 새로운 신청을 기다리지 않고 취소판결의 취지에 따라 다시 심리하여야 한다.
- ② 당사자계 심판에 대한 심결취소소송의 경우 당사자는 심결에서 판단되지 않은 위법사유도 심결취소소송단계에서 주장·입증할 수 있다.
- ③ 심결취소소송에서 특허발명의 진보성 판단에 제공되는 선행발명이 어떤 구성요소를 가지고 있는지 여부는 주요 사실로서 당사자 자백의 대상이 된다.
- ④ 등록무효심판 심결에 대한 특허소송의 경우 주지관용기술 여부는 법원이 자유로운 심증에 의하여 증거 등을 통하여 인정할 수 있다.
- ⑤ 거절결정불복심판 심결에 대한 특허소송에서 발명의 성립, 신규성 결여 등에 대해서는 출원인이 이를 주장·증명하여야 한다.

18. 실용신안법상 벌칙에 관한 설명으로 옳지 않은 것을 모두 고른 것은?

- ㄱ. 침해죄(제45조 제1항)는 고소가 없으면 공소를 제기할 수 없다.
- ㄴ. 특허청 또는 특허심판원 소속 직원이거나 직원이었던 사람이 실용신안등록 출원 중인 고안(국제출원 중인 고안을 포함한다)에 관하여 직무상 알게 된 비밀을 누설하거나 도용한 경우에는 5년 이하의 징역 또는 5천만원 이하의 벌금에 처한다.
- ㄷ. 전문심리위원 또는 전문심리위원이었던 자가 그 직무수행 중에 알게 된 다른 사람의 비밀을 누설하는 경우에는 2년 이하의 징역이나 금고 또는 1천만원 이하의 벌금에 처한다.
- ㄹ. 비밀유지명령 위반죄(제49조의2 제1항)는 비밀유지명령을 신청한 자의 고소가 없으면 공소를 제기할 수 없다.
- ㅁ. 침해죄(제45조 제1항)에 해당하는 침해행위를 조성한 물품 또는 그 침해행위로부터 생긴 물품은 몰수하거나 피해자의 청구에 따라 그 물품을 피해자에게 교부할 것을 선고하여야 한다.

- ① ㄱ, ㄷ, ㄹ      ② ㄱ, ㄷ, ㅁ      ③ ㄱ, ㄹ, ㅁ      ④ ㄴ, ㄷ, ㄹ      ⑤ ㄷ, ㄹ, ㅁ

19. 특허에 관한 설명으로 옳지 않은 것은? (다툼이 있으면 판례에 따름)

- ① 선특허권 등과 후출원 등록상표권이 저촉되는 경우에, 선특허권 등의 권리자는 후출원 상표권자의 동의가 없더라도 자신의 권리를 자유롭게 실시할 수 있지만, 후출원 상표권자가 선특허권 등의 권리자의 동의를 받지 않고 그 등록상표를 지정상품에 사용하면 선특허권 등에 대한 침해가 성립한다.
- ② 선출원에 대한 우선권 주장을 수반하는 후출원을 한 후출원인은 그 특허출원시에 선출원인과 동일인이거나 그 적법한 승계인이어야 하고, 후출원인이 선출원인의 특허출원 후 특정승계의 방법으로 그 특허를 받을 수 있는 권리를 양수한 경우에는 특허출원인 변경신고를 하지 아니하면 그 권리승계의 효력이 발생하지 않는다.
- ③ 특허권침해소송의 상대방이 제조하는 제품 또는 사용하는 방법이 특허발명의 특허권을 침해한다고 하기 위하여는 특허발명의 청구범위에 기재된 각 구성요소와 그 구성요소 간의 유기적 결합관계가 침해대상제품 등에 그대로 포함되어 있어야 한다.
- ④ 특허출원 전에 특허를 받을 수 있는 권리를 계약에 따라 이전한 양도인이 특허출원을 하여 설정등록이 이루어진 경우, 그 특허권은 특허무효사유에 해당하는 '정당한 권리자 아닌 사람'의 특허이다.
- ⑤ 특허심판원에 계속 중인 심판에 대하여 동일한 당사자가 동일한 심판을 다시 청구한 경우, 후심판이 중복심판청구 금지에 위반되는지 판단하는 기준 시점은 후심판의 심결 시이다.

20. 발명 A의 발명자인 甲은 그의 권리의 지분 일부를 乙에게 양도하였다. 이에 관한 설명으로 옳지 않은 것은? (다툼이 있으면 판례에 따름)

- ① 발명 A에 대하여 甲이 단독으로 특허출원한 경우에는 등록거절사유, 등록무효사유가 된다.
- ② 甲 과 乙은 특허 취득 전 발명 A에 대한 권리를 제3자에게 양도하는 것은 가능하나 질권 설정은 불가하다.
- ③ 발명 A가 적법하게 등록된 경우, 제3자는 권리의 일부 지분에 대해서만 무효심판을 청구할 수 없다.
- ④ 甲과 乙이 발명 A에 대한 특허권을 공유한 경우, 각 공유자에게 특허권을 부여하는 방식의 현물분할을 할 수 있다.
- ⑤ 발명 A가 등록 거절된 경우 甲과 乙은 공동으로 거절결정불복심판을 청구하여야 한다.

21. 상표법 제7조(대리권의 범위)에 따라 특별수권을 받아야 하는 행위에 해당하지 않는 것은?

- ① 지정상품추가등록출원을 상표등록출원으로 변경하는 경우.
- ② 상표등록출원을 그 지정상품마다 분할하여 이전하는 경우에 유사한 지정상품을 함께 이전하지 않아 상표등록을 할 수 없다는 이유로 된 거절결정에 대하여 불복하여 심판을 제기하는 경우.
- ③ 이해관계인이 등록상표가 식별력이 없는 상표라는 이유로 제기한 상표등록무효심판에 대하여 답변서를 제출하는 경우.
- ④ 보정각하결정불복심판을 대리하고 있던 변리사 甲이 구술심리기일에 출석하기 어렵게 되자 변리사 乙에게 그 특허심판원의 심리기일에 출석을 위해 대리권을 다시 위임하는 경우.
- ⑤ 당사자가 사망하여 중단된 상표에 관한 절차의 수계신청을 취하하는 경우.

22. 상표법 제36조(상표등록출원)에서 상표등록출원서를 제출하면서 제1항 각 호의 사항 외에 첨부하여야 하는 것을 기술한 것이다. 이에 관한 설명으로 옳지 않은 것을 모두 고른 것은?

- ㄱ. 단체표장등록: 대통령령으로 정하는 단체표장의 사용에 관한 사항을 정한 정관
- ㄴ. 증명표장등록: 대통령령으로 정하는 바에 따라 그 표장에 관한 설명과 증명하려는 상품의 품질, 원산지, 사용방법 그리고 그 밖의 특성을 증명하고 관리할 수 있음을 증명하는 서류
- ㄷ. 지리적 표시 단체표장등록: 대통령령으로 정하는 바에 따라 지리적 표시 상품의 생산지를 증명하는 서류
- ㄹ. 업무표장등록: 그 업무의 경영 사실을 증명하는 서류

- ① ㄱ, ㄴ                      ② ㄱ, ㄷ                      ③ ㄴ, ㄷ                      ④ ㄴ, ㄹ                      ⑤ ㄷ, ㄹ

23. 상표법 제34조(상표등록을 받을 수 없는 상표) 제1항 각 호의 내용으로 옳은 것을 모두 고른 것은?

- ㄱ. 선출원(先出願)에 의한 타인의 등록상표(등록된 지리적 표시 단체표장을 포함한다)와 동일·유사한 상표로서 그 지정상품과 동일·유사한 상품에 사용하는 상표
- ㄴ. 동업·고용 등 계약관계나 업무상 거래관계 또는 그 밖의 관계를 통하여 타인이 사용하거나 사용을 준비 중인 상표임을 알면서 그 상표와 동일·유사한 상표를 동일·유사한 상품에 등록출원한 상표
- ㄷ. 수요자들에게 인식되어 있는 타인의 상품이나 영업과 혼동을 일으키게 하거나 그 식별력 또는 명성을 손상시키는 상표
- ㄹ. 국가·인종·민족·공공단체·종교 또는 저명한 고인(故人)과의 관계를 거짓으로 표시하거나 이들을 비방 또는 모욕하거나 이들에 대한 평판을 나쁘게 할 우려가 있는 상표

- ① ㄱ, ㄴ                    ② ㄱ, ㄷ                    ③ ㄴ, ㄷ                    ④ ㄴ, ㄹ                    ⑤ ㄷ, ㄹ

24. 상표에 관한 절차에 대한 설명으로 옳은 것은?

- ① 미국에 주소를 두고, 미국과 유럽에만 영업소를 가지고 있던 회사 甲의 대표자가 직접 국내에 거주하면서 한국내 자회사의 임원 등을 선발하기 위한 면접을 하더라도 자회사 설립전인 경우에는 상표에 관한 대리인으로서 국내에 주소나 영업소가 있는 자에 의해서만 상표출원을 할 수 있다.
- ② 미성년자가 행한 상표출원행위에 대하여 법정대리인의 추인에 의한 출원행위의 효력 발생시점은 미성년자의 상표 출원시점부터가 아닌 법정대리인의 추인행위를 한 시점부터 그 효력이 발생한다.
- ③ 상표에 관한 절차를 밟는 자로부터 출원을 위임받은 대리권자의 대리권은 반드시 서면에 의하여 증명해야 하고, 심판절차에서 위임한 위임인과 동시에 출석하여 구두로 대리권을 증명할 수는 없다.
- ④ 심판을 청구하는 자가 책임질 수 없는 불가항력으로 인하여 심결의 등본을 송달받은 날로부터 30일 이내에 심결에 관한 소를 제기하지 못한 경우에는 그 불가항력 사유가 소멸한 날로부터 2개월 이내에 소를 제기할 수 있다.
- ⑤ 미성년자의 법정대리인의 사망으로 대리권이 소멸하여 상표에 관한 절차가 중단된 경우에 성년이 된 미성년자는 절차를 수계할 수 없다.

**25. 상표법에 관한 설명으로 옳은 것은?**

- ① 전용사용권 설정행위에 의하여 그 등록상표의 지정상품과 유사한 상품에 대하여 그 등록상표를 사용할 권리가 취득될 수 있다.
- ② 전용사용권자는 상표권의 사용에 대하여 받을 대가나 물건에 대해서도 그 지급 또는 인도 전에 그 대가나 물건을 압류하여 물상대위권을 행사할 수 있다.
- ③ 통상사용권자는 그 사용권을 특허청에 등록할 필요는 없으나 그 상품에 자신의 이름이나 명칭과 상표에 관한 표시를 하여야 한다.
- ④ 동일자로 출원된 특허권과 상표권이 상호 저촉되는 경우, 그 특허권의 존속기간이 만료되는 때에는 그 상표권의 통상사용권자는 상표를 사용할 권리를 가진 자에게 그의 업무에 관한 상품과 자기의 업무에 관한 상품 간에 혼동을 방지하는 데 필요한 표시를 하도록 청구할 수 있다.
- ⑤ 질권자가 질권의 목적인 상표권을 이전받은 경우, 권리의 혼동으로 인한 그 질권의 소멸은 등록하지 아니하더라도 그 효력이 발생한다.

**26. 표범상 이전에 관한 설명으로 옳은 것은?**

- ① 국제등록 명의를 변경에 따라 국제등록 지정상품의 전부 또는 일부가 분할되어 이전된 경우에는 국제상표등록출원은 변경된 국제등록명의인에 의하여 각각 출원된 것으로 본다.
- ② 특허청장은 상표에 관한 절차가 특허청에 계속(繫屬) 중일 때 상표권 또는 상표에 관한 권리가 이전된 경우에는 그 상표권 또는 상표에 관한 권리의 승계인에게 그 절차를 속행(續行)하도록 하여야 한다.
- ③ 통상사용권은 상속이나 그 밖의 일반승계의 경우를 제외하고는 상표권자의 동의를 받지 아니하고 설정행위로 정한 범위에서 이전할 수 있다.
- ④ 상표권자는 상표권을 목적으로 하는 질권설정 또는 공유인 상표권의 분할청구 전에 지정상품에 관하여 그 등록상표를 사용하고 있는 경우라도 그 상표권이 경매에 의하여 이전되는 경우 그 상표권에 대하여 통상사용권을 가지지 않는다.
- ⑤ 상표권자가 사망한 날부터 3년 이내에 상속인이 그 상표권의 이전등록을 하지 아니한 경우에는 상표권자가 사망한 날부터 3년이 되는 날에 상표권이 소멸된다.



**27. 상표권에 관한 설명으로 옳지 않은 것은? (다툼이 있으면 판례에 따름)**

- ① 甲이 등록한 상표와 동일한 상표를 그 등록상표의 지정상품과 동일한 상품에 乙이 임의로 사용하여 丙에게 판매한 경우, 상표권자 甲은 乙에게 손해배상을 청구할 수 있으나 그 상품이 위조상표를 부착한 상품이라는 사정을 자신의 책임있는 사유없이 전혀 알 수 없었던 丙에게는 권리소진의 항변이 인정되므로 손해배상을 청구할 수 없다.
- ② 상표권자 甲으로부터 상표권의 지분을 1% 이전 받은 乙은 상표권을 침해하는 丙을 상대로 단독으로 상표권 침해금지청구권을 행사할 수 있다.
- ③ 상표권을 甲과 乙이 각각 50%의 지분비율로 등록을 하고 있는 경우에 乙은 甲의 동의 없이 자신의 지분에 기하여 丙에게 특정지역에 한정하여 통상사용권을 설정하는 것은 허용되지 않는다.
- ④ 증명 표장권자는 특허청장의 허가를 받더라도 같은 증명업무를 영위하는 자에게 증명표장만을 양도할 수는 없다.
- ⑤ 국제올림픽위원회는 상표법 제34조(상표등록을 받을 수 없는 상표) 제1항 제1호 다목 단서에 따라 자기 표장인 오륜기를 상표등록을 받더라도 그 상표권에 대하여 질권을 설정할 수 없다.

**28. 상표등록취소심판에 관한 설명으로 옳지 않은 것은? (다툼이 있으면 판례에 따름)**

- ① 통상사용권자가 사용허락을 받은 등록상표를 그 상표의 지정상품과 유사한 상품에 사용하여 수요자에게 상품의 품질을 오인하게 한 경우에 수요자는 상표법 제119조(상표등록의 취소심판) 제1항 제2호에 따라 해당상표에 대하여 상표등록취소심판을 청구할 자격이 있다.
- ② 甲이 2022. 12. 1.에 등록한 등록상표 사용이 乙에 대하여 부정경쟁방지 및 영업비밀 보호에 관한 법률 제2조 제1호 파목의 부정경쟁행위를 구성하는 경우에, 그 상표에 관한 권리를 가진 자는 2023. 1. 31.에 甲의 상표에 대하여 상표등록취소심판을 제기 할 수 있다.
- ③ 증명표장권자가 다른 증명표장이나 상표와 혼동방지조치를 취하면서 품질관리를 위해 직접 유통 판매하는 상품에 대하여 그 증명표장을 사용한 경우에 취소심판의 대상이 된다.
- ④ 상표법 제119조 제1항 제1호의 사유로 상표등록취소심판이 제기된 후에 상표권자가 그 상표를 포기하여 이를 등록하였더라도 계속하여 심리를 진행하여야 한다.
- ⑤ 甲은 외부 주문에 따라 생산만하는 파운드리 회사로서 소위 팹리스(fabless) 반도체 설계 판매회사인 乙로부터 반도체 설계와 상품제조에 대한 품질관리 등 실질적인 통제를 받으면서, 乙이 주문 한대로만 생산한 반도체 전량을 乙에게 공급하고 있다. 이 경우 甲이 乙의 등록상표를 반도체에 표시한 상표사용행위는 특별한 사정이 없는 한 상표법 제119조 제1항 제3호에 따른 불사용취소심판에서 乙의 상표사용행위로 인정된다.

**29. 상표법상 권리범위확인심판에 관한 설명으로 옳지 않은 것은? (다툼이 있는 경우 판례에 따름)**

- ① 업무표장권의 적극적 권리범위확인심판사건에서 확인대상표장과 피심판청구인이 실제로 사용하는 표장이 차이가 있더라도 그 차이는 부분이 부기적인 것에 불과하여 양 표장이 동일성이 인정되는 경우에는 확인의 이익이 있다.
- ② 상표권의 권리범위확인심판에서 확인대상표장의 전체 또는 일부가 상표법 제90조(상표권의 효력이 미치지 아니하는 범위) 제1항 제4호 ‘상품에 대하여 관용하는 상표’에 해당하는지 여부의 판단 시점은 심결시이다.
- ③ 권리범위확인심판에서 등록상표와 확인대상표장의 유사 여부는 그 외관, 호칭 및 관념을 객관적, 전체적, 이격적으로 관찰하여 그 지정상품의 거래에서 일반 수요자들이 상표에 대하여 느끼는 직관적 인식을 기준으로 그 상품의 출처에 관하여 오인·혼동을 일으키게 할 우려가 있는지에 따라 판단한다.
- ④ 상표권의 권리 대 권리간 적극적 권리범위확인심판은 확인대상표장이 심판청구인의 등록상표와 동일 또는 유사하다고 하더라도 등록무효절차 이외에서 등록된 권리의 효력을 부인하는 결과가 되어 부적법하다.
- ⑤ 상표권의 적극적 권리범위확인심판은 심결이 확정된 경우 심판의 당사자뿐만 아니라 제3자에게도 일사부재리의 효력이 미친다. 이에 따라 상표권의 효력이 미치는 범위의 권리확정을 위해 적극적 권리범위확인심판에서 선사용권의 존부에 대해서 심리·판단하는 것이 허용된다.

**30. 상표권침해와 손해배상에 관한 설명으로 옳지 않은 것은? (다툼이 있는 경우 판례에 따름)**

- ① 타인의 등록상표를 이용한 경우라고 하더라도 그것이 상표의 본질적인 기능이라고 할 수 있는 출처표시를 위한 것이 아니어서 상표의 사용으로 인식될 수 없는 경우에는 등록상표의 상표권을 침해한 행위로 볼 수 없다.
- ② 등록상표에 대한 등록무효심결이 확정되기 전이라고 하더라도 상표등록이 무효심판에 의하여 무효로 될 것임이 명백한 경우에는 상표권에 기초한 침해금지 또는 손해배상 등의 청구는 특별한 사정이 없는 한 권리남용에 해당하여 허용되지 아니한다.
- ③ 법원은 상표권 또는 전용사용권의 침해에 관한 소가 제기된 경우에는 그 취지를 특허심판원장에게 통보하여야 한다. 그 소송절차가 끝난 경우에도 또한 같다.
- ④ 상표법 제109조(손해배상의 청구)에 따른 손해배상을 청구하는 경우 그 등록상표의 사용에 대하여 통상받을 수 있는 금액에 상당하는 액을 상표권자가 받은 손해액으로 하여 그 손해배상을 청구할 수 있다.
- ⑤ 상표권자는 자기가 사용하고 있는 등록상표와 같거나 동일성이 있는 상표를 그 지정상품과 같거나 동일성이 있는 상품에 사용하여 자기의 상표권을 고의나 과실로 침해한 자에 대하여 상표법 제109조에 따른 손해배상을 청구하는 대신 1억원(고의적으로 침해한 경우에는 3억원) 이하의 범위에서 상당한 금액을 손해액으로 하여 배상을 청구할 수 있다.

**31. 디자인을 창작한 디자이너의 디자인보호법상 지위에 관한 설명으로 옳지 않은 것은? (다툼이 있으면 판례에 따름)**

- ① 디자인 창작에 참여한 자가 창작자로 인정받으려면 해당 디자인의 창작에 실질적으로 기여하여야 하므로 창작 아이디어만을 제공하거나 개발자의 지시로 도면만 작성한 경우 창작자로 인정되지 않는다.
- ② 디자인을 창작한 디자이너는 디자인등록을 받을 수 있는 권리를 가지며, 디자인 창작자의 이름과 주소는 디자인등록출원서는 물론 디자인 국제출원서(지정국 요구 시)의 필수적 기재사항이다.
- ③ 창작자인 디자이너로부터 디자인등록을 받을 수 있는 권리를 승계한 승계인에 의하여 디자인등록 출원된 경우라도 그 출원서에 디자인 창작자가 사실과 다르게 허위로 기재되어 있는 경우 모인출 원으로 거절될 수 있다.
- ④ 창작자인 디자이너로부터 디자인등록을 받을 수 있는 권리를 승계한 승계인이 아닌 자의 디자인 등록출원은 무권리자의 출원으로 취급되며 거절사유, 일부심사 이의신청사유 및 무효사유에 해당한다.
- ⑤ 디자인보호법 제33조(디자인등록의 요건) 제2항에 따른 용이창작성 여부 판단의 주체적 기준은 해당 디자인이 속하는 분야에서 통상의 지식을 가진 디자이너를 기준으로 판단한다.

**32. 글자체 디자인에 관한 설명으로 옳은 것은? (다툼이 있으면 판례에 따름)**

- ① 글자체는 물품성이 없어 오랫동안 디자인 등록대상이 아니었고 현재는 디자인의 정의 조항에 등록 가능한 대상으로 명시되어 있으나 로카르노협정 물품류에 글자체가 명시 되어 있지 않아 국제출원의 대상이 되는지는 불투명하다.
- ② 글자체는 기록이나 표시 또는 인쇄 등 실용적인 목적으로 사용하기 위한 것이어야 하며 미적 감상의 대상으로 할 의도로 창작한 것은 디자인등록 대상이 아니다.
- ③ 글자체는 다양하게 개발되어 왔고 문자의 기본형태와 가독성을 필수적인 요소로 고려하여 디자인 하여야 하는 관계상 구조적으로 그 디자인을 크게 변화시키기 어려운 특성을 참작하여야 하므로 일반 디자인과는 유사판단의 기본 법리를 달리 적용하여야 한다.
- ④ 글자체의 도면은 디자인보호법 시행규칙 별표1에 따라 지정글자, 보기문장, 대표글자 도면을 작성해 제출하여야 하며, 동 규칙에서 정한 방식으로 도시되지 아니한 경우 부적법한 서류로 보아 반려사유에 해당한다.
- ⑤ 대학교수 甲이 시중에 유통중인 乙의 디자인 등록된 글자체를 사용해 작성한 강의노트를 인쇄하여 강의자료로 사용한 경우, 乙의 디자인권 침해에 해당한다.

**33. 디자인보호법상 분할출원에 관한 설명으로 옳지 않은 것은?**

- ① 복수디자인등록출원을 한 자는 디자인등록출원의 일부를 1 이상의 새로운 디자인등록 출원으로 분할하여 디자인등록출원할 수 있다.
- ② 분할에 따른 새로운 출원의 출원인은 원출원의 출원인과 동일인이거나 그 승계인이어야 한다.
- ③ 제51조(조약에 따른 우선권 주장)에 따른 우선권 주장을 한 것으로 보는 분할출원에 대해서는 분할출원을 한 날부터 30일 이내에 그 우선권 주장의 전부 또는 일부를 취하할 수 있다.
- ④ 분할의 기초가 된 디자인등록출원이 제51조에 따라 우선권을 주장한 디자인등록출원인 경우에는 제1항에 따라 분할출원을 한 때에 그 분할출원에 대해서도 우선권 주장을 한 것으로 추정되며, 분할의 기초가 된 디자인등록출원에 대하여 제51조에 따라 제출된 서류 또는 서면이 있는 경우에는 그 분할출원에 대해서도 해당 서류 또는 서면이 제출된 것으로 추정된다.
- ⑤ 분할출원이 있는 경우 그 분할출원은 최초로 디자인등록출원을 한 때에 출원한 것으로 본다. 다만, 제36조(신규성 상실의 예외) 제2항 제1호 또는 제51조 제3항 및 제4항을 적용할 때에는 그러하지 아니하다.

**34. 특유디자인의 신규성 판단에 관한 설명으로 옳지 않은 것은? (다툼이 있으면 판례에 따름)**

- ① 부품이 공지된 이후 완성품디자인이 출원된 경우 그 공지된 부품을 포함하는 완성품 디자인이 신규성을 상실하는 경우가 있다.
- ② 부분디자인이 공지된 이후 출원된 전체디자인의 경우는 그 부분디자인의 공개태양에 따라 신규성을 상실하는 경우와 그렇지 않은 경우가 있다.
- ③ 한 별 물품디자인의 경우 한 별 전체로서 신규성을 판단하므로 그 구성물품 디자인의 공지로 인하여 신규성이 상실되지 않는다.
- ④ 형과 형틀로 만들어지는 물품은 용도와 기능이 다르므로 일방의 공지에 의해 타방의 신규성이 부정되지 않는다.
- ⑤ 전사지(轉寫紙)가 공지된 경우라면 그 전사지의 모양이 전사된 물품의 디자인도 신규성이 상실된다.

35. 출원디자인의 등록요건 적용에 관한 설명으로 옳은 것을 모두 고른 것은? (다툼이 있으면 판례에 따름)

- ㄱ. 디자인등록출원에 대한 신규성 판단과 용이창작성 판단 시 공지디자인의 범위는 모두 국제주의를 취하고 있다.
- ㄴ. 선원주의(제46조) 적용에 있어 동일인의 동일자 유사한 단독 디자인등록출원이 경합할 경우 선원주의를 적용하지 않고 어느 한 출원의 취하를 권고한다.
- ㄷ. 출원인이 동일한 경우 특허법(제29조 제3항)과 디자인보호법(제33조 제3항)은 모두 확대된 선원을 적용하지 않는다.
- ㄹ. 특허법과 달리 디자인보호법에서는 창작자(발명자)가 동일한 경우에도 확대된 선원(제33조 제3항)이 적용될 수 있다.
- ㅁ. 디자인 유사판단 기준은 일관성 있게 적용되어야 하므로 공지부분을 포함하는 경우의 유사판단에 있어서도 등록요건 판단 시와 침해판단 시에 그 기준은 동일하게 적용되어야 한다.

- ① ㄱ, ㄴ, ㅁ      ② ㄱ, ㄷ, ㄹ      ③ ㄱ, ㄷ, ㅁ      ④ ㄴ, ㄷ, ㄹ      ⑤ ㄴ, ㄹ, ㅁ

36. 디자인보호법상 디자인권에 관한 설명으로 옳지 않은 것은?

- ① 국내를 통과하는 데에 불과한 선박·항공기·차량 또는 이에 사용되는 기계·기구·장치, 그 밖의 물건인 경우에는 디자인권의 효력은 미치지 아니한다.
- ② 등록디자인의 보호범위는 디자인등록출원서의 기재사항 및 그 출원서에 첨부된 도면·사진 또는 견본과 도면에 적힌 디자인의 설명에 따라 표현된 디자인에 의하여 정하여진다.
- ③ 디자인권자는 디자인권을 포기할 수 있다. 이 경우 복수디자인등록된 디자인권은 각 디자인권마다 분리하여 포기할 수 있다.
- ④ 디자인권·전용실시권 또는 통상실시권을 목적으로 하는 질권을 설정하였을 때에는 질권자는 계약으로 특별히 정한 경우를 제외하고는 해당 등록디자인을 실시할 수 없다.
- ⑤ 디자인권의 상속이 개시되었으나 상속인이 없는 경우에는 그 디자인권은 국고에 귀속된다.

### 37. 디자인보호법상 디자인권의 존속기간에 관한 설명으로 옳은 것은?

- ① 디자인권은 설정등록으로 발생하며 설정등록한 날부터 기산하여 20년 동안 존속한다.
- ② 관련디자인으로 등록된 디자인은 그 기본디자인과 독립적이므로 그 존속기간은 기본디자인의 디자인권 존속기간에 종속되지 아니한다.
- ③ 비밀디자인의 디자인권은 그 비밀기간이 설정된 만큼 디자인권 설정등록일로부터 3년 범위 내에서 존속기간연장등록을 신청할 수 있다.
- ④ 연차등록료의 납부기한과 추가납부기간이 경과한 디자인권자의 디자인권은 그 존속기간 만료전이라도 소멸될 수 있으나 소멸일로부터 6개월 내에 연차등록료의 2배를 내고 소멸한 권리의 회복을 신청할 수 있다.
- ⑤ 국제등록디자인권의 존속기간은 헤이그협정 제17조(2)에 따라 5년마다 갱신할 수 있다.

### 38. 디자인보호법에 관한 설명으로 옳지 않은 것은? (다툼이 있는 경우에는 판례에 따름)

- ① 등록디자인과 대비되는 디자인이 등록디자인의 출원 전에 그 디자인이 속하는 분야에서 통상의 지식을 가진 사람이 공지디자인 또는 이들의 결합에 따라 쉽게 실시할 수 있는 것인 때에는 등록디자인과 대비할 것도 없이 그 등록디자인의 권리범위에 속하지 않는다고 보아야 한다.
- ② 물품의 기능을 확보하는 데에 불가결한 형상만으로 된 디자인에 대하여는 제33조(디자인등록의 요건)에도 불구하고 디자인등록을 받을 수 없다.
- ③ 디자인권의 권리범위확인심판의 청구는 현존하는 디자인권의 범위를 확정하려는 데 그 목적이 있으므로, 일단 적법하게 발생한 디자인권이라 할지라도 그 권리가 소멸된 이후에는 그에 대한 권리범위확인을 구할 이익이 없어진다.
- ④ 디자인권자 또는 디자인등록출원인은 자기의 등록디자인 또는 디자인등록출원한 디자인(이하 “기본디자인”이라 한다)과만 유사한 디자인(이하 “관련디자인”이라 한다)에 대하여는 그 기본디자인의 디자인등록출원일로부터 2년 이내에 디자인등록출원된 경우에 한하여 제33조 제1항 각 호 및 제46조(선출원) 제1항·제2항에도 불구하고 관련디자인으로 디자인등록을 받을 수 있다.
- ⑤ 제2조(정의) 제1호에서 말하는 ‘물품’이란 독립성이 있는 구체적인 유체동산을 의미하는 것으로서, 이러한 물품이 디자인등록의 대상이 되기 위해서는 통상의 상태에서 독립된 거래의 대상이 되어야 하고, 그것이 부품인 경우에는 다시 호환성을 가져야 하나, 이는 반드시 실제 거래사회에서 현실적으로 거래되고 다른 물품과 호환될 것을 요하는 것은 아니고, 그러한 독립된 거래의 대상 및 호환의 가능성만 있으면 디자인등록의 대상이 된다.

39. ( )에 들어갈 기간으로 옳은 것은?

- 제19조(절차의 추후 보완) 디자인에 관한 절차를 밟은 자가 책임질 수 없는 사유로 다음 각 호에 따른 기간을 지키지 못한 경우에는 그 사유가 소멸한 날부터 ( ㄱ ) 이내에 지키지 못한 절차를 추후 보완할 수 있다. 다만, 그 기간의 만료일부터 ( ㄴ )이 지났을 때에는 그러하지 아니하다.
  - 1. 제119조(보정각하결정에 대한 심판) 또는 제120조(디자인등록거절결정 또는 디자인등록취소결정에 대한 심판)에 따른 심판의 청구기간
  - 2. 제160조(재심청구의 기간)에 따른 재심청구의 기간
- 출원보정기간은 제120조(디자인등록거절결정 또는 디자인등록취소결정에 대한 심판)에 따라 디자인등록거절결정에 대한 심판을 청구하는 경우에는 그 청구일부터 ( ㄷ ) 이내
- 제138조(제척 또는 기피의 소명) ② 제척 또는 기피의 원인은 신청한 날부터 ( ㄹ ) 이내에 소명하여야 한다.

- ① ㄱ: 2개월, ㄴ: 6개월, ㄷ: 30일, ㄹ: 3일      ② ㄱ: 2개월, ㄴ: 1년, ㄷ: 30일, ㄹ: 3일
- ③ ㄱ: 2개월, ㄴ: 1년, ㄷ: 30일, ㄹ: 7일      ④ ㄱ: 3개월, ㄴ: 1년, ㄷ: 20일, ㄹ: 3일
- ⑤ ㄱ: 3개월, ㄴ: 1년, ㄷ: 20일, ㄹ: 7일

40. 헤이그협정에 의한 디자인의 국제출원에 관한 설명으로 옳지 않은 것은?

- ① 디자인의 국제출원은 국제사무국에 직접 출원할 수도 있고 자국 특허청(수리관청)을 통하여 간접 출원하는 방식을 취할 수 있으며, 국제사무국에 직접 출원하는 방식에 대해서도 디자인보호법에서 규정하고 있다.
- ② 국제사무국은 오로지 방식요건만을 심사하고 디자인의 실제적인 요건흡결을 이유로 국제등록을 거절할 수 없다. 반면 지정국 관청은 국제등록의 방식요건 위반을 들어 국제등록 보호를 거절할 수 없다.
- ③ 마드리드의정서에 따른 국제상표출원과 달리 헤이그협정에 의한 디자인의 국제출원은 기초출원이나 기초등록을 요구하지 않는다.
- ④ 특허협력조약(PCT)에 의한 국제특허출원과 달리 헤이그협정에 의한 디자인의 국제출원은 국제 조사절차가 없다.
- ⑤ 특허협력조약(PCT)에 의한 국제특허출원과 마찬가지로 헤이그협정에 의한 디자인의 국제출원도 자기지정이 가능하다.

02  
2023

제60회 변리사 1차 국가자격시험  
[2교시] 민법개론



1. 가상화폐 투자에 실패한 甲은 부인 乙을 볼 면목이 없어 2015. 9. 15. 지리산으로 들어가 누구와도 연락을 하지 않았다. 甲의 생사를 알지 못한 乙은 2021. 9. 7. 법원에 실종선고를 청구하여 2022. 3. 10. 실종선고가 되었다. 甲의 실종선고로 甲에 대한 사망보험금 5억 원을 수령한 乙은 주식에 투자하여 큰 손실을 보았다. 지리산에서 삶의 새로운 목표를 찾은 甲은 2023. 2. 5. 집으로 돌아왔다. 이에 관한 설명으로 옳은 것은? (다툼이 있으면 판례에 따름)

- ① 실종선고로 甲의 사망이 의제된 시점은 2022. 3. 10.이다.
- ② 甲의 실종선고가 취소되지 않더라도 甲이 살아 있는 것이 증명되었으므로, 보험회사는 乙을 상대로 한 사망보험금 반환소송에서 승소할 수 있다.
- ③ 甲에 대한 실종선고가 취소되면, 선의인 乙은 현존이익 한도에서 보험금을 반환하면 된다.
- ④ 실종선고를 취소하지 않는 한, 甲은 공직선거권이 없다.
- ⑤ 법원에 의해 甲의 실종선고가 취소되면, 그 때부터 장래를 향하여 甲에 대한 실종선고의 효력이 부정된다.

2. 2022. 1. 12. 당시 18세 1개월이었던 甲은 법정대리인 丁의 동의 없이, 자신이 소유하는 상가건물을 乙에게 매도하는 매매계약을 체결하였다. 그 후 甲은 2022. 3. 12. 丙과 혼인하였으나, 6개월 후인 2022. 9. 12. 이혼을 하였다. 이에 관한 설명으로 옳지 않은 것은? (다툼이 있으면 판례에 따름)

- ① 2023. 2. 18. 현재 甲은 이미 성년이 되었으므로, 매매계약을 취소할 수 없다.
- ② 만일 甲이 2022. 2. 17. 丁의 동의 없이 매매계약을 추인하였더라도, 甲은 위 매매계약을 취소할 수 있다.
- ③ 만일 甲이 2022. 5. 15. 丁의 동의 없이 매매계약을 추인한 경우, 그 추인은 유효하다.
- ④ 만일 甲이 2022. 10. 5. 아무런 이의를 제기하지 않고 乙로부터 매매대금을 수령한 경우, 매매계약을 취소할 수 없다.
- ⑤ 2023. 2. 18. 현재 甲은 위 매매계약을 丁의 동의 없이 유효하게 추인할 수 있다.

3. 민법상 법인에 관한 설명으로 옳지 않은 것은?

- ① 생전처분으로 재단법인을 설립하는 때에는 증여에 관한 규정을 준용한다.
- ② 유언으로 재단법인을 설립하는 때에는 출연재산(지명채권)은 유언의 효력이 발생한 때로부터 법인에 귀속한 것으로 본다.
- ③ 이사의 대표권에 대한 제한은 이를 등기하지 아니하면 그 효력이 없다.
- ④ 재단법인의 목적을 달성할 수 없는 때에는 설립자나 이사는 주무관청의 허가를 얻어 설립의 취지를 참작하여 그 목적 기타 정관의 규정을 변경할 수 있다.
- ⑤ 재단법인의 설립자가 그 명칭, 사무소소재지 또는 이사임면의 방법을 정하지 아니하고 사망한 때에는 이해관계인 또는 감사의 청구에 의하여 법원이 이를 정한다.

4. 동일소유자에게 속하는 다음 물건 중 주물과 종물의 관계로 보기 어려운 것은? (다툼이 있으면 판례에 따름)

- ① 배와 노
- ② 자물쇠와 열쇠
- ③ 주유소건물과 주유기
- ④ 횃집과 수족관
- ⑤ 주유소부지와 그 지하에 매설된 유류저장탱크

5. 민법상 기간의 계산으로 옳지 않은 것은? (다툼이 있으면 판례에 따름)

- ① 2023년 2월 10일(금요일) 오후 10시 30분부터 12시간이라고 한 경우, 기간의 만료점은 2023년 2월 11일(토요일) 오전 10시 30분이 된다.
- ② 2004년 1월 17일 오후 2시에 태어난 甲이 성년이 되는 시점은 2023년 1월 17일 24시이다.
- ③ 2022년 11월 30일 오전 10시부터 3개월이라고 한 경우, 기간의 만료점은 2023년 2월 28일(화요일) 24시이다.
- ④ 2023년 5월 1일부터 10일간이라고 한 경우, 기간의 만료점은 2023년 5월 10일(수요일) 24시이다.
- ⑤ 사원총회소집일 1주일 전에 통지를 발송하도록 한 경우, 사원총회소집일이 2023년 3월 10일(금요일) 오후 2시면 소집통지를 늦어도 3월 2일 24시까지 발송하여야 한다.

6. 소멸시효에 관한 설명으로 옳지 않은 것을 모두 고른 것은? (다툼이 있으면 판례에 따름)

- ㄱ. 보험금청구권의 소멸시효는 보험계약자가 보험회사에 보험금을 청구한 때로부터 진행한다.
- ㄴ. 동일한 채권자에게 다수의 채무를 부담하는 채무자가 변제 중당을 지정하지 않고 일부 금원을 변제한 경우, 특별한 사정이 없는 한 그 변제는 모든 채무에 대한 승인으로서 소멸시효를 중단하는 효력이 있다.
- ㄷ. 중첩적 채무인수에 의하여 인수인이 부담하는 채무에 대해서는 기존채무와 동일한 소멸시효기간이 적용된다.
- ㄹ. 보험계약자가 보험금을 부정 취득할 목적으로 다수의 보험계약을 체결한 것이 민법 제103조(반사회질서의 법률행위)에 의해 무효로 된 경우, 보험자가 지급한 보험금에 대한 부당이득반환청구권은 10년의 민사 소멸시효기간이 적용된다.

- ① ㄱ, ㄷ
- ② ㄱ, ㄹ
- ③ ㄴ, ㄷ
- ④ ㄴ, ㄹ
- ⑤ ㄱ, ㄷ, ㄹ

**7. 민법 제104조의 불공정한 법률행위에 관한 설명으로 옳은 것은? (다툼이 있으면 판례에 따름)**

- ① 행정기관에 진정서를 제출하여 상대방을 궁지에 빠뜨린 다음 이를 취하하는 조건으로 거액의 급부를 제공받기로 약정한 것은 불공정한 법률행위에 해당한다.
- ② 법률행위의 성립시에는 존재하지 않았던 급부간의 현저한 불균형이 그 이후 외부적 사정의 급격한 변화로 인하여 발생하였다면 다른 요건이 충족되는 한 그때부터 불공정한 법률행위가 인정된다.
- ③ 불공정한 법률행위의 성립요건으로 요구되는 무경험이란 일반적인 생활체험의 부족이 아니라 해당 법률행위가 행해진 바로 그 영역에서의 경험 부족을 의미한다.
- ④ 법률행위가 현저히 공정을 잃었고, 어느 한 당사자에게 궁박의 사정이 존재한다고 하여도 그 상대방에게 이러한 사정을 이용하려는 폭리행위의 악의가 없었다면 불공정한 법률행위는 인정되지 않는다.
- ⑤ 불공정한 법률행위를 할 때 당사자간에 그 법률행위의 불공정성을 이유로 하여 법률 행위의 효력을 다룰 수 없다는 합의가 함께 행해졌다면 그러한 합의는 유효하다.

**8. 통정허위표시에 관한 설명으로 옳지 않은 것은? (다툼이 있으면 판례에 따름)**

- ① 통정허위표시에 의한 법률행위도 채권자취소권의 대상인 사해행위가 될 수 있다.
- ② 임대차보증금반환채권을 담보할 목적으로 임대인과 임차인이 체결한 전세권 설정계약은 특별한 사정이 없는 한 임대차계약의 내용과 양립할 수 없는 범위에서만 통정허위 표시로 인정된다.
- ③ 차명(借名)으로 대출받으면서 명의대여자에게는 법률효과를 귀속시키지 않기로 하는 합의가 대출기관과 실제 차주 사이에 있었다면 명의대여자의 명의로 작성된 대출계약은 통정허위표시이다.
- ④ 통정허위표시에 따른 선금금 반환채무 부담행위에 기하여 선의로 그 채무를 보증한 자는 보증채무의 이행 여부와 상관없이 허위표시의 무효로부터 보호받는 제3자에 해당한다.
- ⑤ 파산관재인은 그가 비록 통정허위표시에 대해 악의였다고 하더라도 파산채권자 모두가 악의로 되지 않는 한 선의의 제3자로 인정된다.

**9. 착오로 인한 의사표시에 관한 설명으로 옳지 않은 것은? (다툼이 있으면 판례에 따름)**

- ① 법률행위의 자연적 해석이 행해지는 경우, 표시상의 착오는 문제될 여지가 없다.
- ② 의사의 수술 후 환자에게 새로이 발생한 증세에 대하여 그 책임소재와 손해배상 여부를 둘러싸고 분쟁이 있다가 화해계약이 체결되었다면, 이후에 그 증세가 수술로 인한 것이 아니라는 것이 밝혀졌더라도 의사는 착오를 이유로 위 화해계약을 취소할 수 없다.
- ③ 해제되어 이미 실효된 계약도 착오취소의 대상이 될 수 있다.
- ④ 착오가 법률행위 내용의 일부에만 관계된 경우라면 일부무효의 법리가 유추적용되어 일부취소가 인정될 수도 있다.
- ⑤ 예술품의 위작(僞作)을 진품으로 착각한 매도인의 말을 믿고서 과실 없이 진품에 상응하는 가격으로 그 위작을 구입한 매수인이 매도인에게 하자담보책임을 물을 수 있다면 그는 착오취소를 주장할 수 없다.

**10. 민법상 대리에 관한 설명으로 옳은 것은? (다툼이 있으면 판례에 의함)**

- ① 대리권은 대리인의 권리이자 의무의 성격을 갖는다.
- ② 대리권 남용에 대해 진의 아닌 의사표시에 관한 민법 제107조 제1항 단서가 유추적용되는 경우, 선의의 제3자 보호에 관한 동조 제2항도 함께 유추적용된다.
- ③ 복대리인은 본인의 대리인이므로 원대리인의 복임행위는 본인을 위한 대리행위이다.
- ④ 대리권이 이미 소멸한 원대리인에 의해 선임된 복대리인의 대리행위에 대해서는 대리권 소멸 후의 표현대리(제129조)가 성립할 여지가 없다.
- ⑤ 자신에게 유효한 대리권이 있다고 과실 없이 믿었던, 행위능력 있는 선의의 무권대리인은 본인의 추인이 없더라도 상대방에 대한 무권대리인의 책임에 관한 민법 제135조에 따른 책임을 지지 않는다.

11. 부동산 거래신고 등에 관한 법률에 따른 토지거래허가구역 내에 존재하는 토지에 대하여 매도인 甲과 매수인 乙 사이에 허가를 전제로 하여 매매계약이 체결되었으며 계약 당시 乙은 甲에게 계약금을 지급하였다. 이에 관한 설명으로 옳지 않은 것은? (다툼이 있으면 판례에 따름)

- ① 甲과 乙이 관할관청으로부터 허가를 받으면 유동적 무효상태에 있던 위 매매계약은 소급해서 유효로 된다.
- ② 乙의 매수인 지위를 丙이 이전받는다는 취지의 약정을 甲, 乙, 丙이 한 경우, 그와 같은 합의는 甲과 乙간의 위 매매계약에 관한 관할관청의 허가가 있어야 비로소 효력이 발생한다.
- ③ 보전의 필요성이 인정되는 한 乙은 甲에 대한 토지거래허가 신청절차의 협력의무 이행청구권을 피보전권리로 하여 甲의 권리를 대위 행사할 수 있다.
- ④ 甲과 乙이 관할관청에 토지거래허가를 신청하여 그 허가를 받은 후에도 乙은 다른 사유가 없는 한 계약금을 포기하고 위 매매계약을 해제할 수 있다.
- ⑤ 乙은 특별한 사정이 없는 한 위 매매계약의 허가를 받기 전까지 부당이득반환청구권을 행사하여 甲에게 이미 지급한 계약금의 반환을 청구할 수 있다.

12. 조건과 기한에 관한 설명으로 옳지 않은 것은? (다툼이 있으면 판례에 따름)

- ① 이행지체의 경우 채권자는 채무자를 상대로 상당한 기간을 정하여 이행을 청구하면서 그 기간 내에 이행을 없으면 계약은 당연히 해제된 것으로 한다는 취지의 해제조건부 해제권 행사를 할 수 있다.
- ② 동산에 대한 소유권유보부 매매의 경우 물권행위인 소유권이전의 합의가 매매대금의 완납을 정지 조건으로 하여 성립한다.
- ③ 부첩(夫妻)관계의 종료를 해제조건으로 하는 증여계약은 무효이다.
- ④ 불확정기한의 경우 기한사실의 발생이 불가능한 것으로 확정되어도 기한은 도래한 것으로 본다.
- ⑤ 기한이익 상실의 특약은 특별한 사정이 없는 한 형성권적 기한이익 상실의 특약으로 추정된다.

13. 甲은 X토지에 대하여 등기부취득시효를 주장하고 있다. 이에 관한 설명으로 옳은 것을 모두 고른 것은? (다툼이 있으면 판례에 따름)

ㄱ. 甲이 개인이 아니라 지방자치단체인 경우 등기부취득시효를 주장할 수 없다.  
 ㄴ. 甲의 무과실은 전 시효기간을 통하여 인정되어야 하는 것은 아니다.  
 ㄷ. 甲이 표토지에 대하여 무효의 중복된 소유권보존등기를 마친 경우에는 등기부취득시효를 주장할 수 없다.

- ① ㄱ
- ② ㄴ
- ③ ㄱ, ㄴ
- ④ ㄴ, ㄷ
- ⑤ ㄱ, ㄴ, ㄷ

**14. 물권변동에 관한 설명으로 옳지 않은 것은? (다툼이 있으면 판례에 따름)**

- ① 미등기건물에 대한 양도담보계약상의 채권자의 지위를 승계하여 건물을 관리하고 있는 자는 그 건물에 대한 철거처분권을 가진 자에 해당한다.
- ② 부동산 합유지분의 포기가 적법하더라도 그에 관한 등기가 경로되지 않았다면 그 포기된 합유지분은 나머지 잔존 합유지분권자들에게 귀속되지 않는다.
- ③ 동산의 선의취득에서 물권적 합의가 동산의 인도보다 먼저 행하여진 경우 양수인의 선의·무과실의 판단시점은 인도된 때를 기준으로 한다.
- ④ 소유권이전의 약정을 내용으로 하는 화해조서는 민법 제187조(등기를 요하지 아니하는 부동산물권취득)의 판결에 포함되지 않는다.
- ⑤ 공유물분할의 조정절차에서 공유자 사이에 공유토지에 관한 현물분할의 협의를 성립하여 그 합의사항을 조서에 기재함으로써 조정이 성립하더라도 등기없이 그 협의에 따른 새로운 법률관계가 창설되는 것은 아니다.

**15. 점유자 甲의 권리관계 등에 관한 설명으로 옳은 것은? (다툼이 있으면 판례에 따름)**

- ① 甲이 부동산을 증여받아 점유를 개시한 이후에 그 증여가 무권리자에 의한 것임을 알았더라도 그 점유가 타주점유가 된다고 볼 수 없다.
- ② 甲의 통상의 필요비 청구가 부정되는 민법 제203조(점유자의 상환청구권) 제1항 단서 규정은 과실수취권이 없는 악의의 점유자에 대해서도 적용된다.
- ③ 민법 제203조(점유자의 상환청구권) 제2항에서 유익비의 상환범위는 甲이 유익비로 지출한 금액과 현존하는 증가액 중에서 甲이 선택하는 것으로 정해진다.
- ④ 점유물이 甲의 책임있는 사유로 인하여 멸실한 경우, 민법 제202조(점유자의 회복자에 대한 책임)에 따르면 甲이 악의의 점유자로서 부담하는 손해배상범위와 선의이면서 타주점유자로서 부담하는 손해배상범위는 다르다.
- ⑤ 점유를 침탈당한 甲이 본권인 유치권 소멸에 따른 손해배상청구권을 행사하는 때에는 점유를 침탈당한 날부터 1년 내에 행사해야만 한다.

16. 부동산에 관한 등기 또는 등기청구권 등에 관한 설명으로 옳지 않은 것은? (다툼이 있으면 판례에 따름)

- ① 甲→乙→丙의 순으로 매매계약이 체결된 경우, 3자간 중간생략등기의 합의가 있더라도 乙의 甲에 대한 소유권이전등기청구권이 소멸되는 것은 아니다.
- ② 가등기에 의하여 순위 보전의 대상이 되어 있는 물권변동청구권이 양도된 경우, 양도인과 양수인의 공동신청으로 그 가등기상 권리의 이전등기를 가등기에 대한 부기등기의 형식으로 경료할 수 있다.
- ③ 무효인 3자간 등기명의신탁에서 부동산을 매수하여 인도받아 계속 점유하는 명의신탁자의 매도인에 대한 소유권이전등기청구권은 소멸시효에 걸리지 않는다.
- ④ 매수인의 매도인에 대한 소유권이전청구권 보전을 위한 가등기가 경료된 경우, 소유권이전등기를 청구할 어떤 법률관계가 있다고 추정되지 않는다.
- ⑤ 「임야소유권 이전등기에 관한 특별조치법」에 의한 소유권보존등기가 경료된 임야에 관하여 그 임야를 사정받은 사람이 따로 있는 것이 사후에 밝혀졌다면, 그 등기는 실제적 권리관계에 부합하는 등기로 추정되지 않는다.

17. 공동소유관계에 관한 설명으로 옳은 것을 모두 고른 것은? (다툼이 있으면 판례에 따름)

- ㄱ. 공유물분할청구는 부동산의 구분소유적 공유관계에서 인정되지 않는다.
- ㄴ. 지분권자로서의 사용권을 사실상 포기하는 공유자 사이의 특약은 그 사실을 알지 못하고 공유지분을 취득한 특정승계인에게 승계되지 않는다.
- ㄷ. 비법인사단의 채권자가 채권자대위권에 기하여 비법인사단의 총유재산에 관한 권리를 적법하게 대위행사하는 경우에도 사원총회의 결의 등 비법인사단의 내부적인 의사결정절차를 거쳐야 한다.
- ㄹ. 부동산의 합유자 중 일부가 사망한 경우 합유자 사이에 특별한 약정이 없는 한 해당 부동산은 잔존 합유자가 2인 이상일 때에는 잔존 합유자의 합유로 귀속된다.

- ① ㄱ, ㄹ
- ② ㄱ, ㄴ, ㄷ
- ③ ㄱ, ㄴ, ㄹ
- ④ ㄴ, ㄷ, ㄹ
- ⑤ ㄱ, ㄴ, ㄷ, ㄹ

18. 지상권에 관한 설명으로 옳지 않은 것을 모두 고른 것은? (다툼이 있으면 판례에 따름)

- ㄱ. 자기 소유 토지에 분묘를 설치한 甲이 그 토지를 乙에게 양도하면서 분묘 이장의 특약을 하지 않음으로써 분묘기지권을 취득한 경우, 특별한 사정이 없는 한 甲은 분묘기지권이 성립한 때가 아니라 지료청구를 받은 날부터 지료지급의무가 있다.
- ㄴ. 지상권자 甲의 지료 지급 연체가 토지소유권의 양도 전후에 걸쳐 이루어진 경우 토지양수인 乙에 대한 연체기간이 2년이 되지 않는다면 乙은 지상권 소멸청구를 할 수 없다.
- ㄷ. 甲 소유의 대지와 건물 모두 乙에게 매도되었으나 대지에 관하여서만 소유권이전등기가 경료된 경우에 甲과 乙 사이에 관습법상의 법정지상권이 인정된다.
- ㄹ. 건물 소유자 甲과 토지 소유자 乙 사이에 건물의 소유를 목적으로 하는 토지 임대차계약을 체결한 경우에도 관습법상의 법정지상권이 인정된다.

- ① ㄱ, ㄴ            ② ㄱ, ㄷ            ③ ㄷ, ㄹ            ④ ㄱ, ㄷ, ㄹ            ⑤ ㄴ, ㄷ, ㄹ

19. 甲은 2021. 5. 19. 乙과 표상가를 임대차보증금 1억 원, 임대차기간 2021. 6. 19.부터 2026. 6. 18.까지, 차임 월 300만 원으로 정하여 임대차계약을 체결하였고, 계약 당일 乙로부터 보증금 전액을 지급 받으면서 보증금의 반환을 담보하기 위하여 乙의 명의로 전세권을 설정해 주었다. 그 후 乙은 丙에게 8천만 원을 차용하면서 위 전세권에 관하여 채권최고액 1억 원의 근저당권설 정등기를 마쳐주었다. 이에 관한 설명으로 옳은 것은? (다툼이 있으면 판례에 따름)

- ① 甲이 보증금의 반환을 담보하기 위하여 전세권을 설정하면서 이와 동시에 목적물을 인도하지 않았으므로 전세권의 설정은 효력이 없다.
- ② 전세금의 지급은 전세권 성립의 요소가 되는 것이므로 전세금을 현실적으로 지급하지 않고 기존의 채권으로 대신할 수 없다.
- ③ 乙이 차임의 지급을 연체하는 경우 甲은 연체된 차임을 보증금에서 공제할 수 있다.
- ④ 임대차보증금의 반환을 담보하기 위하여 전세권설정등기가 경료되었음을 丙이 알지 못한 경우에도 甲은 연체차임의 공제를 가지고 丙에게 대항할 수 있다.
- ⑤ 전세권의 존속기간이 만료되면 丙은 표상가에 대한 전세권저당권을 실행하는 방법으로 乙에 대한 대여금채권을 회수하여야 한다.



20. 민사유치권에 관한 설명으로 옳은 것은? (다툼이 있으면 판례에 따름)

- ① 채무자는 상당한 담보를 제공하고 유치권의 소멸을 청구할 수 있는데, 유치물 가액이 피담보채권 액보다 적을 경우에는 피담보채권액에 해당하는 담보를 제공하여야 한다.
- ② 유치권자가 유치물에 대한 점유를 빼앗긴 경우에도 점유물반환청구권을 보유하고 있다면 점유를 회복하기 전에도 유치권이 인정된다.
- ③ 유치권의 존속 중에 유치물의 소유권이 제3자에게 양도된 경우에는 유치권자는 그 제3자에 대하여 유치권을 행사할 수 없다.
- ④ 유익비상환청구권을 담보하기 위하여 유치권을 행사하고 있는 경우에도, 법원이 유익비상환청구에 대하여 상당한 상환기간을 허락하면 유치권이 소멸한다.
- ⑤ 수급인은 도급계약에 따라 자신의 재료와 노력으로 건축된 자기 소유의 건물에 대해서도 도급인으로부터 공사대금을 지급받을 때까지 유치권을 가진다.

21. 甲은 2021. 3. 6. 乙로부터 X주택을 보증금 10억 원에 임차하였고, 2021. 3. 13. 丙으로부터 6억 원을 대출받으면서 보증금반환채권 중 8억 원에 대하여 질권을 설정해 주었으며, 乙은 이를 승낙하였다. 乙은 2022. 6. 30. 甲에게 X주택을 15억 원에 매도하면서, 甲으로부터 보증금을 제외한 잔액을 지급받고서 소유권이전등기절차를 마쳐주었다. 이에 관한 설명으로 옳은 것을 모두 고른 것은? (다툼이 있으면 판례에 따름)

- ㄱ. 甲이 보증금반환채권에 대하여 질권을 설정하기 위해서는 질권설정의 합의와 함께 임대차 계약서를 교부하여야 한다.
- ㄴ. 甲과 乙이 丙의 동의 없이 매매대금과 보증금반환채권을 상계한 것은 질권의 목적인 채무를 소멸하게 한 경우에 해당한다.
- ㄷ. 만약 甲이 2021. 4. 20. 보증금반환채권을 담보하기 위하여 X주택에 대한 근저당권을 설정 받았다면, 丙이 가진 질권의 효력은 당연히 근저당권에도 미친다.
- ㄹ. 乙이 X주택을 임차인인 甲에게 매도하였지만, 丙은 乙에게 직접 채무의 변제를 청구할 수 있다.

- ① ㄱ, ㄴ
- ② ㄱ, ㄷ
- ③ ㄱ, ㄹ
- ④ ㄴ, ㄷ
- ⑤ ㄴ, ㄹ

**22. 민법상 저당권의 효력이 미치는 목적물의 범위에 관한 설명으로 옳지 않은 것은? (다툼이 있으면 판례에 따름)**

- ① 경매절차의 매수인이 증축부분의 소유권을 취득하기 위해서는 부합된 증축부분이 기존건물에 대한 경매절차에서 경매목적물로 평가되어야 한다.
- ② 건물의 증축부분이 저당목적물인 기존의 건물에 부합한 경우에는 특별한 사정이 없는 한 저당권의 효력이 증축부분에도 미친다.
- ③ 어떤 물건이 저당권이 설정된 후에 저당목적물의 종물이 된 경우에도 그 종물에 대하여 저당권의 효력이 미친다.
- ④ 건물의 소유를 목적으로 하여 토지를 임차한 사람이 그 건물에 저당권을 설정한 때에는, 저당권의 효력은 그 건물의 소유를 목적으로 한 토지임차권에도 미친다.
- ⑤ 특별한 사정이 없는 한 저당목적물인 건물에 대한 저당권자의 압류가 있으면 저당권 설정자의 건물 임차인에 대한 차임채권에 저당권의 효력이 미친다.

**23. 근저당권에 관한 설명으로 옳지 않은 것은? (다툼이 있으면 판례에 따름)**

- ① 결산기에 확정된 채권액이 채권최고액을 넘는 경우, 채무자 겸 근저당권설정자는 최고액을 임의로 변제하더라도 근저당권등기의 말소를 청구할 수 없다.
- ② 공동근저당권자가 X건물과 Y건물에 대하여 공동저당을 설정한 후, 제3자가 신청한 X건물에 대한 경매절차에 참가하여 배당을 받으면, Y건물에 대한 피담보채권도 확정된다.
- ③ 공동근저당권자가 후순위근저당권자에 의하여 개시된 경매절차에서 피담보채권의 일부를 배당받은 경우, 우선변제 받은 금액에 관하여는 다시 공동근저당권자로서 우선변제권을 행사할 수 없다.
- ④ 원본의 이행기일을 경과한 후 발생하는 지연손해금 중 1년이 지난 기간에 대한 지연손해금도 근저당권의 채권최고액 한도에서 전액 담보된다.
- ⑤ 근저당권의 피담보채권인 원본채권이 확정된 후에 발생하는 이자나 지연손해금 채권은 그 근저당권의 채권최고액의 범위에서 여전히 담보된다.

24. 가등기담보 등에 관한 법률상 가등기담보권의 실행에 관한 설명으로 옳은 것은? (다툼이 있으면 판례에 따름)

- ① 가등기담보권자가 목적물의 소유권을 취득하려면 담보설정 당시 목적물의 평가액과 피담보채권액의 범위를 밝혀야 한다.
- ② 가등기담보권자의 청산금 지급채무와 가등기담보권설정자의 소유권이전등기 및 인도 채무는 동시이행관계에 있다.
- ③ 목적부동산의 평가액이 채권액에 미달하여 청산금이 없다고 인정되는 때에는 그 뜻을 채무자에게 통지할 필요가 없다.
- ④ 채권자가 담보목적부동산에 관하여 이미 소유권이전등기를 마친 경우에는 청산금을 채무자에게 지급하지 않더라도 담보목적 부동산의 소유권을 취득한다.
- ⑤ 채권자가 평가한 청산금의 액수가 정당하게 평가된 청산금의 액수에 미치지 못하는 경우에는 담보권 실행통지로서의 효력이 없다.

25. 채무불이행에 관한 설명으로 옳지 않은 것은? (다툼이 있으면 판례에 따름)

- ① 계약당사자 일방이 자신의 계약상 채무 이행에 장애가 될 수 있는 사유를 계약체결 시에 예견할 수 있었음에도 상대방에게 고지하지 않은 경우, 그 사유로 인해 채무불이행이 되는 것에 어떠한 잘못도 없었다면 채무불이행에 대한 귀책사유를 인정할 수 없다.
- ② 이행보조자의 행위가 채무자의 이행업무와 객관적, 외형적으로 관련된 경우, 그 행위가 채권자에게 불법행위가 되더라도 채무자는 채권자에 대하여 책임을 부담한다.
- ③ 매매목적물의 인도전 화재로 매도인이 수령할 화재보험금에 대하여 매수인이 대상청구권을 행사할 수 있는 경우, 그 범위는 매매대금의 범위내로 제한되지 않는다.
- ④ 대상청구권을 행사하려는 일방당사자가 부담하는 급부도 전부불능이 된 경우, 대상청구권의 행사는 허용되지 않는다.
- ⑤ 이행기의 정함이 없는 채권을 양수한 자가 채무자를 상대로 이행의 소를 제기하고 소송계속 중 채무자에 대하여 채권양도통지가 된 경우, 채무자는 원칙적으로 그 통지가 도달된 다음 날부터 이행지체책임을 진다.

26. 채권자대위권에 관한 설명으로 옳은 것은? (다툼이 있으면 판례에 따름)

- ① 채권자는 피보전채권의 변제기 전에 채권자대위권을 행사해서 피대위채권의 시효중단을 위한 이행청구를 하지 못한다.
- ② 임대인의 동의 없는 임차권의 양도는 당사자 사이에서는 유효하므로 임차권의 양수인은 임대인의 권한을 대위 행사할 수 있다.
- ③ 조합원이 조합을 탈퇴할 권리는 일신전속적 권리가 아니므로, 특별한 사정이 없는 한 피대위권리가 될 수 있다.
- ④ 채권자가 채무자의 토지 소유권이전등기청구권을 대위행사한 후 이를 채무자에게 통지한 경우, 채무자가 그 토지 소유권을 이전받는 것은 처분권제한에 위배되어 무효이다.
- ⑤ 제3채무자가 직접 대위채권자에게 금전을 지급하도록 하는 채권자대위소송의 판결이 확정된 경우, 대위채권자의 채권자는 대위채권자가 제3채무자로부터 지급받을 권리를 압류할 수 있다.

27. 채권자취소권에 관한 설명으로 옳지 않은 것은? (다툼이 있으면 판례에 따름)

- ① 채권자취소권은 재판상으로만 행사할 수 있다.
- ② 채권자가 채무자 소유의 부동산에 저당권을 설정받아 채권전액에 대한 우선변제권을 확보하고 있다면, 그 채무의 수탁보증인은 사전구상권을 피보전권리로 하여 채무자의 법률행위를 사해행위로 취소하지 못한다.
- ③ 저당권이 설정된 부동산이 사해행위로 양도된 후 그 저당권의 실행으로 양수인인 수익자에게 배당이 되었다면 취소채권자는 수익자를 상대로 배당금 상당액의 반환을 청구할 수 있다.
- ④ 사해행위 취소로 등기명의를 회복한 부동산을 채무자가 제3자에게 처분한 경우, 취소 채권자뿐만 아니라 사해행위 취소와 원상회복의 효력을 받는 채권자도 명의인을 상대로 등기의 말소를 청구할 수 있다.
- ⑤ 취소채권자는 수익자가 사해행위로 취득한 근저당권에 배당된 배당금을 가압류한 수익자의 채권자에 대하여서도 우선하여 배당을 받을 수 있다.

## 28. 채권의 목적에 관한 설명으로 옳지 않은 것은? (다툼이 있으면 판례에 따름)

- ① 특정물채권의 채무자는 이행기에 이행하여도 손해를 면할 수 없는 경우가 아닌 한, 이행지체 중에 과실없이 목적물이 멸실되더라도 배상책임을 부담한다.
- ② 원본채권이 시효로 소멸한 경우 그로부터 발생한 지분적 이자채권도 함께 소멸한다.
- ③ 금전채무불이행에 따른 통상손해배상의 경우 채권자는 자신의 손해를 증명할 필요가 없다.
- ④ 채무자가 금전채무를 이행하지 않아 발생한 확정된 지연손해금에 대하여 채권자가 이행청구를 하는 경우 그 지연손해금에 대하여 다시 지연손해금의 지급을 구할 수는 없다.
- ⑤ 무권대리에서 상대방이 그의 선택에 따라 행사할 수 있는 계약의 이행 또는 손해배상청구권은 선택권을 행사할 수 있는 때부터 소멸시효가 진행된다.

## 29. 甲은 乙로부터 5억 원을 차용하면서 자신의 X부동산(시가 3억 원)과 丙 소유의 Y부동산(시가 4억 원)에 공동저당권을 설정하고, 丁에게 부탁하여 연대보증인이 되도록 하였다. 이에 관한 설명으로 옳지 않은 것은? (부동산의 시가 변동이 없고 이자 기타 비용은 고려하지 않으며, 다툼이 있으면 판례에 따름)

- ① 甲이 자신의 유일한 재산인 X부동산을 매도한 경우 甲의 일반채권자는 그 매매계약을 사해행위로 취소할 수 없다.
- ② 丁이 자신의 유일한 재산을 처분한 경우 乙은 이를 사해행위로 취소할 수 있다.
- ③ 乙에게 2억 원을 변제한 丁은 丙에 대하여 변제자대위를 하지 못한다.
- ④ 丙이 5억 원 전액을 변제한 후 대위등기를 하기 전에 B가 X부동산을 취득하여 소유권이전등기를 마친 상황이라면 丙은 B에 대하여 변제자대위를 할 수 없다.
- ⑤ B가 X부동산을 취득하여 소유권이전등기를 마친 후 乙의 저당권실행경매로 B가 X부동산의 소유권을 상실하더라도 B는 丙은 물론 丁에 대하여도 변제자대위를 하지 못한다.



32. 채권의 소멸에 관한 설명으로 옳지 않은 것은? (다툼이 있으면 판례에 따름)

- ① 채무자가 채무액 일부를 지급하면서 이자 아닌 원본에 충당할 것을 지정하고 채권자가 이를 이의 없이 수령하여 묵시적 합의가 인정되는 때에는 지급된 금전은 원본에 충당된다.
- ② 원금채무는 소멸시효가 완성되지 않았으나 이자채무는 소멸시효가 완성된 상태에서 채무자가 변제증당을 지정하지 않고 채무의 일부를 변제한 때에는 특별한 사정이 없는 한 이자채무에 먼저 충당된다.
- ③ 상계가 금지되는 채권이라고 하더라도 압류금지채권에 해당하지 않는 한 강제집행에 의한 전부명령의 대상이 될 수 있다.
- ④ 피용자의 고의의 불법행위로 인하여 사용자책임이 성립하는 경우, 사용자는 자신의 고의가 없음을 주장하여 피해자의 손해배상채권을 수동채권으로 하는 상계권을 행사할 수 있다.
- ⑤ 소멸시효가 완성된 채권이 그 완성 전에 상계할 수 있었던 것이면 채권자는 그 채권을 자동채권으로 하여 상계할 수 있다.

33. 동시이행관계가 인정되는 것을 모두 고른 것은? (특별한 사정이 없고, 다툼이 있으면 판례에 따름)

- ㄱ. 매매계약상 매도인의 소유권이전 의무가 이행불능이 되어 생긴 손해배상채무와 매수인의 대금지급채무.
- ㄴ. 매매계약상 매도인의 소유권이전 의무와 매수인의 대금지급 의무 중 어느 하나를 선이행의 무로 약정한 경우, 각 의무의 이행기가 모두 지난 후의 쌍방의 의무.
- ㄷ. 근저당권 실행을 위한 경매가 무효로 되어 근저당권자가 채무자인 소유자를 대위하여 낙찰자에 대한 소유권이전등기말소청구권을 행사하는 경우, 낙찰자의 소유권이전등기말소 의무와 근저당권자의 배당금반환 의무.

- ① ㄱ
- ② ㄴ
- ③ ㄱ, ㄴ
- ④ ㄴ, ㄷ
- ⑤ ㄱ, ㄴ, ㄷ

**34. 제3자를 위한 계약에 관한 설명으로 옳지 않은 것은? (다툼이 있으면 판례에 따름)**

- ① 요약자는 원칙적으로 제3자의 권리와 별도로 낙약자에 대하여 제3자에게 급부를 이행할 것을 요구할 수 있는 권리를 가진다.
- ② 제3자가 수익의 의사표시를 한 경우, 계약의 당사자가 제3자의 권리를 임의로 변경·소멸시키는 행위를 하더라도 특별한 사정이 없는 한 제3자에 대하여 효력이 없다.
- ③ 요약자와 수익자 사이의 법률관계대가관계)의 효력 상실을 이유로 요약자는 낙약자와 요약자 사이의 법률관계(기본관계)상 낙약자에게 부담하는 채무의 이행을 거절할 수 있다.
- ④ 채무자와 인수인 사이의 계약으로 체결되는 증첩적 채무인수의 경우, 채권자의 수익의 의사표시는 그 계약의 성립요건 또는 효력발생요건이 아니다.
- ⑤ 낙약자와 요약자 사이의 계약(기본관계)이 무효가 된 경우, 낙약자는 특별한 사정이 없는 한 제3자를 상대로 그가 제3자에게 한 급부를 부당이득으로 반환 청구할 수 없다.

**35. 계약의 해제, 해지에 관한 설명으로 옳지 않은 것은? (다툼이 있으면 판례에 따름)**

- ① 타인 권리의 매매로 인한 담보책임으로 매수인이 계약을 해제한 경우, 매수인이 진정한 권리자인 타인에게 직접 목적물을 반환한 때에는 그 반환한 범위에서 매도인에게 반환할 의무를 부담하지 않는다.
- ② 사정변경을 이유로 한 계약의 해제나 해지에서 사정변경에 대한 예견가능성이 있었는지는 개별적 사정을 고려하지 않고 추상적·일반적으로 판단하여야 한다.
- ③ 매수인의 사망으로 매수인의 지위를 상속한 상속인들이 매매계약을 해제하려면, 특별한 사정이 없는 한 전원이 해제의 의사표시를 하여야 한다.
- ④ 조합계약에서는 계약을 해제 또는 해지하고 조합원에게 그로 인한 원상회복의 의무를 부담지울 수는 없다.
- ⑤ 계약이 합의에 따라 해제되거나 해지된 경우, 특별한 사정이 없는 한 채무불이행으로 인한 손해배상을 청구할 수 없다.



36. 매매의 일방예약 또는 매매계약에 관한 설명으로 옳지 않은 것은? (다툼이 있으면 판례에 따름)

- ① 예약완결권을 재판상 행사하는 경우, 소장 부분이 제척기간 내에 상대방에게 송달되어야만 제척기간 내에 행사한 것으로 본다.
- ② 당사자들이 약정한 예약완결권의 행사기간은 그 매매예약이 성립한 때부터 10년을 초과하더라도 무방하다.
- ③ 매매예약 성립 후 당사자일방의 매매예약 완결권의 행사 전에 상대방의 매매목적물이 멸실된 경우, 매매예약 완결의 의사표시가 있더라도 매매의 효력이 생기지 않는다.
- ④ 계약이행의 착수가 있기 전에 매도인이 민법 제565조(해약금) 제1항에 따라 계약을 해제하려면, 계약금의 배액을 상환하거나 적어도 이행제공 상태에 두어야 한다.
- ⑤ 매수인이 매매목적물을 대금지급 전에 인도받았다면 대금지급의무와 소유권이전등기 의무가 동시이행관계에 있더라도 민법 제587조(과실의 귀속, 대금의 이자)에 의한 매매대금이자를 지급할 의무가 있다.

37. 임대차에 관한 설명으로 옳은 것을 모두 고른 것은? (다툼이 있으면 판례에 따름)

- ㄱ. 임대차가 종료된 경우, 그 임대목적물이 임대인이 아닌 타인 소유라도 특별한 사정이 없는 한 임차인은 임대인에게 임대차 종료일까지의 연체 차임뿐만 아니라 그 이후부터 인도완료일까지 차임 상당의 부당이득금도 반환할 의무가 있다.
- ㄴ. 임대인이 임차인에게 필요비상환의무를 이행하지 않는 경우, 임차인은 지출한 필요비 금액의 한도에서 차임의 지급을 거절할 수 있다.
- ㄷ. 임차인이 임대인의 동의 없이 임차물을 제3자에게 전대한 경우, 임대인은 임대차계약의 존속 여부를 불문하고 제3자에게 불법점유를 이유로 한 차임 상당액의 손해배상청구를 할 수 있다.
- ㄹ. 임차인이 임대인의 동의를 얻어 임차물을 전대한 경우, 전대인과 전차인이 전대차계약상의 차임을 감액하여 전차인이 임대인에 대하여 직접 부담하는 의무의 범위가 변경되더라도 특별한 사정이 없는 한 전차인은 변경된 전대차계약의 내용을 임대인에게 주장할 수 있다.

- ① ㄱ, ㄴ
- ② ㄷ, ㄹ
- ③ ㄱ, ㄴ, ㄷ
- ④ ㄱ, ㄴ, ㄹ
- ⑤ ㄴ, ㄷ, ㄹ

### 38. 조합계약에 관한 설명으로 옳은 것은? (다툼이 있으면 판례에 따름)

- ① 조합재산을 구성하는 개개의 재산에 대한 합유지분을 압류 기타 강제집행의 대상으로 삼을 수 있다.
- ② 2인으로 구성된 조합에서 1인이 탈퇴하여 조합관계가 종료되는 경우, 특별한 사정이 없는 한 해산이나 청산을 거쳐야 조합재산은 남은 조합원의 단독소유에 속하게 된다.
- ③ 2인으로 구성된 조합에서 1인이 존속기한을 정하지 않고 부동산 사용권을 출자 하였다가 탈퇴한 경우, 특별한 사정이 없는 한 탈퇴 시 남은 조합원의 부동산 사용권은 소멸한다.
- ④ 공동이행방식의 건설공동수급체의 구성원인 조합원이 그 출자의무를 불이행하면, 특별한 사정이 없는 한 출자의무의 불이행을 이유로 이익분배 자체를 거부할 수 있다.
- ⑤ 조합원이 다른 조합원 전원의 동의 하에 조합지분을 양도하면, 조합원 지위의 변동은 조합지분의 양도양수에 관한 약정으로써 바로 효력이 생긴다.

### 39. 부당이득에 관한 설명으로 옳지 않은 것은? (다툼이 있으면 판례에 따름)

- ① 쌍무계약에서 당사자 쌍방의 귀책사유 없이 일방의 채무가 후발적으로 불능이 된 경우, 상대방은 이미 이행한 급부에 대하여 부당이득반환을 청구할 수 있다.
- ② 집행력 있는 정본을 가진 채권자가 배당요구의 종기까지 적법한 배당요구를 하지 않아 배당에서 제외된 경우, 배당금을 수령한 다른 채권자를 상대로 부당이득반환청구를 할 수 없다.
- ③ 과세관청이 3자간 등기명의신탁에 따라 해당 부동산의 공부상 소유자가 된 명의 수탁자에게 재산세 부과처분을 하여 명의수탁자가 재산세를 납부한 경우, 그는 명의신탁자나 그 상속인을 상대로 재산세 상당액에 대한 부당이득반환청구를 할 수 있다.
- ④ 임차인이 임대차계약 종료 후 임대차건물을 계속 점유하였으나, 본래의 임대차계약상의 목적에 따라 사용·수익하지 아니하여 실질적인 이득을 얻은 바가 없는 경우, 임차인은 차임 상당의 부당이득반환의무를 부담하지 않는다.
- ⑤ 송금의뢰인과 수취인 사이에 계좌이체의 원인이 되는 법률관계가 존재하지 않는데도 송금의뢰인의 착오송금으로 인해 수취인이 계좌이체 금액에 해당하는 예금채권을 취득 한 경우, 송금의뢰인이 수취인에 대하여 부당이득반환청구권을 갖는다.

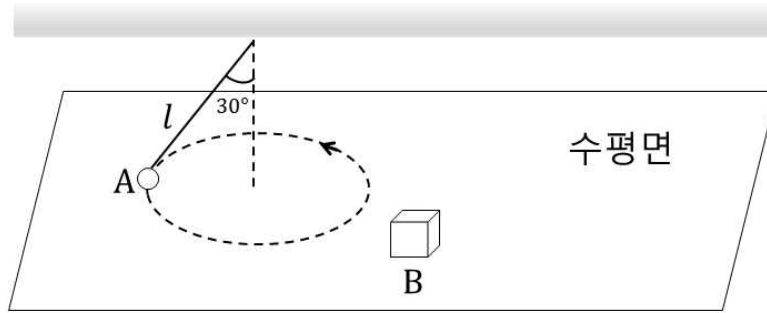
## 40. 불법행위에 관한 설명으로 옳지 않은 것은? (다툼이 있으면 판례에 따름)

- ① 공동불법행위자들 중에 고의로 불법행위를 행한 자가 있는 경우, 모든 공동불법행위자가 과실상계의 주장을 할 수 없다.
- ② 위법행위 시점과 손해의 발생 시점에 시간적 간격이 있는 경우, 불법행위로 인한 재산상 손해에 대한 배상책임이 성립하는 시기는 손해의 발생 시점이다.
- ③ 금전을 대여한 채권자가 고의 또는 과실로 이자제한법을 위반하여 최고이자율을 초과하는 이자를 받아 채무자에게 손해를 입힌 경우, 특별한 사정이 없는 한 불법행위가 성립한다.
- ④ 민법 제756조(사용자의 배상책임)의 사용관계는 실제로 지휘·감독하고 있는지 여부에 의하여 결정되는 것이 아니라 객관적으로 지휘·감독을 하여야 할 관계에 있는지 여부에 따라 결정된다.
- ⑤ 불법행위로 인한 손해배상채무는 특별한 사정이 없는 한 채무 성립과 동시에 지연손해금이 발생한다.

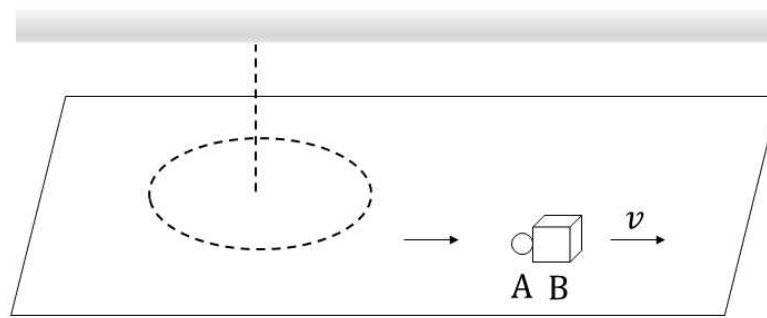
03  
2023

제60회 변리사 1차 국가자격시험  
[3교시] 자연과학개론

1. 그림 (가)와 같이 실에 매달린 물체 A는 수평면에서 반지름  $\frac{l}{2}$ 인 등속 원운동을 하고, 물체 B는 수평면에서 정지해 있다. (가)의 실이 끊어져 그림 (나)와 같이 A가 B와 충돌한 후 한 덩어리가 되어 속력  $v$ 로 운동한다. A와 B의 질량은 각각  $m$ 과  $3m$ 이고, (가)에서 실과 수직축 사이의 각도는  $30^\circ$ 이다. (가)에서 A에 작용하는 수직항력의 크기는? (단, 중력 가속도는  $g$ 이고, 실의 질량과 모든 마찰은 무시한다.)



(가)



(나)

①  $mg - 2\sqrt{3} \frac{mv^2}{l}$

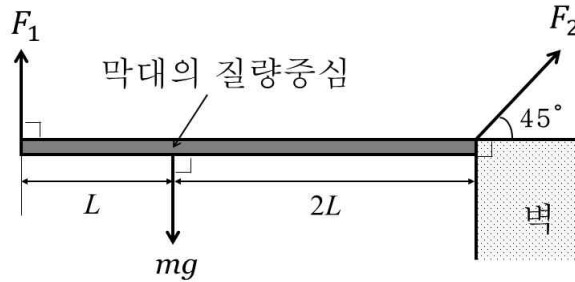
②  $mg - 4\sqrt{3} \frac{mv^2}{l}$

③  $mg - 8\sqrt{3} \frac{mv^2}{l}$

④  $mg - 16\sqrt{3} \frac{mv^2}{l}$

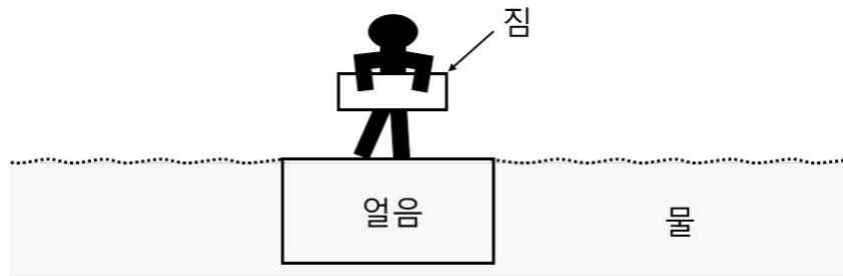
⑤  $mg - 32\sqrt{3} \frac{mv^2}{l}$

2. 그림과 같이 벽에 닿아 있는 길이  $3L$ , 무게  $mg$ 인 막대를 두 사람이 당겨 수평을 유지한다. 두 사람이 당기는 힘의 크기의 비  $\frac{F_1}{F_2}$ 는? (단, 막대의 밀도는 불균일하고, 막대의 굽기와 벽의 마찰은 무시한다.)

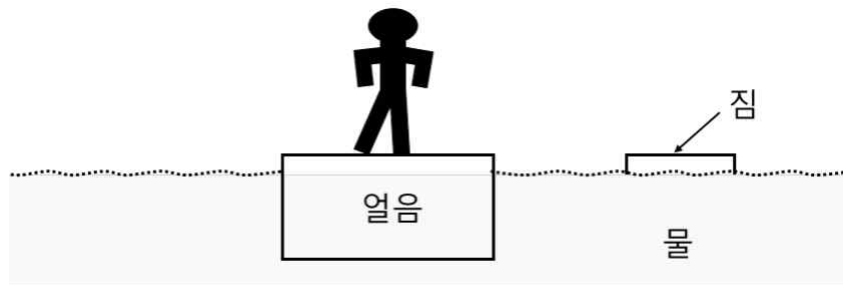


- ①  $\frac{1}{2\sqrt{2}}$
- ②  $\frac{1}{\sqrt{2}}$
- ③ 1
- ④  $\sqrt{2}$
- ⑤  $2\sqrt{2}$

3. 그림 (가)와 같이 질량  $72kg$ 의 사람이 짐을 들고 수면과 동일한 높이의 얼음 위에서 서 있다. 그림 (나)와 같이 짐을 물에 던졌더니 얼음 부피의  $\frac{1}{48}$ 이 수면 위로 떠올랐다. 짐의 질량( $kg$ )은? (단, 물과 얼음의 밀도는 각각  $\rho_w$ ,  $\frac{11}{12}\rho_w$ 이고, 얼음은 녹지 않는다.)



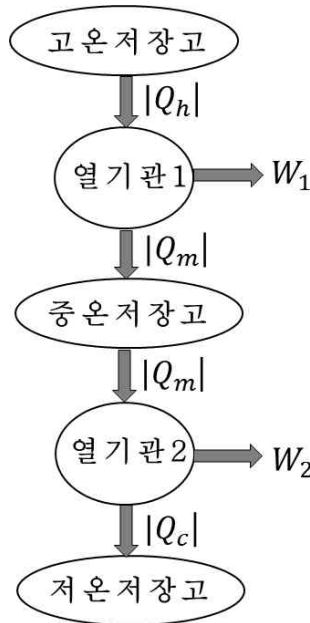
(가)



(나)

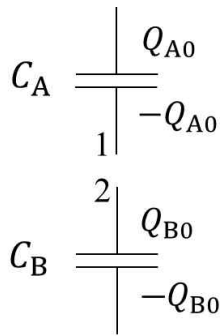
- ① 12
- ② 18
- ③ 24
- ④ 36
- ⑤ 48

4. 그림과 같이 고온저장고에서 열  $|Q_h|$  를 흡수하여  $W_1$  의 일을 하는 열기관1의 열효율이 0.4이다. 열기관1의 배기열  $|Q_m|$  을 활용하기 위하여  $|Q_m|$  을 다른 열기관2에 공급하였더니, 열기관 2는  $W_2$  의 일을 하고 열효율이 0.3이었다. 전체 열효율  $(W_1 + W_2)/|Q_h|$  는?

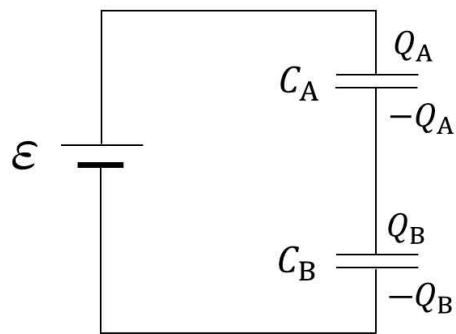


- ① 0.52
- ② 0.58
- ③ 0.63
- ④ 0.69
- ⑤ 0.75

5. 그림 (가)와 같이 전기용량  $C_A, C_B$  인 축전기에 각각 전하량  $Q_{A0}, Q_{B0}$  이 저장되어 있다. 그림 (나)와 같이 두 축전기의 단자 1과 2가 연결되고, 기전력  $\mathcal{E}$  인 전지와 연결되어 평형을 이룬 후 전기용량  $C_A$  인 축전기에 저장된 전하량  $Q_A$  는?



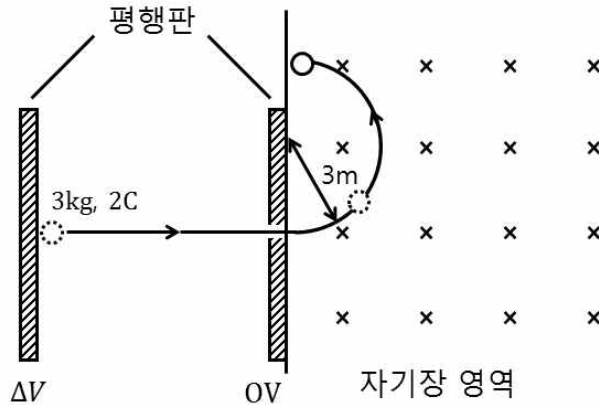
(가)



(나)

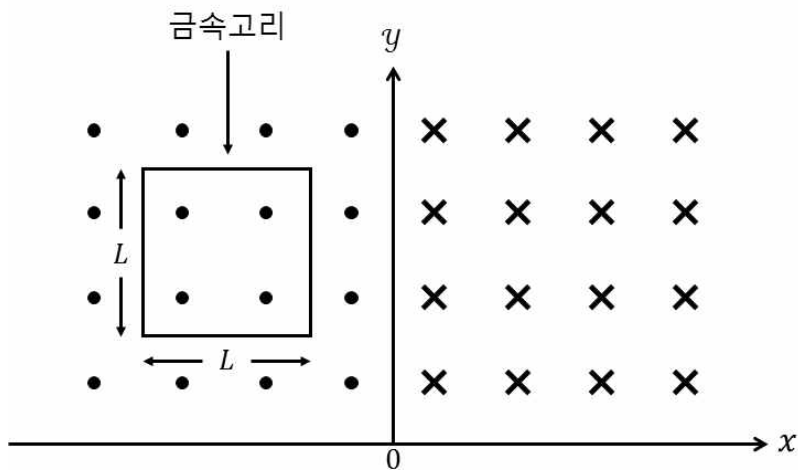
- ①  $\frac{C_A C_B}{C_A + C_B} \mathcal{E} + \frac{(Q_{A0} - Q_{B0}) C_A}{C_A + C_B}$
- ②  $\frac{C_A C_B}{C_A + C_B} \mathcal{E} - \frac{(Q_{A0} - Q_{B0}) C_A}{C_A + C_B}$
- ③  $\frac{C_A C_B}{C_A + C_B} \mathcal{E} + \frac{(Q_{A0} - Q_{B0}) C_B}{C_A + C_B}$
- ④  $\frac{C_A C_B}{C_A + C_B} \mathcal{E} - \frac{(Q_{A0} - Q_{B0}) C_B}{C_A + C_B}$
- ⑤  $\frac{C_A C_B}{C_A + C_B} \mathcal{E}$

6. 그림과 같이 질량  $3\text{kg}$ , 전하량  $2\text{C}$ 인 물체가 전위차  $\Delta V$ 인 무한 평행판의 한쪽 판에서 정지해 있다가 직선 가속운동을 하고 다른 쪽 판을 통과한 후, 크기  $4\text{T}$  로 균일한 자기장 영역에서 반지름  $3\text{m}$ 인 등속 원운동을 한다. 이 때  $\Delta V$ 는? (단, 중력은 무시한다.)



- ① 6V
- ② 12V
- ③ 16V
- ④ 32V
- ⑤ 48V

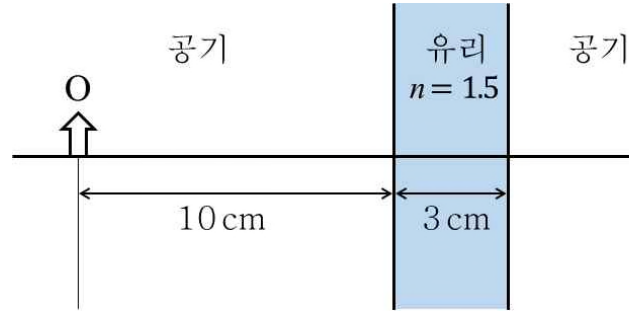
7. 그림과 같이  $x$ 축에 수직한 면을 경계로 하여 크기가 일정한 값  $B$ 로 균일한 자기장이  $\pm z$  축 방향으로 나오고 들어가며, 한 변의 길이가  $L$ 인 정사각형 금속 고리가  $+x$  축 방향으로 등속도 운동하고 있다. 금속고리에 전류가 유도되지 않다가 시간  $\Delta t$  동안만 일정한 전류  $I$ 가 유도될 때, 금속고리의 저항은?



- ①  $\frac{BL^2}{4I\Delta t}$
- ②  $\frac{BL^2}{2I\Delta t}$
- ③  $\frac{BL^2}{I\Delta t}$
- ④  $\frac{2BL^2}{I\Delta t}$
- ⑤  $\frac{4BL^2}{I\Delta t}$



8. 그림과 같이 물체 O로부터 10cm 떨어진 곳에 두께 3cm, 굴절률 1.5인 평면유리가 놓여 있다. 평면유리에 의한 상의 위치로 옳은 것은? (단, 중심축과 이루는 각도  $\theta$ 가 작을 때  $\sin\theta \approx \tan\theta \approx \theta$ 이다.)

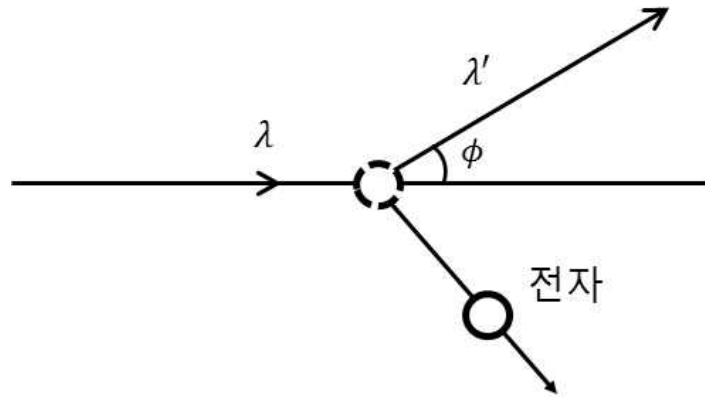


- ① O에서 평면유리 반대쪽으로 2cm
- ② O에서 평면유리 반대쪽으로 1cm
- ③ O에서 평면유리 쪽으로 1cm
- ④ O에서 평면유리 쪽으로 2cm
- ⑤ O에서 평면유리 쪽으로 3cm

9. 관측자 A에 대한 관측자 B의 상대속도는  $\frac{12}{13}c$ 이다. 이에 관한 설명으로 옳지 않은 것은? (단, Lorentz 인자  $\gamma = \frac{13}{5}$  이고,  $c$ 는 진공에서의 빛의 속력이다.)

- ① A와 B가 진공에서 각각 측정한 빛의 속력은 같다.
- ② B가 측정한 시간  $\tau$ 가 고유시간일 때, A가 측정한 시간은  $\frac{5}{13}\tau$ 이다.
- ③ 상대속도 방향의 길이만을 고려하면 A가 측정한 길이  $L_p$ 가 고유길이일 때, B가 측정한 길이는  $\frac{5}{13}L_p$ 이다.
- ④ A와 B가 각각 측정한 물체의 속력은  $c$ 보다 클 수 없다.
- ⑤ A와 B가 관측하는 물리현상에 적용되는 물리법칙은 동일하다.

10. 그림은 콤프턴 실험에서 파장  $\lambda$  인 빛이 입사하면서 정지해 있던 전자와 충돌하고 각도  $\phi$  인 방향으로 파장  $\lambda'$  인 빛이 산란하는 모습을 나타낸 것이다. 충돌 후 운동량의 크기가  $p$  인 전자가 튕겨나간다. 알려진 관계식  $\lambda' - \lambda = \lambda_C(1 - \cos\phi)$ 와 운동량 보존법칙으로 구한  $p^2$  은? (단,  $\lambda_C = \frac{h}{mc}$ ,  $h$ 는 플랑크 상수이고,  $c$ 는 진공에서의 빛의 속력이며,  $m$ 은 전자의 질량이다.)

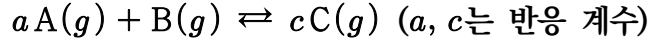


- ①  $(\frac{h}{\lambda} + \frac{h}{\lambda'} + \frac{h}{\lambda_C})^2 - (\frac{h}{\lambda_C})^2$
- ②  $(\frac{h}{\lambda} + \frac{h}{\lambda'} - \frac{h}{\lambda_C})^2 + (\frac{h}{\lambda_C})^2$
- ③  $(\frac{h}{\lambda} - \frac{h}{\lambda'} + \frac{h}{\lambda_C})^2 - (\frac{h}{\lambda_C})^2$
- ④  $(\frac{h}{\lambda} - \frac{h}{\lambda'} - \frac{h}{\lambda_C})^2 + (\frac{h}{\lambda_C})^2$
- ⑤  $(\frac{h}{\lambda} - \frac{h}{\lambda'} - \frac{h}{\lambda_C})^2 - (\frac{h}{\lambda_C})^2$

11. 25°C 에서 밀도가  $d_1 g/mL$ 인  $aM$ 의 A 수용액 100mL를 20°C 로 냉각하였더니, 밀도가  $d_2 g/mL$ 인 A 수용액이 되었다. 20°C 에서 A 수용액의 몰농도와 질량 퍼센트 농도를 각각  $x M$  과  $y\%$  라고 할 때,  $\frac{x}{y}$  는? (단, A의 물질량은  $100g/mol$  이고, A는 물에 모두 용해되며, 물의 증발은 무시한다.)

- ①  $\frac{d_1}{10}$
- ②  $\frac{d_2}{10}$
- ③  $\frac{d_1}{5}$
- ④  $\frac{d_2}{5}$
- ⑤  $\frac{d_1 d_2}{5}$

12. 다음은 기체 A와 B가 반응하여 기체 C가 생성되는 반응의 화학 반응식이다.



표는 이 반응의 평형 (가) ~ (다)에 관한 자료이다. 이에 관한 설명으로 옳은 것만을 <보기>에서 있는 대로 고른 것은?

(단,  $RT_1 = 25L \cdot \text{atm/mol}$ ,  $RT_2 = 50L \cdot \text{atm/mol}$ ( $R$ 는 기체 상수)이고,  $K_C$ 와  $K_P$ 는 각각 농도로 정의된 평형 상수와 압력으로 정의된 평형 상수이다. 기체는 이상 기체와 같은 거동을 한다.)

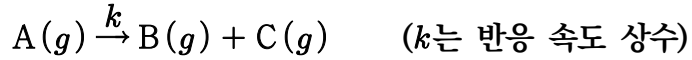
평형	온도	농도(M)	평형 상수
(가)	$T_1$	[A] = 0.1, [B] = 0.4, [C] = 0.2	$K_C = 100$
(나)	$T_2$	[A] = 1, [B] = 0.01, [C] = ?	$K_P = 0.0016$
(다)	$T_2$	[A] = 0.5, [B] = ?, [C] = 0.2	$K_C = 4$

— < 보 기 > —

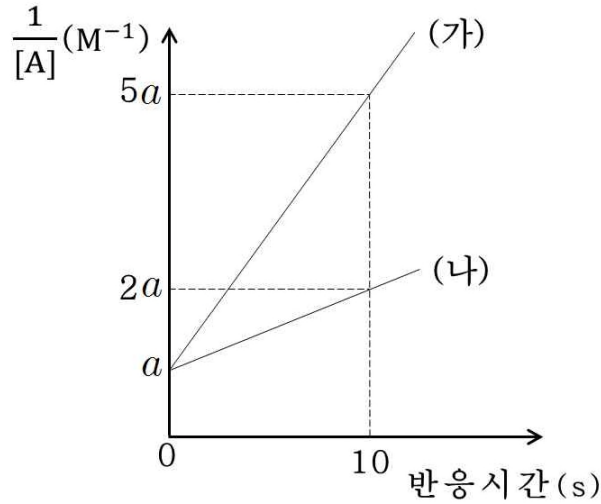
- ㄱ. [C]는 (다)에서가 (나)에서보다 크다.
- ㄴ. 이 반응의 정반응은 발열 반응이다.
- ㄷ.  $K_P$ 는 (가)에서가 (다)에서의 100배이다.

- ① ㄱ      ② ㄷ      ③ ㄱ, ㄴ      ④ ㄴ, ㄷ      ⑤ ㄱ, ㄴ, ㄷ

13. 다음은 기체 A가 분해되는 반응의 화학 반응식이다.



그림은 강철 용기에서 온도를 달리하면서 이 반응을 진행시킬 때 반응 시간에 따른 A 농도의 역수 ( $\frac{1}{[A]}$ )를 나타낸 것이며, (가)와 (나)의 온도는  $T\text{K}$ 와  $1.2T\text{K}$ 를 순서 없이 나타낸 것이다. 이에 관한 설명으로 옳은 것만을 <보기>에서 있는 대로 고른 것은? (단, 기체 상수 ( $R$ )는  $b\text{ J/K} \cdot \text{mol}$ 이다.)

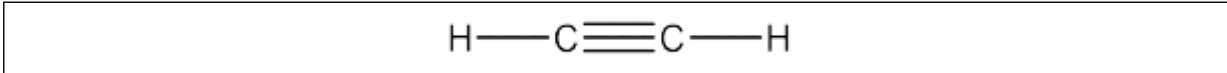


〈 보 기 〉

- ㄱ. 이 반응의 속도 법칙은  $v = k[A]^2$ 이다.
- ㄴ. 이 반응의 활성화 에너지는  $6bT \ln 4\text{ J/mol}$ 이다.
- ㄷ. 동일한  $[A]$ 까지 걸린 반응 시간이 (나)가 (가)보다  $112.5s$  더 길다면 이  $[A]$ 에서의 반감기는 (나)가 (가)보다  $120s$  더 길다.

- ① ㄱ      ② ㄷ      ③ ㄱ, ㄴ      ④ ㄴ, ㄷ      ⑤ ㄱ, ㄴ, ㄷ

14. 다음은 아세틸렌 분자의 구조식이다. 이에 관한 설명으로 옳은 것만을 <보기>에서 있는 대로 고른 것은?



- < 보 기 > —
- ㄱ. 분자의 C원자 간에는 2개의  $\pi$  결합이 존재한다.
  - ㄴ.  $\pi$ -공유결합(conjugation)된 trans-폴리아세틸렌은 전도성 고분자이다.
  - ㄷ. 산촉매에서 물의 첨가 반응으로 생성된 물질의 IR 스펙트럼은  $1,730\text{cm}^{-1}$  부근에서 강한 피크를 나타낸다.

- ① ㄱ                      ② ㄷ                      ③ ㄱ, ㄴ                      ④ ㄴ, ㄷ                      ⑤ ㄱ, ㄴ, ㄷ

15. 분자식이  $\text{C}_4\text{H}_8\text{O}$  인 화합물의 구조 이성질체 중 알코올을 제외한 고리형 구조 이성질체의 수는?

- ① 4                      ② 5                      ③ 6                      ④ 7                      ⑤ 8

16. 다음은 원소 A~D와 관련된 설명이다. A, B, C, D는 Na, Cl, Ne, Ar을 순서 없이 나타낸 것이다. 이에 관한 설명으로 옳은 것만을 <보기>에서 있는 대로 고른 것은?

- A는 B, C, D와 다른 주기를 갖는다.
- C와 D는 등전자 배치를 갖는다.

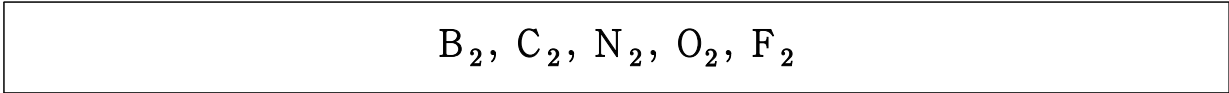
- < 보 기 > —
- ㄱ. 원자 반지름 또는 이온 반지름은  $B^+ < A < D < C^-$  이다.
  - ㄴ. 제1 이온화 에너지는  $B < C < D < A$  이다.
  - ㄷ. 중성 기체 상태의 원자 1mol이 전자 1mol을 받아들일 때 방출하는 에너지는  $C < B$  이다.

- ① ㄱ                      ② ㄷ                      ③ ㄱ, ㄴ                      ④ ㄴ, ㄷ                      ⑤ ㄱ, ㄴ, ㄷ

17. 바닥상태 정사면체 착화합물  $[MC_4]^{2-}$  에 관한 설명으로 옳지 않은 것은? (단, M은 원자 번호가 25인 임의의 원소 기호이며,  $\Delta_t$ 는 정사면체 결정장 갈라짐 에너지이다.)

- ① 중심 이온의 산화수는 +2이다.
- ② 중심 이온의  $3d_{xy}$  오비탈의 에너지가  $3d_{z^2}$  오비탈 에너지보다 높다.
- ③ 가상적인 정육면체에서 중심 이온의  $3d$  오비탈 중  $3d_{z^2}$  과  $3d_{x^2-y^2}$  오비탈은 면심을 향하고 있다.
- ④ 중심 이온의 홀전자 수는 5이다.
- ⑤ 결정장 안정화 에너지는  $-2\Delta_t$ 이다.

18. 다음은 2주기 원소의 동종핵 2원자 분자를 나타낸 것이다. 분자 오비탈(MO) 이론에 근거하여, 이 분자에 관한 설명으로 옳지 않은 것은? (단, 모든 분자는 바닥상태이다.)



- ① 모든 분자들의 결합 차수 총합은 9이다.
- ② 상자기성 분자는 3개이다.
- ③ 결합성  $\pi_{2p}$  MO 에너지 준위에 비해 결합성  $\sigma_{2p}$  MO 에너지 준위가 낮은 분자는 2개이다.
- ④ 결합 에너지가 가장 큰 분자는  $N_2$ 이다.
- ⑤ 모든 분자들의 홀전자 수 총합은 4이다.

19. 다음은 금속 A를 이용한 갈바니 전지이고, 이 전지의 전위는 25°C에서 0.82V이다.



이에 관한 설명으로 옳은 것만을 <보기>에서 있는 대로 고른 것은? (단, 25°C에서  $\frac{RT}{F} \ln Q = \frac{2.303RT}{F} \log Q = 0.06V \log Q$  ( $R$ 는 기체 상수,  $F$ 는 패러데이 상수,  $Q$ 는 반응 지수)이고, A는 임의의 원소 기호이며, 온도는 25°C로 일정하다.)

< 보 기 >

- ㄱ.  $H^+$ 는 산화제이다.
- ㄴ.  $A^{2+}(aq) + 2e^- \rightarrow A(s)$ 의 표준 환원 전위 ( $E^\circ$ )는 -0.70V이다.
- ㄷ. 용액의 pH가 3이 되면 전지의 전위는 0.76V보다 커진다.

- ① ㄱ
- ② ㄴ
- ③ ㄱ, ㄷ
- ④ ㄴ, ㄷ
- ⑤ ㄱ, ㄴ, ㄷ

20. 어떤 약산 HA의 산 해리 상수( $K_a$ )가 25°C 에서  $1 \times 10^{-5}$  일 때, 다음 중 pH가 6에 가장 가까운 용액은? (단, 용액의 온도는 25°C 로 일정하다.)

- ① HA가 1% 해리된 용액
- ② HA가 9% 해리된 용액
- ③ HA가 50% 해리된 용액
- ④ HA가 91% 해리된 용액
- ⑤ HA가 99% 해리된 용액

21. 세포소기관에 관한 설명으로 옳은 것은?

- ① 세포골격을 구성하는 중간섬유, 미세섬유, 미세소관 중 미세소관이 가장 굵다.
- ② 리소좀 내의 효소들은 중성 환경에서만 작용한다.
- ③ 골지체의 트랜스(trans) 면 쪽은 소포체로부터 떨어져 나온 소낭(vesicle)을 받는 쪽이다.
- ④ 글리옥시좀(glyoxysome)은 동물세포에서만 발견된다.
- ⑤ 활면소포체는 칼륨이온( $K^+$ )을 저장한다.

22. 세포호흡과 광합성에 관한 설명으로 옳은 것만을 <보기>에서 있는 대로 고른 것은?

— < 보 기 > —

ㄱ. 광인산화와 산화적 인산화는 화학삼투를 통하여 ATP를 생성한다.

ㄴ.  $C_3$  식물과  $C_4$  식물의 탄소고정 경로는 다르나 캘빈회로는 같다.

ㄷ.  $C_3$  식물의 캘빈회로부터 직접 생성되는 탄수화물은 포도당이다.

- ① ㄱ
- ② ㄴ
- ③ ㄷ
- ④ ㄱ, ㄴ
- ⑤ ㄴ, ㄷ

23. 사람의 신호전달과정에 관한 설명으로 옳은 것은?

- ① 국소분비 신호전달(paracrine signaling)은 분비된 분자가 국소적으로 확산되어 분비한 세포 자신이 반응을 유도한다.
- ② 신경전달물질(neurotransmitter)은 신경세포의 말단에서 혈류로 확산된다.
- ③ 수용성 호르몬은 세포 표면의 신호 수용체에 결합하면 세포반응이 유도된다.
- ④ 에피네프린은 세포질내의 수용체 단백질과 결합하여 호르몬-수용체 복합체를 형성한다.
- ⑤ 내분비 신호전달(endocrine signaling)은 짧은 거리의 표적세포에 신호를 전달한다.

24. 사람의 적응면역에 관한 설명으로 옳은 것만을 <보기>에서 있는 대로 고른 것은?

— < 보 기 > —

ㄱ. 항원제시세포는 I 형 MHC 분자만을 가진다.

ㄴ. 세포독성 T세포는 감염된 세포를 죽인다.

ㄷ. T세포는 골수에서 성숙한다.

ㄹ. B세포 항원수용체와 항체는 항원표면의 항원결정부(epitope)를 인식한다.

- ① ㄱ, ㄴ      ② ㄱ, ㄷ      ③ ㄴ, ㄷ      ④ ㄴ, ㄹ      ⑤ ㄷ, ㄹ

25. 동물의 난할(cleavage)에 관한 설명으로 옳은 것만을 <보기>에서 있는 대로 고른 것은?

— < 보 기 > —

ㄱ. 난자 내에서 난황이 집중되어 있는 쪽을 동물극이라 한다.

ㄴ. 난할 중인 세포들의 세포분열주기는 주로 S기와 M기만으로 구성된다.

ㄷ. 개구리의 난할 패턴은 전할(holoblastic)이다.

- ① ㄱ      ② ㄴ      ③ ㄷ      ④ ㄱ, ㄴ      ⑤ ㄴ, ㄷ

26. 꽃의 색은 대립유전자 R(빨간색)과 r(분홍색)에 의해, 크기는 대립유전자 L(큰 꽃)과 l(작은 꽃)에 의해 결정되며, 이 두 유전자좌위는 동일한 염색체상에 위치한다. R은 r에 대해, L은 l에 대해 각각 완전 우성이다. 표는 유전자형이 RrLl인 식물(P)을 자가교배하여 얻은 F<sub>1</sub> 식물의 표현형 비율에 관한 자료이다. 이 결과에 관한 설명으로 옳은 것만을 <보기>에서 있는 대로 고른 것은?

표현형	빨간색 큰 꽃	분홍색 큰 꽃	빨간색 작은 꽃	분홍색 작은 꽃
비율	0.51	0.24	0.24	0.01

— < 보 기 > —

ㄱ. 재조합형 염색체가 감수분열 I 전기 동안 만들어졌다.

ㄴ. 빨간색 큰 꽃 F<sub>1</sub> 식물들 모두가 재조합 자손이다.

ㄷ. 유전자형이 RrLl인 식물(P)은 대립유전자 R과 L이 함께 위치한 염색체를 지녔다.

- ① ㄱ      ② ㄴ      ③ ㄷ      ④ ㄱ, ㄴ      ⑤ ㄴ, ㄷ



27. 다음은 세균 오페론의 전사 조절 인자들에 관한 자료이다. 이에 관한 설명으로 옳은 것은?

- 전사인자에는 활성인자와 억제인자가 있다.
- 작은 크기의 공동조절자에는 유도자(inducer) , 공동활성자(coactivator)와 공동억제자(corepressor)가 있다.

- ① 트립토판(Trp) 오페론의 전사는 양성 조절과 음성 조절을 모두 받는다.
- ② 젓당(Lac) 오페론의 양성 조절에서 공동조절자가 결합한 전사인자는 전사를 활성화시킨다.
- ③ 공동조절자에 의한 트립토판 오페론 전사 감쇠(attenuation) 조절 방식은 진핵세포에서도 일어날 수 있다.
- ④ 젓당 오페론의 음성 조절에서 공동조절자가 결합한 전사인자는 작동자에 결합한다.
- ⑤ 트립토판 오페론에서 공동조절자 없이 전사인자만으로 전사가 억제된다.

28. 진핵생물의 염색질 구조에 관한 설명으로 옳은 것은?

- ① 염색질 변형은 복원될 수 없다.
- ② 히스톤 C-말단 꼬리의 아세틸화는 염색질 구조를 느슨하게 한다.
- ③ DNA의 메틸화는 전사를 촉진한다.
- ④ 뉴클레오솜(nucleosome)의 직경은 약 30nm 정도이다.
- ⑤ 양전하를 띤 히스톤 단백질과 음전하를 띤 DNA가 결합하여 뉴클레오솜을 형성한다.

29. CRISPR-Cas9 시스템에 관한 설명으로 옳지 않은 것은?

- ① Cas9는 DNA 이중가닥을 절단하는 단백질 효소이다.
- ② Cas9 단독으로 특정 DNA 서열을 자를 수 있다.
- ③ 세균은 박테리오파지 감염 방어에 CRISPR-Cas9 시스템을 이용한다.
- ④ 세균 염색체상에 CRISPR 영역이 위치한다.
- ⑤ CRISPR-Cas9 시스템을 이용한 유전자 편집으로 돌연변이의 복구가 가능하다.

30. 좌우대칭동물에 관한 설명으로 옳지 않은 것은?

- ① 연체동물은 측수담륜동물문이다.
- ② 후구동물은 원구(blastopore)에서 입이 발달된다.
- ③ 좌우대칭동물은 삼배엽성동물이다.
- ④ 환형동물은 진체강동물이다.
- ⑤ 탈피동물은 외골격을 가지고 있다.

31. 지진파와 관련된 설명으로 옳은 것만을 <보기>에서 있는 대로 고른 것은?

— < 보 기 > —

ㄱ. 지진파의 속도는 매질의 상태나 밀도에 따라 달라진다.  
 ㄴ. 지각과 외핵은 고체 상태이기 때문에 P파와 S파 모두 전파된다.  
 ㄷ. 한 지진에 의한 P파 암영대는 S파 암영대보다 좁다.

- ① ㄱ                      ② ㄴ                      ③ ㄷ                      ④ ㄱ, ㄷ                      ⑤ ㄱ, ㄴ, ㄷ

32. 베게너가 대륙 이동설의 증거로 제시한 것으로 옳은 것만을 <보기>에서 있는 대로 고른 것은?

— < 보 기 > —

ㄱ. 대서양을 사이에 두고 있는 남아메리카 대륙과 아프리카 대륙은 해안선 모양이 잘 들어맞는다.  
 ㄴ. 남극 대륙의 빙하 흔적은 북극의 빙하와 연결된다.  
 ㄷ. 북아메리카 대륙과 유럽에 있는 산맥의 지질구조가 연속적이다.

- ① ㄱ                      ② ㄴ                      ③ ㄷ                      ④ ㄱ, ㄷ                      ⑤ ㄱ, ㄴ, ㄷ

33. 판의 경계 중 발산형 경계에서 생성된 지형으로 옳은 것은?

- ① 마리아나 해구                      ② 산안드레아스 단층                      ③ 알프스 산맥  
 ④ 히말라야 산맥                      ⑤ 동아프리카 열곡대

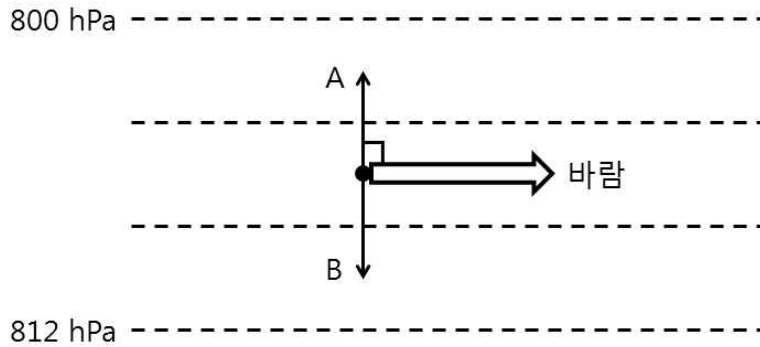
34. 표준화석의 조건과 특성에 관한 설명으로 옳지 않은 것은?

- ① 생물의 생존기간이 짧아야 한다.  
 ② 생물이 살았던 환경을 추정하는데 이용된다.  
 ③ 생물의 개체수가 많아야 한다.  
 ④ 생물의 분포면적이 넓어야 한다.  
 ⑤ 지층의 생성시기를 알 수 있다.

35. 대양에서 나타나는 시계 방향의 환류에 속하지 않는 해류는?

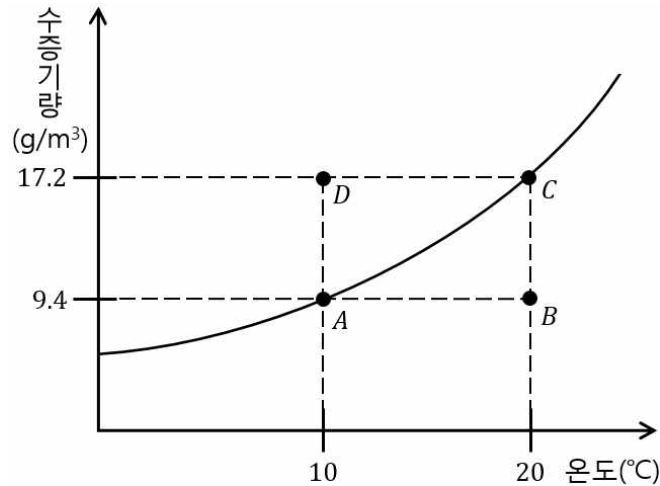
- ① 멕시코 만류                      ② 페루 해류                      ③ 쿠로시오 해류  
 ④ 캘리포니아 해류                      ⑤ 카나리아 해류

36. 그림은 북반구에서 지균풍이 불 때, 마찰이 없는 상층의 기압경도력, 전향력, 바람의 방향을 모식적으로 나타낸 것이다. 이에 관한 설명으로 옳은 것은? (단, 점선은 등압선이다.)



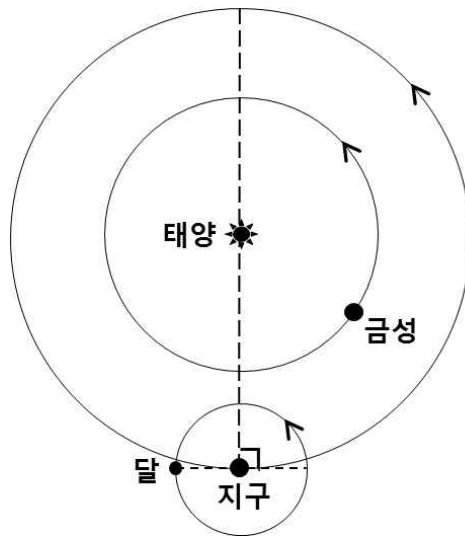
- ① A는 전향력이다.
- ② A는 등압선 간격이 넓을수록 커진다.
- ③ B는 풍속이 강할수록 커진다.
- ④ B는 중위도보다 적도에서 크다.
- ⑤ 지표에서 마찰이 발생한다면 B의 크기가 A의 크기보다 커진다.

37. 그림은 온도에 따른 포화수증기량곡선 중 일부를 나타낸 것이다. 이에 관한 설명으로 옳지 않은 것은?



- ① A는 포화상태이다.
- ② B는 불포화상태이다.
- ③ B의 이슬점은 20°C이다.
- ④ C의 상대습도는 100%이다.
- ⑤ D 상태에서는 응결이 일어난다.

38. 그림은 어느 날 지구에서 관측한 금성과 달의 위치를 공전궤도에 모식적으로 나타낸 것이다. 이에 관한 설명으로 옳은 것만을 <보기>에서 있는 대로 고른 것은?



< 보 기 >

- ㄱ. 금성은 초저녁에 동쪽하늘에서 관측된다.
- ㄴ. 초저녁에 달은 상현달로 관측된다.
- ㄷ. 며칠 후 자정에 금성을 관측할 수 있다.

- ① ㄴ      ② ㄷ      ③ ㄱ, ㄴ      ④ ㄱ, ㄷ      ⑤ ㄴ, ㄷ

39. 표는 별 A, B, C의 겉보기 등급과 연주시차를 나타낸 것이다. 이에 관한 설명으로 옳은 것만을 <보기>에서 있는 대로 고른 것은?

별	겉보기 등급	연주시차(")
A	0	1
B	5	0.5
C	2	0.1

< 보 기 >

- ㄱ. A~C 중 가장 가까운 별은 A이다.
- ㄴ. A의 절대 등급은 -5이다.
- ㄷ. C의 절대 등급은 2이다.

- ① ㄱ      ② ㄷ      ③ ㄱ, ㄴ      ④ ㄱ, ㄷ      ⑤ ㄱ, ㄴ, ㄷ

40. 우리은하에 관한 설명으로 옳은 것은?

- ① 타원 은하이다.
- ② 은하의 중심 방향은 황소자리 부근에 위치한다.
- ③ 태양은 우리은하의 나선 팔에 위치한다.
- ④ 헤일로(halo)는 주로 젊은 별들로 구성되어 있다.
- ⑤ 나선 팔에는 나이 많은 별들로 구성된 구상성단이 주로 분포한다.



실현되는 가능성  
변리사스쿨, 1차부터 2차까지!  
우리와 함께라면 합격은 문제없습니다!



변리사스쿨

# 2023년도 제60회 변리사 1차 국가자격시험 최종 정답

## 1교시 산업재산권법

1	2	3	4	5	6	7	8	9	10
③	④	⑤	④	⑤	⑤	④	①	③	⑤
11	12	13	14	15	16	17	18	19	20
①	②	③	④	정답없음	②	⑤	②	②	④
21	22	23	24	25	26	27	28	29	30
③	③	④	③	⑤	①	①	④	⑤	④
31	32	33	34	35	36	37	38	39	40
③	②	④	⑤	②	⑤	⑤	④	②	①

## 2교시 민법개론

1	2	3	4	5	6	7	8	9	10
③	①	③	⑤	②	②	④	④	⑤	②
11	12	13	14	15	16	17	18	19	20
⑤	①	④	①	①	⑤	③	④	③	④
21	22	23	24	25	26	27	28	29	30
⑤	①	②	②	①	③	⑤	④	②	②
31	32	33	34	35	36	37	38	39	40
①	④	③	③	②	⑤	④	⑤	③	①

## 3교시 자연과학개론

1	2	3	4	5	6	7	8	9	10
⑤	④	③	②	①	⑤	④	③	②	③
11	12	13	14	15	16	17	18	19	20
②	④	⑤	⑤	④	모두정답	⑤	②	①	④
21	22	23	24	25	26	27	28	29	30
①	④	③	④	⑤	①	②	⑤	②	②
31	32	33	34	35	36	37	38	39	40
④	④	⑤	②	②	③	③	①	④	③

01  
2024

제61회 변리사 1차 국가자격시험  
[1교시] 산업재산권법



**1. 특허와 실용신안등록에 관한 설명으로 옳지 않은 것은? (다툼이 있으면 판례에 따름)**

- ① 공공의 질서 또는 선량한 풍속에 어긋나거나 공중의 위생을 해칠 우려가 있는 발명 또는 고안은 특허 또는 실용신안등록을 받을 수 없다.
- ② 고안은 기술적 진보 또는 발명의 고도성 기준에 달하지 못한 작은 발명이다. 이 점과 관련하여 실용신안법은 실용신안권을 침해한 자에 대하여 특허권을 침해한 자보다 낮은 형량을 규정하고 있다.
- ③ 특허법과 실용신안법은 각 침해죄를 동일하게 반의사불벌죄로 규정하고 있다.
- ④ 실용신안등록을 받으려는 자는 출원시 도면을 첨부하여야 하지만, 특허를 받으려는 자는 도면을 제출하지 아니할 수도 있다.
- ⑤ 특허협력조약(PCT)에 의한 국제출원시 특허출원에 따른 도면의 설명부분에 대한 국어번역문을 제출하지 아니한 경우 도면의 설명부분에 대한 기재가 없었던 것으로 보지만, 실용신안등록출원시 도면을 포함하지 아니한 경우 출원인은 기준일까지 이를 제출하여야 하고 기준일까지 도면을 제출하지 아니한 때에는 특허청장이 정한 기간 내에 도면을 제출할 수 있다.

**2. 특허를 받을 수 있는 권리에 관한 설명으로 옳지 않은 것은? (다툼이 있으면 판례에 따름)**

- ① 특허청 직원은 발명자라 할지라도 상속 또는 유증의 경우를 제외하고는 재직 중 특허를 받을 수 없으나, 특허권자로 권리를 행사하는 데 아무런 문제가 없다.
- ② 인공지능(AI)이 생성한 결과물에 대한 보호 여부와 관련하여 AI가 자연인이 아니라는 점에 따라 발명자가 될 수 없다.
- ③ 법인이라 할지라도 특허를 받을 수 있는 권리를 승계할 수 있지만, 이 권리는 질권의 목적으로 할 수 없다.
- ④ 발명이 정신적 창작활동의 결과로 얻어지는 것이라는 점에서 피성년후견인은 특허를 받을 수 있는 권리를 가지지 못한다.
- ⑤ 2명 이상이 공동으로 발명한 경우에는 특허를 받을 수 있는 권리를 공유한다.

**3. 무권리자의 특허출원 등에 관한 설명으로 옳은 것은? (다툼이 있으면 판례에 따름)**

- ① 연구자의 지시에 따라 데이터를 수집하고 실험을 행한 A가 자기 이름으로 특허출원을 하였으나 특허를 받을 수 있는 권리를 가지지 아니한 사유로 A가 특허를 받지 못한 경우에 정당한 권리자 B가 A의 특허출원 후 특허를 출원하였다 하더라도 B의 특허출원은 A의 출원 시로 소급하지 못한다.
- ② 특허를 받을 수 있는 권리를 가지지 아니한 C가 특허출원하여 특허 등록되었을 경우에 정당한 권리자 D는 특허의 정정심판청구로 특허 등록할 수 있다.
- ③ 특허권의 이전청구에 따라 공유인 특허권의 지분을 이전하는 경우에 특허법의 규정에 따라 다른 공유자의 동의를 받아야 그 지분을 이전할 수 있다.
- ④ 특허권의 이전청구에 기초하여 특허권이 이전등록된 경우에, 제65조(출원공개의 효과) 제2항에 따른 보상금지급청구권은 특허권이 이전등록된 날부터 이전등록을 받은 자에게 있는 것으로 본다.
- ⑤ 이전등록된 특허권에 대하여 이전등록 당시에 전용실시권을 취득하고 등록을 받은 자가 특허권의 이전청구에 따른 특허권의 이전등록이 있기 전에 해당 특허가 무효심판 대상임을 알지 못하고 국내에서 해당 발명의 실시사업을 준비하고 있는 경우에 그 준비를 하고 있는 발명 및 사업목적의 범위에서 그 특허권에 대하여 통상실시권을 가진다.

**4. 특허요건 중 신규성에 관한 설명으로 옳지 않은 것은? (다툼이 있으면 판례에 따름)**

- ① 다수인이 발명의 내용을 알고 있거나 알 수 있는 상태에 있다 하더라도 그들이 모두 비밀유지의무를 지는 경우라면 그 발명은 공지되었다고 볼 수 없다.
- ② 제29조(특허요건) 제1항 제1호에 규정한 ‘특허출원 전’의 의미는 발명의 공지 또는 공연 실시된 시점이 특허출원 전이라는 의미이고, 그 공지 또는 공연 실시된 사실을 인정하기 위한 증거가 특허출원 전에 작성된 것을 의미한다.
- ③ 전기통신회선을 통하여 공개되었다 하더라도 암호를 부여하여 불특정 다수인의 접근이 불가능한 경우에는 공중의 이용가능성이 없다.
- ④ 카탈로그는 제작되었으면 배부, 반포되는 것이 사회통념이라 하겠으며 제작한 카탈로그를 배부, 반포하지 아니하고 사장하고 있다는 것은 경험칙상 수긍할 수 없는 것이어서 카탈로그의 배부범위, 비치장소 등에 관하여 구체적인 증거가 없다고 하더라도 그 카탈로그의 배부, 반포되었음을 부인할 수는 없다.
- ⑤ 공지기술이 상위개념으로 기재되어 있고 청구항에 기재된 발명이 하위개념으로 기재되어 있으면 동일성이 없어 통상적으로 청구항에 기재된 발명은 신규성이 있다.

### 5. 특허요건 중 진보성에 관한 설명으로 옳지 않은 것은? (다툼이 있으면 판례에 따름)

- ① 그 발명이 속하는 기술분야에서 통상의 지식을 가진 사람이란 특허법에 규정한 상상의 인물을 말한다 할지라도 실제 심사단계에서 심사관, 심판단계에서 심판관 합의체의 입장에서 판단한다. 이에 법원은 문제된 사안에서 법관의 판단을 배제하고 심사관·심판관 합의체가 어떻게 진보성을 적용하였는지를 판단한다.
- ② 발명품의 판매가 상업적 성공을 거두었다 하더라도 일응 진보성이 있는 것으로 볼 자료가 될 수 있지만 그 자체로 진보성이 있다고 단정할 수 없다. 진보성에 대한 판단은 명세서에 기재된 내용을 토대로 판단되어야 한다.
- ③ 통상의 기술자가 특허출원 당시의 기술수준에 비추어 진보성 판단의 대상이 된 발명이 선행기술과 차이가 있음에도 그러한 차이를 극복하고 선행기술로부터 그 발명을 용이하게 발명할 수 있는지를 살펴보아야 한다.
- ④ 신규성과 진보성은 별개의 거절이유로서 진보성 판단에 앞서 신규성 판단이 선행되어야 하고, 특허청구범위가 여러 개의 항이 있는 경우에는 그 하나의 항이라도 거절이유가 있다면 그 출원은 전부가 거절되어야 한다.
- ⑤ 발명의 진보성 여부 판단에 있어서 그 출원 당시의 기술수준, 대비되는 발명의 유무 등에 따라 국가마다 사정을 달리할 수 있으므로 외국에서 특허등록되었다 하더라도 국내에서 그 발명의 진보성이 부정될 수 있다.

### 6. 특허료 및 수수료에 관한 설명으로 옳지 않은 것은?

- ① 특허권의 설정등록을 받으려는 자는 설정등록을 받으려는 날부터 3년분의 특허료를 내야 하고, 특허권자는 그 다음 해부터의 특허료를 해당 권리의 설정등록일에 해당하는 날을 기준으로 매년 1년분씩 내야 한다.
- ② 이해관계인은 특허료를 내야 할 자의 의사와 관계없이 특허료를 낼 수 있으며, 이 경우 이해관계인은 내야 할 자가 현재 이익을 얻은 한도에서 그 비용의 상환을 청구할 수 있다.
- ③ 특허권의 설정등록을 받으려는 자는 특허료 납부기간이 지난 후에도 1년 이내에 특허료를 추가로 낼 수 있으며, 이 경우 내야 할 특허료의 2배의 범위에서 산업통상자원부령으로 정하는 금액을 납부하여야 한다.
- ④ 특허권의 설정등록을 받으려는 자가 정당한 사유로 추가납부기간에 특허료를 내지 아니하였거나 보전기간에 보전하지 아니한 경우에는 그 사유가 소멸한 날부터 2개월 이내에 그 특허료를 내거나 보전할 수 있다. 다만, 추가납부기간의 만료일 또는 보전기간의 만료일 중 늦은 날부터 1년이 지난 때에는 그러하지 아니하다.
- ⑤ 특허출원인이 아닌 자가 출원심사의 청구를 한 후 그 특허출원서에 첨부한 명세서를 보정하여 청구범위에 적은 청구항의 수가 증가한 경우에는 그 증가한 청구항에 관하여 내야 할 심사청구료는 특허출원인이 내야 한다.

**7. 특허법상 출원공개에 관한 설명으로 옳지 않은 것은?**

- ① 특허청장은 출원공개 전에 출원심사의 청구가 있으면 출원공개 시에, 출원공개 후에 출원심사의 청구가 있으면 지체 없이 그 취지를 특허공보에 게재하여야 한다.
- ② 특허출원인의 제65조(출원공개의 효과) 제2항에 따른 청구권은 그 특허출원된 발명에 대한 특허권이 설정등록된 후에만 행사할 수 있으며, 그 청구권의 행사는 특허권의 행사에 영향을 미치지 아니한다.
- ③ 출원공개 후 특허출원이 포기·무효 또는 취하된 경우 제65조(출원공개의 효과) 제2항에 따른 청구권은 처음부터 발생하지 아니한 것으로 본다.
- ④ 국어로 출원한 국제특허출원에 관하여 출원공개 전에 이미 특허협력조약(PCT) 제21조에 따라 국제공개가 된 경우에는 우선일부터 1년 6개월이 되는 날에 출원공개가 된 것으로 본다.
- ⑤ 국제특허출원의 출원인은 출원공개된 발명임을 알고도 그 국제특허출원된 발명을 업으로서 실시한 자에게 출원공개된 발명임을 안 때부터 특허권의 설정등록 시까지의 기간 동안 그 특허발명의 실시에 대하여 합리적으로 받을 수 있는 금액에 상당하는 보상금의 지급을 청구할 수 있다. 다만, 그 청구권은 해당 특허출원이 특허권의 설정등록된 후에만 행사할 수 있다.

**8. 특허출원에 관한 설명으로 옳지 않은 것은? (다툼이 있으면 판례에 따름)**

- ① 누구든지 특허출원에 대하여 특허출원일부 3년 이내에 특허청장에게 출원심사의 청구를 할 수 있다. 다만, 공동발명자 중 1인이 특허출원을 한 경우 출원심사의 청구를 취하할 수 있다.
- ② 공동출원인에 대하여 제219조(공시송달) 제1항에 의한 공시송달을 실시하기 위해서는 ‘공동출원인 전원의 주소 또는 영업소가 불분명하여 송달받을 수 없는 때’에 해당하여야 한다.
- ③ 심사관은 제54조(조약에 의한 우선권 주장)에 따른 우선권 주장을 수반한 특허출원의 심사에 필요한 경우에는 기간을 정하여 그 우선권 주장의 기초가 되는 출원을 한 국가의 심사결과에 대한 자료를 산업통상자원부령으로 정하는 방법에 따라 제출할 것을 특허출원인에게 명할 수 있다.
- ④ 특허를 받을 수 있는 권리가 공유인 경우에는 공유자 모두가 공동으로 특허출원을 하여야 한다.
- ⑤ 특허를 받을 수 있는 권리를 이전하기로 하는 계약에 따라 특허등록을 공동출원한 경우에 출원인이 발명자가 아니라도 등록된 특허권의 공유지분을 가진다.

### 9. 특허법상 서류제출 등에 관한 설명으로 옳지 않은 것은?

- ① 제28조의3(전자문서에 의한 특허에 관한 절차의 수행) 제1항에 따라 정보통신망을 이용하여 제출된 전자문서는 그 문서의 제출인이 정보통신망을 통하여 접수번호를 확인할 수 있는 때에 특허청 또는 특허심판원에서 사용하는 접수용 전산정보처리조직의 파일에 기록된 내용으로 접수된 것으로 본다.
- ② 심사관은 제28조의4(전자문서 이용신고 및 전자서명) 제1항에 따라 전자문서 이용신고를 한 자에게 서류의 통지 및 송달을 하려는 경우에는 정보통신망을 이용하여 통지 등을 할 수 있고, 위 서류의 통지 등은 서면으로 한 것과 같은 효력을 가진다.
- ③ 특허법에 따른 명령에 따라 특허청장 또는 특허심판원장에게 제출하는 출원서, 청구서, 그 밖의 서류는 특허청장 또는 특허심판원장에게 도달한 날부터 제출의 효력이 발생한다.
- ④ 특허권 및 특허에 관한 권리의 등록신청서류와 특허협력조약(PCT) 제2조(vii)에 따른 국제출원에 관한 서류를 우편으로 제출하는 경우에는 그 서류가 특허청장 또는 특허심판원장에게 도달한 날부터 효력이 발생한다.
- ⑤ 제28조의5(정보통신망을 이용한 통지 등의 수행) 제1항에 따른 서류의 통지 등은 그 통지 등을 받을 자가 자신이 사용하는 전산정보처리조직을 통하여 그 서류를 수신한 때에 특허청 또는 특허심판원에서 사용하는 발송용 전산정보처리조직의 파일에 기록된 내용으로 도달한 것으로 본다.

### 10. 특허권에 관한 설명으로 옳은 것은?

- ① 특허권의 상속이 개시된 때 상속인이 없는 경우에는 그 특허권은 국가에 귀속된다.
- ② 특허권이 공유인 경우 각 공유자는 계약으로 특별히 약정한 경우를 제외하고는 다른 공유자의 동의를 받지 아니하고 그 특허발명을 자신이 실시할 수 없다.
- ③ 청산절차가 진행 중인 법인의 특허권은 법인의 청산종결등기일(청산종결등기가 되었더라도 청산사무가 사실상 끝나지 아니한 경우에는 청산사무가 사실상 끝난 날과 청산종결등기일부터 6개월이 지난 날 중 빠른 날로 한다.)까지 그 특허권의 이전등록을 하지 아니한 경우에는 청산종결등기일에 소멸한다.
- ④ 특허법에 따라 특허청장이 정한 대가와 보상금액에 관하여 확정된 결정은 집행력 있는 집행권원(執行權原)과 같은 효력을 가진다. 이 경우 집행력 있는 정본은 법원 소속 공무원이 부여한다.
- ⑤ 특허권을 포기한 때에는 특허권은 그때부터 소멸된다.

**11. 특허법상 보정 및 보정각하에 관한 설명으로 옳지 않은 것은? (다툼이 있으면 판례에 따름)**

- ① 제47조(특허출원의 보정) 제2항에 규정된 ‘최초로 첨부된 명세서 또는 도면에 기재된 사항’이란 최초 명세서 등에 명시적으로 기재되어 있는 사항이거나 또는 명시적인 기재가 없더라도 그 발명이 속하는 기술분야에서 통상의 지식을 가진 자라면 출원시의 기술상식에 비추어 보아 보정된 사항이 최초 명세서 등에 기재되어 있는 것과 마찬가지로 이해할 수 있는 사항이어야 한다.
- ② 제51조(보정각하) 제1항이 ‘청구항을 삭제하는 보정’의 경우를 대상에서 제외하고 있는 취지는, 보정의 반복에 의하여 심사관의 새로운 심사에 따른 업무량 가중 및 심사절차의 지연의 문제가 생기지 아니하므로 그에 대하여 거절이유를 통지하여 보정의 기회를 다시 부여함으로써 출원인을 보호하려는 데 있다.
- ③ 국제특허출원의 출원인이 제203조(서면의 제출) 제3항에 따른 보정명령을 받고 지정된 기간에 보정을 하지 아니하면 특허청장은 해당 국제특허출원을 무효로 하여야 한다.
- ④ 외국어특허출원에 대한 명세서 또는 도면의 보정은 특허출원서에 최초로 첨부한 명세서 또는 도면에 기재된 사항의 범위에서 하여야 한다. 또한 보정은 최종 국어번역문 또는 특허출원서에 최초로 첨부한 도면(도면 중 설명부분은 제외한다)에 기재된 사항의 범위에서도 하여야 한다.
- ⑤ 청구항을 삭제하는 보정을 하였더라도 삭제된 청구항과 관련이 없는 부분에서 새롭게 발생한 거절이유는 심사관에게 새로운 심사에 따른 업무량을 가중시키고, 심사절차가 지연되는 결과를 가져오게 하는 등 달리 취급하여야 할 필요가 없으므로 제51조(보정각하) 제1항 본문이 규정하는 청구항을 삭제하는 보정에 따라 발생한 새로운 거절이유에 포함된다고 할 수 없다.

**12. 특허취소신청에 관한 설명으로 옳은 것은?**

- ① 누구든지 특허권의 설정등록일부터 등록공고일 후 1년이 되는 날까지 동일한 발명에 대하여 다른 날에 둘 이상의 특허출원이 있었던 경우 나중에 특허출원한 자의 발명에 대하여 특허를 부여한 경우 특허심판원장에게 특허취소신청을 할 수 있다.
- ② 특허권에 관하여 이해관계를 가진 자는 특허취소신청에 대한 결정이 있을 때까지 특허권자를 보조하기 위하여 그 심리에 참가할 수 없다.
- ③ 특허취소결정이 확정된 때에는 그 특허권은 확정된 날로부터 효력을 상실한다.
- ④ 심판관은 특허취소신청에 관하여 특허취소신청인, 특허권자 또는 참가인이 제출하지 아니한 이유에 대해서도 심리할 수 있다.
- ⑤ 공유인 특허권의 특허권자 중 1인에게 특허취소신청절차의 중단 또는 중지의 원인이 있으면 그 1인에게만 그 효력이 발생한다.

### 13. 특허심판에 관한 설명으로 옳지 않은 것은? (다툼이 있으면 판례에 따름)

- ① 특허법에 따른 심판의 심결이 확정되었을 때에는 그 사건에 대해서는 누구든지 동일 사실 및 동일 증거에 의하여 다시 심판을 청구할 수 없다. 다만, 확정된 심결이 각하 심결인 경우에는 그러하지 아니하다.
- ② 심판청구는 심결이 확정될 때까지 취하할 수 있고, 상대방의 답변서가 제출된 후에도 상대방의 동의 없이 취하할 수 있다.
- ③ 거절결정불복심판청구 기각 심결의 취소소송절차에서도 특허청장은 심사 또는 심판 단계에서 의견제출의 기회를 부여한 바 없는 새로운 거절이유를 주장할 수 없다고 보아야 한다. 다만 거절결정불복심판청구 기각 심결의 취소소송절차에서 특허청장이 비로소 주장하는 사유라고 하더라도 심사 또는 심판 단계에서 의견제출의 기회를 부여한 거절이유와 주요한 취지가 부합하여 이미 통지된 거절이유를 보충하는 데 지나지 아니하는 것이면 이를 심결의 당부를 판단하는 근거로 할 수 있다.
- ④ 특허출원에 대한 심사 단계에서 거절결정을 하려면 그에 앞서 출원인에게 거절이유를 통지하여 의견제출의 기회를 주어야 하고, 거절결정에 대한 특허심판원의 심판절차에서 그와 다른 사유로 거절결정이 정당하다고 하려면 먼저 그 사유에 대해 의견제출의 기회를 주어야만 이를 심결의 이유로 할 수 있다.
- ⑤ 특허발명의 도면에 대한 정정을 한다는 심결이 있는 경우 특허심판원장은 그 내용을 특허청장에게 알려야 하며 특허청장은 정정심결 통보가 있으면 이를 특허공보에 게재하여야 한다.

### 14. 특허법상 재심에 관한 설명으로 옳지 않은 것은?

- ① 심판에 관여한 심판관이 그 사건에 관하여 직무에 관한 죄를 범한 경우에는 처벌받을 행위에 대하여 유죄의 판결이나 과태료부과의 재판이 확정된 때 또는 증거부족 외의 이유로 유죄의 확정 판결이나 과태료부과의 확정재판을 할 수 없을 때에만 재심의 소를 제기할 수 있다.
- ② 당사자는 확정된 특허취소결정 또는 확정된 심결에 대하여 재심을 청구할 수 있다.
- ③ 재심사유가 특허취소결정 후에 생겼을 경우 특허취소결정 후 3년의 기간은 그 사유가 발생한 날로부터 기산한다.
- ④ 특허취소결정에 대한 재심의 절차에 관하여는 그 성질에 반하지 아니하는 범위에서 특허취소신청에 관한 규정을 준용한다.
- ⑤ 대리권의 흠을 이유로 재심을 청구하는 경우에 재심청구 기간은 청구인 또는 법정대리인이 특허취소결정등본 또는 심결등본의 송달에 의하여 특허취소결정 또는 심결이 있는 것을 안 날의 다음 날부터 기산한다.

15. 특허법상 특허소송에 관한 설명으로 옳지 않은 것은? (다툼이 있으면 판례에 따름)

- ① 특허취소결정 또는 심결에 대한 소 및 특허취소신청서·심판청구서·재심청구서의 각하결정에 대한 소는 특허법원의 전속관할로 한다.
- ② 법원은 소송절차에서 필요하면 직권 또는 당사자의 신청에 따라 특허취소신청에 대한 결정이나 특허에 관한 심결이 확정될 때까지 그 소송절차를 중지할 수 있다.
- ③ 법원은 특허권침해소송에서 당사자의 신청에 의하여 상대방 당사자에게 해당 침해의 증명 또는 침해로 인한 손해액의 산정에 필요한 자료의 제출을 명할 수 있다. 다만, 그 자료의 소지자가 그 자료의 제출을 거절할 정당한 이유가 있으면 그러하지 아니하다.
- ④ 법원은 특허취소결정 또는 심결에 대한 소 및 각하결정에 대한 소가 제기된 경우에 그 청구가 이유 있다고 인정할 때에는 판결로써 해당 심결 또는 결정을 취소하여야 한다.
- ⑤ 특허출원된 발명이 국방상 필요하여 정부가 특허하지 아니하고 보상금 지급을 결정하여 이 결정을 받은 자가 보상금에 불복할 때에는 법원에 소를 제기할 수 있고 소는 결정의 등본을 송달받은 날로부터 2개월 이내에 제기하여야 한다.

16. 특허법상 벌칙에 관한 설명으로 옳지 않은 것은?

- ① 국내외에서 정당한 사유 없이 비밀유지명령을 위반한 자는 5년 이하의 징역 또는 5천만원 이하의 벌금에 처하며, 이때 비밀유지명령을 신청한 자의 고소가 없어도 공소를 제기할 수 있다.
- ② 특허심판원으로부터 증인으로 소환된 자로서 정당한 이유 없이 소환에 따르지 아니하거나 선서를 거부한 자에게는 50만원 이하의 과태료를 부과한다.
- ③ 거짓이나 그 밖의 부정한 행위로 특허권의 존속기간의 연장등록을 받은 자는 3년 이하의 징역 또는 3천만원 이하의 벌금에 처한다.
- ④ 특허청 소속 직원이거나 직원이었던 사람이 특허출원 중인 발명에 관하여 직무상 알게 된 비밀을 누설하거나 도용한 경우에는 5년 이하의 징역 또는 5천만원 이하의 벌금에 처한다.
- ⑤ 특허법에 따라 선서한 증인, 감정인 또는 통역인이 특허심판원에 대하여 거짓으로 진술·감정 또는 통역을 한 경우에는 5년 이하의 징역 또는 5천만원 이하의 벌금에 처한다.



### 17. 특허법상 심결취소소송에 관한 설명으로 옳지 않은 것은? (다툼이 있는 경우 판례에 의함)

- ① 특허를 무효로 한 심결에 대한 심결취소소송에서 원고의 청구가 기각되어 상고심에 계속 중, 제3자가 제기한 특허무효심판에서 특허를 무효로 하는 심결이 확정된 때에는 그 특허권은 처음부터 없었던 것으로 보게 되므로, 특허가 무효로 확정된 이상 심결의 취소를 구할 법률상 이익도 없어졌다.
- ② 거절결정에 대한 심결취소소송에서 특허청이 보정각하결정에서와 다른 이유를 들어 보정의 부적법을 주장하더라도 출원인으로서는 이에 대응하여 소송절차에서 보정의 적법 여부에 관하여 다툴 수 있으므로 출원인의 방어권 또는 절차적 이익이 침해된다고 할 수 없다.
- ③ 주지관용의 기술이 소송상 공지 또는 현저한 사실이라고 볼 수 있을 만큼 일반적으로 알려져 있지 아니한 경우에도 그 주지관용의 기술은 심결취소소송에 있어서 증명을 필요로 하지 아니하므로, 법원은 자유로운 심증에 의하여 증거 등 기록에 나타난 자료를 주지관용의 기술로서 인정할 수 없다.
- ④ 행정소송의 일종인 심결취소소송에 직권주의가 가미되어 있다고 하더라도 여전히 변론주의를 기본 구조로 하는 이상, 심결의 위법을 들어 그 취소를 청구할 때에는 직권조사사항을 제외하고는 그 취소를 구하는 자가 위법사유에 해당하는 구체적 사실을 먼저 주장하여야 하고, 법원이 당사자가 주장하지도 않은 법률요건에 관하여 판단하는 것은 변론주의 원칙에 위배된다.
- ⑤ 심결취소소송은 항고소송에 해당하여 그 소송물은 심결의 실체적, 절차적 위법성 여부라 할 것이므로 당사자는 심결에서 판단되지 않은 처분의 위법사유도 심결취소소송 단계에서 주장·입증할 수 있고 심결취소소송의 법원은 특별한 사정이 없는 한 제한 없이 이를 심리·판단하여 판결의 기초로 삼을 수 있다.

### 18. 특허관련 국제조약에 관한 설명으로 옳은 것은?

- ① WTO/TRIPs 협정은 지식재산권의 보호에 관하여 최소한의 기준을 정하고 있으므로 국내입법이 이 보다 더 강력하게 보호할 경우 WTO/TRIPs 협정 위반이 된다.
- ② 세계지식재산권기구(WIPO)의 특허법조약(PLT)은 특허실체법의 통일화를 꾀하기 위한 국제조약이다.
- ③ 부다페스트조약에 따른 국제기탁기관은 정부, 지방자치단체, 정부투자기관 중 하나에 해당해야 한다.
- ④ WTO/TRIPs 협정은 파리협약과 달리 그 기본원칙 중 하나로서 최혜국대우원칙을 천명하고 있다.
- ⑤ 특허협력조약(PCT)에 의하여 세계 모든 국가에 효력이 미치는 단일의 국제특허를 취득하는 것이 가능하게 되었다.

### 19. 특허소송에 관한 설명으로 옳은 것은? (다툼이 있으면 판례에 따름)

- ① 판결에 당사자가 주장한 사항에 대한 구체적·직접적인 판단이 표시되어 있지 않더라도 판결이유의 전반적인 취지에 비추어 그 주장을 인용하거나 배척하였음을 알 수 있는 정도라면 설령 실제로 판단을 하지 아니하였다고 하더라도 그 주장이 배척될 경우임이 분명한 때로서 판단누락의 위법이 있다.
- ② 특허출원인으로부터 특허를 받을 수 있는 권리를 양수한 특정승계인은 특허출원인변경신고를 하지 않은 상태에서는 그 양수의 효력이 발생하지 않아서 특허심판원의 거절결정불복심판심결에 대하여 취소의 소를 제기할 수 있는 당사자 등에 해당하지 아니하므로 그가 제기한 취소의 소는 부적법하다.
- ③ 고유필수적 공동소송이 아닌 사건에서 소송 도중에 당사자를 추가하는 것은 허용될 수 없으나, 동일한 특허권에 관하여 2명 이상의 자가 공동으로 특허의 무효심판을 청구하여 승소한 경우 그 특허권자가 제기할 심결취소소송은 심판청구인 모두를 상대로 제기하여야만 하는 고유필수적 공동소송이라고 할 수 있으므로 해당 소송에서 당사자의 변경을 가져오는 당사자 추가신청은 예외적으로 허용될 수 있다.
- ④ 특허침해소송이 계속 중이어서 그 소송에서 특허권의 효력이 미치는 범위를 확정할 수 있으므로 침해소송과 별개로 청구된 권리범위확인심판의 심판청구의 이익은 부정된다.
- ⑤ 특허청이 출원발명에 대한 최초의 거절이유통지부터 출원거절의 심결을 내릴 때까지 출원발명의 진보성을 문제삼았을 뿐이고 출원인에게 출원발명의 신규성이 없다는 이유로 의견서제출통지를 하여 그로 하여금 명세서를 보정할 기회를 부여하지 않았더라도 법원이 출원발명의 요지가 신규성이 없다는 이유로 심결을 유지할 수 있다.

### 20. 특허에 관한 설명으로 옳지 않은 것은? (다툼이 있으면 판례에 따름)

- ① 심판장은 심판에서 필요하면 직권 또는 당사자의 신청에 따라 그 심판사건과 관련되는 특허취소 신청에 대한 결정 또는 다른 심판의 심결이 확정되거나 소송절차가 완결될 때까지 그 절차를 중지할 수 있다.
- ② 특허권의 존속기간 연장등록결정이 있는 경우 특허청장은 특허권 존속기간의 연장을 특허원부에 등록하여야 한다.
- ③ 특허권자는 고의 또는 과실로 자기의 특허권을 침해당한 경우 그 침해로 인하여 입은 손해의 배상을 청구할 수 있으며, 이때 특허권을 침해한 자가 그 침해행위로 인하여 얻은 이익액을 특허권자가 입은 손해액으로 추정할 수 있다.
- ④ 법원은 제187조(피고적격) 단서에 따른 소에 관하여 소송절차가 완결되었을 때에는 지체 없이 그 사건에 대한 각 심급(審級)의 재판서 정본을 특허심판원장에게 보내야 한다.
- ⑤ 무효심판의 심결 후에 청구범위가 정정되었다고 하더라도 심결취소소송에서 특허법원이 정정된 청구범위를 심결의 기초로 하여 특허발명에 무효사유가 존재하는지 여부를 판단할 수 있고 청구항이 정정으로 삭제되었더라도 심결의 취소를 구할 법률상의 이익은 여전히 존재한다고 봄이 타당하다.

21. 상표법 제34조(상표등록을 받을 수 없는 상표)에 관한 설명으로 옳지 않은 것은?

- ① 저명한 연예인 이름, 연예인 그룹 명칭, 스포츠선수 이름, 기타 국내외 유명인사 등의 이름이나 이들의 약칭을 포함하는 상표를 출원한 경우에는 지정 상품과 관계 없이 제34조 제1항 제6호를 적용한다.
- ② 제34조 제1항 제2호는 저명한 고인과의 관계를 거짓으로 표시하거나 비방 또는 모욕하거나 평판을 나쁘게 할 우려가 있는 경우에 적용한다.
- ③ 저명한 고인과의 관계를 거짓으로 표시하는 것이 아니라도 지정상품과의 관계를 고려할 때 저명한 고인과 관련있는 것으로 오인·혼동을 일으킬 염려가 있는 경우에는 제34조 제1항 제12호를 적용한다.
- ④ 현존하는 저명한 공익법인의 명칭 또는 약칭이나 이를 포함하는 상표에 대해서는 제34조 제1항 제6호를 적용한다.
- ⑤ 저명한 고인의 성명을 정당한 권리자의 동의없이 출원하여 그 명성에 편승하려는 경우 제34조 제1항 제2호가 적용된다.

22. 부분거절제도에 관한 설명으로 옳은 것을 모두 고른 것은?

- ㄱ. 부분거절제도란 상표등록출원의 지정상품 중 일부에 거절이유가 있는 경우 해당 거절이유가 있는 지정상품에 대하여만 상표등록거절결정을 하여 나머지 지정상품에 대하여는 상표등록을 받을 수 있도록 하는 것으로, 이 제도의 도입으로 인하여 해당 상품을 분할출원하지 않더라도 거절이유 없는 지정상품에 대한 조기등록이 가능하다.
- ㄴ. 상표등록출원의 일부 지정상품에 대하여만 상표등록거절결정을 받은 경우에는 그 일부 지정상품에 대하여 재심사청구가 가능하다.
- ㄷ. 일부 지정상품에 거절이유가 있는 경우 거절이유가 없는 지정상품에 대하여 먼저 출원공고결정을 거쳐 상표등록결정을 할 수 있다.
- ㄹ. 부분거절제도는 국제상표등록출원에도 그 적용이 있다.

- ① ㄱ, ㄴ
- ② ㄱ, ㄷ
- ③ ㄱ, ㄹ
- ④ ㄴ, ㄷ
- ⑤ ㄴ, ㄹ

23. 마드리드 의정서에 관한 설명으로 옳지 않은 것은?

- ① 마드리드 의정서에 의한 국제출원(지리적 표시 단체표장을 포함)은 기초출원이나 기초등록된 상표견본을 기초로 출원을 해야 하고, 상표의 부기적(附記的)인 부분의삭제에 해당되는 경우에는 지정국에서 상표 견본의 보정이 허용된다.
- ② 국제상표등록출원에 대해서는 업무표장에 관한 규정을 적용하지 아니한다.
- ③ 마드리드 의정서에 의한 국제상표등록출원을 통해 지리적 표시 단체표장 및 지리적 표시 증명표장의 등록을 받고자 하는 자는 국제등록일(사후지정의 경우에는 사후지정일) 또는 보정통지를 받은 날로부터 3개월 이내에 그 취지를 기재한 서류와 지리적 표시의 정의에 합치함을 입증할 수 있는 서류를 정관 또는 규약과 함께 제출하여야 한다.
- ④ 국제출원서와 그 출원에 필요한 서류는 특허청장에게 도달한 날부터 그 효력이 발생하며, 우편으로 제출된 경우에도 예외 없이 동일하다.
- ⑤ 국제등록의 명의인은 국제등록된 지정국을 추가로 지정하려는 경우에는 산업통상자원부령으로 정하는 바에 따라 특허청장에게 사후지정을 신청할 수 있다.

24. 상표의 유사판단에 관한 설명으로 옳지 않은 것은? (다툼이 있으면 판례에 따름)

- ① 상표의 유사여부는 반드시 상품출처의 오인·혼동 가능성이 있는지 여부를 고려하여 판단하여야 한다.
- ② 상표의 유사여부의 관찰방법은 전체적, 객관적, 이격적 관찰을 원칙으로 하되 상표 구성 중 인상적인 부분(요부)이 있는 경우 이에 대하여 중점적으로 비교하는 것으로 하며, 이 경우 소리·냄새 등은 같은 유형의 상표 간에 시각적 표현을 기준으로 유사여부를 비교하여 판단한다.
- ③ 두 개의 상표를 직접 놓고 대비할 때에는 구성요소가 다른 점이 있다고 하더라도, 때와 장소를 달리하여 관찰했을 때 경험칙상 서로 출처의 오인·혼동이 일어나는 경우에는 유사한 상표로 보아야 한다.
- ④ 상표의 유사여부는 그 상표가 사용될 지정상품의 주된 수요계층과 기타 그 상품의 거래실정을 고려하여 일반수요자의 주의력을 기준으로 판단하여야 한다.
- ⑤ 등록상표의 구성 중 식별력 없는 일부분이 등록 전 사용에 의한 식별력을 취득한 경우에는 그 부분은 사용상품과 유사한 상품에 관하여 상표유사판단의 요부가 될 수 있다.

25. 상표의 식별력에 관한 설명으로 옳지 않은 것은?

- ① 일반적으로 상표법 제33조(상표등록의 요건) 제1항 제1호·제2호·제3호는「상품과 관련」하여 식별력 유무를 판단하여야 한다.
- ② 보통명칭에 다른 식별력 있는 문자나 도형 등이 결합되어 있어 전체적으로 식별력을 인정된 경우에도 당해 지정상품과 관련하여 상품에 대한 오인·혼동의 우려가 있을 때에는 지정상품의 범위를 그 보통명칭과 관련된 것에 한정하도록 제34조(상표등록을 받을 수 없는 상표) 제1항 제12호를 적용한다.
- ③ 상표법 제33조(상표등록의 요건) 제1항 제1호 내지 제3호를 이유로 거절결정을 하는 경우에는 지정상품 전부에 대하여 거절결정을 하여야 한다.
- ④ 출원 상표가 상표법 제33조(상표등록의 요건) 제1항 각 호의 식별력 요건을 갖추고 있는지 여부에 대한 판단의 기준시점은 원칙적으로 상표등록여부결정을 할 때이다.
- ⑤ 홀로그램상표의 경우 제출된 상표전본과 상표에 대한 설명을 통하여 특정되는 전체적인 외관이 지정상품의 품질, 원재료, 용도 등의 성질을 직접적으로 나타낸다고 인정되는 경우 상표법 제33조(상표등록의 요건) 제1항 제3호를 적용한다.

26. 상표권의 침해 및 그 구제에 관한 설명으로 옳지 않은 것은? (다툼이 있으면 판례에 따름)

- ① 고의적으로 상표권자 또는 전용사용권자의 등록상표와 동일·유사한 상표를 그 지정상품과 동일·유사한 상품에 사용하여 상표권 또는 전용사용권을 침해한 자에 대하여 상표법 제110조(손해액의 추정 등) 제1항부터 제6항까지의 규정에 따라 손해로 인정된 금액의 3배를 넘지 아니하는 범위에서 배상액을 정할 수 있도록 법원에 권한을 부여하고 있다.
- ② 상표권의 침해가 계속적으로 행하여지는 결과 손해도 역시 계속적으로 발생하는 경우에 그 침해로 인한 손해배상청구권의 소멸시효는 정책적인 이유에 의하여 최초로 손해가 발생한 때부터 일괄적으로 진행되는 것으로 본다.
- ③ 상표권자가 상표법 제109조(손해배상의 청구)에 따른 손해배상을 청구하는 대신에 상표법 제111조(법정손해배상의 청구)에 따른 손해배상을 청구하는 경우에 법원은 변론 전체의 취지와 증거조사의 결과를 고려하여 상당한 손해액을 인정할 수 있다.
- ④ 상표법은 제222조(등록상표의 표시)에 따라 등록상표임을 표시한 타인의 상표권을 침해한 자는 그 침해행위에 대하여 그 상표가 이미 등록된 사실을 알았던 것으로 추정한다.
- ⑤ 상표권자가 상표권을 목적으로 하는 질권설정 이전에 지정상품에 관하여 그 등록상표를 사용하고 있는 경우에는 그 상표권이 경매에 의하여 이전되더라도 지정상품 중 사용하고 있는 상품에 한정하여 사용하는 경우에는 상표권 침해가 되지 않는다.

27. 상표법 제119조(상표등록의 취소심판)에 관한 설명으로 옳은 것은? (다툼이 있으면 판례에 따름)

- ① 통상사용권자가 지정상품 또는 이와 유사한 상품에 등록상표 또는 이와 유사한 상표를 사용함으로써 수요자에게 상품의 품질을 오인하게 한 경우에 상표등록취소심판을 청구하려면 통상사용권자의 고의가 필요하다.
- ② 전용사용권자가 등록상표를 변형하여 실제로 사용한 경우에만 제119조 제1항 제2호에 따른 상표등록취소심판이 가능하다.
- ③ 지리적 표시 단체표장 등록출원의 경우에 그 소속 단체원의 가입에 관하여 정관에 의하여 단체의 가입을 금지하였지만, 상표등록취소심판의 청구 이후에 정관을 변경하여 그 소속 단체원의 가입을 허용하였다면 취소사유에 영향을 미친다.
- ④ 증명표장권자가 사용을 허락받은 자에 대한 감독에 상당한 주의를 하지 않아 증명표장의 사용허락을 받은 자가 정관을 위반하여 타인에게 사용하게 한 경우에는 누구든지 증명표장의 상표등록취소심판을 청구할 수 있다.
- ⑤ 특허청장은 상표등록취소심판이 청구된 경우에는 그 취지를 해당 상표권의 전용사용권자와 그 밖에 상표에 관한 권리를 등록한 자에게 통지하여야 한다.

28. 상표법에 관한 설명으로 옳은 것은? (다툼이 있으면 판례에 따름)

- ① 상표법 제92조(타인의 디자인권 등과의 관계)에서 등록상표가 그 상표등록출원일 전에 발생한 타인의 저작권과 저촉되는 경우에 지정상품 중 저촉되는 지정상품에 대한 상표의 사용은 저작권자의 동의 없이 그 등록상표를 사용할 수 없기 때문에 저작권자와 관계 없는 제3자가 등록된 상표를 무단으로 사용하는 경우에 상표권자는 그 사용금지를 청구할 수 없다.
- ② 상표법 제47조(출원시의 특례)에 따라 상표등록을 받을 수 있는 자가 조약당사국이 가입된 국제기구가 개최하는 국제박람회에 출품한 상품에 사용한 상표를 그 출품을 한 때에 그 상표등록출원한 것으로 하기 위해서는 그 취지를 적은 상표등록출원서와 이를 증명할 수 있는 서류를 상표등록출원일로부터 3개월 이내에 특허청장에게 제출하여야 한다.
- ③ 확정된 심결에 대하여 재심을 청구하는 경우에 당사자는 심결 확정 후 재심 사유를 안 날부터 90일 이내에 재심을 청구하여야 한다.
- ④ 상표권에 관하여 전용사용권이 설정된 경우 이로 인하여 상표권자의 상표의 사용권이 제한받게 되지만, 제3자가 그 상표를 정당한 법적 권한 없이 사용하는 경우에는 그 상표권자는 그 상표권에 기하여 제3자의 상표의 사용에 대한 금지를 청구할 수 있다.
- ⑤ 상표법상 손실보상청구권은 출원인의 서면경고ja 필수이고, 상대방인 제3자에게 이익이 발생한 경우에만 손실에 상당하는 보상금의 지급을 받을 수 있다.

29. 상표권의 존속기간갱신에 관한 설명으로 옳은 것은?

- ① 상표법 제84조(존속기간갱신등록신청) 제2항에 따른 기간에 존속기간갱신등록신청을 하면 갱신 등록이 되기 전이라고 하더라도 상표권의 존속기간이 갱신된 것으로 본다.
- ② 상표권의 공유자 중 일부가 그 지분권을 포기하였으나 그 포기가 등록되지 않은 경우에, 나머지 상표권의 공유자들이 존속기간갱신등록신청을 하여 상표권이 갱신된 경우에는 존속기간갱신등록무효심판의 대상이 된다.
- ③ 상표권의 전용사용권자는 상표권의 이해관계자로 상표권자가 존속기간갱신등록신청을 하지 않는 경우에 상표권자 대신에 상표권의 존속기간갱신등록신청을 할 수 있다.
- ④ 상표권 존속기간갱신등록이 상표법 제84조(존속기간갱신등록신청) 제2항에 따른 존속기간갱신 등록신청서를 제출해야 하는 기간에 제출하지 않은 경우에 상표권 존속기간갱신등록이 되면 당연 무효에 해당하므로 이해관계인은 제척기간에 관계없이 존속기간갱신등록의 무효심판을 청구할 수 있다.
- ⑤ 존속기간갱신등록은 원등록(原登錄)의 효력이 끝나는 날부터 효력이 발생한다.

30. 상표법 제99조(선사용에 따른 상표를 계속 사용할 권리)에 관한 설명으로 옳지 않은 것은? (다툼이 있으면 판례에 따름)

- ① 제1항에 따른 선사용권은 엄격한 선출원주의 운영에 따른 문제점을 보완하여 사용주의와 선출원주의를 조화시킴으로써 상표의 정당한 선사용자를 보호하기 위한 것이다.
- ② 상표권자는 제1항에 따라 상표를 사용할 권리를 가지는 자에게 그 자의 상품과 자기의 상품 간에 출처의 오인이나 혼동을 방지하는데 필요한 표시를 할 것을 청구할 수 있지만, 제2항에 따라 상표를 사용할 권리를 가지는 자에게는 이러한 표시를 할 것을 청구할 수 없다.
- ③ 제1항에 따른 선사용권은 법정통상사용권이므로 상속과 같은 일반승계 또는 영업양도에 의하여 타인에게 이전되지 않는다.
- ④ 제2항에 따른 선사용권은 부정경쟁의 목적 없이 타인의 상표등록출원 전부터 국내에서 계속하여 사용하고 있어야 한다.
- ⑤ 제1항에 따른 선사용권은 상표를 사용한 결과 타인의 상표설정등록 시가 아니라, 상표등록출원 시에 국내 수요자 간에 그 상표가 특정인의 상품을 표시하는 것이라는 인식이 필요하다.

31. 디자인보호법에 관한 설명으로 옳은 것은?

- ① 피성년후견인의 법정대리인은 후견감독인의 동의 없이 상대방이 청구한 디자인일부심사등록 이의신청에 대한 절차를 밟을 수 있다.
- ② 조약에 의한 우선권주장을 위해서는 우선권주장의 기초가 되는 최초의 출원일로부터 6개월 이내에 대한민국에 출원해야 하며, 정당한 사유로 그 기간을 지키지 못한 경우에는 그 사유의 종료일 부터 2개월 이내에 출원해야 한다.
- ③ 이해관계인의 디자인등록무효심판청구에 대응하기 위하여 디자인권자는 정정심판제도를 활용할 수 있다.
- ④ 제43조(비밀디자인)에 따른 비밀디자인 청구를 한 후 출원공개신청을 하였다면 그 비밀청구는 철회된 것으로 추정한다.
- ⑤ 디자인권이 국가에 속하여 등록료가 면제된 경우, 비밀디자인 청구는 디자인등록출원을 한 날부터 디자인등록결정의 등본을 받는 날까지 할 수 있다.

32. 디자인보호법령상 관련디자인제도에 관한 설명으로 옳은 것을 모두 고른 것은?

ㄱ. 기본디자인의 디자인등록출원일로부터 3년 이내에 디자인등록출원된 경우에 한하여 관련 디자인으로 디자인등록을 받을 수 있다.

ㄴ. 관련디자인의 등록요건을 규정한 법 제35조(관련디자인) 제1항에 위반하면 디자인등록거절사유 및 정보제공사유에 해당되며, 착오로 등록된 경우에는 무효심판청구사유에 해당된다.

ㄷ. 기본디자인과 유사하지 않은 디자인을 관련디자인으로 디자인등록출원한 경우 변경출원 제도를 이용하여 단독의 디자인등록출원으로 그 형식을 변경할 수 있다.

ㄹ. 기본디자인의 디자인권에 전용실시권이 설정되어 있는 경우에도 그 기본디자인에 관한 관련디자인에 대하여 디자인등록을 받을 수 있다.

ㅁ. 기본디자인의 디자인권이 취소, 포기 또는 무효심결 등으로 소멸하였다면 그 기본디자인에 관한 2 이상의 관련디자인의 디자인권은 각기 다른 자에게 이전될 수 있다.

- ① ㄱ, ㄴ
- ② ㄷ, ㅁ
- ③ ㄴ, ㄷ, ㄹ
- ④ ㄱ, ㄴ, ㄷ, ㅁ
- ⑤ ㄴ, ㄷ, ㄹ, ㅁ



33. 디자인보호법 제61조(우선심사) 제1항 제2호에서 규정하는 긴급하게 처리할 필요가 있다고 인정되는 경우에 우선심사대상이 되는 출원이 아닌 것은?

- ① 방위산업 분야의 디자인등록출원
- ② 4차 산업혁명과 관련된 기술을 활용한 디자인등록출원
- ③ 조약 당사국에의 디자인등록출원을 기초로 우리나라에 우선권주장 출원을 한 디자인등록출원
- ④ 특허청장이 외국 특허청장과 우선심사하기로 합의한 디자인등록출원
- ⑤ 디자인등록출원인이 디자인의 실시를 준비 중인 디자인등록출원

34. 디자인에 관한 판례의 설명으로 옳지 않은 것은?

- ① 대비되는 디자인의 대상 물품들이 다 같이 그 기능 내지 속성상 사용에 의하여 당연히 형태의 변화가 일어나는 경우에 그 디자인의 유사 여부는 형태의 변화 전후에 따라 서로 같은 상태에서 각각 대비한 다음 이를 전체적으로 판단한다.
- ② 글자체 디자인은 다른 디자인의 유사성 판단과 달리 출원디자인이 비교대상디자인과 지배적인 특징이 유사하더라도 세부적인 점에 다소 차이가 있다면 유사하지 않다고 판단한다.
- ③ 등록디자인 A와 비교대상디자인 B가 보는 방향에 따라 느껴지는 미감이 같기도 하고 다르기도 할 경우에는 그 미감이 같게 느껴지는 방향으로 두고 이를 대비하여 유사 여부를 판단한다.
- ④ 양 디자인이 상·하부 원호 형상의 기울기의 정도, 좌우 양측 면의 폭의 넓이 등의 세부적인 점에 있어서 서로 차이가 있다고 하더라도, 이러한 차이점은 당해 물품을 자세히 볼 때에만 비로소 인식할 수 있는 미세한 차이에 불과하여 전체적인 심미감에 큰 영향을 미칠 수 없다.
- ⑤ 등록디자인에 대한 등록무효심결이 확정되기 전이라고 하더라도 등록디자인이 공지디자인 등에 의하여 용이하게 창작될 수 있어 그 디자인등록이 무효심판에 의하여 무효로 될 것임이 명백한 경우에는 디자인권에 기초한 침해금지 또는 손해배상 등의 청구는 특별한 사정이 없는 한 권리남용에 해당하여 허용되지 아니한다.

35. 로카르노 협정에 따른 물품류 중 디자인일부심사등록출원<sup>으로</sup>만 출원해야 하는 것으로 묶인 것은?

- ① 제1류(식품), 제4류(브러시제품)
- ② 제2류(의류 및 패션잡화 용품), 제6류(가구 및 침구류)
- ③ 제5류(섬유제품, 인조 및 천연 시트직물류), 제26류(조명기기)
- ④ 제9류(물품운송·처리용 포장 및 용기), 제17류(악기)
- ⑤ 제11류(장식용품), 제19류(문방구, 사무용품, 미술재료, 교재)

36. 디자인등록출원심사절차에 관한 설명으로 옳은 것은?

- ① 심사관은 국제디자인등록출원서에 적힌 사항이 명백한 오기인 경우 직권보정할 수 있다.
- ② 출원인이 직권보정의 전부 또는 일부를 받아들일 수 없다는 의견서를 제출한 경우에는 직권보정은 처음부터 없었던 것으로 보아 디자인등록결정이 확정된다.
- ③ 디자인등록이 결정된 물품이 산업통상자원부령에 따라 디자인일부심사등록출원을 할 수 없는 물품이 명백한 경우, 심사관은 직권으로 등록결정을 취소하고 다시 심사할 수 있다.
- ④ 등록결정 이전에 통지했던 거절이유로 직권재심사를 통해 재차 거절통지하고자 할 경우에도 거절이유를 다시 통지하여 의견서 제출기회를 주어야 한다.
- ⑤ 디자인일부심사등록 이의신청 시, 심사관은 이의신청인이 주장하지 아니한 이유나, 신청하지 아니한 등록디자인에 대해서도 필요한 경우 직권으로 심사할 수 있다.

37. 디자인 A가 디자인보호법 제36조(신규성 상실의 예외)에 해당하지 않는 경우는? (다툼이 있으면 판례에 따름)

- ① 甲은 스스로 자신의 디자인 a와 디자인 b를 순차적으로 공지한 이후에, 디자인 a의 공지일로부터 12개월 이내에 디자인 a와 디자인 b를 결합한 디자인 A를 출원하면서, 디자인 a와 디자인 b에 대하여 각각 신규성 상실의 예외를 주장하였다.
- ② 甲의 디자인 A 출원 전에, 유사한 디자인이 적용된 물품이 제3자에 의하여 SNS상에 소개되자, 甲은 그로부터 3개월 후 디자인 A를 출원하면서, 해당 영상에 대하여 자신이 창작자라는 객관적 증거제시 등을 하면서 신규성 상실의 예외를 주장하였다.
- ③ 甲은 2020. 1. 5. 자신의 디자인 A를 최초 공지하고 2020. 3. 6. 디자인 A와 동일성이 인정되는 범위 내에 있는 디자인 A1과 디자인 A2를 동시에 공개하였다. 甲은 2020. 8. 10. 디자인 A를 출원하면서, 가장 먼저 공지된 디자인에 대해서만 신규성 상실의 예외를 주장하였고 출원된 디자인 A는 등록되었다. 이후 乙은 甲을 상대로 디자인 A2에 의하여 등록디자인 A의 신규성이 인정되지 않는다고 주장하며 등록무효심판을 청구하였다.
- ④ 甲은 디자인 A를 출원할 당시 신규성 상실의 예외를 주장하지 않았지만, 출원 후 디자인등록여부 결정 직전에 신규성 상실의 예외의 취지를 적은 서면과 이를 증명할 수 있는 서류를 특허청장에게 제출하였다.
- ⑤ 甲은 자신의 디자인 A를 인터넷상에 2020. 2. 6. 공지한 후, 2021. 1. 25. 미국특허청에 디자인 등록 출원하였고 미국출원디자인을 기초로 조약우선권을 주장하며 2021. 3. 15. 대한민국에 디자인등록출원을 하였다.

38. 디자인보호법령상 등록디자인 A의 공유디자인권자는 甲, 乙, 丙이고 丁은 丙의 채권자인 경우 허용되지 않는 행위는? (단, 지분은 균분으로 하고 그 외 특약은 없다. 다툼이 있으면 판례에 따름)

- ① 丙은 甲, 乙의 동의 없이 등록디자인 A의 유사디자인을 이용하여 상품을 제작하여 판매하였다.
- ② 乙은 丙에 대하여 등록디자인 A의 공유지분에 무효사유가 있다며 丙의 공유지분만의 무효심판을 청구하였다.
- ③ 甲은 등록디자인 A를 무효로 하는 심결이 내려지자, 단독으로 심결취소소송을 제기하였다.
- ④ 丁은 丙의 공유지분에 대하여 甲, 乙의 동의서와 함께 압류명령을 신청하였다.
- ⑤ 甲은 자신의 공유지분을 제3자에게 양도하기 위하여 乙과 丙에 대하여 공유물분할청구를 하였고, 경매에 따른 대금분할을 받았다.

39. 디자인보호법 제33조 제3항(확대된 선출원)이 적용되지 않는 것은? (다툼이 있으면 판례에 따름)

- ① 甲의 선출원이 완성품에 대한 전체디자인이고, 乙의 후출원이 그 완성품 일부에 대한 부분디자인인 경우
- ② 甲의 선출원이 부분디자인이고, 乙의 후출원이 선출원의 부분디자인의 실선 또는 파선에 포함되는 부분디자인인 경우
- ③ 甲의 선출원은 형상과 색채의 결합디자인이고, 乙의 후출원은 형상만의 디자인인 경우
- ④ 甲의 선출원이 한 별의 물품 디자인이고, 乙의 후출원이 그 한 별 물품의 구성물품의 부분디자인인 경우
- ⑤ 甲의 선출원 디자인의 물품과 乙의 후출원 디자인의 물품이 서로 유사하지 않더라도 선출원 물품 디자인의 일부와 대비되는 후출원 디자인의 전체에 관한 물품의 용도 및 기능이 유사하고, 디자인도 유사한 경우

40. 판례상 권리범위확인심판 청구가 부적법하여 각하되는 경우가 아닌 것은?

- ① 적극적 권리범위확인심판청구에서 심판청구인이 특정한 확인대상디자인과 피심판청구인이 실시하고 있는 디자인 사이에 동일성이 인정되지 않는 경우
- ② 소극적 권리범위확인심판 청구사건의 상고심 계속 중에 이 사건 등록디자인의 무효심결이 확정된 경우
- ③ 양 디자인이 이용관계에 있지 않은 경우 선등록 디자인권자가 후등록 디자인권자를 상대로 적극적 권리범위확인심판을 청구하는 경우
- ④ 심판청구인이 실제 자신이 사용하는 디자인이 아닌 다른 디자인에 대하여 소극적 권리범위확인심판을 청구하는 경우
- ⑤ 권리범위확인심판청구에서 확인대상디자인의 특징이 미흡하여 특허심판원이 요지변경이 되지 않는 범위에서 보정을 명하는 조치를 하였으나, 여전히 특징이 불명확한 경우

02  
2024

제61회 변리사 1차 국가자격시험  
[2교시] 민법개론

1. 신의성실의 원칙에 관한 설명으로 옳지 않은 것은? (다툼이 있으면 판례에 따름)

- ① 채권자는 물상보증인이 되려는 자에게 주채무자의 신용상태를 조사해서 고지할 신의칙상 의무를 부담한다.
- ② 병원은 입원환자의 휴대품 등의 도난을 방지함에 필요한 적절한 조치를 강구하여 줄 신의칙상 보호의무를 부담한다.
- ③ 숙박업자는 투숙고객에게 객실을 사용·수익하게 할 의무를 넘어서 고객의 안전을 배려하여야 할 신의칙상 보호의무를 부담한다.
- ④ 사적 자치의 영역을 넘어 공공질서를 위하여 공익적 요구를 선행시켜야 할 경우, 신의칙은 합법성의 원칙을 희생하여서라도 구체적 신뢰보호의 필요성이 인정되는 경우에 한하여 예외적으로 적용된다.
- ⑤ 어떤 법률관계가 신의칙에 위반되는지의 여부는 법원의 직권조사사항이다.

2. 비법인사단 A의 유일한 이사인 대표이사 甲이 대표자로서의 모든 권한을 乙에게 포괄적으로 위임하여 乙이 실질적으로 A의 대표자로서 행위한 경우에 관한 설명으로 옳은 것을 모두 고른 것은? (다툼이 있으면 판례에 따름)

ㄱ. 乙이 포괄적 수임인으로서 행한 대행행위의 효력은 원칙적으로 A에게 미친다.

ㄴ. 乙이 A의 사무집행과 관련한 불법행위로 丙에게 손해를 입힌 경우, 丙은 A에게 법인의 불법행위책임에 따른 손해배상을 청구할 수 있다.

ㄷ. 乙이 자신의 사익을 도모하기 위해 A의 사무를 처리하다가 丁에게 손해를 입힌 경우에는 법인의 불법행위책임에 있어서 직무관련성이 부정된다.

ㄹ. 甲이 乙에게 대표자로서의 권한을 포괄적으로 위임하고 대표이사로서의 직무를 전혀 집행하지 않은 것은 그 자체로 이사의 선관주의의무에 위반하는 행위이다.

- ① ㄱ, ㄴ
- ② ㄱ, ㄷ
- ③ ㄴ, ㄹ
- ④ ㄷ, ㄹ
- ⑤ ㄱ, ㄴ, ㄷ, ㄹ

3. 의사무능력자 甲은 자기소유 X건물에 乙은행 앞으로 저당권을 설정해 주고 금원을 대출받아 곧바로 이를 丙에게 대여하였다. 이에 관한 설명으로 옳은 것을 모두 고른 것은? (다툼이 있으면 판례에 따름)

- ㄱ. 甲이 자신의 의사무능력을 이유로 乙과 체결한 저당권설정계약의 무효를 주장하는 것은 특별한 사정이 없는 한 신의칙에 반한다.
- ㄴ. 甲은 선의·악의를 불문하고 받은 이익이 현존하는 한도에서 乙에게 그 이익을 반환할 의무를 부담한다.
- ㄷ. 甲이 丙에 대한 부당이득반환채권을 乙에게 양도할 의무와 乙의 저당권등기말소의무는 동시이행관계에 있다.

- ① ㄱ                      ② ㄴ                      ③ ㄱ, ㄷ                      ④ ㄴ, ㄷ                      ⑤ ㄱ, ㄴ, ㄷ

4. 주물과종물에관한설명으로옳은것은?(다툼이있으면판례에따름)

- ① 독립한 물건이라도 부동산은 종물이 될 수 없다.
- ② 주물의 점유로 인한 시효취득의 효력은 점유하지 않은 종물에도 미친다.
- ③ 주물에 대한 압류의 효력은 원칙적으로 종물에 미치지 않는다.
- ④ 주물 그 자체의 효용과 직접 관계가 없더라도 주물의 소유자의 상용에 공여되고 있는 물건은 종물이다.
- ⑤ 원본채권이 양도되는 경우, 특별한 의사표시가 없으면 이미 변제기에 도달한 이자채권은 함께 양도되지 않는다.

5. 甲이 자신의 X건물을 乙에게 매도하는 계약을 체결하고 계약금 및 중도금을 수령하였으나 아직 소유권이전등기를 마쳐주지 않았다. 이러한 사실을 알고 있는 丙이 甲의 배임행위에 적극적으로 가담하여 甲으로부터 X건물을 매수하고 소유권이전등기를 경료받았다. 이에 관한 설명으로 옳은 것을 모두 고른 것은? (다툼이 있으면 판례에 따름)

- ㄱ. 甲과 丙이 체결한 매매계약은 반사회적 법률행위로서 무효이다.
- ㄴ. 乙은 甲을 대위함이 없이 직접 丙에 대하여 그 소유권이전등기의 말소를 청구할 수 있다.
- ㄷ. 乙은 甲에 대한 소유권이전등기청구권을 보전하기 위하여 甲과 丙 사이의 매매계약에 대하여 채권자취소권을 행사할 수 있다.
- ㄹ. 丁이 丙을 소유권자로 믿고 丙으로부터 X건물을 매수하여 소유권이전등기를 마친 경우, 丁은 甲과 丙 사이의 매매계약의 유효를 주장할 수 있다.

- ① ㄱ                      ② ㄱ, ㄷ                      ③ ㄴ, ㄹ
- ④ ㄱ, ㄴ, ㄹ                      ⑤ ㄱ, ㄴ, ㄷ, ㄹ

**6. 의사표시에 관한 설명으로 옳지 않은 것은? (다툼이 있으면 판례에 따름)**

- ① 상대방 있는 의사표시에 관하여 제3자가 표의자를 강박한 경우, 표의자는 상대방이 그 사실을 알았거나 알 수 있었을 경우에 한하여 강박에 의한 의사표시를 취소할 수 있다.
- ② 매매목적물에 하자가 있는 사실을 착오로 알지 못하고 매매계약을 체결한 매수인은 착오로 인한 의사표시의 취소 요건을 갖추더라도 매도인의 하자담보책임이 성립하는 경우에는 착오를 이유로 그 계약을 취소할 수 없다.
- ③ 통정허위표시로 매매계약이 체결된 경우, 매도인이 그 계약상 채무를 이행하지 않더라도 매수인은 매도인에게 채무불이행으로 인한 손해배상을 청구할 수 없다.
- ④ 경과실로 인한 착오로 의사표시를 한 자가 착오를 이유로 그 의사표시를 취소한 경우, 상대방은 이로 인해 손해를 입더라도 표의자에게 불법행위로 인한 손해배상을 청구할 수 없다.
- ⑤ 상대방이 표의자의 착오를 알고 이용한 경우에는 착오가 표의자의 중대한 과실로 인한 것이더라도 표의자는 착오를 이유로 의사표시를 취소할 수 있다.

**7. 의사표시의 효력발생에 관한 설명으로 옳지 않은 것은? (다툼이 있으면 판례에 따름)**

- ① 상대방 있는 의사표시는 원칙적으로 상대방에게 도달되어야 효력이 발생한다.
- ② 청약자가 청약의 의사표시를 발송한 후 사망한 경우에도 그 의사표시의 효력에 영향을 미치지 아니한다.
- ③ 적법하게 성립된 매매에 관하여 해제사유가 발생한 경우, 해제의 의사가 상대방 당사자의 미성년자(子)에게 도달하면 그 즉시 해제의 효력이 발생한다.
- ④ 상대방이 부당하게 등기취급 우편물의 수취를 거부함으로써 우편물의 내용을 알 수 있는 객관적 상태의 형성을 방해한 것이 신의성실의 원칙에 반한다고 인정되는 경우, 수취 거부 시에 의사표시의 효력이 생긴 것으로 보아야 한다.
- ⑤ 의사표시가 담긴 우편물이 상대방의 집에 도달하자 가사도우미가 수취한 후 개봉하지 않은 채 식탁 위에 두었는데, 그 즈음 우연히 그 집을 방문한 의사표시자가 그 미개봉된 우편물을 회수하여 가지고 간 경우, 그 의사표시가 도달한 것으로 볼 수 없다.

**8. 복대리에 관한 설명으로 옳지 않은 것은? (다툼이 있으면 판례에 따름)**

- ① 법정대리인은 원칙적으로 부득이한 사유가 있는 때에 한하여 복임권이 있다.
- ② 법정대리인이 부득이한 사유로 복대리인을 선임한 경우, 법정대리인은 그 선임감독에 관한 책임이 있다.
- ③ 임의대리인에게는 원칙적으로 복대리인을 선임할 권한이 없다.
- ④ 임의대리인이 본인의 승낙을 얻어 복대리인을 선임한 경우, 임의대리인은 그 선임감독에 관한 책임이 있다.
- ⑤ 임의대리의 목적인 법률행위의 성질상 대리인 자신에 의한 처리가 필요하지 아니한 경우, 본인이 복대리 금지의 의사를 명시하지 아니하는 한 복대리인의 선임에 관하여 묵시적인 승낙이 있는 것으로 보는 것이 타당하다.

9. 제한능력자가 아닌 甲이 乙의 대리인이라고 하면서 丙에게 乙의 부동산을 3억 원에 매도하는 계약을 체결하고 丙으로부터 계약금 3천만 원을 수령하였다. 그 계약에는 '쌍방이 계약을 불이행하는 경우 계약금을 손해배상금으로 한다'는 위약금 약정이 있었다. 그러나 乙은 甲에게 대리권을 수여한 바가 없다. 이에 관한 설명으로 옳지 않은 것은? (다툼이 있으면 판례에 따름)

- ① 乙이 위 계약을 적법하게 추인하면, 丙은 甲을 상대로 계약상의 책임이나 무권대리인의 책임을 일절 물을 수 없다.
- ② 乙이 甲에게 추인의 의사표시를 한 경우, 丙은 乙의 추인 사실을 몰랐다면 계약 당시 乙의 무권대리사실에 관하여 선의인 때에 한하여 위 계약을 철회할 수 있다.
- ③ 乙이 추인을 거절한 경우, 丙은 무권대리사실에 관하여 선의·무과실이라면 甲에게 과실이 없더라도 甲을 상대로 무권대리인으로서의 책임을 추궁할 수 있다.
- ④ 甲이 무권대리인으로서 책임을 부담하는 경우, 丙은 위 계약에서의 위약금 조항의 효력을 주장할 수 있다.
- ⑤ 만일 丙이 丁에게 위 부동산을 매도한 경우, 乙이 丁에게만 추인의 의사를 표시하면 추인의 효력은 발생하지 아니한다.

10. 취소에 관한 설명으로 옳은 것은? (다툼이 있으면 판례에 따름)

- ① 미성년자가 체결한 계약이 법정대리인의 동의없음을 이유로 취소할 수 있는 경우, 계약당사자인 미성년자는 단독으로 그 계약을 취소할 수 없다.
- ② 계약을 체결할 수 있는 권한만을 가진 임의대리인이 상대방의 사기로 계약을 체결한 경우, 그 임의대리인은 그 계약을 취소할 수 있다.
- ③ 미성년자인 임의대리인이 계약을 체결한 경우, 본인은 미성년자에 의한 대리행위라는 이유로 취소할 수 있다.
- ④ 전세권자의 사기에 의해 건물에 전세권이 설정되고 그 건물이 양도된 경우, 건물양수인은 전세권자의 사기를 이유로 전세권 설정 계약을 취소할 수 있다.
- ⑤ 미성년자가 단독으로 발급받은 신용카드를 이용하여 구입한 물품의 대금을 성년자가 되어 이의없이 결제한 후에도 그 물품구입계약을 미성년자의 행위임을 이유로 취소할 수 있다.



11. 부동산 거래신고 등에 관한 법률에 따른 토지거래허가구역 내에 존재하는 토지에 대하여 매도인 甲과 매수인 乙 사이에 허가를 전제로 하여 매매계약이 체결되었으며 계약 당시 乙은 甲에게 계약금을 지급하였다. 이에 관한 설명으로 옳은 것은? (다툼이 있으면 판례에 따름)

- ① 乙은 甲을 상대로 허가가 나오는 것을 조건으로 하여 잔금과 상환으로 이전등기를 해달라고 청구할 수 있다.
- ② 허가가 나오기 전이라도 甲은 乙이 잔금기일에 잔금을 지급하지 않았다는 것을 이유로 위 계약을 해제할 수 있다.
- ③ 위 계약이 확정적으로 무효가 된 경우, 그에 관해 귀책사유가 있는 당사자도 계약의 무효를 주장할 수 있다.
- ④ 거래허가를 신청하기 전에는 乙의 기망행위로 위 계약을 체결하였더라도 甲은 그 계약을 취소할 수 없다.
- ⑤ 만일 계약 당시 합의에 따라 계약금을 乙이 丙에게 지급하였는데 그 후 위 계약이 확정적으로 무효가 된 경우, 특별한 사정이 없는 한 乙은 丙을 상대로 지급한 계약금 상당액의 반환을 청구할 수 있다.

12. 소멸시효 중단사유에 관한 설명으로 옳지 않은 것은? (다툼이 있으면 판례에 따름)

- ① 채권자가 채무자에게 등기우편으로 이행청구를 한 경우, 법에서 정한 후속수단을 취하지 않으면 그 이행청구만으로는 시효가 중단되지 않는다.
- ② 채권자가 채무자를 상대로 제기한 소송에서, 피고인 채무자에게 소송서류가 송달된 적이 없는 상태에서 판결이 선고되더라도 시효중단의 효력은 있다.
- ③ 채무자가 채권자를 상대로 채무부존재확인소송을 제기하여 채권자가 이를 적극적으로 다툰 경우, 그 소가 법원에 접수된 때부터 시효중단의 효력이 인정된다.
- ④ 채권양수인이 채무자를 상대로 소를 제기하였다가 채무자에 대한 양도통지가 없었다는 이유로 청구가 기각되어 확정된 후, 양도통지를 하고 그 확정된 때로부터 6개월 내에 다시 소를 제기한 경우, 시효중단의 효력은 전소(前訴)제기 시로 소급하여 발생한다.
- ⑤ 채권자가 연대채무자의 1인에 대하여 가압류를 한 경우, 다른 연대채무자의 채무에 대해서는 시효가 중단되지 않는다.



15. 점유권에 관한 설명으로 옳은 것은? (다툼이 있으면 판례에 따름)

- ① 선의의 점유자라도 본권에 관한 소에 패소한 때에는 그 소가 확정된 때로부터 악의의 점유자로 본다.
- ② 건물의 소유권이 양도된 경우에는 특별한 사정이 없는 한 건물의 양도인인 전(前) 소유자는 그 건물의 부지에 대한 점유를 상실한다.
- ③ 직접점유자가 그의 점유를 침탈당하거나 방해당하고 있는 경우, 직접점유자만이 점유보호청구권을 가지고 간접점유자는 점유보호청구권을 행사할 수 없다.
- ④ 甲의 점유가 타주점유인 경우, 甲의 특정승계인 乙이 자기의 점유만을 주장하더라도 그 점유는 타주점유로 추정된다.
- ⑤ 과실수취권이 있는 점유자는 점유물로부터 과실을 취득하였다도 회복자에 대하여 점유물을 보존하기 위하여 지출한 통상의 필요비의 상환을 청구할 수 있다.

16. 甲이 2000. 2. 1.부터 乙 소유의 X토지를 소유의 의사로 평온·공연하게 현재까지 점유하고 있다. 이에 관한 설명으로 옳지 않은 것은? (각 지문은 독립적이며, 다툼이 있으면 판례에 따름)

- ① 甲이 丙을 점유매개자로 하여 X토지를 간접적으로 점유하였다도 甲은 시효취득을 주장할 수 있다.
- ② 乙이 X토지를 2015. 2. 1. 丙에게 매도하여 현재 丙이 소유권자로 등기되어 있는 경우, 甲은 丙에게 취득시효의 완성을 주장할 수 있다.
- ③ 乙이 丙에게 무효인 매매계약에 기하여 2022. 2. 1. 소유권이전등기를 마쳐주었다면, 甲은 乙을 대위하여 丙 명의의 등기의 말소를 구할 수 있다.
- ④ 乙의 채권자 丙이 채권을 보전하기 위하여 2018. 2. 1. X토지를 가압류한 경우, 취득시효의 진행은 중단된다.
- ⑤ X토지에 관하여 甲의 취득시효가 완성된 경우, 乙은 甲에 대하여 취득시효 기간 동안 X토지를 점유하여 얻은 이득의 반환을 청구할 수 없다.

17. 공동소유에 관한 설명으로 옳은 것은? (다툼이 있으면 판례에 따름)

- ① 공유자는 다른 공유자의 동의 없이 자기의 지분을 담보로 제공할 수 없다.
- ② 공유물의 변경은 공유자의 지분의 과반수로써 결정한다.
- ③ 공유물의 관리에 관한 사항은 공유자의 과반수로써 결정한다.
- ④ 합유자는 달리 정함이 없는 한 전원의 동의 없이 합유물에 대한 지분을 처분하지 못한다.
- ⑤ 총유물에 대한 보존행위는 달리 정함이 없는 한 비법인사단을 구성하는 각 사원이 할 수 있다.

18. 건물의 소유를 목적으로 하는 지상권에 관한 설명으로 옳지 않은 것은? (다툼이 있으면 판례에 따름)

- ① 토지에 관하여 근저당권을 설정함과 아울러 그 토지의 담보가치가 저감하는 것을 막기 위해 채권자 앞으로 건물의 소유를 목적으로 하는 지상권이 설정된 경우, 피담보채권의 변제로 근저당권이 소멸하더라도 그 지상권은 소멸하지 않는다.
- ② 존속기간의 만료로 지상권이 소멸할 당시에 건물이 현존한 경우, 지상권자가 계약갱신청구권을 행사하더라도 지상권설정자가 이를 거절하면 지상권은 갱신되지 않는다.
- ③ 지상권이 소멸한 때 지상권설정자가 상당한 가액을 제공하여 건물의 매수를 청구한 때에는 지상권자는 정당한 이유 없이 이를 거절하지 못한다.
- ④ 건물의 소유를 목적으로 하는 지상권에서 그 건물이 멸실되더라도 존속기간이 만료되지 않은 지상권은 소멸되지 않는다.
- ⑤ 무상(無償)의 지상권자는 언제든지 지상권을 포기할 수 있지만, 지상권이 저당권의 목적인 때에는 저당권자의 동의가 있어야 포기할 수 있다.

19. 甲은 乙 소유의 X토지에 건물의 소유를 목적으로 하는 지상권을 취득한 후 Y건물을 신축하여 보존등기를 마쳤다. 그 후 甲은 丙과 Y건물에 관하여 전세금을 3억 원으로 하는 전세권설정계약을 체결하고 3억 원을 지급받은 뒤 전세권설정등기를 마쳐주었다. 이에 관한 설명으로 옳은 것은? (다툼이 있으면 판례에 따름)

- ① 甲이 丙에게 Y건물을 인도하지 않은 경우, 특별한 사정이 없는 한 丙의 전세권은 성립하지 않는다.
- ② 甲과 丙이 전세권의 존속기간을 약정하지 아니한 경우, 甲과 丙은 언제든지 상대방에 대하여 전세권의 소멸을 통고할 수 있고 상대방이 이 통고를 받은 때 전세권은 소멸한다.
- ③ 전세금 3억 원은 현실적으로 수수되어야 하며, 丙이 甲에 대하여 갖는 기존의 채권으로 전세금의 지급에 갈음할 수 없다.
- ④ 특별한 사정이 없는 한, 전세기간 중 丙은 甲의 동의를 얻어야 Y건물을 타인에게 임대할 수 있다.
- ⑤ 甲이 乙에게 약정한 지료를 2년분 이상 연체한 경우, 乙은 丙의 동의가 없어도 甲에게 지상권소멸을 청구할 수 있다.

**20. 민법상 유치권에 관한 설명으로 옳지 않은 것은? (다툼이 있으면 판례에 따름)**

- ① 채권자는 자기 소유의 물건에 대하여는 유치권을 취득할 수 없다.
- ② 임대인과 임차인 사이에 건물명도시 권리금을 반환하기로 약정한 경우, 임차인은 권리금반환청구권을 피담보채권으로 하여 그 건물에 대하여 유치권을 행사할 수 없다.
- ③ 당사자가 미리 유치권의 발생을 배제하기로 하는 특약을 하는 것도 가능하다.
- ④ 어떠한 물건에 관련하여 채권이 발생한 후 채권자가 그 물건의 점유를 취득한 경우에도 유치권이 성립할 수 있다.
- ⑤ 유치권자가 소유자의 승낙 없이 유치목적물을 임대한 경우, 임차인의 점유는 소유자에게 대항할 수 있는 적법한 권원에 기한 것이다.

**21. 민법상 질권에 관한 설명으로 옳지 않은 것은? (다툼이 있으면 판례에 따름)**

- ① 동산질권은 선의취득의 대상이 될 수 있다.
- ② 저당권으로 담보한 채권을 질권의 목적으로 한 때에는 그 저당권등기에 질권의 부기등기를 하여야 그 효력이 저당권에 미친다.
- ③ 근질권이 설정된 금전채권에 대하여 제3자의 압류로 강제집행절차가 개시된 경우, 근질권의 피담보채권은 근질권자가 그 강제집행이 개시된 사실을 알게 된 때에 확정된다.
- ④ 채무자의 부탁으로 그의 채무를 담보하기 위하여 자기 소유의 동산에 질권을 설정한 자는 그 채무의 이행기가 도래한 때 채무자에게 미리 구상권을 행사할 수 있다.
- ⑤ 질물의 변형물인 금전기타물건에 대하여 이미 제3자가 압류한 경우, 질권자 스스로 이를 압류하지 않아도 물상대위권을 행사할 수 있다.

**22. 저당권에 관한 설명으로 옳지 않은 것은? (다툼이 있으면 판례에 따름)**

- ① 구분지상권을 목적으로 하는 저당권의 설정도 가능하다.
- ② 저당권 등기가 위법하게 말소된 후 그 저당부동산이 경매절차에서 매각된 경우, 저당권자는 매수인을 상대로 말소된 저당권등기의 회복을 청구할 수 있다.
- ③ 피담보채무의 소멸로 무효가 된 저당권등기의 유용은 등기부상 이해관계가 있는 제3자가 생기지 않은 경우에 허용된다.
- ④ 저당부동산에 대한 압류가 있으면 압류 이후의 저당권설정자의 저당부동산에 관한 차임채권에도 저당권의 효력이 미친다.
- ⑤ 금전채권이 아닌 채권을 피담보채권으로 하는 저당권을 설정하면서 그 평가액을 등기한 경우, 채권자는 제3자에 대한 관계에 있어서 그 등기된 평가액의 한도에서만 저당권을 주장할 수 있다.

23. 甲은 乙에 대한 3억 원의 채권을 담보하기 위하여 乙 소유의 X토지와 Y토지에 각각 1번 저당권을 설정하였다. 그 후 丙은 乙에 대한 2억 원의 피담보채권을 가지고 X토지에 2번 저당권을 설정하였다. 경매절차에서 X토지와 Y토지는 각각 4억 원, 2억 원에 매각되었다. 이에 관한 설명으로 옳은 것을 모두 고른 것은? (다른 우선권자는 없고 원본만을 고려하며, 다툼이 있으면 판례에 따름)

- ㄱ. 동시배당이 이루어지는 경우, 甲은 X토지의 매각대금으로부터 2억 원, Y토지의 매각 대금으로부터 1억 원을 배당받는다.
- ㄴ. 먼저 X토지에 대한 경매가 이루어져 甲이 3억 원을 배당받은 경우, 丙은 Y토지에 대하여 1억 원의 범위에서 甲의 1번 저당권을 대위할 수 있다.
- ㄷ. 먼저 X토지에 대한 경매가 이루어져 甲이 3억 원을 배당받은 경우, 만일 丙이 Y토지에 공동저당의 대위등기를 하지 아니한 사이에 甲이 Y토지에 대한 저당권을 말소하고 丁이 Y토지를 매수하여 소유권을 취득하였다더라도 丙은 丁에 대하여 저당권을 주장할 수 있다.
- ㄹ. 만일 甲이 경매가 개시되기 전에 Y토지에 대한 저당권을 포기하였다면 甲은 X토지의 매각 대금으로부터 3억 원을 배당받고 丙은 Y토지에 대하여 1억 원의 범위에서 甲의 1번 저당권을 대위할 수 있다.

- ① ㄱ, ㄴ
- ② ㄴ, ㄷ
- ③ ㄷ, ㄹ
- ④ ㄱ, ㄴ, ㄹ
- ⑤ ㄱ, ㄷ, ㄹ

24. 가등기담보에관한설명으로옳지않은것은?(다툼이있으면판례에따름)

- ① 매매대금 채권을 담보하기 위하여 가등기를 한 경우에는 「가등기담보 등에 관한 법률」이 적용되지 않는다.
- ② 가등기담보권이 설정되기 위해서는 피담보채권이 등기되어야 한다.
- ③ 당사자가 가등기담보권설정계약을 체결하면서 가등기 이후에 발생할 채권도 가등기부동산의 피담보채권에 포함시키기로 약정한 경우, 이 약정은 특별한 사정이 없는 한 유효하다.
- ④ 채권자가 가등기담보권을 실행하기 위해 청산금의 평가액을 통지하는 경우, 그가 주관적으로 평가한 청산금의 평가액을 통지하면 족하다.
- ⑤ 가등기담보권자는 담보목적부동산의 경매를 청구할 수 있고, 이 경우 경매에 관하여는 가등기담보권을 저당권으로 본다.

### 25. 특정물 채권에 관한 설명으로 옳지 않은 것은? (다툼이 있으면 판례에 따름)

- ① 특정물매매에 있어서 매수인의 대금지급채무가 이행지체에 빠졌다고 하더라도 그 목적물이 매수인에게 인도될 때까지는 매수인은 매매대금의 이자를 지급할 필요가 없다.
- ② 특정물매매의 경우, 매수인이 매매대금을 지급하지 않더라도 인도받지 않은 목적물로부터 생긴 과실에 대한 수취권은 특별한 사정이 없는 한 매수인에게 귀속된다.
- ③ 채권자는 특정물에 관한 자신의 채권을 보전하기 위하여 채무자의 제3채무자에 대한 그 특정물에 관한 권리만을 대위행사할 수 있다.
- ④ 103동 607호, 107동 203호 등으로 아파트를 지정하여 매매하는 것을 내용으로 하는 아파트분양 계약은 수량을 지정한 매매가 아닌 특정물을 목적으로 한 매매에 해당한다.
- ⑤ 채권자가 특정물채권을 보전하기 위해 채권자취소권을 행사하는 것은 허용되지 않는다.

### 26. 채무불이행에 관한 설명으로 옳지 않은 것은? (다툼이 있으면 판례에 따름)

- ① 이행보조자는 채무자의 의사 관여 아래 채무의 이행행위에 속하는 활동을 하는 자이면 충분하고, 반드시 채무자의 지시 또는 감독을 받는 관계에 있어야 하는 것은 아니다.
- ② 이행기의 정함이 없는 지명채권을 양수한 채권양수인이 채무자를 상대로 그 이행을 구하는 소를 제기하고, 그 소송 계속 중 채무자에 대한 채권양도통지가 이루어진 경우에는 특별한 사정이 없는 한 채무자는 그 소가 제기된 날부터 채권양수인에 대해 이행지체의 책임을 진다.
- ③ 매매목적물에 관하여 이중으로 제3자와 매매계약을 체결하였다는 사실만 가지고는 먼저 체결된 매매계약이 법률상 이행불능이라고 할 수 없다.
- ④ 매매목적물이 채무자의 과실에 의한 화재로 소실됨으로써 채무자의 매매목적물에 대한 인도의무가 이행불능으로 된 경우, 채권자는 화재사고로 채무자가 지급받게 되는 화재보험금에 대하여 대상청구권을 행사할 수 있다.
- ⑤ 임대인이 임대물수선의무를 이행하기 위하여 제3자에게 도급을 주어 임차물을 공사하던 중 그 수급인의 과실에 의한 임차물의 화재로 인해 임차인의 손해가 발생한 경우, 임대인은 임차인에 대하여 채무불이행에 따른 손해배상책임을 부담한다.

**27. 채무불이행에 따른 손해배상에 관한 설명으로 옳은 것은? (다툼이 있으면 판례에 따름)**

- ① 숙박업자가 숙박계약에 따른 의무를 다하지 못하여 투숙객이 사망한 경우, 숙박계약의 당사자가 아니면서 그 사고로 인하여 정신적 고통을 받은 그 투숙객의 근친자는 그 투숙객에 대한 숙박계약상의 채무불이행을 이유로 숙박업자에게 위자료를 청구할 수 있다.
- ② 채무불이행을 이유로 계약이 해제된 경우에 채권자는 이행이익의 배상 대신에 계약이 이행되리라고 믿고 지출한 비용을 채무불이행으로 인한 손해로 배상을 청구할 수 있으며, 그 지출비용이 이행이익의 범위를 초과하더라도 그 전부를 청구할 수 있다.
- ③ 부동산매매계약에서 매도인의 이행거절로 인한 채무불이행에서의 손해액 산정은 이행거절 당시의 부동산의 시가를 표준으로 한다.
- ④ 채무자의 채무불이행으로 인한 손해배상액이 예정되어 있는 경우에 채무불이행으로 인한 손해의 발생 및 확대에 채권자에게도 과실이 있다면 과실상계를 할 수 있다.
- ⑤ 위약금이 위약별로 해석되기 위해 특별한 사정이 주장·입증될 필요는 없으며, 도급계약서에 계약보증금 외에 지체상금도 규정되어 있다면 이 자체로 계약보증금은 위약별이 된다.

**28. 책임재산의 보전에 관한 설명으로 옳지 않은 것은? (다툼이 있으면 판례에 따름)**

- ① 농지취득자격증명 발급신청권은 채권자대위권의 행사대상이 될 수 있다.
- ② 채권자대위권 행사의 효과는 채무자에게 귀속되는 것이므로 채권자대위소송의 제기로 인한 피대위채권의 소멸시효 중단의 효과는 채무자에게 생긴다.
- ③ 취득시효의 대상인 부동산의 소유자가 취득시효 완성 후에 그 부동산을 처분하여 점유자의 시효취득을 원인으로 한 소유권이전등기청구권이 침해된 경우, 그 점유자는 소유권이전등기청구권의 보전을 위해 채권자취소권을 행사할 수 있다.
- ④ 채권자는 원칙적으로 자신의 채권액을 초과하여 채권자취소권을 행사할 수 없다.
- ⑤ 사해행위에 해당하는지가 문제되는 법률행위가 수익자의 대리인에 의하여 이루어진 때에는 특별한 사정이 없는 한 수익자의 사해의사는 대리인을 표준으로 결정한다.



29. 연대채무자 甲·乙·丙이 채권자 丁에게 대여금 3억 원을 변제하기로 하는 채무를 부담하는 경우, 이에 관한 설명으로 옳지 않은 것은? (甲·乙·丙의 부담부분은 균등하며 원본만 고려함. 각 지문은 독립적이고, 다툼이 있으면 판례에 따름)

- ① 丁이 변제기에 甲을 상대로 채무이행의 소를 제기하여 승소판결이 확정된 경우, 그 소멸시효 중단 효과는 乙과 丙에게도 발생한다.
- ② 乙이 丁에 대해 상계적상에 있는 2억 원의 채권을 가지고 있으나 상계하지 아니한 경우, 丙은 乙의 丁에 대한 2억 원의 채권 중 1억 원에 한해 상계할 수 있다.
- ③ 丙이 채무 3억 원의 지급에 갈음하여 자신이 소유하는 부동산의 소유권을 丁에게 이전하기로 하는 경계계약을 丁과 유효하게 체결한 경우, 丁에 대한 甲과 乙의 채무는 소멸한다.
- ④ 丁이 甲에 대해 채무 전부를 면제한 경우, 丁에 대한 乙과 丙의 채무 전부도 소멸한다.
- ⑤ 丙이 丁의 위 채권(3억 원)을 유효하게 양수한 경우, 甲과 乙은 丙에게 각 1억 원을 변제하여야 한다.

30. 채권의 양도에 관한 설명으로 옳은 것은? (다툼이 있으면 판례에 따름)

- ① 부동산매매로 인한 소유권이전등기청구권이 양도된 경우, 양도인의 채무자에 대한 통지만으로 채무자에 대한 대항력이 발생한다.
- ② 소송행위를 하게 하는 것을 주목적으로 지명채권의 양도가 이루어진 경우, 그 채권양도가 신탁법상의 신탁에 해당하지 않는 경우에는 유효이다.
- ③ 주채무자에 대한 지명채권이 양도된 후 양수인이 보증인에게 보증채권을 행사하기 위해서는 주채권의 양도에 대한 대항요건과 별도로 보증채권의 양도에 대한 대항요건을 갖추어야 한다.
- ④ 선순위의 근저당권부채권을 양수한 채권자보다 후순위의 근저당권자는 ‘지명채권양도의 대항요건을 갖추지 아니한 경우에 대항할 수 없는 제3자’에 포함되지 않는다.
- ⑤ 채권자와 양수인 사이의 계약에 의해 지명채권이 양도된 경우, 양수인은 제3자에 대한 대항요건을 구비하기 위함이라고 하더라도 그 채권자에게 채권양도통지절차의 이행을 청구할 수 없다.

31. 채무의 인수에 관한 설명으로 옳은 것을 모두 고른 것은? (다툼이 있으면 판례에 따름)

- ㄱ. 중첩적 채무인수는 채권자와 채무인수인과의 합의가 있는 이상 채무자의 의사에 반하여서도 이루어질 수 있다.
- ㄴ. 면책적 채무인수가 있는 경우, 인수채무의 소멸시효기간은 특별한 사정이 없는 한 채무인수와 동시에 이루어진 채무인수인의 채무승인에 따라 채무인수일로부터 새로이 진행된다.
- ㄷ. 채무자와 채무인수인의 합의에 의한 중첩적 채무인수는 제3자를 위한 계약에 해당하지 않으며, 채권자는 채무인수인에게 수익의 의사를 표시하지 않더라도 채무인수인에 대하여 직접 청구할 권리를 갖는다.

- ① ㄱ
- ② ㄱ, ㄴ
- ③ ㄱ, ㄷ
- ④ ㄴ, ㄷ
- ⑤ ㄱ, ㄴ, ㄷ

32. 채권의 소멸에 관한 설명으로 옳지 않은 것을 모두 고른 것은? (다툼이 있으면 판례에 따름)

- ㄱ. 법정변제충당의 순위를 정함에 있어서 변제의 유예가 있는 채무에 대하여는 유예기까지 변제기가 도래하지 않은 것과 같게 보아야 한다.
- ㄴ. 채권자의 태도로 보아 채무자가 채무의 이행제공을 하였더라도 그 수령을 거절하였을 것이 명백한 경우에도 채무자는 이행의 제공을 하지 않고 바로 변제공탁할 수는 없다.
- ㄷ. 변제공탁이 적법한 경우에는 채권자가 공탁물 출급청구를 하였는지와 관계 없이 공탁을 한 때에 변제의 효력이 발생하지만, 그 후 공탁물 출급청구권에 대하여 가압류 집행이 된 경우에는 변제의 효력이 발생하지 아니한다.
- ㄹ. 매도인의 담보책임을 기초로 한 손해배상채권의 제척기간이 지난 경우, 매수인은 그 제척기간이 지나기 전에 상계할 수 있었을지라도 그 손해배상채권을 자동채권으로 해서 매도인의 채권과 상계할 수 없다.

- ① ㄱ, ㄴ                      ② ㄷ, ㄹ                      ③ ㄱ, ㄴ, ㄷ                      ④ ㄱ, ㄷ, ㄹ                      ⑤ ㄴ, ㄷ, ㄹ

33. 계약의 성립에 관한 설명으로 옳지 않은 것은? (다툼이 있으면 판례에 따름)

- ① 의사표시의 불일치로 인해 계약이 성립하지 않는 경우, 그로 인해 손해를 입은 당사자는 상대방이 계약의 불성립을 알았거나 알 수 있었음을 이유로 계약체결상의 과실로 인한 손해배상을 청구할 수 있다.
- ② 은행 직원이 예금자로부터 돈을 받아 확인한 후에는 실제로 입금하지 않아도 예금자와 은행 사이에 예금계약이 성립한다.
- ③ 甲이 자신의 X건물을 乙에게 1억 원에 팔겠다는 청약을 하였는데, 이 사실을 모르는 乙이 甲에게 X건물을 1억 원에 구입하겠다고 청약을 한 경우에 두 청약이 상대방에게 도달한 때에 계약은 성립한다.
- ④ 매도인이 매수인에게 매매계약의 합의해제를 청약하였는데, 매수인이 그 청약에 대하여 조건을 붙여 승낙한 경우에는 합의해제의 청약이 실효된다.
- ⑤ 임대인이 임대목적물에 대한 소유권 기타 이를 임대할 권한이 없다고 하더라도 임대차계약은 유효하게 성립할 수 있다.

34. 甲은 2024. 2. 10. 자신이 소유하는 특정 도자기를 1천만 원에 乙에게 매도하기로 약정하면서 2024. 2. 28. 乙에게 인도하기로 하였다. 이에 관한 설명으로 옳지 않은 것은? (다툼이 있으면 판례에 따름)

- ① 乙의 과실로 도자기가 멸실된 경우, 甲은 도자기 이전의무를 면하면서 얻은 이익이 있더라도 이를 乙에게 상환할 필요는 없다.
- ② 도자기가 2024. 2. 20. 지진으로 멸실된 경우, 甲은 乙에게 매매대금의 지급을 청구할 수 없다.
- ③ 乙이 계약체결 당시 甲에게 매매대금을 지급하였는데, 도자기가 2024. 2. 20. 지진으로 멸실된 경우에 乙은 甲에게 부당이득반환을 청구할 수 있다.
- ④ 乙의 과실로 도자기가 멸실된 경우, 甲은 乙에게 매매대금의 지급을 청구할 수 있다.
- ⑤ 乙의 수령지체 중에 지진으로 도자기가 멸실된 경우, 甲은 乙에게 매매대금의 지급을 청구할 수 있다.

35. 증여계약에 관한 설명으로 옳지 않은 것은? (다툼이 있으면 판례에 따름)

- ① 부담부 증여에서 상대방의 부담의무 불이행을 이유로 한 증여자의 계약해제는 이미 이행한 부분에 대하여는 영향을 미치지 아니한다.
- ② 증여계약 성립 이후에 그 계약이 존속하는 동안 서면을 작성한 경우에는 그때부터 당사자가 임의로 이를 해제할 수 없다.
- ③ 재단법인의 설립을 위하여 서면에 의해 출연하였더라도 착오취소를 위한 요건이 갖춰진 경우, 출연자는 착오를 이유로 출연의 의사표시를 취소할 수 있다.
- ④ 서면에 의하지 않음을 이유로 증여계약을 해제하는 경우에는 원칙적으로 형성권의 제척기간의 적용을 받지 않는다.
- ⑤ 정기의 급여를 목적으로 한 증여는 특별한 사정이 없는 한 증여자의 사망으로 인하여 그 효력을 잃는다.

36. 甲은 자신의 토지 위에 건물신축을 위해 乙과 공사도급계약을 체결하였다. 이에 관한 설명으로 옳지 않은 것을 모두 고른 것은? (다툼이 있으면 판례에 따름)

- ㄱ. 乙이 일을 완성하기 전에 甲은 손해를 배상하고 계약을 해제할 수 있으며, 특별한 사정이 없는 한 甲은 乙에 대한 손해배상에 있어서 과실상계를 주장할 수 있다.
- ㄴ. 乙로부터 공사대금채권을 양수받은 자의 저당권설정청구에 의하여 甲이 신축건물에 저당권을 설정하는 행위는 특별한 사정이 없는 한 甲의 채권자에 대한 사해행위에 해당하지 아니한다.
- ㄷ. 甲이 하자보수에 갈음하여 손해배상을 청구하는 경우, 甲은 보수(報酬)가 손해배상액을 초과하더라도 乙이 그 손해배상채무를 이행할 때까지 乙에게 그 보수 전액의 지급을 거절할 수 있다.
- ㄹ. 완성된 건물에 중요한 하자가 있어 甲이 하자보수에 갈음하여 손해배상을 청구하는 경우, 그 하자보수비는 건물의 완성시를 기준으로 산정해야 한다.

- ① ㄱ, ㄴ                    ② ㄴ, ㄹ                    ③ ㄷ, ㄹ                    ④ ㄱ, ㄷ, ㄹ                    ⑤ ㄴ, ㄷ, ㄹ

37. 위임계약에 관한 설명으로 옳지 않은 것은? (다툼이 있으면 판례에 따름)

- ① 보수의 수령 여부와 관계없이 수임인은 선량한 관리자의 주의의무를 부담한다.
- ② 수임인이 위임사무의 처리로 인하여 받은 금전을 위임인에게 반환할 경우, 특별한 사정이 없는 한 위임종료시를 기준으로 그 금전의 범위가 정해진다.
- ③ 위임인이 성년후견개시심판을 받더라도 위임이 종료되는 것은 아니다.
- ④ 위임계약의 당사자는 특별한 이유 없이도 언제든지 위임계약을 해지할 수 있다.
- ⑤ 수임인이 위임인의 지명에 의하여 복수임인을 선임한 경우, 위임인에 대하여 그 선임감독에 관한 책임을 진다.

38. 사무관리에 관한 설명으로 옳은 것은? (다툼이 있으면 판례에 따름)

- ① 관리자가 사무의 적절한 관리를 함에 있어 과실없이 손해를 받은 때에는 본인에 대하여 그 손해 전액의 보상을 청구할 수 있다.
- ② 관리자가 본인을 위하여 본인의 의사에 부합하게 사무를 관리하면서 유익비를 지출한 경우, 현존 이익 한도에서 그 상환을 청구할 수 있다.
- ③ 상대방과의 약정에 따라 제3자의 사무를 관리한 경우, 그 관리자와 제3자 사이에서는 원칙적으로 사무관리가 성립된다.
- ④ 관리자에게 타인을 위해 사무를 처리하는 의사와 관리자 자신의 이익을 위한 의사가 모두 있는 경우에는 사무관리가 성립할 수 없다.
- ⑤ 관리자가 타인의 신체에 대한 급박한 위해를 면하게 하기 위하여 그 사무를 관리한 경우, 그의 경과실로 인해 발생한 본인의 손해를 배상할 책임이 없다.

39. 불법행위에 관한 설명으로 옳은 것은? (다툼이 있으면 판례에 따름)

- ① 공동불법행위자 甲과 乙중 甲의 손해배상채무가 시효로 소멸한 후에 乙이 피해자에게 자기의 부담 부분을 넘는 손해를 배상한 경우, 乙은 甲을 상대로 구상권을 행사할 수 없다.
- ② 자신의 과실에 의해 초래된 급박한 위난을 피하기 위해 부득이 타인에게 손해를 가한 자는 그 손해에 대한 배상책임을 지지 않는다.
- ③ 공작물의 설치·보존의 하자로 인해 타인에게 입힌 손해에 대하여 점유자가 면책된 경우, 그 공작물의 소유자는 과실이 없어도 배상책임을 진다.
- ④ 피용자와 제3자가 공동불법행위에 따른 손해배상채무를 부담하는 경우, 사용자가 피용자와 제3자의 책임비율에 의해 정해진 부담부분을 초과하여 피해자에게 배상하더라도 제3자에 대하여 구상권을 행사할 수 없다.
- ⑤ 불법행위로 인하여 건물이 훼손되어 사용 및 수리가 불가능한 경우, 손해배상액의 기준이 되는 건물의 시가에는 원칙적으로 건물의 철거비용이 포함된다.

40. 매도인의 담보책임에 관한 설명으로 옳은 것을 모두 고른 것은? (특별한 사정은 없으며, 다툼이 있으면 판례에 따름)

- ㄱ. 타인의 권리의 매매에서 매도인이 그 권리를 매수인에게 이전할 수 없게 된 경우, 매도인의 손해배상액은 이행불능 당시의 목적물의 시가를 기준으로 산정한다.
- ㄴ. 매매목적물의 일부가 계약 당시에 이미 멸실되어 매도인이 그 부분을 이전할 수 없는 경우, 약의 매수인은 대금감액을 청구할 수 없다.
- ㄷ. 매매목적물이 유치권의 목적이 되어 있는 경우, 계약의 목적을 달성할 수 있더라도 선의의 매수인은 계약을 해제할 수 있다.
- ㄹ. 매매당사자가 건축을 위해 매매한 토지에 대하여 건축허가를 받을 수 없어 건축이 불가능한 경우는 물건의 하자에 해당하며, 하자의 존부는 매매계약 성립시를 기준으로 판단한다.

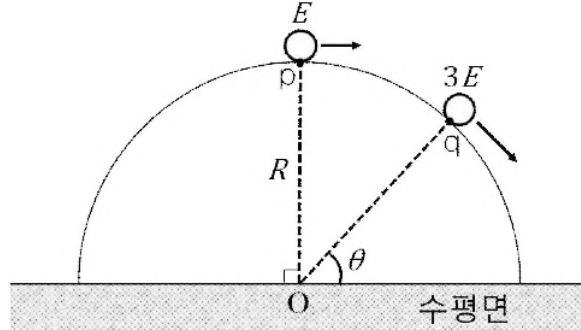
- ① ㄱ, ㄴ
- ② ㄴ, ㄹ
- ③ ㄷ, ㄹ
- ④ ㄱ, ㄴ, ㄹ
- ⑤ ㄱ, ㄴ, ㄷ, ㄹ

03  
2024

제61회 변리사 1차 국가자격시험

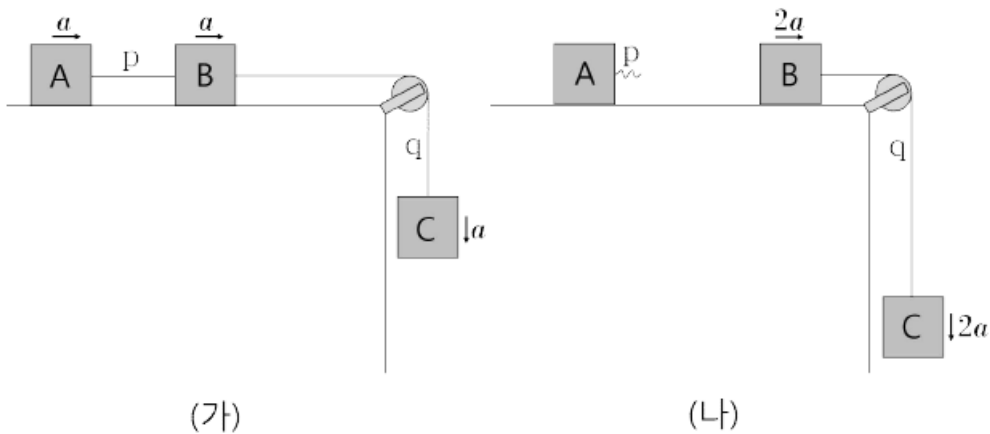
[3교시] 자연과학개론

1. 그림과 같이 반지름이  $R$ 인 반구 모양의 면을 따라 움직이던 물체가 점  $q$ 에서 반구면으로부터 이탈된다. 점  $p, q$ 에서 물체의 운동에너지는 각각  $E, 3E$  이고, 반구의 중심  $O$ 와  $q$ 를 잇는 선분이 수평면과 이루는 각은  $\theta$ 이다.  $\sin\theta$ 는? (단,  $p, q$ 는 반구면 상의 점이며, 물체의 크기와 모든 마찰은 무시한다.)



- ①  $\frac{3}{5}$                       ②  $\frac{13}{20}$                       ③  $\frac{7}{10}$                       ④  $\frac{3}{4}$                       ⑤  $\frac{4}{5}$

2. 그림 (가)와 같이 두 실  $p, q$ 로 연결된 물체 A, B, C가 도르래를 통하여 일정한 가속력  $a$  로 운동하다가, (나)와 같이 어느 순간  $p$ 가 끊겨 B, C가  $2a$ 의 가속력으로 운동한다. A, C의 질량은 각각  $5m, 2m$ 이고, (가), (나)에서  $q$ 가 B에 작용하는 장력은 각각  $T_{(가)}, T_{(나)}$ 이다.  $\frac{T_{(나)}}{T_{(가)}}$ 는? (단, 실의 질량과 모든 마찰은 무시한다.)

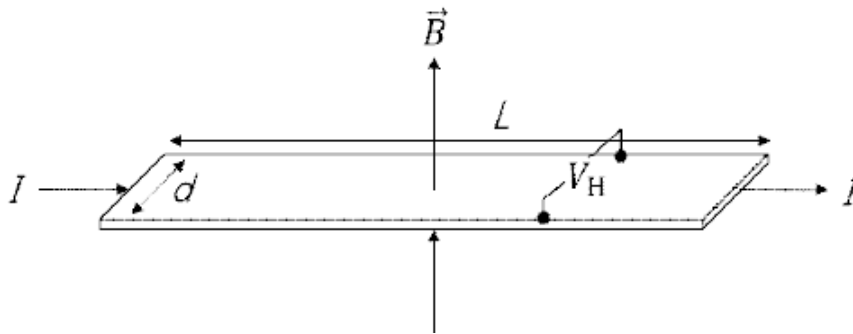


- ①  $\frac{1}{2}$                       ②  $\frac{5}{8}$                       ③  $\frac{3}{4}$                       ④  $\frac{7}{8}$                       ⑤ 1

3. 서로 같은 속력으로 각각 등속운동을 하던 물체 A, B가 시간  $t = 0$ 인 순간부터 서로 다른 가속도로 등가속도 운동하여 각각  $t = t_0, t = 2t_0$ 인 순간에 정지하였다. A, B가  $t = 0$ 인 순간부터 정지할 때까지 이동한 거리는 각각  $s_A, s_B$ 이다.  $\frac{s_A}{s_B}$ 는?

- ①  $\sqrt{2}$
- ②  $\frac{3}{2}$
- ③  $\sqrt{3}$
- ④ 2
- ⑤ 4

4. 그림은 길이가  $L$  이고 선포이  $d$  인 직사각형 모양의 두께가 일정한 도체 띠에 직류전류  $I$  가 흐르고 있는 것을 나타낸 것이다. 도체 띠 평면에 수직으로 크기가  $B$  인 균일한 자기장을 걸었을 때 선포 양단 사이의 홀(Hall) 전압은  $V_H$  이다. 다른 조건은 동일하고 선포이  $2d$  인 도체 띠에 직류 전류  $I$  가 흐르고, 크기가  $4B$  인 균일한 자기장을 걸었을 때 선포 양단 사이의 홀(Hall) 전압은?



- ①  $V_H$
- ②  $2V_H$
- ③  $3V_H$
- ④  $4V_H$
- ⑤  $5V_H$

5. 시간에 따라 변하는 폐곡선 내부의 전기장 선속은 자기장을 유도하고, 폐곡선 내부에 변위전류를 유도한다. 반지름이  $R$  인 원형 평행판 축전기가 시간에 따라 변하는 전류  $i$  로 충전될 때, 평행판 사이 중심축으로부터  $r$  만큼 떨어진 위치에 유도되는 자기장의 크기를 옳게 나타낸 것은? (단,  $\mu_0$  는 진공의 투자율이며, 평행판 사이의 전기장은 매 순간 균일하고 가장자리 효과는 무시한다.)

- ①  $\frac{1}{2}$
- ②  $\frac{5}{8}$
- ③  $\frac{3}{4}$
- ④  $\frac{7}{8}$
- ⑤ 1





8. 다음은 팽팽한 두 줄에 생긴 가로 파동 P, Q의 높이 변화  $y_P, y_Q$ 를 위치  $x$ 와 시간  $t$ 의 함수로 각각 나타낸 것이다.

$$y_P(x,t) = a \sin(bx - ct), y_Q(x,t) = 2a \sin(3bx - 2ct)$$

이에 관한 설명으로 옳은 것만을 <보기>에서 있는 대로 고른 것은? (단,  $a, b, c$ 는 모두 양의 상수이다.)

- < 보 기 >
- ㄱ. 진폭은 Q가 P의 2배이다.
  - ㄴ. 파장은 Q가 P의  $\frac{1}{3}$ 배이다.
  - ㄷ. 속력은 Q가 P의  $\frac{3}{2}$ 배이다.

- ① ㄱ                      ② ㄷ                      ③ ㄱ, ㄴ                      ④ ㄴ, ㄷ                      ⑤ ㄱ, ㄴ, ㄷ

9. 원자핵에 갇힌 전자를 무한 퍼텐셜에 갇힌 자유 전자로 가정하여 공간에 갇힌 자유 입자의 양자화 현상을 정성적으로 이해할 수 있다. 폭이 0.31nm인 1차원 무한 퍼텐셜 장벽에 갇힌 자유 전자가 세 번째 에너지 준위의 들뜬 상태에서 첫 번째 에너지 준위(바닥상태)로 전이할 때 방출하는 광자의 에너지는? (단,  $m_e$ 는 전자의 질량,  $h$ 는 플랑크 상수,  $c$ 는 빛의 속도일 때  $m_e c^2 = 0.50\text{MeV}$ 이며,  $hc = 1.24 \times 10^3 \text{eV} \cdot \text{nm}$ 이다.)

- ① 12eV                      ② 24eV                      ③ 32eV                      ④ 48eV                      ⑤ 60eV

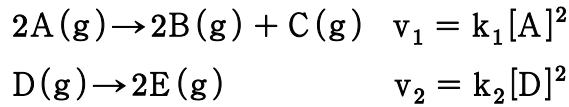
10. 반도체 소자의 선폭이 6.2nm일 때 이 선폭과 동일한 파장을 가진 광자의 에너지는  $E_\gamma$  이다. 진공 중에서 앞의 선폭과 동일한 파장의 드브로이(deBroglie) 물질파로 구현된 전자의 운동에너지는  $E_e$  이다.  $E_\gamma$ 와  $E_e$ 의 값으로 옳은 것은? (단,  $m_e$ 는 전자의 질량,  $h$ 는 플랑크 상수,  $c$ 는 빛의 속도일 때  $m_e c^2 = 0.50\text{MeV}$ 이며,  $hc = 1.24 \times 10^3 \text{eV} \cdot \text{nm}$ 이다.)

- ①  $E_\gamma = 1.0 \times 10^{-2} \text{eV}, E_e = 4.0 \times 10^2 \text{eV}$                       ②  $E_\gamma = 2.0 \times 10^{-2} \text{eV}, E_e = 2.0 \times 10^2 \text{eV}$   
 ③  $E_\gamma = 1.0 \times 10^1 \text{eV}, E_e = 4.0 \times 10^{-2} \text{eV}$                       ④  $E_\gamma = 2.0 \times 10^2 \text{eV}, E_e = 2.0 \times 10^{-2} \text{eV}$   
 ⑤  $E_\gamma = 2.0 \times 10^2 \text{eV}, E_e = 4.0 \times 10^{-2} \text{eV}$





13. 다음은 온도  $T$ 에서  $A(g)$ 와  $D(g)$ 가 분해되는 화학 반응식과 반응 속도 법칙이다.  $k_1$ 과  $k_2$ 는 온도  $T$ 에서의 반응 속도 상수이다.



표는 온도  $T$ 에서 진공 강철 용기 (가)에  $A(g)$ 를, (나)에  $D(g)$ 를 각각 넣고 반응시켰을 때 반응 시간(min)에 따른 순간 반응 속도(상댓값)를 나타낸 것이다. 반응 전 넣어준  $A(g)$ 의 초기 농도( $[A]_0$ )는  $D(g)$ 의 초기 농도 ( $[D]_0$ )의 2배이다.

	용기	반응시간(min)			
		0	1	2	3
순간 반응 속도 (상댓값)	(가)	64	16		$x$
	(나)	16		4	

이에 관한 설명으로 옳은 것만을 <보기>에서 있는 대로 고른 것은? (단, 온도는  $T$ 로 일정하다.)

— < 보 기 > —

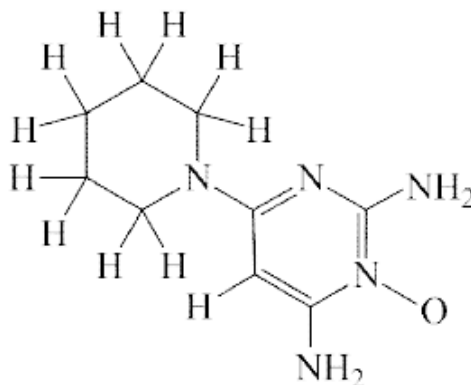
ㄱ.  $k_1 = 2k_2$  이다.

ㄴ.  $x = 4$  이다.

ㄷ.  $\frac{\text{(가)에서 } 0 \sim 3 \text{ min 동안 평균 반응 속도 (M/s)}}{\text{(나)에서 } 0 \sim 2 \text{ min 동안 평균 반응 속도 (M/s)}} = 2$  이다.

- ① ㄱ                      ② ㄷ                      ③ ㄱ, ㄷ                      ④ ㄴ, ㄷ                      ⑤ ㄱ, ㄴ, ㄷ

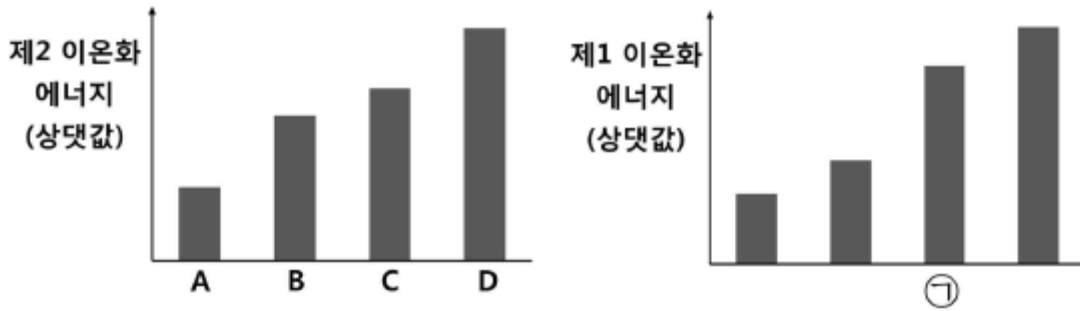
14. 그림은 미녹시딜( $C_9H_{15}N_5O$ )의 구조식이다.



이 구조의 미녹시딜 한 분자에는  $x$ 개의 고립(비공유) 전자쌍과  $y$ 개의 시그마( $\sigma$ ) 결합이 있다.  $x + y$ 는?

- ① 27                      ② 28                      ③ 31                      ④ 35                      ⑤ 38

15. 그림은 원자 A~D의 제2 이온화 에너지(상댓값)와 제1 이온화 에너지(상댓값)를 나타낸 것이다. A~D는 각각 N,  $\text{Na}$ ,  $\text{Mg}$  중 하나이다.



이에 관한 설명으로 옳은 것만을 <보기>에서 있는 대로 고른 것은? (단, A~D는 임의의 원소 기호이다.)

- < 보 기 > —
- ㄱ. ㉠은 B이다.
  - ㄴ. 전기음성도는  $C > B$  이다.
  - ㄷ. 원자 반지름은  $A > D$  이다.

- ① ㄱ                      ② ㄷ                      ③ ㄱ, ㄴ                      ④ ㄴ, ㄷ                      ⑤ ㄱ, ㄴ, ㄷ

16. 다음은 분자 궤도함수 이론에 근거한 바닥상태의 3가지 화학종 XY,  $ZY^-$ ,  $Z_2^{2-}$ 에 관한 자료이다. X ~ Z는 각각 C, N, O 중 하나이다.

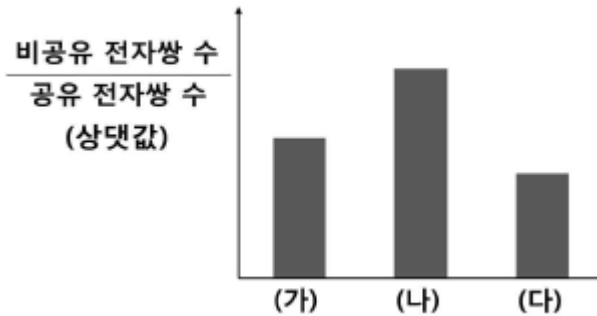
- XY의 전자 배치는  $(\sigma_{1s})^2(\sigma_{1s}^*)^2(\sigma_{2s})^2(\sigma_{2s}^*)^2(\pi_{2p})^4(\sigma_{2p})^2$  이다.
  - $ZY^-$ 의 결합 차수는 2이다.
  - $Z_2^{2-}$ 은 상자기성이다.

분자 궤도함수 이론에 근거하여 다음 화학종에 관한 설명으로 옳은 것만을 <보기>에서 있는 대로 고른 것은? (단, X ~ Z는 임의의 원소 기호이고, 모든 화학종은 바닥상태이다.)

- < 보 기 > —
- ㄱ.  $\frac{Z_2^+$ 의 결합 차수}{ $Z_2^+$ 의 결합 차수} <  $\frac{Y_2^-$ 의 결합 차수}{ $Y_2^-$ 의 결합 차수} 이다.
  - ㄴ. 홀전자 수는  $ZY$ 와  $X_2^-$  이 같다.
  - ㄷ.  $XZ^-$ 은 반자기성이다.

- ① ㄱ                      ② ㄷ                      ③ ㄱ, ㄴ                      ④ ㄴ, ㄷ                      ⑤ ㄱ, ㄴ, ㄷ

17. 그림은 화합물 (가) ~ (다)의 가장 안정한 루이스 구조에서 중심 원자 아이오딘(I)의  $\frac{\text{비공유 전자쌍 수}}{\text{공유 전자쌍 수}}$  를 나타낸 것이다. (가) ~ (다)는 각각  $\text{IF}_4^-$ ,  $\text{IBr}_3$ ,  $\text{ICl}_2^+$  중 하나이다.



루이스 구조, 원자가 껍질 전자쌍 반발 이론, 원자가 결합 이론에 근거하여 (가) ~ (다)를 설명한 것으로 옳은 것만을 <보기>에서 있는 대로 고른 것은?

- < 보 기 > —
- ㄱ. (나)는 굽은형 구조이다.
  - ㄴ. I의 형식 전하는 (나) > (가)이다.
  - ㄷ. I의 혼성 궤도함수에서 s 오비탈의 기여도는 (가) > (다)이다.

- ① ㄱ                      ② ㄷ                      ③ ㄱ, ㄴ                      ④ ㄴ, ㄷ                      ⑤ ㄱ, ㄴ, ㄷ

18. 표는 결정장 이론에 근거한 바닥상태의 3가지 착이온에 대한 자료이다. X ~ Z는 각각 Fe, Co, Ni 중 하나이다.

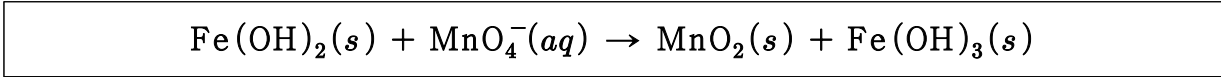
화학식	$[\text{XC}_4]^{2-}$	$[\text{YC}_4]^{2-}$	$[\text{ZC}_6]^{3-}$
홀전자 수	2	3	5
입체 구조	정사면체	정사면체	정팔면체

결정장 이론에 근거하여 바닥상태의 다음 착이온에 관한 설명으로 옳은 것만을 <보기>에서 있는 대로 고른 것은? (단, Fe, Co, Ni의 원자 번호는 각각 26, 27, 28이고,  $\Delta_0$ 는 정팔면체 착화합물의 결정장 갈라짐 에너지이다. X ~ Z는 임의의 원소 기호이다.)

- < 보 기 > —
- ㄱ. X는 Ni이다.
  - ㄴ.  $[\text{YI}_6]^{3-}$ 의 결정장 안정화 에너지의 절댓값은  $0.4\Delta_0$ 이다.
  - ㄷ.  $[\text{Z}(\text{CN})_6]^{4-}$ 은 반자기성이다.

- ① ㄱ                      ② ㄴ                      ③ ㄱ, ㄷ                      ④ ㄴ, ㄷ                      ⑤ ㄱ, ㄴ, ㄷ

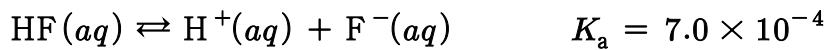
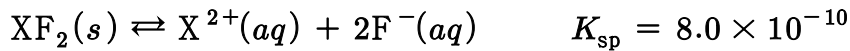
19. 다음은 산화-환원 반응에서 불균형 알짜 이온 반응식을 나타낸 것이다.



염기성 수용액에서 이 반응의 균형을 맞추었을 때, 1mol의  $\text{Fe(OH)}_2(s)$ 가 모두 반응하여 생성되는  $\text{OH}^-(aq)$ 의 양(mol)은?

- ①  $\frac{1}{3}$                       ②  $\frac{2}{3}$                       ③ 1                      ④  $\frac{4}{3}$                       ⑤ 2

20. 다음은  $T$  °C에서  $\text{XF}_2(s)$ 와  $\text{HF}(aq)$ 에 대한 수용액에서의 평형 반응식과 용해도 곱 상수 ( $K_{sp}$ ) 및 산 해리 상수( $K_a$ )이다.



표는  $T$  °C에서  $\text{XF}_2(s)$ 를 순수한 물과 산성 완충 용액에서 녹여 도달한 평형 I 과 II 에 대한 자료이다.

상태	[H <sup>+</sup> ](M)	[HF] [F <sup>-</sup> ]	[X <sup>2+</sup> ](M)
평형 I	$1.0 \times 10^{-7}$		$y$
평형 II	$4.9 \times 10^{-3}$	$x$	$z$

$\frac{x \times z}{y}$ 는? (단, 온도는  $T$  °C로 일정하고, 평형 I 에서의  $\text{F}^-$ 이 염기로 작용하는 것은 무시한다.

평형 II 에서  $\text{XF}_2(s)$ 의 용해는 주어진 평형 반응들만을 고려한다. X는 임의의 금속이다.)

- ① 28                      ② 35                      ③ 42                      ④ 49                      ⑤ 56

21. 곤충의 외골격과 갑각류의 껍질 및 곰팡이 세포벽에서 공통적으로 발견되는 다당류 구성 성분으로 옳은 것은?

- ① 큐틴                      ② 키틴                      ③ 펙틴                      ④ 리그닌                      ⑤ 셀룰로오스



22. 식물의 광합성에 관한 설명으로 옳은 것만을 <보기>에서 있는 대로 고른 것은?

— < 보 기 > —

ㄱ. C<sub>4</sub> 식물은 C<sub>3</sub> 식물에 비해 광호흡에 의한 손실을 최소화한다.  
 ㄴ. C<sub>3</sub> 식물은 유관속초세포(bundle-sheath cell)에서 CO<sub>2</sub>를 고정한다.  
 ㄷ. CAM 식물은 밤에 CO<sub>2</sub>를 흡수하여 고정한다.

- ① ㄱ                      ② ㄴ                      ③ ㄱ, ㄷ                      ④ ㄴ, ㄷ                      ⑤ ㄱ, ㄴ, ㄷ

23. 진핵세포에서 포도당이 피브루산으로 분해되는 과정에 관한 설명으로 옳은 것만을 <보기>에서 있는 대로 고른 것은?

— < 보 기 > —

ㄱ. 세포질에서 일어난다.  
 ㄴ. 산소가 없어도 일어난다.  
 ㄷ. 사용되는 ATP 분자보다 더 많은 ATP 분자가 방출된다.

- ① ㄱ                      ② ㄴ                      ③ ㄱ, ㄷ                      ④ ㄴ, ㄷ                      ⑤ ㄱ, ㄴ, ㄷ

24. 골수에서 자가반응성을 가진 미성숙 B세포가 죽게 되는 과정으로 옳은 것은?

- ① 동형전환(isotype switching)                      ② 세포괴사(necrosis)  
 ③ 양성선택(positive selection)                      ④ 보체활성화(complement activation)  
 ⑤ 세포자멸사(apoptosis)

25. 세균의 DNA 복제에 관한 설명으로 옳은 것만을 <보기>에서 있는 대로 고른 것은?

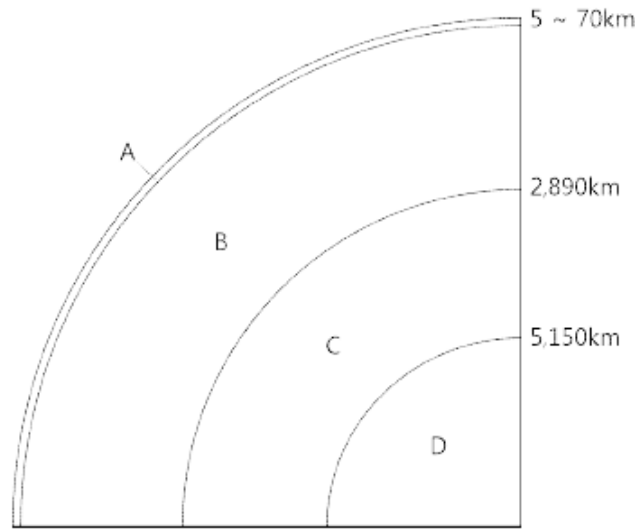
— < 보 기 > —

ㄱ. 반보존적 복제 방식을 따른다.  
 ㄴ. RNA 프라이머는 프리메이스(primase)에 의해 합성된다.  
 ㄷ. 선도가닥(leading strand)에서 오카자키 절편이 발견된다.

- ① ㄱ                      ② ㄷ                      ③ ㄱ, ㄴ                      ④ ㄴ, ㄷ                      ⑤ ㄱ, ㄴ, ㄷ



31. 그림은 지구 내부 모식도이다. 영역 A~D에 관한 설명으로 옳은 것은?



- ① B는 주로 규장질 성분으로 이루어져 있다.
- ② B와 C의 경계는 구텐베르그면이며, C에서 지진파 S파는 소멸한다.
- ③ C와 D는 화학 조성은 다르나, 물리적 성질은 같다.
- ④ A, B, C는 고체, D는 액체로 구성되어 있다.
- ⑤ C와 D의 경계면에서 지진파 P파의 속도가 갑자기 줄어든다.

32. 보웬의 반응계열(Bowen's reaction series)에 따른 광물의 정출 및 용융에 관한 설명으로 옳지 않은 것은?

- ① 염기성 화성암은 온도가 높아짐에 따라 각섬석→휘석→감람석 순으로 용융된다.
- ② 녹는점(melting point)이 낮은 광물일수록 광물 내 칼슘(Ca)의 함량은 높아진다.
- ③ 불연속 계열에서 온도가 높아질수록 마그마에서 정출되는 광물 내 마그네슘(Mg)의 함량은 높아진다.
- ④ 낮은 온도에서 정출되는 광물들로 구성된 화성암은 주로 밝은색을 띤다.
- ⑤ 연속 계열에서 형성되는 사장석은 고용체를 형성한다.

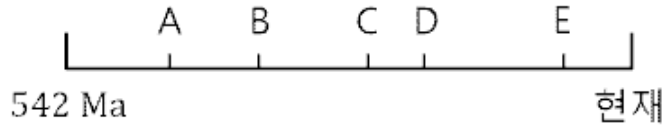
33. 마그마의 식는 속도 차이에 의해 결정되는 화성암의 물리화학적 성질은?

- ① 암석의 광물조합
- ② 암석을 구성하는 결정 입자의 크기
- ③ 암석의 색깔
- ④ 암석의 밀도
- ⑤ 암석의 쪼개짐

34. 다음 중 SiO<sub>2</sub>의 함량(무게%)이 가장 낮은 화성암은?

- ① 유문암                      ② 안산암                      ③ 반력암                      ④ 감람암                      ⑤ 섬록암

35. 그림은 현생이언 동안 일어난 5대 대량멸종(mass extinction) 사건을 시대 순으로 나타낸 것이다.



이에 관한 설명으로 옳은 것만을 <보기>에서 있는 대로 고른 것은?(단, Ma는 백만 년 전이다.)

————— < 보 기 > —————

ㄱ. C는 가장 규모가 큰 멸종 사건이다.

ㄴ. D 시기에 삼엽충이 멸종되었다.

ㄷ. A는 운석 충돌 때문이다.

- ① ㄱ                              ② ㄷ                              ③ ㄱ, ㄴ                              ④ ㄴ, ㄷ                              ⑤ ㄱ, ㄴ, ㄷ

36. 우리나라(남한) 지층에 관한 설명으로 옳지 않은 것은?

- ① 석회암이 가장 많이 분포하는 지층은 조선누층군이다.
- ② 데본기 지층은 강원도 지역에 넓게 분포한다.
- ③ 경상누층군은 중생대에 형성된 육상퇴적층이다.
- ④ 석탄의 함량이 가장 높은 지층은 평안누층군이다.
- ⑤ 조선누층군과 평안누층군은 부정합 관계이다.

37. 지구 대기권에 관한 설명으로 옳은 것만을 <보기>에서 있는 대로 고른 것은?

————— < 보 기 > —————

ㄱ. 대기권은 고도에 따른 온도 분포에 의해 4개의 층으로 구분된다.

ㄴ. 대류권의 두께는 적도지방이 극지방보다 두껍다.

ㄷ. 성층권에서는 고도가 상승함에 따라 온도는 감소한다.

- ① ㄱ                              ② ㄴ                              ③ ㄷ                              ④ ㄱ, ㄴ                              ⑤ ㄴ, ㄷ

38. 해수의 순환에 관한 설명으로 옳은 것만을 <보기>에서 있는 대로 고른 것은?

— < 보 기 > —

ㄱ. 표층수의 흐름은 해양 표면과 해양 표면을 따라 부는 바람의 마찰에 의해 만들어진다.  
 ㄴ. 심층수의 순환을 열염순환(thermohaline circulation)이라고 하며, 심해의 해수가 섞이는 원인이 된다.  
 ㄷ. 아열대 환류는 북반구에서는 반시계 방향, 남반구에서는 시계 방향으로 회전한다.

- ① ㄱ                      ② ㄷ                      ③ ㄱ, ㄴ                      ④ ㄴ, ㄷ                      ⑤ ㄱ, ㄴ, ㄷ

39. 태양에 관한 설명으로 옳은 것만을 <보기>에서 있는 대로 고른 것은?

— < 보 기 > —

ㄱ. 태양에는 이온화된 기체인 플라즈마(plasma)가 존재한다.  
 ㄴ. 태양 내부는 깊이에 따라 온도와 밀도가 다르기 때문에 층상 구조가 나타난다.  
 ㄷ. 태양의 핵에서는 핵융합 반응이 일어난다.

- ① ㄱ                      ② ㄷ                      ③ ㄱ, ㄴ                      ④ ㄴ, ㄷ                      ⑤ ㄱ, ㄴ, ㄷ

40. 목성형 행성에 관한 설명으로 옳지 않은 것은?

- ① 수소, 헬륨, 수소 화합물 등이 주요 구성 성분이다.
- ② 목성형 행성 중 질량이 가장 큰 것은 목성이다.
- ③ 목성형 행성 중 밀도가 가장 작은 것은 토성이다.
- ④ 천왕성과 해왕성이 푸르게 보이는 이유는 메탄 가스 때문이다.
- ⑤ 자기장의 세기가 가장 큰 것은 해왕성이다.

# 2023년도 제61회 변리사 1차 국가자격시험 최종답안

## 1교시 산업재산권법

1	2	3	4	5	6	7	8	9	10
②	④	⑤	②	①	③	④	①	⑤	⑤
11	12	13	14	15	16	17	18	19	20
③	④	②	③	⑤	①	③	④	②	⑤
21	22	23	24	25	26	27	28	29	30
⑤	⑤	①,③	⑤	③	②	④	④	①	③
31	32	33	34	35	36	37	38	39	40
①	①	③	②	⑤	④	⑤	②	③	④

## 2교시 민법개론

1	2	3	4	5	6	7	8	9	10
①	③	④	⑤	①	②	③	①	⑤	④
11	12	13	14	15	16	17	18	19	20
③	③	⑤	③	②	④	④	①	⑤	⑤
21	22	23	24	25	26	27	28	29	30
④	②	①	②	②	②	③	③	④	④
31	32	33	34	35	36	37	38	39	40
②	⑤	①	①	①	④	⑤	⑤	③	④

## 3교시 자연과학개론

1	2	3	4	5	6	7	8	9	10
④	③	④	④	②	⑤	①	③	③	⑤
11	12	13	14	15	16	17	18	19	20
①	②	④	⑤	③	④	⑤	⑤	①	①
21	22	23	24	25	26	27	28	29	30
②	③	⑤	⑤	③	①	②	①	⑤	③
31	32	33	34	35	36	37	38	39	40
②	②	②	④	①	②	④	③	⑤	⑤

# 1

압도적인 합격률!  
변리사 스쿨의 종합반으로  
성공의 첫걸음을 내딛으세요!



변리사스쿨



종합반 압도적 대세!  
1, 2차 총 180명의 수험생과  
함께하는 변리사 스쿨!



변리사스쿨





풍격있는 강의,  
믿음수있는 강사  
처음부터 끝까지 함께하겠습니다.



변리사스쿨